

SIMULADO 59 GEOGRAFIA

NOME: _____

«««««
TUDODEGEOGRAFIA.COM

1- (Enem–2017) A instalação de uma refinaria obedece a diversos fatores técnicos. Um dos mais importantes é a localização, que deve ser próxima tanto dos centros de consumo como das áreas de produção. A Petrobras possui refinarias estrategicamente distribuídas pelo país. Elas são responsáveis pelo processamento de milhões de barris de petróleo por dia, suprindo o mercado com derivados que podem ser obtidos a partir de petróleo nacional ou importado.

MURTA, A. L. S. Energia: o vício da civilização; crise energética e alternativas sustentáveis. Rio de Janeiro: Garamond, 2011.


A territorialização de uma unidade produtiva depende de diversos fatores locais. A partir da leitura do texto, o fator determinante para a instalação das refinarias de petróleo é a proximidade a

- A) sedes de empresas petroquímicas.
- B) zonas de importação de derivados.
- C) polos de desenvolvimento tecnológico.
- D) áreas de aglomerações de mão de obra.
- E) espaços com infraestrutura de circulação.

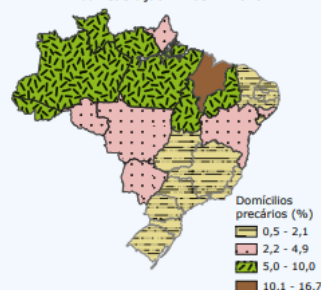
2- (Unicamp-SP) No século XXI, a participação do Produto Interno Bruto (PIB) do Nordeste no PIB brasileiro vem aumentando paulatinamente, o que indica que a região passa por um ciclo de crescimento econômico. Os principais fatores responsáveis por esse fenômeno são:

- A) Investimentos de grandes empresas em empreendimentos voltados para a promoção de economias solidárias e para o desenvolvimento de atividades de pequenos produtores agroextrativistas.
- B) Investimentos públicos em infraestrutura, concessões estatais de créditos e incentivos fiscais a empresas, e o aumento do consumo da população mais pobre, que passa a ter acesso ao crédito.
- C) Investimentos de bancos privados em grandes obras de infraestrutura direcionadas para a transposição do Rio São Francisco e para a melhoria dos sistemas de transporte rodoviário e ferroviário da região.
- D) Investimentos de bancos estrangeiros em empreendimentos voltados para a aquisição de grandes extensões de terras e para a instalação de rede hoteleira nas áreas litorâneas da região.

3- (Enem–2016)



Domicílios precários por unidades da Federação – Brasil – 2010



FUNDAÇÃO JOÃO PINHEIRO. Déficit habitacional municipal no Brasil 2010. Belo Horizonte: FJP/CEI, 2013.

Relacionando as informações do mapa com o processo de ocupação brasileiro, as áreas de maior precariedade estão associadas

- A) ao fenômeno da marcha para o oeste.
- B) à divergência de poderes políticos locais.
- C) ao processo de ocupação imigratória tardia.
- D) à presença de espaços de baixo potencial produtivo.
- E) a baixos investimentos públicos em equipamentos urbanos.

4- Deve-se considerar que, no processo histórico de evolução política das nações latino-americanas, quase sempre pairou uma sombra: a presença hegemônica dos Estados Unidos afetando os destinos dos países da região. Há cerca de 200 anos, os sucessivos governos dos EUA têm considerado seus vizinhos do continente como componentes de sua área de influência geopolítica exclusiva. A história da América Latina foi constantemente marcada por inúmeras turbulências políticas, nas quais, muitas vezes, os EUA estiveram envolvidos, de modo a assegurar sua hegemonia no continente. Sabendo das relações estabelecidas no processo histórico de evolução política das nações latino-americanas e do envolvimento dos EUA nessas relações, é possível concluir que

- A) a estratégia hegemônica dos EUA na América Latina tomou corpo a partir de 1823, com a Doutrina Monroe. Inicialmente, por meio dela, os EUA se colocavam contra qualquer novo projeto colonialista no continente e passavam a incentivar movimentos de independência.
- B) a estratégia americana utilizada para evitar a expansão comunista no continente americano consistia em dificultar a instalação de ditaduras militares, pois quando os militares assumiam o poder, geralmente orientavam sua política para o socialismo.
- C) durante a Guerra Fria, em 1962, Cuba foi expulsa da OEA. Com isso, a URSS aproveitou-se para enfraquecer as posições dos EUA e instalar uma base de mísseis em

Cuba, o que culminou em um dos momentos de maior tensão da Guerra Fria, a crise dos mísseis.

D) em 2009 um acordo assinado pelos EUA e pelo Peru, com o objetivo de ampliar as bases estadunidenses em território peruano, de modo a combater o narcotráfico, acarretou enorme tensão entre os países sul-americanos.

E) o estado de Chiapas, o mais pobre do México, apresenta pequena concentração fundiária, já que a região foi contemplada com uma eficiente reforma agrária. O desenvolvimento industrial tem sido responsável pela melhoria de vida da população e pela redução das tensões.

5-(UFES) Aproveite a crítica do filme Tempo de embebedar cavalos e observe a situação política e os desdobramentos geográficos para os quais ela aponta.

Tempo de embebedar cavalos

O filme faz uma abordagem lírica do tema: fome e falta de perspectiva de um povo. A história se passa em um pequeno vilarejo, na fronteira entre o Iraque e o Irã, e apresenta ao mundo um recorte do cotidiano da maior nação sem Estado do planeta. Aponta muitos dos problemas enfrentados pelo seu povo, que se encontra espalhado por alguns países, como a Turquia, o Irã, a Síria [...] Com língua e cultura próprias, ele vem sendo rechaçado da região, principalmente quando o seu país deixou de existir nos mapas. Praticamente, o único trabalho disponível em certas regiões é o de contrabando de mercadorias entre o Irã e o Iraque. Além dos riscos dessa atividade ilegal, os habitantes sofrem com a enorme quantidade de minas enterradas nos locais onde transitam. O estranho título vem do hábito de darem vodka aos animais, para que eles possam aguentar o frio intenso e as longas viagens que têm de fazer.

FRANZOIA, A. P. Época, 14 set. 2001. p. 11 (Adaptação).

O filme discute a questão curda. O comentário correto sobre esse assunto é:

A) A criação de um Estado é uma reivindicação dos curdos, que representam a maior nação do mundo sem um território definido.

B) A cultura local é influenciada pela altitude, pelo frio e pela formação florestal densa, que exigem o uso de cavalos.

C) A questão curda é idêntica à dos palestinos, dos judeus e dos bascos, porque possuem língua, cultura, governo nacional, mas falta-lhes o país.

D) A supressão do Estado curdistão permitiu ao Líbano, à Armênia, à Síria e ao Iraque a ampliação de seus territórios.

E) O principal motivo da luta dos curdos contra o Iraque e o Irã está relacionado à exploração econômica do petróleo nacional.

6- (UCB-DF-2016) Com a Guerra Fria (1945-1991), o conflito árabe-israelense tomou novo impulso. A União Soviética defendeu a causa palestina, enquanto os Estados Unidos e Israel mantiveram sua aliança. Os países árabes se uniram contra Israel, dando origem à Liga Árabe.

VAINFAS, Ronaldo. et al. História – o mundo por um fio: do século XX ao XXI. v. 3. São Paulo: Saraiva, 2010 (Adaptação).

Em relação ao conflito árabe-israelense, assinale a alternativa correta.

A) A Organização para Libertação da Palestina (OLP) foi criada pelo Estado de Israel, com o apoio dos Estados Unidos, e tinha como principal objetivo expulsar os árabes dos territórios palestinos.

B) Desde o início da criação do Estado de Israel, o Egito foi o primeiro país da região a reconhecer e aceitar plenamente o processo de ocupação dos territórios determinado pela Organização das Nações Unidas (ONU).

C) Em 1973, no dia do Yom Kippur (dia do perdão no calendário judaico), Síria e Egito atacaram Israel e reconquistaram os territórios perdidos nos confrontos de 1967. Israel perdeu quase 50% do território estabelecido pela resolução da ONU de 1947.

D) Como forma de retaliação às potências ocidentais que apoiavam os judeus no dia do Yom Kippur, os países árabes, pertencentes à Organização dos Países Exportadores de Petróleo (OPEP), baixaram o preço do barril do petróleo para, assim, desestabilizar a economia desses países.

E) O governo de Israel construiu casas em assentamentos na Cisjordânia, incentivando seus cidadãos a morarem em terras palestinas.

7- (Enem-2016) No início de maio de 2014, a instalação da plataforma petrolífera de perfuração HYSY-981 nas águas contestadas do Mar da China Meridional suscitou especulações sobre as motivações chinesas. Na avaliação de diversos observadores ocidentais, Pequim pretendeu, com esse gesto, demonstrar que pode impor seu controle e dissuadir outros países de seguir com suas reivindicações de direito de exploração dessas águas, como é o caso do Vietnã e das Filipinas.

KLARE, M. T. A guerra pelo petróleo se joga no mar. Le Monde Diplomatique Brasil, abr. 2015.

A ação da China em relação à situação descrita no texto evidencia um conflito que tem como foco o(a)

A) distribuição das zonas econômicas especiais.

B) monopólio das inovações tecnológicas extrativas.

C) dinamização da atividade comercial.

D) jurisdição da soberania territorial.

E) embargo da produção industrial.

8- (UFRGS-RS) Uma pequena parte da água doce do planeta flui, no estado líquido, por cursos-d'água e lagos nas áreas continentais. Assinale com V (verdadeiro) ou F (falso) as seguintes afirmações sobre as águas continentais superficiais. () Foz de curso de água em forma de estuário ocorre quando ele deságua no oceano, formando canais e ilhas.

() Cursos de água localizados em regiões com índices pluviométricos anuais altos possuem regime fluvial perene.

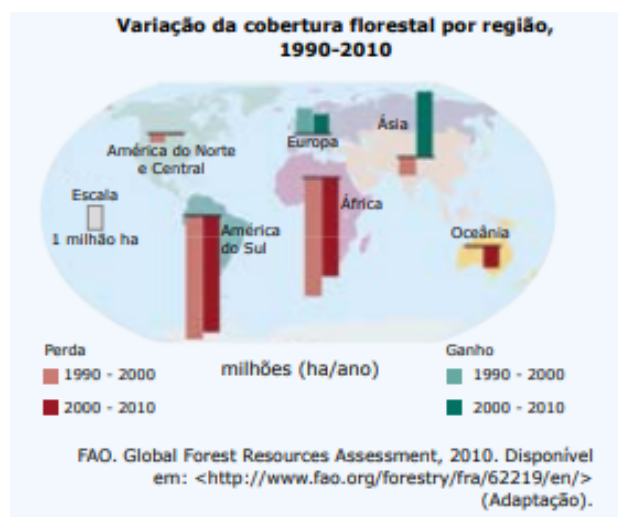
() Cheias ou inundações dos cursos de água ocorrem na estações de menos precipitação.

() Canalização é o processo pelo qual o curso de água é conduzido por meio de canais ou valas escavadas, retilinizando seu leito e regularizando sua direção.

A sequência correta de preenchimento dos parênteses, de cima para baixo, é

- A) V F F V.
- B) F V V V.
- C) V V F F.
- D) F F V V.
- E) V V V F.

9- (FGV) Observe o mapa a seguir:



Com base no mapa e em seus conhecimentos sobre o tema, é correto afirmar:

- A) Entre 2000 e 2010, como resultado da recuperação de áreas degradadas e de programas de reflorestamento, a extensão das florestas aumentou no continente asiático.
- B) Na América do Sul, devido à expansão das fronteiras agrícolas, o ritmo de devastação florestal se acelerou entre os intervalos 1900-2000 e 2000-2010.
- C) Entre 1990 e 2010, mais de 3 milhões de hectares de florestas foram recuperados ou cultivados no continente europeu.
- D) Em termos mundiais, a partir de 2000, observa-se aumento da perda líquida de florestas.
- E) A América do Norte e Central não apresentou ganhos ou perdas significativas em sua cobertura florestal entre 1990 e 2010, pois toda a sua cobertura florestal encontra-se protegida em Unidades de Conservação.

10- (UFMG) As formações vegetais, em seus aspectos fisionômicos, estruturais e sazonais, mostram nítidas relações com o solo, o substrato geológico e o clima. Todas as seguintes afirmativas referentes a essas relações estão corretas, exceto

- A) As extensas formações florestais de coníferas, embora as condições climáticas de sua área de ocorrência sejam pouco severas, caracterizam-se fortemente pela deciduidade das folhas das espécies arbóreas.
- B) As regiões de acentuados contrastes térmicos e de fortes carências hídricas sazonais apresentam formações vegetais que se caracterizam por plantas que mantêm apenas suas estruturas subterrâneas durante a estação desfavorável.

C) As regiões de clima tropical típico e revestidas de cerrados possuem manchas maiores, ou menores, de florestas, explicadas fundamentalmente por razões geológicas e características dos solos e, mais raramente, climáticas.

D) Os mangues, formações vegetais arbóreas tropicais e subtropicais, embora se desenvolvam em áreas pantanosas litorâneas, possuem algumas características xeromórficas.

11- (Enem) A Floresta Amazônica, com toda a sua imensidão, não vai estar aí para sempre. Foi preciso alcançar toda essa taxa de desmatamento de quase 20 mil quilômetros quadrados ao ano, na última década do século XX, para que uma pequena parcela de brasileiros se desse conta de que o maior patrimônio natural do país está sendo torrado.

AB'SABER, A. Amazônia: do discurso à práxis. São Paulo: Edusp, 1996.

Um processo econômico que tem contribuído na atualidade para acelerar o problema ambiental descrito é:

- A) Expansão do Projeto Grande Carajás, com incentivos à chegada de novas empresas mineradoras.
- B) Difusão do cultivo da soja com a implantação de monoculturas mecanizadas.
- C) Construção da rodovia Transamazônica, com o objetivo de interligar a região Norte ao restante do país.
- D) Criação de áreas extrativistas do látex das seringueiras para os chamados povos da floresta.
- E) Ampliação do polo industrial da Zona Franca de Manaus, visando atrair empresas nacionais e estrangeiras.

12- (Unioeste-PR) Nos últimos anos, um dos temas ambientais de maior destaque está no debate sobre o aquecimento do planeta Terra e nas mudanças climáticas globais. Analise as afirmativas a seguir e assinale a alternativa incorreta.

- A) Além dos fatores internos ao planeta, com destaque para as consequências das ações humanas, fatores externos como as explosões solares influenciam no aumento da temperatura da Terra.
- B) Existem pesquisadores que discordam da teoria de que estamos vivendo uma mudança climática em virtude da ação antrópica, pois consideram que houveram outros períodos de aquecimento e de resfriamento do planeta antes da existência do homem e de sua interferência na Terra.
- C) Além das florestas, os oceanos são fundamentais na regulação do clima no planeta, pois as plantas aquáticas são responsáveis pela absorção de CO₂ da atmosfera. No entanto, a degradação ambiental de origem antrópica nos oceanos vem sendo intensa, reduzindo a vida marinha.
- D) Os relatórios do IPCC, composto por um grupo de pesquisadores que vem analisando o impacto das ações antrópicas sobre o clima, se constituem na principal fonte de informações sobre o aquecimento global. O IPCC trabalha com projeções de cenários futuros e, tais projeções vêm sendo consideradas exatas e acertadas por toda a comunidade científica.
- E) O aumento da temperatura média do planeta está intimamente ligado às atividades humanas, responsáveis pelo aumento dos gases do efeito estufa, como o dióxido

de carbono e o metano. Essa emissão de gases pelo homem, decorrente de atividades agropecuárias, industriais e da queima de combustíveis fósseis, é considerada pelos cientistas do IPCC como a principal causa do aquecimento global.

13- A Mata Atlântica é um importante bioma brasileiro que, em virtude da intensa exploração, praticamente não existe mais. Esse bioma enquadra-se em que tipo de bioma mundial?

- a) Savanas.
- b) Floresta Equatorial.
- c) Campos.
- d) Deserto.
- e) Floresta Tropical.

14- (MACK) – Dominam no inverno austral as massas de ar procedentes de áreas anticiclônicas localizadas no Atlântico Sul e na Argentina, as quais invadem o Planalto Brasileiro e implicam na formação:

- a) das brisas
- b) dos ventos contra-alísios do Nordeste
- c) do terral
- d) dos ventos alísios do Sudeste
- e) dos ventos do Noroeste

15- Nos últimos anos, observa-se um aumento crescente do percentual de CO² na atmosfera. Entre outros efeitos, o excesso de CO² pode contribuir para:

- a) resfriamento global.
- b) diminuição da fotossíntese.
- c) aumento da camada de ozônio.
- d) aquecimento global.
- e) diminuição da camada de ozônio.

GABARITO:

- 1- E
- 2- B
- 3- E
- 4- A
- 5- A
- 6- E
- 7- D
- 8- B
- 9- A
- 10- A
- 11- B
- 12- D
- 13- E
- 14- D
- 15- D