

KUMPULAN SOAL ULANGAN KENAIKAN KELAS UKK KELAS 2

UKK TEMA 5

Soal Pilihan Ganda

1. Perilaku yang paling sesuai dengan sila pertama Pancasila saat di sekolah adalah

a.



b.



c.



2. Di dinding kelas tertulis Keadilan sosial bagi seluruh rakyat Indonesia. Tulisan tersebut merupakan bunyi dari sila

- a. pertama Pancasila
- b. ketiga Pancasila
- c. kelima Pancasila

3. Perhatikan perilaku-perilaku di bawah ini!

1. Bersilaturahmi sesama anggota keluarga.

2. Mengikuti pelajaran agama dengan sungguh-sungguh.

3. Menolong teman saat mengalami kesusahan.

Perilaku yang **tidak** mencerminkan sila pertama adalah

- a. 1 dan 2
- b. 1 dan 3
- c. 2 dan 3

4. Pengamalan dari sila pertama yaitu

- a. Uni mengajak Buyung untuk salat bersama.
- b. Dondo membantu Kak Ola menyapu.
- c. Eko menutup jendela pada malam hari.

5. Yang merupakan perilaku sesuai dengan Pancasila adalah

- a. mengejek
- b. mengumpat
- c. bersyukur

6. Perilaku yang tidak sesuai dengan sila ketiga Pancasila adalah
- a. Makan bersama keluarga.
 - b. Belajar bersama saudara.
 - c. Bertengkar dengan saudara.

Puisi berikut digunakan untuk menjawab 2 soal di bawahnya.

Perhatikan puisi berikut!

Pohon untuk Dunia

Karya: Catalina Immanuela Godeliva
Kusembahkan satu pohon
Untukmu dunia
Kupelihara satu pohon
Untukmu dunia
Kujaga satu pohon

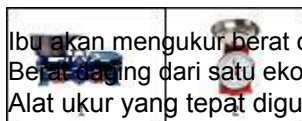
Untukmu dunia
Kami sembahkan sejuta pohon
Kami pelihara sejuta pohon
Kami jaga sejuta pohon
Untukmu dunia
Hijaukan bumiku

Dengan daunmu
Sejukkanlah bumiku
Dengan ranting dan cabangmu

7. Pada puisi tersebut, mengapa pohon harus dipelihara?
 - a. agar bumi sejuk
 - b. agar bumi indah
 - c. untuk dunia
8. Sesuai puisi tersebut, apa yang kami persembahkan untuk dunia?
 - a. sejuta uang
 - b. satu pohon
 - c. sejuta pohon
9. Perhatikan puisi berikut!
Oh ibu maafkan aku Aku
takkan nakal lagi
Aku akan mendengarkan nasihatmu
Aku akan patuhi nasihatmu
Puisi tersebut mengajarkan kepada kita untuk ...
 - a. berani terhadap orang tua
 - b. mengabaikan nasihat orang tua
 - c. mematuhi nasihat orang tua
10. Berikut kalimat ungkapan permintaan tolong yang tepat adalah
 - a. Tolong serahkan semua uangmu.
 - b. Tolong kumpulkan buku di meja guru.
 - c. Tolong cepat kamu kembalikan penggarisku.
11. Berikut yang termasuk kalimat berisi ungkapan permintaan tolong adalah
 - a. Made, tolong bantu aku menyapu kelas.
 - b. Cepat ambilkan buku di rak!
 - c. Maaf aku tidak bisa menolongmu.

12. Roni mengucapkan ... karena tidak sengaja menginjak kaki Luna.
- a. tolong
 - b. maaf
 - c. selamat
13. Berikut merupakan satuan baku pada pengukuran berat yang tepat adalah

- a. kilogram, gram, dan meter
 - b. ons, gram, dan kilogram
 - c. kilogram, ons, dan meter
14. 30 hari = ... bulan.
- a. 1
 - b. 2
 - c. 3
15. Berat benda yang ditimbang dengan timbangan pasar dapat diketahui dari
- a. angka pada timbangan
 - b. jarum penunjuk pada timbangan
 - c. nilai anak timbangan
16. Perhatikan gambar berikut!



Ibu akan mengukur berat daging dari tiga ekor ayam.
 Berat daging dari satu ekor ayam mencapai 2 kg.
 Alat ukur yang tepat digunakan oleh ibu adalah nomor

- a. 1
 - b. 2
 - c. 1 dan 2
17. Uni dan Cici membantu ibu Uni memetik buah stroberi.
 Buah stroberi yang berhasil dipetik sebanyak 3 kg.
 Buah tersebut lalu dibagikan kepada Ale, Made, dan Eko sama banyak. Ale, Made, dan Eko masing-masing mendapat ... kg.
- a. 1
 - b. 2
 - c. 3
18. Perhatikan tabel berikut!

No	Nama	Tinggi badan
1	Dondo	102 cm
2	Eko	98 cm
3	Cici	95 cm
4	Made	100 cm

Jika tinggi badan Dondo, Eko, dan Cici dijumlahkan, maka hasilnya

- a. 295 cm
- b. 300 cm
- c. 395 cm



19.

Latihan pada gambar dilakukan dengan cara

- a. guling depan dan melompat ke depan

- b. guling depan dan meloncat ke depan
 - c. guling depan dan melenting ke depan
20. Ale bergantung di palang besi. Posisi tangan Ale
- a. memegang bagian samping palang besi untuk bergantung
 - b. memegang bagian susut palang besi untuk bergantung
 - c. memegang bagian tengah atas palang besi untuk bergantung



- Latihan berguling pada gambar dilakukan dari sikap awal
- a. jongkok di atas matras
 - b. membungkuk di atas matras
 - c. berdiri di atas matras
22. Made berlatih melangkah ke samping berkelompok. Langkah ke samping berkelompok minimal dilakukan oleh
- a. satu orang
 - b. dua orang
 - c. tiga orang




- Latihan pada gambar dilakukan dengan posisi kaki
- a. kedua ditekuk ke belakang
 - b. kedua kaki di buka lurus ke belakang
 - c. kedua kaki dilurus dan rapat ke belakang
24. Ale melompat melewati ban bekas. Pendaratan yang dilakukan Ale menggunakan
- a. kaki kanan
 - b. kaki kiri
 - c. kedua kaki bersamaan
25. Made ingin menggambar imajinatif tentang cita-citanya. Saat menggambar, Made salah membuat pola gambar. Pola gambar yang salah bisa dihapus menggunakan
- a. penggaris
 - b. penghapus
 - c. pensil

26. Karya seni berikut yang dibuat dari bahan kayu adalah

a.





27. Nada lagu yang terdengar keras artinya memiliki tekanan

- a. lemah
- b. sedang
- c. kuat

28. Perhatikan penggalan notasi berikut.

|4 .|

Nada fa (4) pada notasi di atas dinyanyikan dengan

- a. panjang
- b. pendek
- c. biasa

29. Gerak tari tingkat rendah ditunjukkan oleh gambar

a.



b.



c.



30. Ale membuat mobil-mobilan dari plastisin. Plastisin termasuk bahan

- a. alam
- b. buatan
- c. palsu

Soal Isian

1. Kesepakatan dalam musyawarah dicapai dengan semangat
2. Uni memberi sumbangan untuk korban banjir.
Perbuatan Uni sesuai dengan sila ... Pancasila.
3. Kak Ola menolong Dondo yang terjatuh.
Dondo bersyukur karena telah ditolong.
Yang menerapkan sila kedua Pancasila adalah
4. Perhatikan gambar berikut!



Anak pada gambar di atas bermain pada waktu ... hari

5. Perhatikan gambar berikut!



Nama hewan pada gambar di atas adalah


6. Edo mematahkan pensil
Adi. Edo mengucapkan
7. Satuan ukur pada penggaris adalah
cm. Kepanjangan dari cm adalah
8. Perhatikan gambar berikut!



Berat satu pot besar adalah 7 ons. Sementara
berat satu pot kecil adalah 3 ons.

Tanda yang tepat untuk melengkapi bagian rumpang tersebut adalah

9. Perhatikan gambar berikut!



Ibu Dondo menimbang mentega untuk membuat kue.
Ibu Dondo membutuhkan 100 gram mentega.
Berat mentega ibu Dondo belum sesuai karena kelebihan

10. Gerakan bertumpu dengan berbaring dilakukan dari posisi badan ... di lantai.
11. Sikap kapal terbang dilakukan dengan ... satu kaki.
12. Made melangkah ke samping dengan [posisi badan
13. Perhatikan gambar berikut.



Karya di atas termasuk karya ... dimensi.

14. Kentongan yang dipukul bunyinya terdengar kuat.
Sementara tongkat dipukul bunyinya terdengar lebih
15. Made berlatih beberapa gerakan tari.

Made berputar-putar membentuk lingkaran kecil.
Gerakan berputar-putar termasuk gerak dasar

Soal Uraian/Essay

1. Mengapa kegiatan musyawarah perlu dilakukan?
2. Sila kelima Pancasila berhubungan dengan sikap adil. Sebutkan contoh dari sikap adil!
3. Perhatikan puisi berikut!

Merpatiku

Senang rasanya hatiku
Memelihara seekor
merpati Merpatiku ada dua

Merpati terbang ke sana kemari
Aku memberi makan merpatiku
Merpatiku menjadi gemuk
Jelaskan isi puisi tersebut!

4. Perhatikan peristiwa berikut!
Kamu datang terlambat masuk kelas.

Bagaimana kalimat yang kamu ucapkan saat mengalami peristiwa tersebut?

5. Saat di kebun binatang, Dondo mengamati berbagai binatang.
Jarak kandang gajah dengan kandang kuda adalah 3000 cm.
Sementara jarak kandang kuda ke kandang rusa 2000 cm.
Tentukan berapa meter jarak kandang gajah ke kandang rusa!
6. Gambarkan jam yang menunjukkan waktu berikut!
 - a. 20.00
 - b. 17.00
 - c. 23.00
 - d. 00.00



Apa manfaat kedua tangan direntangkan pada latihan di atas?



Latihan pada gambar menggunakan gerakan apa saja?

9. Sebutkan 4 macam unsur karya seni rupa tiga dimensi!
10. Lanjutkan lirik lagu Burung Tantina berikut.
Sio tantina burung tantina

*mati dipanah Raja Nirwana
Sakitnya bukan sakit penyakit
Khabarnya datang dari Sri Rama*

....

....

KOMPETENSI DASAR	JUMLAH SOAL	IDENTIFIKASI SOAL
PILIHAN GANDA	30 soal	
Pendidikan Pancasila dan Kewarganegaraan	6 soal	
3.1 Mengidentifikasi hubungan antara simbol dan sila-sila Pancasila dalam lambang negara "Garuda Pancasila"	6 soal	1 s/d 6
Bahasa Indonesia	6 soal	
3.5 Mencermati puisi anak dalam bahasa Indonesia atau bahasa daerah melalui teks tulis dan lisan	3 soal	7 s/d 9
3.6 Mencermati ungkapan permintaan maaf dan tolong melalui teks tentang budaya sopan santun sebagai gambaran sikap hidup rukun dalam kemajemukan masyarakat Indonesia	3 soal	10 s/d 12
Matematika	6 soal	
3.6 Menjelaskan dan menentukan panjang, berat, dan waktu dalam satuan baku, yang berkaitan dengan kehidupan sehari-hari	6 soal	13 s/d 18
Pendidikan Jasmani, Olahraga dan Kesehatan	6 soal	
3.5 Memahami prosedur variasi berbagai pola gerak dominan (bertumpu, bergantung, keseimbangan, berpindah/lokomotor tolakan, putaran, ayunan, melayang, dan mendarat) dalam aktivitas senam lantai	6 soal	19 s/d 24
Seni Budaya dan Prakarya	6 soal	
3.1 Mengenal karya imajinatif dua dan tiga dimensi	2 soal	25 s/d 26
3.2 Mengenal pola irama sederhana melalui lagu anak-anak	2 soal	27 s/d 28
3.3 Mengenal gerak keseharian dan alam dalam tari	1 soal	29 s/d 29
3.4 Mengenal pengolahan bahan alam dan bahan buatan dalam berkarya	1 soal	30 s/d 30
ISIAN	15 soal	
Pendidikan Pancasila dan Kewarganegaraan	3 soal	
3.1 Mengidentifikasi hubungan antara simbol dan sila-sila Pancasila dalam lambang negara "Garuda Pancasila"	3 soal	1 s/d 3
Bahasa Indonesia	3 soal	
3.5 Mencermati puisi anak dalam bahasa Indonesia atau bahasa daerah melalui teks tulis dan lisan	2 soal	4 s/d 5
3.6 Mencermati ungkapan permintaan maaf dan tolong melalui teks tentang budaya sopan santun sebagai gambaran sikap hidup rukun dalam kemajemukan masyarakat Indonesia	1 soal	6 s/d 6
Matematika	3 soal	
3.6 Menjelaskan dan menentukan panjang, berat, dan waktu dalam satuan baku, yang berkaitan dengan kehidupan sehari-hari	3 soal	7 s/d 9
Pendidikan Jasmani, Olahraga dan Kesehatan	3 soal	
3.5 Memahami prosedur variasi berbagai pola gerak dominan (bertumpu, bergantung, keseimbangan, berpindah/lokomotor tolakan, putaran, ayunan, melayang, dan mendarat) dalam aktivitas senam lantai	3 soal	10 s/d 12
Seni Budaya dan Prakarya	3 soal	
3.1 Mengenal karya imajinatif dua dan tiga dimensi	1 soal	13 s/d 13
3.2 Mengenal pola irama sederhana melalui lagu anak-anak	1 soal	14 s/d 14
3.3 Mengenal gerak keseharian dan alam dalam tari	1 soal	15 s/d 15
ESSAY	10 soal	
Pendidikan Pancasila dan Kewarganegaraan	2 soal	
3.1 Mengidentifikasi hubungan antara simbol dan sila-sila Pancasila dalam lambang negara "Garuda Pancasila"	2 soal	1 s/d 2
Bahasa Indonesia	2 soal	
3.5 Mencermati puisi anak dalam bahasa Indonesia atau bahasa daerah melalui teks tulis dan lisan	1 soal	3 s/d 3
3.6 Mencermati ungkapan permintaan maaf dan tolong melalui teks tentang budaya sopan santun sebagai gambaran sikap hidup rukun dalam kemajemukan masyarakat Indonesia	1 soal	4 s/d 4
Matematika	2 soal	
3.6 Menjelaskan dan menentukan panjang, berat, dan waktu dalam satuan baku, yang berkaitan dengan kehidupan sehari-hari	2 soal	5 s/d 6
Pendidikan Jasmani, Olahraga dan Kesehatan	2 soal	
3.5 Memahami prosedur variasi berbagai pola gerak dominan (bertumpu, bergantung, keseimbangan, berpindah/lokomotor tolakan, putaran, ayunan, melayang, dan mendarat) dalam aktivitas senam lantai	2 soal	7 s/d 8
Seni Budaya dan Prakarya	2 soal	
3.1 Mengenal karya imajinatif dua dan tiga dimensi	1 soal	9 s/d 9
3.2 Mengenal pola irama sederhana melalui lagu anak-anak	1 soal	10 s/d 10

Jawaban Soal Pilihan Ganda

1. Jawaban : a
Pembahasan : Berdoa merupakan pengamalan sila pertama Pancasila.
2. Jawaban : c
Pembahasan : Sudah jelas.
3. Jawaban : b
Pembahasan : Perilaku tersebut sesuai dengan sila kedua Pancasila.
4. Jawaban : a
Pembahasan : Beribadah merupakan pengamalan sila pertama Pancasila.
5. Jawaban : c
Pembahasan : Bersyukur sesuai dengan sila pertama Pancasila.
6. Jawaban : c
Pembahasan : Sudah jelas.
7. Jawaban : a
Pembahasan : Pohon harus dipelihara agar bumi menjadi sejuk.
Jawaban bisa kita temukan pada bait terakhir.
8. Jawaban : c
Pembahasan : Pada puisi tersebut dijelaskan bahwa kami mempersembahkan sejuta pohon untuk dunia.
9. Jawaban : c
Pembahasan : Isi puisi tersebut adalah kita harus mematuhi nasihat orang tua.
10. Jawaban : b
Pembahasan : Ungkapan permintaan tolong diucapkan secara sopan dan tidak memaksa.
Kalimat permintaan tolong yang tepat ditunjukkan oleh opsi b.
11. Jawaban : a
Pembahasan : Ungkapan permintaan tolong diucapkan secara santun.
Ungkapan permintaan tolong ditandai dengan kata *tolong*.
Made, tolong bantu aku menyapu kelas.
12. Jawaban : b
Pembahasan : Roni melakukan kesalahan sehingga Roni mengucapkan maaf.
13. Jawaban : b
Pembahasan : Sudah jelas.
14. Jawaban : a
Pembahasan : Sudah jelas.
15. Jawaban : c
Pembahasan : Sudah jelas.

16. Jawaban : a

Pembahasan : Timbangan bebek atau timbangan pasar (nomor 1) dapat mengukur berat hingga 10 kg, sedangkan timbangan kue atau timbangan dapur (nomor 2) rata-rata dapat mengukur berat hingga 5 kg. Berat tiga ekor ayam ditaksir $3 \times 2 \text{ kg} = 6 \text{ kg}$. Jadi, timbangan bebek lebih tepat digunakan untuk mengukur berat daging dari tiga ekor ayam daripada timbangan jarum.

17. Jawaban : a

Pembahasan : Berat buah stroberi yang dipetik adalah 3 kg, lalu dibagi rata untuk tiga anak. Stroberi yang didapat masing-masing anak adalah $3 \text{ kg} : 3 \text{ anak} = 1 \text{ kg}$ tiap anak.

18. Jawaban : a

Pembahasan : Tinggi badan Dondo, Eko, dan Cici jika dijumlahkan hasilnya adalah $= 102 \text{ cm} + 98 \text{ cm} + 95 \text{ cm} = 295 \text{ cm}$.

19. Jawaban : b

Pembahasan : Latihan pada gambar dilakukan dengan variasi gerakan guling depan dan meloncat.

20. Jawaban : c
Pembahasan : Gerakan bergantung dilakukan dengan menggunakan palang besi.
kedua tangan kita memegang bagian tengah atas palang besi untuk bergantung.
21. Jawaban : c

Pembahasan : Gerakan guling depan dilakukan dengan berdiri di atas matras dengan badan tegak.
22. Jawaban : c

Pembahasan : Latihan berkelompok dilakukan meninimal oleh tiga orang.
23. Jawaban : c

Pembahasan : Latihan bertumpu dapat dilakukan dengan kedua kaki lurus dan rapat ke belakang.
Kedua kaki menempel pada lantai.
24. Jawaban : c

Pembahasan : Pendaratan saat melakukan gerakan melompat menggunakan kedua kaki bersamaan.
25. Jawaban : b

Pembahasan : Penghapus digunakan untuk menghapus pola gambar yang salah.
26. Jawaban : b

Pembahasan : Gambar b merupakan kursi yang dibuat dari kayu.
27. Jawaban : c

Pembahasan : Nada bertekanan kuat terdengar keras ketika dinyanyikan.
28. Jawaban : a

Pembahasan : Nada fa (4) pada notasi dinyanyikan panjang, sebab di belakang nada 4 diikuti tanda titik.
29. Jawaban : c

Pembahasan : Gambar c adalah gambar gerakan menelungkupkan badan. Gerak menelungkup termasuk gerak tingkat rendah.
30. Jawaban : b

Pembahasan : Plastisin termasuk bahan alam.

Jawaban Soal Isian

1. Jawaban : kekeluargaan
Pembahasan : Sudah jelas.
2. Jawaban : kedua

Pembahasan : Sudah jelas.
3. Jawaban : Kak Ola

Pembahasan : Menolong merupakan pengamalan sila kedua Pancasila.
4. Jawaban : malam
Pembahasan : Pada gambar tampak bulan dan kunang-kunang sehingga menunjukkan suasana pada malam hari.

5. Jawaban : komodo
Pembahasan : Sudah jelas.
6. Jawaban : permintaan maaf

Pembahasan : Saat melakukan kesalahan, kita mengucapkan permintaan maaf.

7. Jawaban : sentimeter

Pembahasan : Sudah jelas.

8. Jawaban : <

Pembahasan : Berat 2 pot besar adalah $7 \text{ ons} + 7 \text{ ons} = 14 \text{ ons}$.

Berat 5 pot kecil adalah $3 \text{ ons} + 3 \text{ ons} + 3 \text{ ons} + 3 \text{ ons} + 3 \text{ ons} = 15 \text{ ons}$.

14 ons lebih ringan daripada 15 ons, maka 2 pot besar lebih ringan (<) daripada 5 pot kecil.

9. Jawaban : 150 gram

Pembahasan : Mentega yang dibutuhkan 100 g.

Mentega yang ditimbang 250 g.

Kelebihan mentega $250 \text{ g} - 100 \text{ g} = 150 \text{ g}$.

10. Jawaban : telungkup

Pembahasan : sudah jelas

11. Jawaban : tumpuan

Pembahasan : sudah jelas

12. Jawaban : tegak

Pembahasan : sudah jelas

13. Jawaban : tiga

Pembahasan : Karya pada gambar merupakan patung dari tanah liat. patung termasuk karya tiga dimensi.

14. Jawaban : lemah

Pembahasan : Tongkat yang dipukul terdengar lebih lemah jika dibandingkan suara kentongan yang dipukul.

15. Jawaban : kaki

Pembahasan : Gerakan berputar menggunakan kaki, jadi termasuk gerak dasar kaki.

Jawaban Soal Essay/Uraian

1. Jawaban : Kegiatan musyawarah perlu dilakukan untuk mengambil keputusan yang bulat dan disetujui oleh seluruh peserta musyawarah.

Pembahasan :

2. Jawaban : Contoh sikap adil.

- Hormat kepada anggota keluarga.
- Senang dengan buatan teman.
- Baik kepada semua teman sekelas.
- Ingin selalu maju bersama teman dan adil kepada semua teman.
- Saling menolong kepada semua orang.

Pembahasan :

3. Jawaban : Puisi tersebut menceritakan kesenangan memelihara burung merpati.
Pembahasan :
4. Jawaban : Maaf Bu, saya terlambat masuk kelas.

Pembahasan :

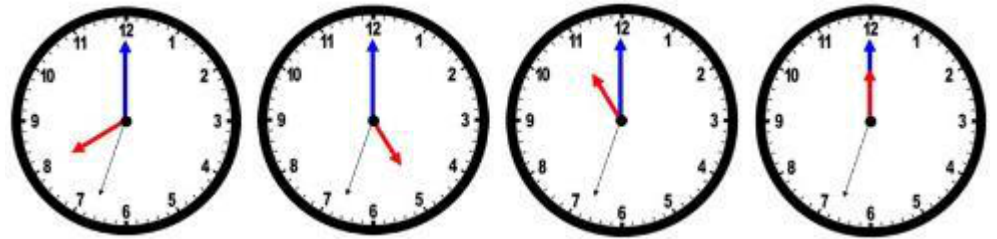
5. Jawaban : Diketahui:

Jarak kandang gajah dengan kandang kuda adalah 3000 cm.
Sementara jarak kandang kuda ke kandang rusa 2000 cm.
Ditanya:

Jarak kandang gajah ke kandang rusa dalam satuan meter.
Jawab:

Jarak kandang gajah ke kandang rusa adalah $3000 \text{ cm} + 2000 \text{ cm} = 5000 \text{ cm}$.
 $5000 \text{ cm} = 5000 \text{ cm} : 100 \text{ cm} = 50 \text{ m}$.
Jadi, jarak kandang gajah ke kandang rusa adalah 50 m.

6. Jawaban : Berikut ini gambar jam yang menunjukkan waktu-waktu tersebut!



7. Jawaban : Kedua tangan direntangkan ke samping bermanfaat untuk membantu menjaga

8. Jawaban : keseimbangan saat berdiri jinjit satu kaki. Sehingga dapat mempertahankan badan tetap dalam posisi berdiri tegak.
Latihan pada gambar dilakukan dengan gabungan gerakan guling depan dan loncat ke depan.

Pembahasan :

9. Jawaban : Karya tiga dimensi memiliki beberapa unsur penting, yaitu:

- titik
- garis
- bidang
- bentuk
- warna
- tekstur

10. Jawaban : Lanjutan lirik lagu Burung Tantina adalah sebagai berikut.

*Sio tantina burung tantina
mati dipanah Raja Nirwana
Sakitnya bukan sakit penyakit
Khabarnya datang dari Sri Rama*

*Sakitnya bukan sakit penyakit
Khabarnya datang dari Sri Rama*

