

ESCUELA PRIMARIA “MAESTRO ADOLFO VALLES”				
Maestras: LINDA, KARLA Y BRENDA			Semana del 06 al 10 de diciembre de 2021.	
Aprendizajes esperados:				
Español: Elige un proceso social conocido, indaga sobre él y escribe notas que resumen la información. Lee y comparte canciones y poemas de su preferencia. Lee textos narrativos sencillos.				
Matemáticas: Lee, escribe y ordena números naturales hasta 100. Estima, mide, compara y ordena longitudes y distancias, pesos y capacidades con unidades no convencionales y el metro no graduado, el kilogramo y el litro respectivamente.				
C. del medio: Describe cambios y permanencias en los juegos, las actividades recreativas y los sitios donde se realizan.				
Formación Cívica: Ejerce su libertad al expresar y reflexionar sobre sus opiniones y necesidades en el aula.				
Artísticas: Creación de secuencias cortas de movimiento utilizando distintos ejes y planos.				
Evaluación: libro, guía de trabajo y actividades en clase				
LUNES	MARTES	MIÉRCOLES	JUEVES	

<p>Solicitar el apoyo de un familiar para que realices el dictado de palabras y cálculo mental en tu cuaderno, después resuelve el problema matemático. PAUSAS ACTIVAS (20 min) en el patio</p> <p>Dictado:</p> <ol style="list-style-type: none"> 1. alcohol 2. albañil 3. ardilla 4. aeropuerto 5. Arizmendi <p>Cálculo mental:</p> <ol style="list-style-type: none"> 1. $20 + 60$ 2. $40 + 30$ 3. $20 + 40$ 4. $70 + 80$ 5. $60 + 90$ <p>Problema Matemático: Hay 20 peras en el frutero se comieron 8. ¿Cuántas peras quedan en el frutero?</p> <p>ESPAÑOL Recuerda que los datos importantes de un tema se pueden registrar en una ficha informativa o en una tabla. Dichas fichas informativas se pueden hacer en tarjetas de cartulina o en hojas de papel que luego se organizan para armar un fichero.</p>	<p>Solicitar el apoyo de un familiar para que realices el dictado de palabras y cálculo mental en tu cuaderno, después resuelve el problema matemático. PAUSAS ACTIVAS (5 min)</p> <p>Dictado:</p> <ol style="list-style-type: none"> 1. becerro 2. botella 3. biblioteca 4. bastante 5. Bárbara <p>Cálculo mental:</p> <ol style="list-style-type: none"> 1. $80 - 35$ 2. $80 - 35$ 3. $100 - 25$ 4. $60 - 20$ 5. $30 - 15$ <p>Problema Matemático: Mi mamá hizo 50 galletas y mi tía solo 35. ¿Cuántas galletas hicieron en total?</p> <p>ESPAÑOL Recuerda que los poemas son textos literarios formados por estrofas y versos. Así como también las canciones tienen la misma estructura, pero en ellas normalmente se repiten algunos</p>	<p>Solicitar el apoyo de un familiar para que realices el dictado de palabras y cálculo mental en tu cuaderno, después resuelve el problema matemático. PAUSAS ACTIVAS (5 min)</p> <p>Dictado:</p> <ol style="list-style-type: none"> 1. camello 2. cangrejo 3. cocina 4. campeón 5. Cancún <p>Cálculo mental:</p> <ol style="list-style-type: none"> 1. $60 - 30$ 2. $50 - 25$ 3. $50 - 18$ 4. $90 - 65$ 5. $30 - 10$ <p>Problema Matemático: En un una pecera hay 15 peces Ángel, 20 peces payaso y 8 peces cebrá. ¿Cuántos peces hay en total?</p> <p>ESPAÑOL Recuerda que las adivinanzas son juegos de palabras que sirven para entretenerse o divertirse y consisten en describir o decir cómo es algo para que los demás descubran de qué se trata.</p>	<p>Solicitar el apoyo de un familiar para que realices el dictado de palabras y cálculo mental en tu cuaderno, después resuelve el problema matemático. PAUSAS ACTIVAS (20 min) en el patio</p> <p>Dictado:</p> <ol style="list-style-type: none"> 1. chorizo 2. champiñones 3. chinelo 4. Chihuahua 5. chupón <p>Cálculo mental:</p> <ol style="list-style-type: none"> 1. $50 + 9$ 2. $100 - 42$ 3. $90 + 12$ 4. $100 - 95$ 5. $70 + 10$ <p>Problema Matemático: En la fiesta hay 5 bocadillos de chocolate, 6 de queso y 6 de jamón. ¿Cuántos bocadillos hay en total?</p> <p>ESPAÑOL Investiga acerca de un animal del que quisieras saber, para ello vas a contestar la página 93 de tu libro de texto. Continúa con la investigación, llena los datos que se solicitan</p>	
---	---	---	---	--

<p>Investiga y contesta las preguntas, con base en la imagen del anexo 1. Elabora una ficha informativa acerca de la página 90 de tu libro de texto.</p> <p>MATEMATICAS Resuelve las sumas del anexo 2. Observa la página 60 de tu libro de texto y contesta las sumas anotando los resultados en la tabla del 100. Colorea los resultados en el tablero del 100 de acuerdo con las sumas que resolviste en el anexo 2.</p> <p>CONOCIMIENTO DEL MEDIO Contesta la página 58 de tu libro de texto. Observa la página 60 de tu libro de texto y comenta de manera grupal o con tus familiares las preguntas. Contesta la página 61 de tu libro de texto y colorea los juegos que ayudan a mantener el cuerpo activo y conviviendo. Anexo 3</p>	<p>versos, llamados estribillos. Lee la canción de la página 91 de tu libro de texto y subraya con amarillo los versos y encierra con verde las estrofas. Contesta las preguntas de la canción anterior en la misma página</p> <p>MATEMATICAS Contesta el anexo 4, en el cual vas a colorear la cantidad indicada para obtener el dato faltante de la suma. Contesta la página 61 de tu libro de texto. Contesta la página 62 de tu libro de texto resolviendo de manera mental las operaciones.</p> <p>FORMACIÓN CÍVICA Y ÉTICA Lee la página 26 y 27 de tu libro de texto y contesta en su cuaderno las preguntas de la página 27. Lee la página 28 de tu libro de texto y escribe en el anexo 5 el concepto de libertad de expresión.</p>	<p>Recorta las adivinanzas del anexo 6 y pégalas en tu cuaderno junto con la imagen que corresponda a la respuesta correcta. Contesta la página 92 de tu libro de texto.</p> <p>MATEMATICAS Recuerda que la comparación de longitudes entre líneas u objetos se puede realizar usando un listón o un trozo de estambre. Realiza la actividad de la página 63 de tu libro de texto. Observa las imágenes del anexo 7 y anota en cada cuadrito el número que corresponde, anotando el número 1 a la imagen de mayor longitud.</p> <p>CONOCIMIENTO DEL MEDIO Comenta las imágenes de la página 62 de tu libro de texto. Recuerda que muchos juegos se han modificado debido a la tecnología, ahora los niños pasan más tiempo jugando con aparatos electrónicos como teléfonos celulares,</p>	<p>en el anexo 9. (Dicha información tendrá que ser recabada mediante entrevistas a personas de tu casa o comunidad). Subraya las ideas principales de la información que te será de utilidad para tu exposición.</p> <p>MATEMATICAS Recuerda que para medir el ancho y largo de los objetos se pueden usar diferentes objetos. mide el largo y ancho del pizarrón, con la ayuda de tu lápiz, así como el largo y ancho del escritorio, anota los resultados en el anexo 10. Contesta la página 64 de tu libro de texto.</p> <p>ARTISTICAS Muñeco de Nieve</p> <p>Material : Hoja color azul, negro y café. Pintura blanca y pincel.</p> 	
--	--	--	--	--

		<p>videojuegos, consolas, etc.</p> <p>Realiza la actividad de la página 63 de tu libro de texto. De acuerdo con los nombres de los juegos del anexo 8, colorea de verde los juegos del presente y de amarillo los juegos de pasado.</p>		
--	--	---	--	--



Nombre:	
¿Qué es?	
¿De qué color es?	
¿Qué la produce?	
¿Dónde se cultiva?	

$8 + 8 + 32 =$

$9 + 10 + 9 =$

$6 + 12 + 3 =$

$5 + 6 + 4 =$

$7 + 7 + 9 =$

$15 + 5 + 6 =$

Anexo 3

Materiales Educativos DARUKEL



DARUKEL




DARUKEL




Anexo 4

Materiales Educativos DARUKEL




$80 + \underline{\quad} = 100$

DARUKEL




$45 + \underline{\quad} = 100$


DARUKEL




$15 + \underline{\quad} = 100$



$30 + \underline{\quad} = 100$




$90 + \underline{\quad} = 100$



$60 + \underline{\quad} = 100$



¿Qué significa libertad de expresión?


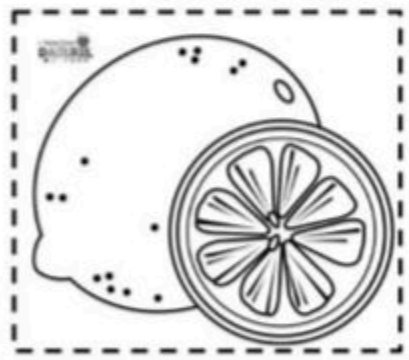



¿Cuál es la fruta más paciente?

Si tú me quieres comer, me verás marrón y peludo, no me podrás romper porque por fuera soy duro.


Soy una fruta y tengo dura la piel. Soy ácido y fuerte y amarillo como la miel.

Tengo una carita sonrosada de terciopelo, carne dorada y dentro un redondo hueso.



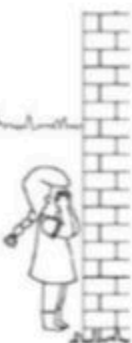

Anexo 7

Materiales Educativos DARUKEL



Anexo 8

Materiales Educativos DARUKEL





¿Qué animal investigué?

Descripción:

Alimentación:

Lugar donde vive:

Comportamiento:

Reproducción:

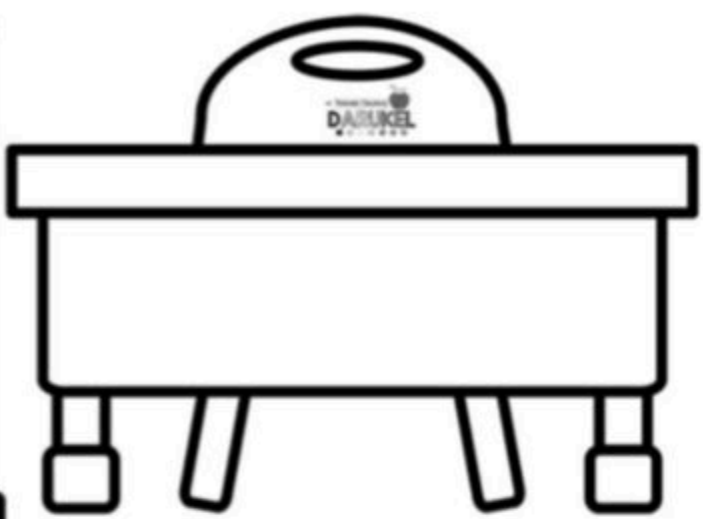
Dibuja el animalito que investigaste



Anexo 10



De largo mide ____ lápices
De ancho mide ____ lápices



De largo mide ____ lápices
De ancho mide ____ lápices

Anexo 11



