

ورقة عمل تقييمية في مادة الرياضيات - للصف الأول الأساسي
شهر ديسمبر (الفصل الأول) العام الدراسي 2021-2022
الدروس / الوحدات الخامسة والسادسة
اسم الطالب/ة: التقدير /

نشاط رقم (1): أكتب العدد الدال على المجموعة:



نشاط رقم (2): أمتل الأعداد على لوحة المنازل:

8

20

15

12

| آحاد | عشرات |
|-------|-------|
| | |

| آحاد | عشرات |
|-------|-------|
| | |

| آحاد | عشرات |
|-------|-------|
| | |

| آحاد | عشرات |
|-------|-------|
| | |

نشاط رقم (3): أكتب العدد المناسب في الفراغ:

| | |
|-------|-------|
| 10 | 8 |
| | |

| | |
|-------|-------|
| 10 | 5 |
| | |

| | |
|-------|-------|
| 20 | 10 |
| | |

| | |
|-------|-------|
| 20 | 15 |
| | |

نشاط رقم (4): أكمل المتتالية بالأعداد الناقصة:



.....

.....

15

14

.....

.....

11

10

نشاط رقم (5): أضع دائرة حول المطلوب:

1- أضع دائر حول أكبر عدد:

ب أضع دائر حول أصغر عدد:

| | | |
|----|----|---|
| 11 | 10 | 9 |
|----|----|---|

| | | |
|----|----|----|
| 20 | 18 | 12 |
|----|----|----|

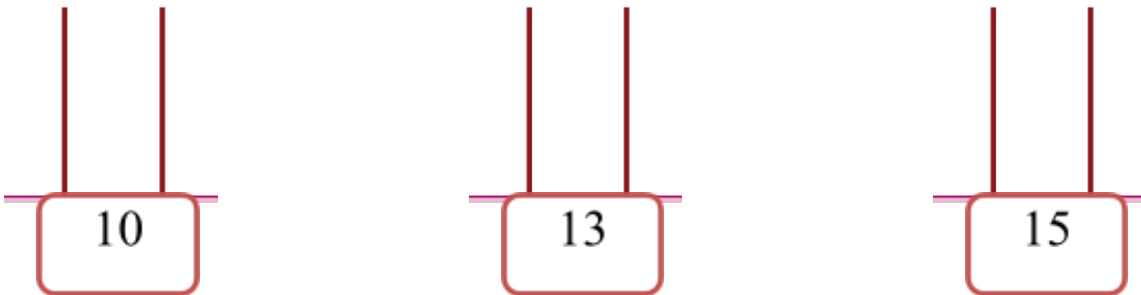
نشاط رقم (6): أكتب العدد المطلوب:

| | | | |
|------------------------|----|-----------------------|----|
| أ - أكتب العدد التالي: | | ب- أكتب العدد السابق: | |
| | 13 | | 10 |
| | 19 | | 16 |

نشاط رقم (7): من أنا؟؟

- 1) عدد من منزلتين مجموع رقمي آحادي وعشراتي (4)
- 2) عدد من منزلتين أصغر من (11)
- 3) عدد يقع بين العددين (18 ، 20)

نشاط رقم (8): أمثل الأعداد على المعداد:




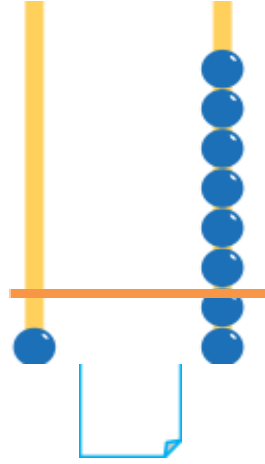


نشاط رقم (9): أجيب بحسب المطلوب:

| | | |
|----------------------|-----------------|----------------------|
| 1- أحوط السهم الأقصر | 2- أكتب التوقيت | ج- أرسم عقربي الساعة |
| | | |
| | | الثالثة |

أطيب الأمنيات بالتوفيق والنجاح

ورقة عمل تقييمية في مادة الرياضيات - للصف الأول الأساسي

نشاط رقم (1): أكتب العدد الدال على المجموعة:



نشاط رقم (2): أكتب العدد في المستطيل:

| آحاد | عشرا ت |
|------|-----------|
| 9 | 0 |

| آحاد | عشرا ت |
|------|-----------|
| 3 | 1 |

| آحاد | عشرا ت |
|------|-----------|
| 0 | 2 |

| آحاد | عشرا ت |
|------|-----------|
| 8 | 1 |

.....

.....

.....

.....

نشاط رقم (3): أكتب رمز العدد:

عشرة

ستة عشر

أربعة عشر

تسعة عشر

نشاط رقم (4): أكمل المتتالية بالأعداد الناقصة:

12

15

16

19

20

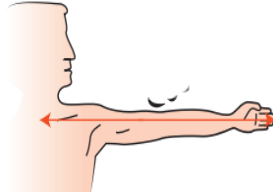
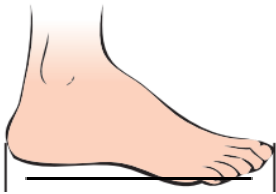
نشاط رقم (5): أضع إشارة (>) أو (<) أو (=) :

| | | | | | |
|----|---|----------|----|---|----|
| 15 | ○ | خمسة عشر | 12 | ○ | 16 |
| 12 | ○ | أحاد 9 | 20 | ○ | 18 |

نشاط رقم (6): أضع دائرة حول الإجابة الصحيحة:

- | | |
|---------------------------------|----------------------------------|
| { 9 - 19 - 17 } | 1- العدد التالي للعدد 18 |
| { 20 - 11 - 9 } | 2- العدد السابق للعدد 10 |
| { الإثنين - الثلاثاء - الجمعة } | 3- اليوم التالي ليوم الخميس |
| { الخامسة - السادسة - السابعة } | 4- الساعة التالية للساعة الخامسة |

نشاط رقم (7): أصل أداة القياس بما يناسبها:



الشبر

القدم

الذراع

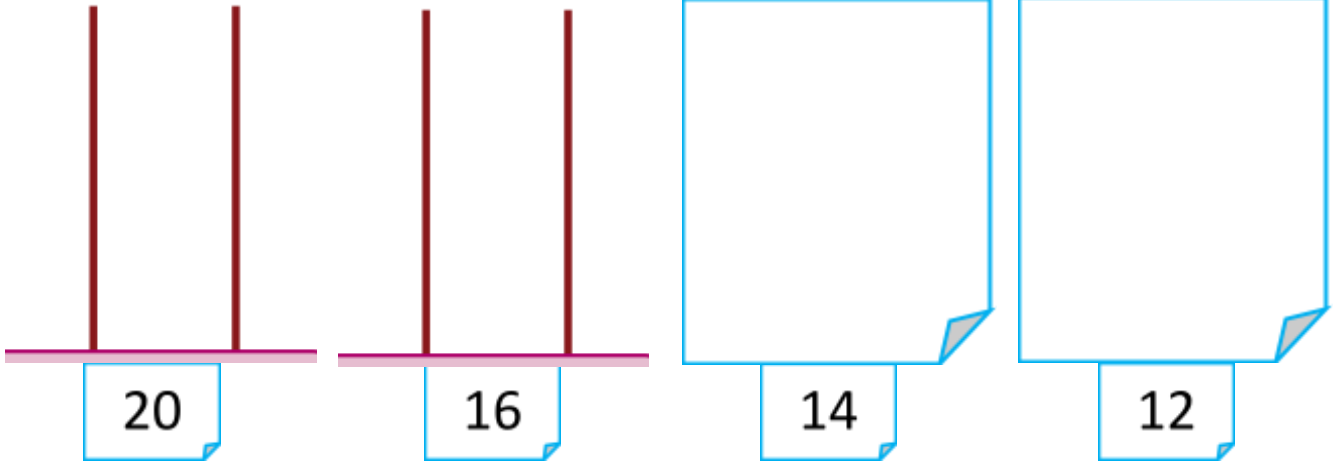
نشاط رقم (8): أجب بحسب المطلوب:

| ج- أرسم عقربي الساعة | ب- أكتب التوقيت | 1- أحوط الشخص الأطول |
|----------------------|-----------------|----------------------|
| | | |
| 4 | | |

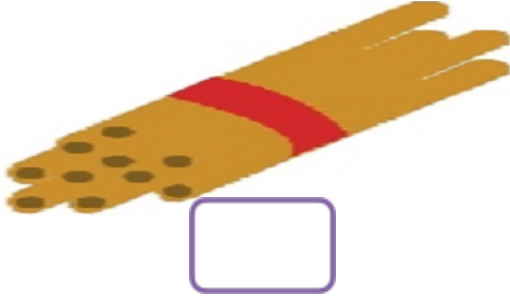
أطيب الأمنيات بالتوفيق والنجاح

ورقة عمل تقييمية في مادة الرياضيات - للصف الأول الأساسي
شهر ديسمبر (الفصل الأول) العام الدراسي 2021-2022

نشاط رقم (1): أرسم عناصر حسب المطلوب:



نشاط رقم (2): أكتب العدد الدال على المجموعة:



نشاط رقم (3): أكمل المتتالية بالأعداد الناقصة:



$$19 = \text{.....} \text{ أحاد} + \text{.....} \text{ عشرات}$$



$$20 = \text{.....} \text{ أحاد} + \text{.....} \text{ عشرات}$$

$$15 = \text{.....} \text{ أحاد} + \text{.....} \text{ عشرات}$$

نشاط رقم (5): أكتب رمز العدد:

| | | | | | | | |
|---|----------|---|--------|---|-------|---|--|
| { | الأربعاء | - | الجمعة | - | السبت | } | 1- اليوم التالي ليوم الخميس |
| { | 10 | - | 11 | - | 12 | } | 2- العدد الذي يقع بين العددين (9 ، 11) |
| { | 16 | - | 19 | - | 17 | } | 3- عدد مجموع رقمي الآحاد والعشرات = 8 |
| { | 10 | - | 11 | - | 20 | } | 4- 1 أحاد + 1 عشرات |
| { | 7 | - | 6 | - | 8 | } | 5- عدد أيام الأسبوع |

نشاط رقم (6): أكتب الحل:

اشترت سلمى  بـ (10) قروش، و اشترت  بـ (8) قروش. أحسب كم قرشاً دفعت سلمى للبائع؟

الحل:

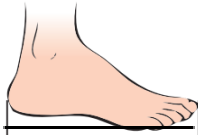
نشاط رقم (7): أحوط الشكل المطلوب:



أ- الساعة السابعة

ب- أحوط القلم الأقصر

ج- أحوط أداة القياس (القدم)



أطيب الأمنيات بالتوفيق والنجاح