


## Đề thi học kì 2 môn Toán lớp 1 sách Vì sự bình đẳng

**I. Phần trắc nghiệm (5 điểm):** Em hãy khoanh tròn vào chữ cái đặt trước kết quả đúng:

**Câu 1** (1 điểm): Cây dừa nào cao nhất



A. Cây dừa A                      B. Cây dừa B                      C. Cây dừa C                      D. Tất cả cao bằng nhau

**Câu 2** (1 điểm): Sắp xếp các số 27, 53, 63, 1 theo thứ tự từ bé đến lớn được:

A. 27, 53, 63, 1

B. 63, 53, 27, 1

C. 1, 27, 53, 63

D. 1, 53, 27, 63

**Câu 3** (1 điểm): Từ 11 đến 34 có bao nhiêu số tròn chục?

A. 4 số

B. 3 số

C. 2 số

D. 1 số

**Câu 4** (1 điểm): Hôm nay là ngày 14 tháng 4. Vậy 4 ngày nữa là ngày:

A. 18

B. 19

C. 20

D. 21

**Câu 5** (1 điểm): Có bao nhiêu quả Táo?

Có bao nhiêu quả táo?



A. 10

B. 11

C. 12

D. 13

**II. Phần tự luận (5 điểm)**

**Câu 6** (1 điểm): Đặt tính rồi tính:

$23 + 6$


$18 - 3$

$47 - 12$

$11 + 10$

**Câu 7** (1 điểm): Sắp xếp các số 30, 19, 47, 98 theo thứ tự từ bé đến lớn.

**Câu 8** (1 điểm): Chọn dấu so sánh thích hợp

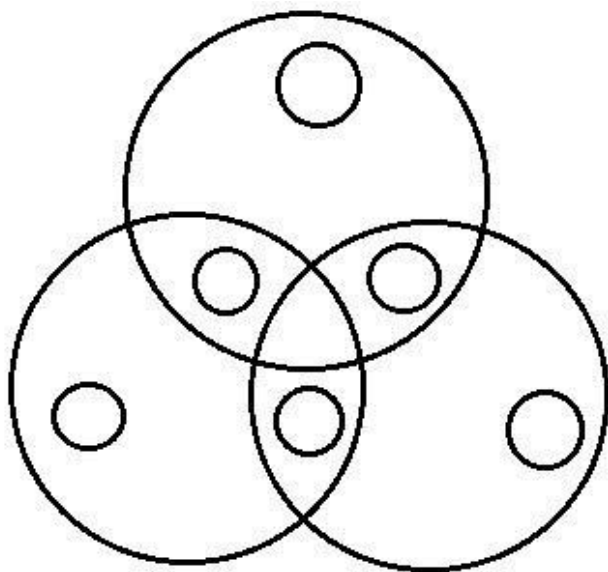


**Câu 9** (1 điểm): Viết phép tính thích hợp và trả lời câu hỏi:

Một lớp học có 12 bạn học sinh nữ và 11 bạn học sinh nam tham gia văn nghệ. Hỏi lớp học có tất cả bao nhiêu bạn tham gia văn nghệ?

**Câu 10** (1 điểm): Điền số thích hợp vào chỗ chấm:

Hình dưới đây có ... hình tròn.



### Đáp án đề thi học kì 2 môn Toán lớp 1 – Đề số 3

#### I. Phần trắc nghiệm

**Câu 1**

A

**Câu 2**

C

**Câu 3**

C

**Câu 4**

A

**Câu 5**

B

#### II. Phần tự luận

**Câu 6:** Học sinh tự đặt phép tính rồi tính:

$$23 + 6 = 29$$

$$47 - 12 = 35$$

$$18 - 3 = 15$$

$$11 + 10 = 21$$

**Câu 7:** Sắp xếp: 19, 30, 47, 98

**Câu 8:**

$$56 < 65$$

**Câu 9:**

Phép tính:  $12 + 11 = 23$

Trả lời: Lớp học có 23 bạn tham gia văn nghệ

**Câu 10:** Hình dưới đây có 12 hình tròn.

-----