

## CIENCIAS SOCIALES

### HISTORIA: MEDIR EL TIEMPO

FECHA: 31/08/2021

CURSO: 1º4º T. MAÑANA

EESNº8






ACTIVIDAD Nº2 FECHA DE ENTREGA: 06/09/21

### TRABAJA CON EL MATERIAL DE LECTURA

#### 1- CIENCIAS AUXILIARES QUE AYUDAN A LA HISTORIA:

- ARQUEOLOGIA
- CRONOLOGIA
- GEOGRAFIA
- PALEONTOLOGIA
- PALEOANTROPOLOGIA
- NUMISMATICA
- PAPIROLOGIA
- ICONOGRAFIA
- HERALDICA
- ETNOGRAFIA
- DEFINI CADA UNA DE LAS CIENCIAS AUXILIARES CON TUS PALABRAS Y DIBUJA.

#### 2- MEDIR EL TIEMPO:

-  AÑO: 12 MESES
-  QUINQUENIO O LUSTRO: 5 AÑOS
-  DECADA: 10 AÑOS
-  SIGLOS: 100 AÑOS –
-  MILENIOS : MIL AÑOS – 10 SIGLOS

A)- COMPLETA: ¿CUANTAS DECADAS TIENE...

MAMA: \_\_\_\_\_

ABUELO/A: \_\_\_\_\_

PAPA : \_\_\_\_\_

YO : \_\_\_\_\_

### 3- SIGLOS (NUMEROS ROMANOS)

Números Romanos	Equivalente Decimal
I	1
II	2
III	3
IV	4
V	5
VI	6
VII	7
VIII	8
IX	9
X	10

N. Romano	N. Decimal
I	1
V	5
X	10
L	50
C	100
D	500
M	1000

- ESTOS VALORES QUEDAN MULTIPLICADOS POR MIL AL SUPERPONER UNA RAYA SOBRE LA CORRESPONDIENTE LETRA, Y POR UN MILLÓN, SI SE **COLOCAN DOS RAYAS.**

$$\overline{\text{M}} = 1\ 000\ 000$$

NINGUNA CIFRA PUEDE REPETIRSE MÁS DE TRES VECES SEGUIDAS.

$$\text{III} = 3 \quad \text{XXX} = 30 \quad \text{CCC} = 300$$

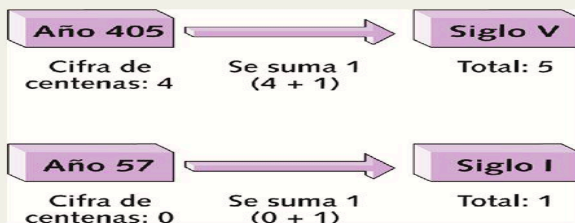
LAS LETRAS **V, L Y D** NO PUEDEN DUPLICARSE, PORQUE EL DOBLE DE ÉSTAS SON: **X, C Y M.**

SI SE COLOCA UNA CIFRA A LA DERECHA DE OTRA SIENDO SU VALOR MENOR O IGUAL QUE ÉSTA SUS VALORES SE SUMAN.

$$\text{VII} = 7 \quad \text{XX} = 20 \quad \text{CLXVIII} = 168$$

SI SE COLOCA UNA CIFRA MENOR A LA IZQUIERDA DE OTRA, LOS VALORES DE AMBAS SE RESTAN.

$$\text{IV} = 4 \quad \text{IX} = 9 \quad \text{XL} = 40$$



**¿Cómo saber de qué siglo es un año?**

**SE SUMA 1 AL NÚMERO DE LAS CENTENAS (EL TERCER NÚMERO. EMPEZANDO A CONTA POR EL FINAL DEL NÚMERO). Ejemplos: 1492 = Siglo XV. 1714 = Siglo XVIII. 2013 = Siglo XXI...**

Siglo	Desde año	Hasta año
I	1	100
II	101	200
III	201	300
IV	301	400
V	401	500
VI	501	600
VII	601	700
VIII	701	800
IX	801	900
X	901	1000
XI	1001	1100
XII	1101	1200
XIII	1201	1300
XIV	1301	1400
XV	1401	1500
XVI	1501	1600
XVII	1601	1700
XVIII	1701	1800
XIX	1801	1900
XX	1901	2000
XXI	2001	2100
XXII	2101	2200

- ANOTA A QUE SIGLO Y A QUE MILENIO CORRESPONDE CADA FECHA:

1789: \_\_\_\_\_ M \_\_\_\_\_  
 1034: \_\_\_\_\_ M \_\_\_\_\_  
 26 A.C \_\_\_\_\_ M \_\_\_\_\_  
 865 : \_\_\_\_\_ M \_\_\_\_\_

2010: \_\_\_\_\_ M: \_\_\_\_\_  
 1930 : \_\_\_\_\_ M: \_\_\_\_\_  
 2020: \_\_\_\_\_ M: \_\_\_\_\_  
 1590: \_\_\_\_\_ M: \_\_\_\_\_

#### 4- DISTINTAS CRONOLOGIAS

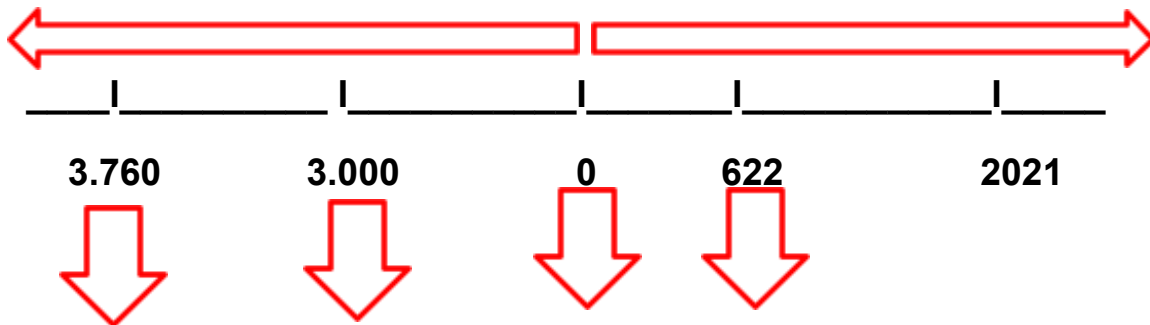
A) EXPLICA QUE SE TOMA COMO PUNTO DE PARTIDA PARA UN CALENDARIO:

JUDIO: \_\_\_\_\_

CRISTIANO: \_\_\_\_\_

MUSULMAN: \_\_\_\_\_

B)- COMPLETA LA LINEA CRONOLOGICA: NACIMIENTO DE CRISTO-CALENDARIO GREGORIANO-CALENDARIO MUSULMAN- INICIOS DE LA ESCRITURA- CALENDARIO JUDIO-←



5- DEFINI LOS SIGUIENTES TERMINOS CON TUS PALABRAS:

PERIODOS-PREHISTORIA-TIEMPOS HISTORICOS- EDADES- AGRAFAS