



**SUMATIF TENGAH SEMESTER 1 (GANJIL)
TINGKAT SD KABUPATEN / KOTA
TAHUN PELAJARAN 20../20..**

LEMBAR SOAL KURIKULUM MERDEKA

Mata Pelajaran : Seni Musik
Satuan Pendidikan : UPTD SDN Websitedukasi.com
Hari dan Tanggal :
Waktu :
Kelas : V (LIMA)

PETUNJUK UMUM:

1. Tulislah nama dan nomor pada lembar jawab!.
2. Bacalah tiap-tiap soal dengan sebaik-baiknya!
3. Kerjakan lebih dahulu soal yang kamu anggap paling mudah!
4. Periksalah kembali pekerjaanmu sebelum kamu serahkan kepada bapak/ibu guru!

PETUNJUK KHUSUS :

Berilah tanda silang (x) pada huruf a, b, c atau d yang merupakan jawaban yang paling benar pada lembarjawab yang telah disediakan!

1. Michael Jackson mampu menjangkau nada mulai dari C3 sampai dengan C5. Michael Jackson memiliki jenis suara
 - a. alto
 - b. sopran
 - c. bas
 - d. tenor
2. Anggota kelompok paduan suara Alunan Merdu memakai seragam dengan warna sesuai jenis suara masing-masing. Jenis suara yang rendah memakai seragam biru. Jenis suara yang sedang memakai seragam kuning. Sedangkan jenis suara tinggi memakai seragam merah. Jika Tasya memakai seragam merah berarti jenis suaranya adalah
 - a. bas
 - b. bariton
 - c. sopran
 - d. alto
3. Perhatikan gambar di bawah ini!









- Dalam musik, gambar di atas disebut
- a. instrument
 - b. band
 - c. perangkat
 - d. iringan
4. Pada tahun 2010, UNESCO menetapkan salah satu alat musik dari Indonesia sebagai warisan dunia. Alat musik yang dimaksud adalah
 - a. Japen dari Kalimantan Selatan
 - b. Kendang dari Jawa Tengah
 - c. Kolintang dari Sulawesi
 - d. Angklung dari Jawa Barat

5. Berikut ini adalah aspek yang membedakan alat musik, kecuali
- a. bentuk alat music
 - b. harga alat musik
 - c. cara memainkan alat music
 - d. fungsi alat musik
6. Perhatikan tabel berikut ini!

Nama alat musik	Asal daerah
i. Kendang	Papua
ii. Kolintang	Jawa
iii Sasando	Nusa Tenggara Timur
iv. Angklung	Jawa Barat

- Pasangan alat musik dan asalnya yang benar ditunjukkan oleh huruf
- a. i dan ii
 - b. iii dan iv
 - c. i dan iii
 - d. ii dan iv
7. Rebab adalah salah satu alat musik dari Jawa Tengah. Rebab termasuk alat musik
- a. goyang
 - b. tiup
 - c. pukul
 - d. gesek
8. Kordofon adalah jenis alat musik yang menghasilkan suara dari getaran dawai. Di bawah ini yang merupakan alat musik kordofon adalah
- a. gitar, sasando, biola
 - b. gitar, angklung, harmonica
 - c. sasando, piano, keyboard
 - d. tamborin, gitar, biola
9. Keyboard menghasilkan suara karena tenaga listrik. Keyboard termasuk jenis alat musik
- a. idiofon
 - b. aerofon
 - c. elektrofon
 - d. membranofon
10. Alat musik saluang masih dijaga keberadaannya oleh masyarakat sebagai salah satu warisan budaya leluhur mereka
- a. Badui
 - b. Minang
 - c. Dayak
 - d. Sasak
11. Berikut ini adalah definisi dari notasi, kecuali
- a. simbol
 - b. lambang
 - c. tulisan musik
 - d. gambar
12. Tanda titik (.) dalam notasi angka digunakan sebagai
- a. batas birama
 - b. tanda tinggi rendahnya nada
 - c. pernbagian jumlah ketukan
 - d. penunjuk nada naik atau turun
13. Garis paranada adalah garis horizontal yang digunakan untuk menulis notasi, berjumlah
- a. 2
 - b. 3
 - c. 4
 - d. 5

Perhatikan gambar berikut ini untuk soal nomor 14 dan 15.

 i	 ii	 iii
 iv	 v	 vi

14. Not penuh ditunjukkan oleh angka
 - a. i
 - b. ii
 - c. v
 - d. vi
15. Berdasarkan gambar di atas, angka iv merupakan notasi balok jenis
 - a. not 1/2
 - b. not 1/4
 - c. not 1/8
 - d. not 1/16
16. Perhatikan ciri-ciri tangga nada berikut ini!
 - i. Mempunyai karakter ceria dan menyenangkan
 - ii. Mempunyai jarak 1-1- 1/2 -1-1-1- 1/2

Berdasarkan ciri-ciri di atas tangga nada yang dimaksud adalah

 - a. diatonis mayor
 - b. diatonis minor
 - c. slendro
 - d. pelog
17. Lagu Gundul-Gundul Pacul dari Jawa Tengah menggunakan tangga nada pentatonis jenis
 - a. slendro
 - b. pelog
 - c. mayor
 - d. minor
18. Berikut ini nada yang benar dalam slendro adalah
 - a. Do, mi, fa, sol, si
 - b. Do, re, mi, fa
 - c. Do, re, mi, sol, la
 - d. Do, si, la, sol
19. Contoh lagu menggunakan tangga diatonis minor yang benar, kecuali
 - a. Syukur
 - b. Indonesia Pusaka
 - c. Bagimu Negeri
 - d. Indonesia 'Raya
20. Pada notasi tanda ini digunakan sebagai batas birama. Tanda yang dimaksud adalah
 - a. titik
 - b. garis tegak
 - c. garis mendatar
 - d. garis miring

II. Ayo mengisi titik-titik di bawah ini dengan jawaban yang tepat pada lembar jawab yang disediakan!

21. Saat masih Sekolah Dasar, suara Joni dan Ani sama-sama melengking. Namun ketika beranjak dewasa suara Joni menjadi terdengar berat dan besar. Perubahan suara Joni disebabkan oleh
22. Nina Simone adalah seorang penyanyi wanita. Ia sering disebut Kontralto. Ia memiliki jenis suara

- 23. Secara umum, suara manusia dapat dibagi menjadi dua jenis, yaitu dan
- 24. Benda yang dapat digunakan untuk menciptakan nada dan irama dengan pengaturan tertentu disebut
- 25. Kendang dan kolintang menghasilkan bunyi yang berbeda, hal ini disebabkan oleh
- 26. Ciblon/kebar adalah salah satu jenis dari alat musik
- 27. Tangan kanan digunakan untuk memainkan akor dan tangan kiri digunakan untuk memainkan bass atau melodi. Alat musik yang dimainkan dengan cara tersebut adalah
- 28. Triton kerang dari Papua dimainkan dengan cara
- 29. Perhatikan gambar berikut!



- Alat musik di atas dinamakan berasal dari daerah
- 30. Perhatikan tabel berikut!

Nama alat musik	Sumber suara
i. Angklung	Badan alat musik
ii. Seruling	Hembusan udara
iii. Gong	Getaran dawai
iv. Gitar	Getaran dawai

- III. Ayo menjawab pertanyaan di bawah ini dengan jawaban yang tepat pada lembar jawab yang disediakan!**
- 31. Sebutkan pembagian jenis suara wanita berdasarkan jangkauan nadanya!
 - 32. Sebutkan 3 alat musik tradisional dari Indonesia beserta asal daerahnya!
 - 33. Sebutkan 3 alat musik barat beserta cara memainkannya!
 - 34. Buatlah sebuah gambar not balok lengkap dengan keterangan bagian-bagiannya!
 - 35. Jelaskan perbedaan notasi angka dan notasi balok!