

# PHIẾU BÀI TẬP CUỐI TUẦN LỚP 1 - TUẦN 5

## Môn Toán

Họ và tên: .....

Lớp:

*(Cha mẹ học sinh nêu yêu cầu, hướng dẫn con học bài)*

### Bài 1. Số?

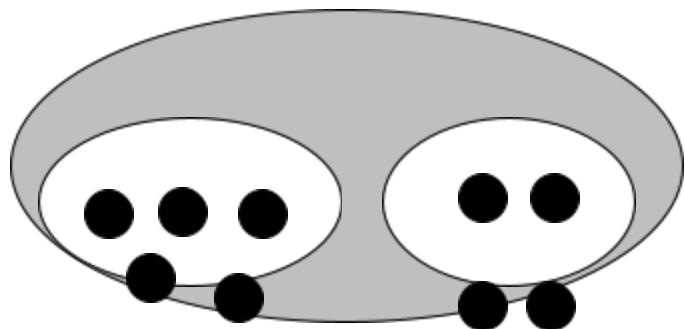
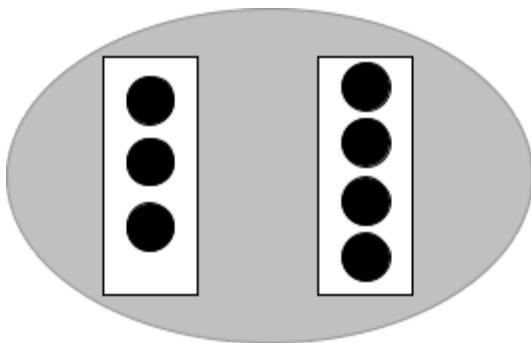
9		7			4			1	
---	--	---	--	--	---	--	--	---	--

0		2		4				8	
---	--	---	--	---	--	--	--	---	--

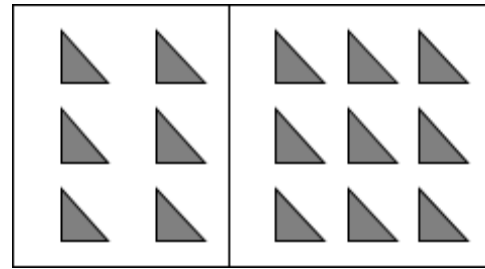
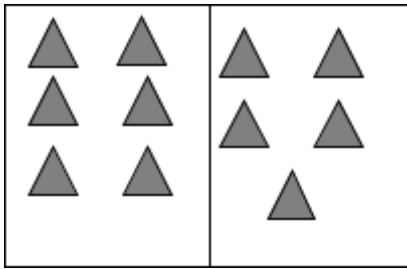
	8		6			3		1	
--	---	--	---	--	--	---	--	---	--

9				5		3			0
---	--	--	--	---	--	---	--	--	---

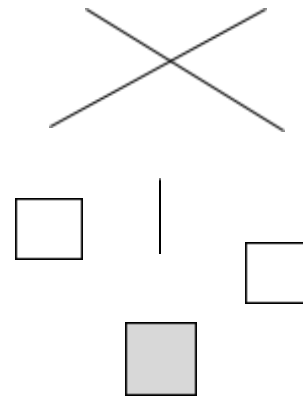
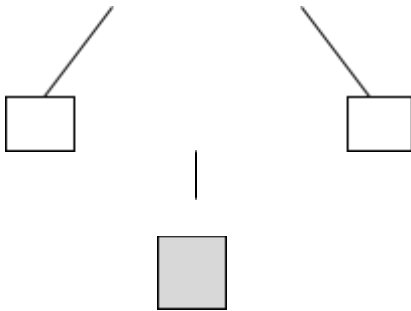
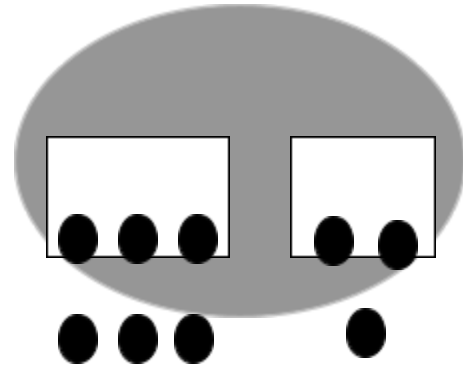
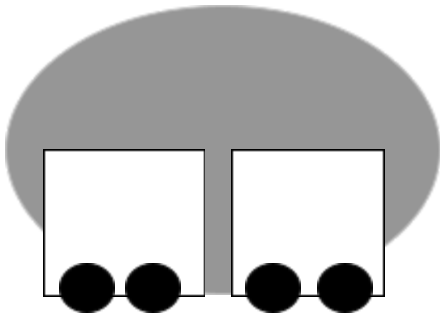
### Bài 2. Viết (theo mẫu):



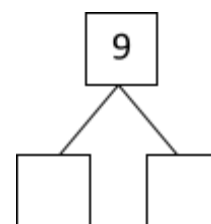
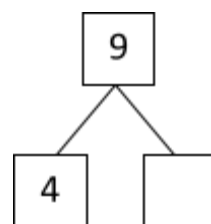
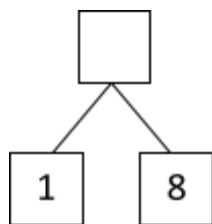
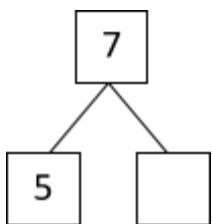
3 < 4



**Bài 3. Điền số thích hợp vào ô trống:**



**Bài 4. Số?**



**Bài 5. Điền dấu <, >, = ?**

6 .... 8

5 .... 4

9 .... 4

6 .... 6

2 ..... 0

7 ... 7

3 .... 5

4 .... 4

0 .... 1

8 .... 9

3 .... 0

3 .... 6

2 .... 7

4 .... 8

3 .... 3

**Bài 6. Số?**

2 > .....

5 < .....

9 >.....

5 = ....

8 <.....

1 >.....

3 = ....

6 >.....

4 < .....

7 >.....

2 < ..... < 4

0 < ..... < 2

9 > ..... > 7

8 > ..... > 6

5 >..... > 2

**Bài 7. Viết các số 3; 9; 8; 0; 5:**

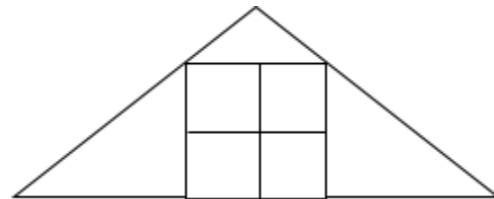
a, Theo thứ tự từ bé đến lớn: .....; .....; .....; .....; .....

b, Theo thứ tự từ lớn đến bé: .....; .....; .....; .....; .....

**Bài 8. Trong hình bên có:**

.... hình vuông.

.... hình tam giác



\* Cha mẹ đọc cho con viết các từ, câu trên vào vở chính tả ở nhà.