

### Contoh Soal Penilaian Harian

Tema : 9. Benda-benda di Sekitar Kita	Nama : .....
Subtema : 1. Benda Tunggal dan Campuran	Kelas/Semester : <b>V/II (Lima/Dua)</b>
	Hari/Tanggal : .....

*Kerjakan soal – soal di bawah ini dengan teliti dan benar !*

#### BELAJAR DI KELAS

##### A. Soal I

*(soal untuk nomor 1 dan 2)*



1. Gambar yang menunjukkan perilaku menghargai persatuan dan kesatuan ditunjukkan oleh nomor .....
2. Gambar yang menunjukkan perilaku tidak menghargai persatuan dan kesatuan ditunjukkan oleh nomor .....

**CV Anugerah Teknik Abadi**

- Jual beli AC
- Jual beli mesin cuci
- Jual beli kulkas
- Service AC
- Service mesin cuci
- Service kulkas

3. Informasi yang di dapat dari iklan di atas yaitu .....







4. Gambar tersebut menunjukkan sebuah iklan pada sebuah majalah. Iklan adalah .....



5. Emas termasuk dalam golongan zat tunggal. Yang dimaksud dengan zat tunggal yaitu .....



6. Kopi dan air termasuk ke dalam golongan zat .....

No.	Benda
1	
2	
3	
4	

7. Benda yang termasuk pada jenis zat campuran homogen ditunjukkan oleh nomor .....  
 (gambar untuk soal nomor 8 dan 9)



8. Di Jawa Tengah terdapat 6 kota, yaitu .....
9. Letak geografis kabupaten Wonosobo yaitu .....
10. *Tangga nada dengan nada ketujuh dinaikkan setengah laras. Pada saat turun jaraknya tetap sama.* Merupakan definisi dari tangga nada minor .....

## **Kunci Jawaban**

### **A. Soal I**

1. 1 dan 4
2. 2 dan 3
3. CV. Anugerah Teknik Abadi melayani jual beli AC, mesin cuci, kulkas dan service AC, mesin cuci, kulkas
4. Pemberitahuan mengenai suatu barang atau jasa kepada masyarakat umum
5. Zat yang terdiri atas materi sejenis
6. Campuran heterogen
7. 3 dan 4
8. Tegal, Pekalongan, Salatiga, Semarang, Magelang dan Surakarta
9.  $7^{\circ}.11'.20''$  sampai  $7^{\circ}.36'.24''$  garis lintang selatan (LS), serta  $109^{\circ}.44'.08''$  sampai  $110^{\circ}.04'.32''$  garis bujur timur (BT)
10. Minor harmonis