

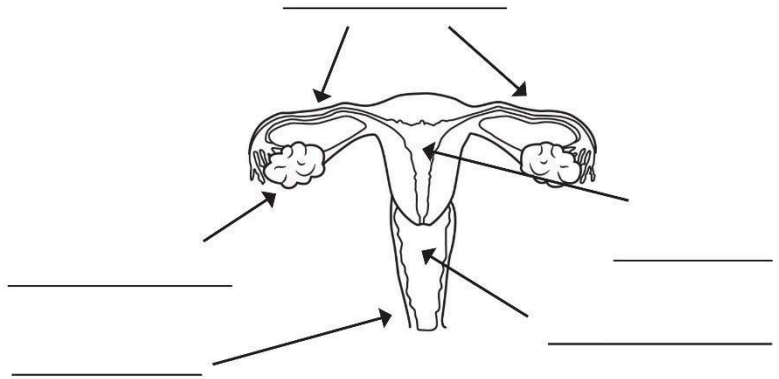
Escribe el nombre de los órganos de cada aparato reproductor, luego menciona 2 hábitos de higiene para su cuidado y por último describe la función de los órganos que se enuncian en los recuadros.

Aparato sexual femenino

Hábitos de higiene para su cuidado:

1. _____

2. _____



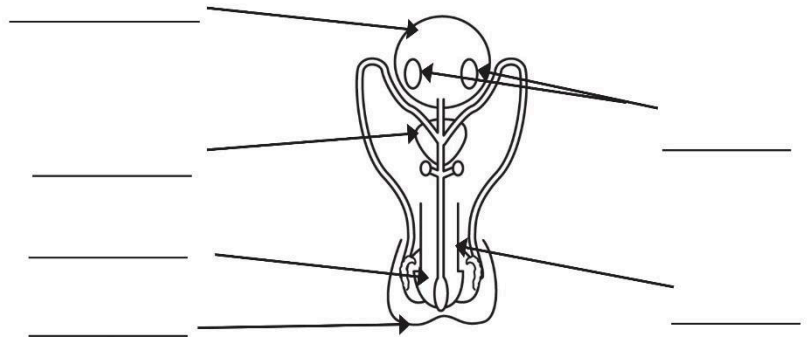
Órganos	Función
Ovario	
Trompas de falopio	
Útero	

Aparato sexual masculino

Hábitos de higiene para su cuidado:

1. _____

2. _____



Órganos	Función
Vesícula seminal	
Testículos	
Próstata	

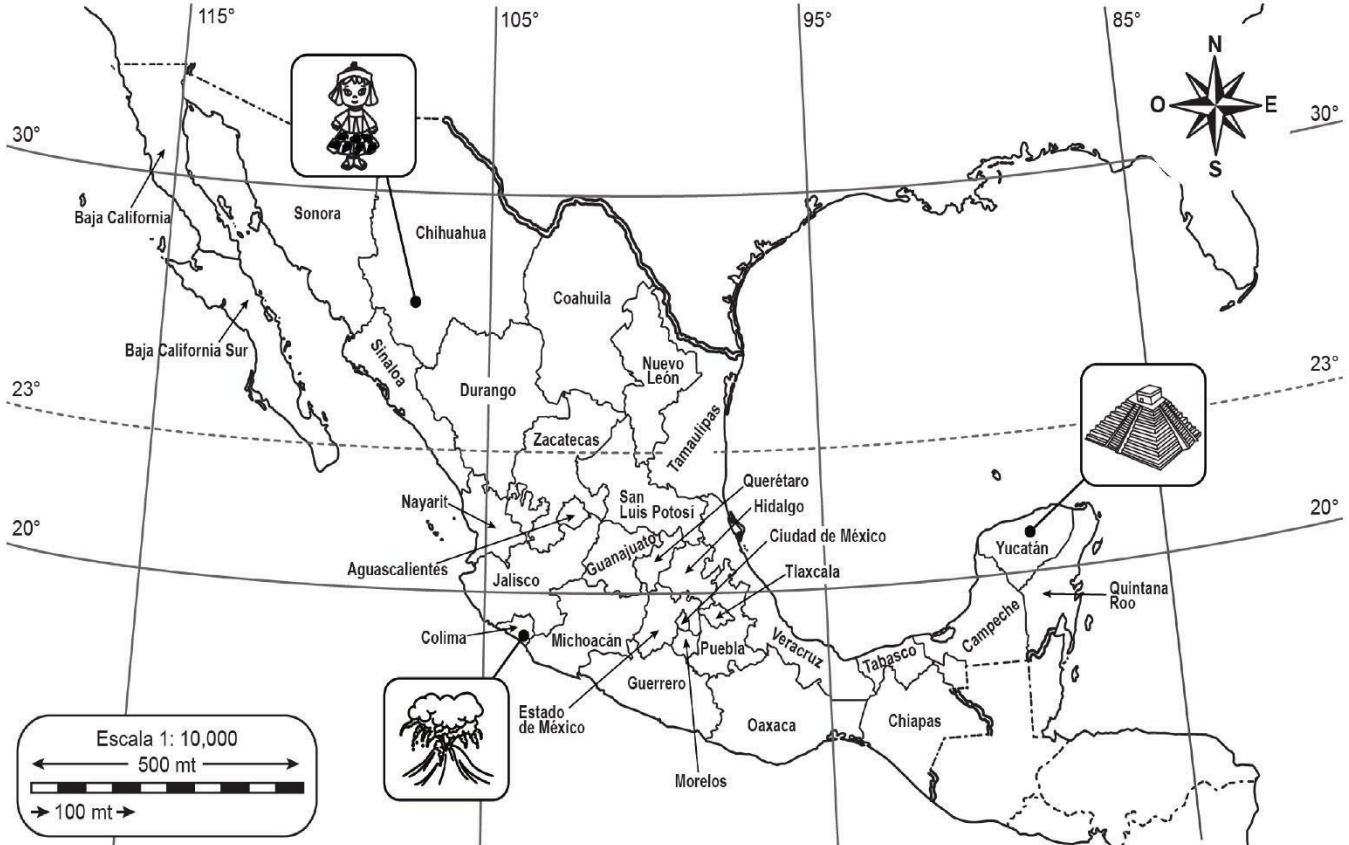
“Lugares escondidos en mapas”



Los mapas son representaciones geográficas de la Tierra, o partes de ella, sobre una superficie plana, de acuerdo con una escala. Una escala es la relación que existe entre el tamaño real y las del dibujo que se representa sobre un plano o un mapa.

Texto creado con fines didácticos MEAD.

LOCALIZA los lugares que se solicitan a continuación, al final remarca los paralelos y meridianos de diferente color.



Entidades federativas que se encuentran en el paralelo 20° sur .

Entidades que atraviesan el meridiano 105° norte.

¿En qué coordenada se encuentra tu entidad?

ENCUENTRA en el mapa las coordenadas de los siguientes componentes naturales, sociales y culturales en México.

Zona arqueológica Chichén Itzá: _____

Pueblo Tarahumara: _____

Volcán de Colima: _____

 **COLOREA** el mapa de las áreas culturales como se indica.

- **Aridoamérica:** amarillo
- **Oasisamérica:** rosa
- **Mesoamérica:** verde



Libro de alumno. Historia cuarto grado. p. 35

 **INVESTIGA** cinco características de las tres áreas geográficas que existieron durante el poblamiento de America.

Áreas geográficas



Aridoamérica

- 1.
- 2.
- 3.
- 4.
- 5.

1. Terreno semiárido y clima caluroso con escasas lluvias.
2. Habitaban grupos cazadores -recolectores.
3. Comerciabn constantemente con turquesas.
4. Rendían culto a los kachinas
5. Su zona arqueológica más conocida es Paquimé.

Mesoamérica

- 1.
- 2.
- 3.
- 4.
- 5.

VISITA:

<https://materialeducativo.org/>

&

<https://materialeseducativos.m>

X