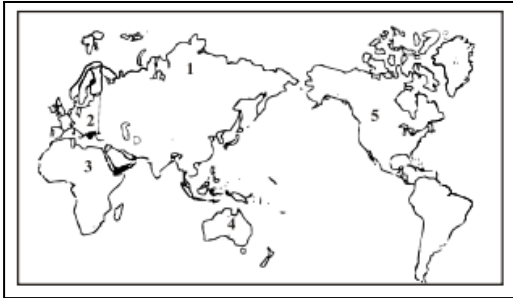


PENILAIAN HARIAN 2, MATERI Dinamika Benua

1. Perhatikan peta dunia di bawah ini !



Berdasarkan peta di atas, Benua Asia, Amerika, Afrika, Eropa dan Australia secara berturut-turut ditunjukkan oleh nomor ...

- A. 1, 3, 4, 2, 5  
B. 1, 2, 3, 4, 5  
C. 1, 4, 5, 3, 2  
D. 1, 5, 3, 2, 4

2. Perhatikan tabel!

No	Nama negara
1)	Pakistan
2)	India
3)	Nepal
4)	Mongolia
5)	Kirgistan
6)	Bahrain

Berdasarkan tabel di atas yang merupakan negara yang berada di kawasan Asia Selatan adalah nomor ... .

- A. 1), 2), dan 3)  
B. 2), 3), dan 4)  
C. 1), 4), dan 5)  
D. 4), 5), dan 6)

3. Bentuk wilayah Benua Amerika yang memanjang seolah-olah menghubungkan daerah Kutub Utara dan Kutub Selatan, kondisi demikian menyebabkan ... .

- A. Benua Amerika memiliki semua jenis iklim matahari  
B. Benua Amerika memiliki iklim dingin  
C. sebagian besar wilayahnya tertutup salju  
D. Benua Amerika memiliki iklim subtropic

4. Perhatikan peta Afrika!



Tanda X pada peta di atas adalah perairan Samodera.....

- A. Arktik
- B. Hindia
- C. Pasifik
- D. Atlantik**

5. Perhatikan peta Eropa!



Negara Perancis dan Jerman pada gambar di atas ditunjukkan oleh nomor .....

- A. 2 dan 4
- B. 3 dan 9
- C. 3 dan 4**
- D. 5 dan 8

6. Berdasarkan letak lintangnya Jepang beriklim .....

- A. Tropis dan sub tropis
- B. tropis dan sedang
- C. sub tropis dan sedang**
- D. sedang dan dingin

7. Perhatikan data !

- 1) Kanada
  - 2) Guatemala
  - 3) Meksiko
  - 4) Samodra Hindia
  - 5) Samodra Pasifik
  - 6) Laut Karibia
- Berdasarkan data di atas yang merupakan

No	Nama negara
1)	Pakistan
2)	India
3)	Nepal
4)	Mongolia
5)	Kirgistan
6)	Bahrain

batas negara Amerika Serikat adalah nomor...

- A. 1), 2), dan 3)
- B. **1), 3), dan 5)**
- C. 2), 4), dan 6)
- D. 4), 5), dan 6)

8. Daerah tambang batu bara di negara Inggris terdapat di negara bagian ....

- A. Irlandia Utara

- B. Scotlandia bagian selatan
- C. England bagian utara
- D. Wales bagian selatan**

9. Perhatikan peta Australia berikut!



Berdasarkan peta di atas yang merupakan daerah penghasil buah-buahan dan sayur-sayuran adalah nomor .....

- A. 1**
- B. 2
- C. 3
- D. 4

10. Angin Khamsin yang sering melanda negara Mesir berasal dari ....

- A. Laut Tengah
- B. Laut Merah
- C. Gurun Sahara**
- D. Gurun Kalahari

11. Perhatikan Peta Asia Berikut!



Negara di Benua Asia yang memiliki jumlah penduduk terbesar di dunia ditunjukkan oleh nomor ...

- A. 4 C. 2
- B. 3 D. 1**

12. Perhatikan tabel di bawah ini!

I	II	III	IV
Bahrain	Srilanka	Indonesia	Qatar
Qatar	Indonesia	China	China
Srilanka	India	Bahrain	India

Berdasarkan tabel ras negroid di Benua Asia tinggal di negara pada kolom ...

- A. I
- B. II
- C. III
- D. IV

13. Perhatikan pernyataan berikut ini!

- 1) Lunturnya orientasi pertanian
- 2) Berurangnya tenaga produktif di bidang pertanian
- 3) Ketersediaan bahan pangan yang berkurang
- 4) Menjamurnya pemukiman kumuh
- 5) Penduduk dengan pendapatan rendah kesulitan mencukupi kebutuhan hidupnya
- 6) Meningkatnya pengangguran dan penduduk miskin

Berdasarkan pernyataan di atas, yang merupakan dampak negatif interaksi desa kota bagi desa adalah nomor.....

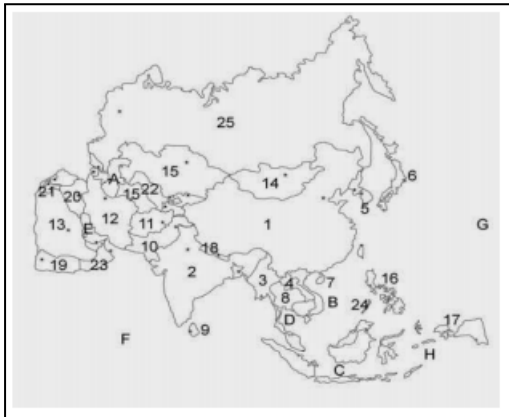
A. 1), 2), dan 3)

B. 1), 3), dan 5)

C. 2), 4), dan 6)

D. 4), 5), dan 6)

14. Perhatikan Peta Asia!



Berdasarkan peta di samping negara di benua Asia yang memiliki penduduk kota lebih dari 50 % adalah nomor .....

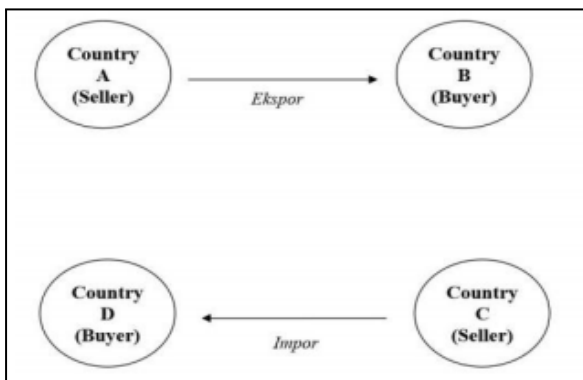
A. 1, 2, dan 14

B. 2, 13, dan 16

C. 7, 11, dan 18

D. 5, 6, dan 13

15. Perhatikan gambar!



Skema disamping menunjukkan terjadinya pengaruh interaksi antarruang dibidang ....

- A. Ekonomi**
- B. Politik
- C. Sosial
- D. Pendidikan