

CICLO ESCOLAR 2021-2022

EVALUACION DE DIAGNOSTICO

NOMBRE DE LA ESCUELA: _____

NOMBRE DEL ALUMNO(A): _____

INTRUCCIONES: Lee con atención el siguiente texto y responde correctamente las preguntas 1, 2 y 3.



LA CONFERENCIA

El jueves pasado, Daniel, el hermano de Mauri que se ganó un premio estatal por su novela, dio una conferencia en la escuela sobre la pasión por la escritura. Fuimos todos los de la primaria a escucharlo. Él comenzó diciendo por qué escribía, cómo lo hacía y cuál era su objetivo: para qué escribía. Dijo que cuando estaba sobre el teclado de la computadora, sentía que era cada uno de sus personajes y que viajaba a donde su imaginación lo llevaba. Que la página en blanco era como una puerta mágica para crear el mundo que él quisiera. Nos invitó a leer y leer. Afirmó que quien lee, tiene su propia personalidad, la fortalece y se convierte en una persona segura de sí misma.

La conferencia estuvo muy interesante y al final rifó cuatro libros. Uno se lo sacó Valeria y los otros tres fueron para niños de cuarto, quinto y sexto. Alex, Mauri y yo, junto con Valeria, le aplaudimos mucho y, al final, nos dio un autógrafo.

1.- ¿Por qué ganó Daniel un premio?

- A) Por su corte de cabello.
- B) Por una novela que escribió.
- C) Por llegar en primer lugar en una carrera.
- D) Por hacer los mejores clavados.

2.- ¿Qué siente Daniel cuando escribe?

- A) Siente que se aburre mucho.
- B) Siente que preferiría estar jugando ping pong.
- C) Siente que se convierte en sus personajes y viaja con su imaginación.
- D) Siente que lo van a castigar por escribir.

3.- ¿Qué pasó cuando terminó la conferencia de Daniel?

- A) Nos dio un autógrafo.
- B) Nos quedamos dormidos.
- C) Daniel se quedó muy enojado.
- D) Decidimos que no nos gusta leer.

INTRUCCIONES: Lee con atención y subraya la respuestas que consideres correcta.

4.- Lugar donde se tienen libros ordenados y espacios para su lectura.

- A) Librería.
- B) Biblioteca.
- C) Círculo de lectura.
- D) Sala de lectura.

5.- Servicio que ofrece una biblioteca para que el libro u otro material sea leído en otro sitio.

- A) Préstamo a domicilio.
- B) Lectura en círculos de estudio.
- C) Préstamo a terceros.
- D) Lectura en casa.

6.- ¿Cómo se les llama a las palabras que indican las acciones en una norma?

- A) Sujetos.
- B) Verbos.
- C) Adjetivos.
- D) Sustantivos.

7.- En la norma: Los usuarios deben reemplazar los libros que dañen o extravíen, ¿cuál es el verbo en infinitivo?

- A) Reemplazar.
- B) Dañen.
- C) Deben.
- D) Extravíen.

8.- ¿Cuál es la terminación de las palabras que indican las acciones que se deben seguir en un reglamento?

- A) us, re, es.
- B) ar, er, ir.
- C) en, sa, em.
- D) pla, cri, ata.

9.- ¿Cómo se buscan las palabras en un diccionario?

- A) En orden cronológico.
- B) En orden alfabético.
- C) En orden lógico.
- D) En orden de importancia.

10.- Signo que indica que terminó un párrafo y que continuará el texto con un asunto diferente u otro aspecto del tema que se está tratando.

- A) Punto y coma.
- B) Punto y seguido.
- C) Punto y aparte.
- D) Coma.

11.- ¿Dónde se deben investigar las palabras y conceptos cuyo significado desconocemos o tenemos duda sobre el mismo?

- A) En un diccionario.
- B) En un instructivo.
- C) En un poemario.
- D) En un manual.

12.- Recurso que se recomienda para la determinación de la estructura de un folleto.

- A) Una descripción.
- B) Una exposición.
- C) Un guión.
- D) Un ensayo.

13.- ¿Qué se debe considerar antes de distribuir los elementos de un folleto?

- A) El espacio.
- B) El color.
- C) El tiempo.
- D) Las imágenes.

14.- Palabras que pertenecen a la misma familia léxica de "observación".

- A) Mirar, mirador, mirada.
- B) Ver, verlo, verificar.
- C) Observador, observado, observaste.
- D) Mirar, ver, observar.

15.- Tipo de revistas que contienen artículos cuyo propósito es exponer y comunicar, de manera precisa y real, descubrimientos o explicaciones de fenómenos o sucesos.

- A) Revistas de espectáculos.
- B) Revistas de divulgación científica.
- C) Revistas de entretenimiento.
- D) Revistas de análisis político.

16.- Elige la opción que contenga verbos en pasado o pretérito.

- A) Conocí, viajé, jugué, viví, participé.
- B) Conozco, viajo, juego, vivo, participo.

C) Conoceré, viajaré, jugaré, viviré, participaré.

D) Conocer, viajar, jugar, vivir, participar.

17.- ¿Qué nombre recibe el conjunto de páginas del periódico donde se agrupan las noticias de acuerdo con el tipo de información que contienen?

- A) Columnas.
- B) Secciones.
- C) Cabeza.
- D) Segmentos.

18.- Parte de un artículo de divulgación científica, escrito con letras más grandes que las utilizadas en el resto del artículo.

- A) Resumen.
- B) Contraportada.
- C) Subtítulo.
- D) Título.

19.- Al realizar una encuesta en el salón, ¿qué pregunta está correctamente escrita para conocer la edad de tus compañeros?

- A) Cuantos años tienes.
- B) ¡Cuántos años tienes!
- C) ¿cuántos años tienes!
- D) ¿Cuántos años tienes?

20.- Recursos con los que se puede organizar la información que se obtiene de una encuesta.

- A) Entrevistas y cuestionarios.
- B) Folletos e instructivos.
- C) Cartas y carteles.
- D) Tablas y gráficas

21.- ¿Cuál de las siguientes preguntas se considera cerrada?

- A) ¿Cuántos hermanos tienes?
- B) ¿Te gusta la música?
- C) ¿Cuál es tu juego favorito?
- D) ¿Qué fruta te gusta más?

22.- ¿En qué se basa la medicina tradicional de nuestro país?

- A) En canalizar la energía interna de las personas a través de puntos de presión en el cuerpo.
- B) En utilizar potentes fármacos para aliviar infecciones y otras enfermedades.
- C) En utilizar plantas y hierbas para remediar algunos malestares pasajeros.
- D) En utilizar cirugías para curar a las personas enfermas.

23.- ¿Cuáles son las partes en las que se dividen los remedios caseros?

- A) Planteamiento, desarrollo y desenlace.
- B) Ingredientes, procedimiento, dosis y forma de uso.
- C) Introducción, desarrollo y conclusión.
- D) Palabras, enunciados y párrafos.

24.- ¿Qué nombre recibe el recurso en el que se designa una cosa con el nombre de otra, en sentido figurado?

- A) Metáfora.
- B) Rima.
- C) Poema.
- D) Verso.

25.- ¿Cuáles son las partes en las que se dividen los remedios caseros?

- A) Planteamiento, desarrollo y desenlace.
- B) Ingredientes, procedimiento, dosis y forma de uso.
- C) Introducción, desarrollo y conclusión.
- D) Palabras, enunciados y párrafos.

MATEMATICAS

INSTRUCCIONES: Lee detenidamente y subraya la respuesta que consideres correcta.

1.- Si las manzanas se venden en bolsas de 10 piezas, ¿cuántas manzanas hay en 12 bolsas?

- A) 110 manzanas.
- B) 100 manzanas.
- C) 120 manzanas.
- D) 130 manzanas.



2.- ¿Por qué se dice que el sistema numérico es posicional?

- A) Porque es muy importante la posición en la que se escriben los números.
- B) Por la posición del cuaderno cuando se escriben los números.
- C) Porque las centenas son más pequeñas que las decenas.
- D) Porque podemos escribir los números en cualquier posición y no afecta el valor.

3.- Para comprar un nuevo bote de basura en el salón de clases, 32 niños cooperaron \$10 pesos cada uno, ¿cuánto dinero juntaron?

- A) \$300
- B) \$400



- C) \$320
D) \$120

4.- ¿Cuántas horas tiene un día?

- A) 24 horas.
B) 60 horas.
C) 20 horas.
D) 23 horas.

5.- Si tienes 60 minutos para terminar un examen y te tardaste 15 minutos leyendo las instrucciones, ¿cuántos minutos te quedan?

- A) 25 minutos.
B) 35 minutos.
C) 15 minutos.
D) 45 minutos.

6.- ¿Cuántos billetes de \$100 necesitarías para tener \$5300?

- A) 23 billetes.
B) 53 billetes.
C) 63 billetes.
D) 73 billetes.



7.- Un trabajador cobra \$25 por poner una pieza de vidrio en una ventana, si la ventana tiene 36 piezas, ¿cuánto cobra el trabajador por colocar todos los vidrios de la ventana?

- A) \$1 000
B) \$1 200
C) \$800
D) \$900

8.- La recámara de Luis tiene 12 piezas de vitropiso de ancho y 11 piezas de largo.

¿Cuántos piezas de vitropiso hay en total en la recámara de Luis?

- A) 102 piezas.
B) 98 piezas.
C) 132 piezas.
D) 144 piezas.

9.- Es el nombre del número que resulta de la siguiente suma: $6\ 000 + 35$

- A) Seis mil trescientos cincuenta.
B) Seis mil treinta y cinco.
C) Seiscientos treinta y cinco.
D) Treinta y cinco.

10.- Un kilo de jitomate cuesta \$25, ¿cuánto cuestan 9 kilos de jitomate?

- A) \$225
B) \$235
C) \$285
D) \$275



11.- ¿Cómo se escribe $4\ 000 + 600 + 5$?

- A) 465
B) 4 605
C) 4 650
D) 4 660

INSTRUCCIONES: Observa la imagen y responde las preguntas 12 y 13.

Vuelo con destino a:	Hora de salida:	Hora de llegada:	Costo:
Monterrey	7:00	8:15	\$1 500
Guadalajara	9:30	10:30	\$2 200
Saltillo	11:15	12:00	\$1 200
Tijuana	10:55	12:55	\$2 500
Mérida	11:05	12:35	\$2 000



12.- ¿Cuánto tiempo tarda el vuelo de la Ciudad de México a Tijuana?

- A) Una hora.

- B) Una hora y media.
- C) Cuarenta y cinco minutos.
- D) Dos horas.


13.- ¿Con cuánto dinero compramos dos boletos para viajar a Mérida?

- A) \$2 000
- B) \$3 000
- C) \$4 000
- D) \$5 000

14.- ¿Cuál es la descomposición que resuelve la suma $6\,432 + 3\,421$?

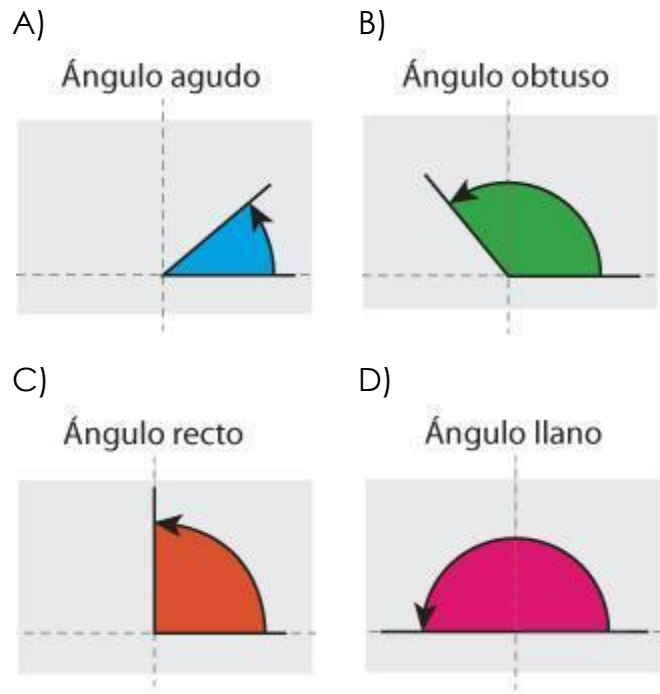
- A) $6000 + 400 + 30 + 2 + 3000 + 400 + 20 + 1$
- B) $6000 + 300 + 40 + 2 + 3000 + 200 + 40 + 1$
- C) $6 + 40 + 300 + 2000 + 3 + 40 + 200 + 1000$
- D) $6000 + 400 + 3 + 20 + 3000 + 40 + 2 + 100$

15.- La mamá de Laura vende galletas, hoy horneó 45 y le pidió ponerlas en bolsas de 5 galletas cada una. ¿Cuántas bolsas de galletas venderá su mamá este día?



- A) 225 bolsas.
- B) 50 bolsas.
- C) 9 bolsas.
- D) 40 bolsas.

16.- El ángulo que equivale a un cuarto de giro es él:



17.- En una granja llenan canastas con limones. Si en total tienen 400 limones y cada canasta se llena con 20, ¿cuántas canastas podrán llenar en total?

- A) 5 canastas.
- B) 10 canastas.
- C) 20 canastas.
- D) 40 canastas.

18.- Entre Luis, Mario, Pablo y Ramón compraron 44 cubos de madera, si los quieren repartir en partes iguales, ¿cuántos cubos de madera le tocarán a cada uno?

- A) 11 cubos de madera.
- B) 10 cubos de madera.
- C) 12 cubos de madera.
- D) 14 cubos de madera.

19.- En un acuario están limpiando las peceras, por lo que provisionalmente reubicaron a los animales de tres peceras

en una sola. Si en la primera había 22 peces, en la segunda 12 cangrejos y en la tercera 8 tortugas, ¿cuántos animales en total colocaron juntos?

- A) 42 animales.
- B) 30 animales.
- C) 20 animales.
- D) 34 animales.

20.- Andrés compró en la tienda unas galletas que costaban \$12.00, un jugo de \$8.00 y un melón de \$15.00. Si Andrés gastó todo su dinero, ¿cuánto dinero tenía?

- A) \$23.00
- B) \$20.00
- C) \$27.00
- D) \$35.00

21.- Observa el rectángulo y determina la fracción que representa a la parte iluminada.

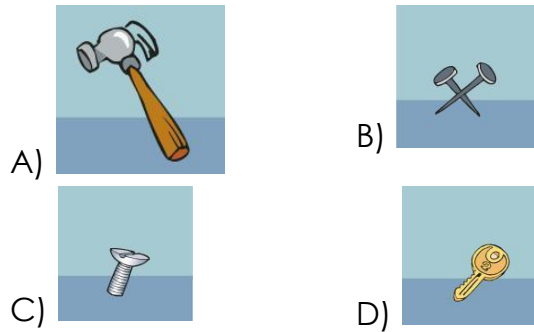


- A) $\frac{4}{6}$
- B) $\frac{7}{10}$
- C) $\frac{5}{12}$
- D) $\frac{7}{8}$

22.- En una división, ¿cuál es la cantidad que sobra y ya no se puede repartir?

- A) El denominador.
- B) El cociente.
- C) El residuo.
- D) El numerador.

23.- Observa las figuras y selecciona la que creas que pese más si las colocas en una balanza.



24.- Resuelve la siguiente división: $150 \div 10 =$

- A) 15
- B) 160
- C) 140
- D) 1500

25.- ¿Qué significa cuando dos rectas son congruentes entre ellas?

- A) Que las dos rectas tienen medidas diferentes.
- B) Que ambas rectas tienen la misma medida.
- C) Que una de ellas es perpendicular a la otra.
- D) Que una de ellas es paralela a la otra.

CIENCIAS NATURALES

1.- Están incluidas dentro del Plato del Bien Comer:

- A) Verduras y frutas.
- B) Café.
- C) Refrescos y agua de sabor.
- D) Alimentos chatarra.



2.- ¿Cómo se pueden prevenir accidentes al realizar ejercicios físicos?

- A) Calentando los músculos antes de realizar ejercicio.
- B) Haciendo ejercicios extenuantes por tiempos prolongados.
- C) Caminando sobre bardas.
- D) Subiendo a las azoteas.

3.- ¿Cuál de los siguientes órganos forma parte del aparato digestivo?

- A) El intestino delgado.
- B) La tráquea.
- C) Los pulmones.
- D) El diafragma.

4.- ¿Cuál es el primer paso de la digestión?

- A) Tragar.
- B) Oler.
- C) Saborear.
- D) Masticar.



5.- Es un grupo de alimentos del Plato del Bien Comer:

- A) Refrescos.
- B) Leguminosas y alimentos de origen animal.
- C) Agua Potable.
- D) Café y té.

6.- Animales que se alimentan de otros animales:

- A) Herbívoros.
- B) Carnívoros.
- C) Omnívoros.
- D) Insectívoros.

7.- ¿Qué partes de las plantas absorben el dióxido de carbono para complementar su nutrición?

- A) La raíz y la flor.
- B) La hoja y el tallo.
- C) El capullo y la semilla.
- D) El fruto y los pétalos.

8.- ¿Cómo absorben el oxígeno los peces?

- A) A través de la espiración.
- B) A través de las branquias.
- C) A través de la piel.
- D) A través de las respiración.

9.- Es utilizada por las plantas para transformar el dióxido de carbono en alimento.

- A) La raíz.
- B) El tallo.
- C) La luz solar.
- D) El estoma.

10.- Es la medida en grados Celsius del calentamiento de los cuerpos.

- A) Temperatura.
- B) Densidad.
- C) Altura.
- D) Energía.

11.- Es la unidad que se utiliza frecuentemente para medir la capacidad de los recipientes.

- A) Patrón.

- B) Litro.
- C) Metro.
- D) Kilo.





12.- Es la cantidad de material que contienen los objetos.

- A) Balanza.
- B) Masa.
- C) Volumen.
- D) Kilogramo.

13.- ¿Cuál es la propiedad de los imanes que permite atraer cuerpos metálicos?

- A) El magnetismo.
- B) La efervescencia.
- C) El volumen.
- D) La conductividad.

14.- Herramientas que facilitan el trabajo, porque utilizándolas se requiere aplicar menos fuerza.

- | | | | |
|----|---|----|---|
| A) |  | B) |  |
| C) |  | D) |  |

15.- Movimiento de la Tierra que origina la sucesión del día y de la noche.

- A) Traslación
- B) Rotación
- C) Transformación
- D) Mutación

16.- Consecuencias de los movimientos de rotación y de traslación de la Tierra.

- A) Las fases de la Luna.
- B) El efecto invernadero.
- C) La contaminación.
- D) Los climas.

17.- ¿Qué cualidad del sonido permite distinguir el sonido de diferentes instrumentos?

- A) El tono.
- B) La intensidad.
- C) La duración.
- D) El timbre.

18.- Etapa del proyecto donde se da a conocer la información recabada, puede hacerse mediante trípticos o folletos o con un periódico mural.

- A) Autoevaluación.
- B) Planeación.
- C) Desarrollo.
- D) Comunicación.

19.- Etapa del proyecto donde se plantean interrogantes acerca del tema que orientarán la búsqueda de información.

- A) Autoevaluación.
- B) Planeación.
- C) Desarrollo.
- D) Comunicación.

20.- Etapa del proyecto donde se contrastan los aprendizajes que se

obtuvieron al realizar todas las actividades.

- A) Autoevaluación.
- B) Planeación.
- C) Desarrollo.
- D) Comunicación.

GEOGRAFIA

1.- colorea de color verde la entidad en la que vives:



2.- Es la unidad territorial de una nación:

- A) Localidad.
- B) Municipio.
- C) Entidad.
- D) Mapa.

3.- ¿Cómo se considera a la población que tiene menos de 2 500 habitantes?

- A) Urbana.
- B) Agrícola.
- C) Rural.
- D) Ganadera.

3 . México limita al norte con:

- A) Baja California Sur.
- B) Estados Unidos de América.
- C) El Océano Pacífico.
- D) El Golfo de México y el mar Caribe.

4.- Es un clima extremoso, las temperaturas suelen ser altas, sobre todo en los meses de julio y agosto:

- A) Clima seco.
- B) Clima templado subhúmedo.
- C) Clima semiseco.
- D) Clima muy seco.

5.- Actividad económica que corresponde al sector primario:

- A) Industria Eléctrica.
- B) Construcción.
- C) Pesca.
- D) Comercio.

6.- ¿Cómo se denomina al grupo de personas que tienen como principal característica hablar una misma lengua?

- A) Religioso.
- B) Étnico.
- C) Población.
- D) Musical.

7.- Se forma en una depresión del terreno, contiene agua salobre y está comunicada con el mar:

- A) Mar.
- B) Arroyo.
- C) Laguna.
- D) Río.

8.- De pie, en el patio de tu casa o en una pequeña loma cercana a tu casa, extiende los brazos señalando con la mano derecha el sitio por donde sale el sol. Frente a ti queda él:

- A) Norte.
- B) Sur.
- C) Este.
- D) Oeste.

9.- Uno de los mares que colinda con nuestro país:

- A) Golfo de México.
- B) Catazajá.
- C) La Joya.
- D) Vado Ancho.

10.- Acciones para reducir la sobreexplotación del agua.

- A) Mejorar los hábitos del uso del agua, no desperdiciarla ni hacer mal uso de ella.
- B) Evitar el uso del automóvil, generar menos basura y separar la basura orgánica de la inorgánica.
- C) Desarrollar infraestructura que capte las emisiones de gas de la basura.
- D) Proteger las zonas naturales y mejorar los métodos de cultivo.

HISTORIA

1.- Así se le llama al grupo o pueblo asentado en un territorio de manera permanente.



- A) Sedentario.
- B) Permanente.
- C) Nómada.
- D) Itinerante.

2.- Cuando un grupo humano establece una relación con la naturaleza y hábitos o formas de vivir diferentes a otras hablamos de una:



- A) Zona.
- B) Cultura.
- C) Raza.
- D) Tribu.

3.- Ciencia que estudia las culturas antiguas, generalmente, a través de los restos que nos han llegado de ellas.

- A) La arquería.
- B) La mineralogía.
- C) La medicina.
- D) La arqueología.

4.- Ruina, señal o resto que queda de algo antiguo, pasado o destruido, material o inmaterial



- A) Ofrenda.
- B) Vestigio.
- C) Arquitectura.
- D) Reminiscencia.

5.- Con este acontecimiento se dio inicio al periodo de la historia de México llamado la Colonia.

- A) La llegada de los chichimecas.
- B) El descubrimiento de vestigios arqueológicos.
- C) La derrota de los mexicas o caída del imperio azteca.
- D) La llegada de los seris al territorio conquistado.

6.- ¿A través de qué aspectos se dio la conquista y colonización de la Nueva España?

- A) Las fiestas y el gobierno.
- B) La guerra y la religión.
- C) La agricultura y la ganadería.
- D) Las artesanías y la música.

7.- ¿Qué guerra dio inicio el 15 de septiembre de 1810 para liberarse de los españoles?

- A) Independencia.
- B) Reforma.
- C) Revolución.
- D) Conquista.

8.- Reunión convocada por Venustiano Carranza en 1914 para llegar a acuerdos sobre cómo organizar la situación política del país.

- A) Plan de San Luis.
- B) Convención de Zacatecas.
- C) Convención Revolucionaria.
- D) Plan de Ayala.

9.- Países de origen de los inversionistas que llegaron a México durante el Porfiriato, época caracterizada por cierta estabilidad política.

- A) Japón, Gran Bretaña y Estados Unidos.
- B) Irlanda, Italia y Bélgica.
- C) Australia, China y Japón.
- D) Francia, Estados Unidos e Inglaterra.

10.- Elemento de la modernización y desarrollo económico del país, como medio de transporte y como facilitador del intercambio de productos.

- A) El ferrocarril.
- B) El barco.
- C) El avión.
- D) El automóvil.

FORMACION CIVICA Y ETICA

1.- Ayudan a las personas que los forman a sentirse unidas a otras que las conocen, aceptan, ayudan y protegen:



- A) Los grupos.
- B) El derecho a la salud.
- C) Las leyes.
- D) La lexicografía.

2.- ¿Qué es lo que le da sus características de cada persona?

- A) La familia.
- B) La unión.
- C) Su identidad.
- D) Las normas.

3.- ¿Cuál sería una buena decisión para mejorar tus calificaciones?



- A) Esforzarme más y pedirle consejos a mi maestra para estudiar mejor.
- B) No hacer nada porque no puedo mejorar.
- C) Esperar que todo mejore solo.

D) Pedirle a mis compañeros que bajen sus calificaciones para que estemos igual.

4.- ¿Quiénes representan la autoridad dentro de tu casa?

- A) Tus amigos.
- B) Tus papás o tutores.
- C) La televisión.
- D) La policía.

5. Para que los demás entiendan lo que quieres y necesitas, ¿qué debes hacer?

- A) Expresarte correctamente.
- B) Hacer berrinches.
- C) Pedir con gritos lo que necesitas.
- D) Quedarte callado.

6.- ¿Quién te puede ayudar a proponerte y lograr metas, principalmente del ámbito familiar?

- A) Los amigos.
- B) La familia.
- C) El director y los maestros.
- D) Los compañeros del fútbol.

7.- Al grupo de la maestra Mariela llegó una niña que sólo habla maya. La profesora se dio cuenta que algunos de sus alumnos se burlan de ella. Esto representa un problema de:

- A) Equidad.
- B) Empatía.
- C) Injusticia.
- D) Discriminación.

8.- ¿Para qué es necesario el trabajo?

- A) Para adquirir nuevos aprendizajes.
- B) Para asegurarse que las personas siempre tengan comida.

- C) Para tener una fuente de ingresos y ejercer su profesión.
D) Para protegerse y tener un lugar donde vivir, en compañía de su familia.

9.- ¿A qué se llama discriminación?

- A) Dar a cada quien lo que necesita.
B) Respeto hacia las opiniones o prácticas de los demás
C) Cuando se rechaza a las personas por alguna de sus características.
D) Corresponder a un favor que alguien nos hace.

10.- En una sociedad democrática las personas consideran que es importante respetar las normas y las leyes. ¿Cómo se logra esto?

- A) Con peleas entre los ciudadanos.
B) Con el razonamiento colectivo, la discusión y el diálogo informado.
C) Obligando a la gente a respetarla utilizando la fuerza pública.
D) Desterrando a la gente que no quiera respetar las leyes.

11.- ¿Para qué se establecen normas y leyes en una sociedad?





- A) Para que a las personas se les imputen cargos en forma arbitraria.
B) Para que haya inseguridad y dificultades para satisfacer los intereses y las necesidades de los individuos que integran la sociedad.
C) Para que haya seguridad y facilidades para satisfacer los intereses y las necesidades de los individuos que la integran.

- D) En la sociedad no deberían establecerse normas ni leyes, porque no son necesarias.

12.- Son algunos de los derechos que tienen los niños.

- A) Expresar su opinión libremente, incluso si ello lastima a otras personas, y a ser groseros con padres y maestros.
B) Jugar siempre que ellos quieran, no hacer la tarea y no recibir vacunas.
C) Asistir a la escuela, no ser discriminados y no ser separados de sus padres.
D) Asistir a la escuela, discriminar a las demás personas y alimentarse de lo que ellos quieran.

13.- ¿Qué imagen representa una forma de maltrato hacia una persona?

- A)  B) 
C)  D) 

14.- ¿Cómo debes expresar tus opiniones a las otras personas?

- A) Con claridad y respeto.
B) Con insultos y mentiras.
C) Con golpes y amenazas.
D) No debo expresar mis opiniones.

15.- ¿Por qué son importantes las decisiones que tomamos en nuestra vida cotidiana?

- A) Porque únicamente nos afectan a nosotros, sin importar los demás.

- B) Porque las decisiones que tomamos nos afectan a nosotros y afectan a otros.
- C) Porque ocasionamos conflictos cuando tomamos decisiones de manera responsable y pacífica.
- D) No son importantes las decisiones que tomamos.