
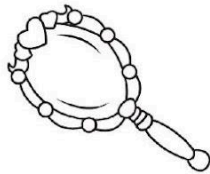
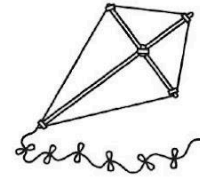
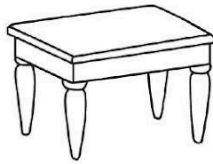


A Escribe el nombre de los siguientes objetos, separados en sílabas, después cuéntalas. Observa el ejemplo.


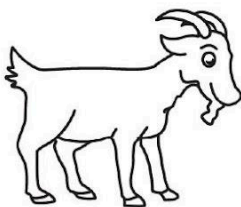



si - lla

2 sílabas



B Encierra con azul los objetos que sus nombres terminan igual y con amarillo los nombres que inician igual.



Infografía de la salud

La infografía es un texto breve que tiene imágenes llamativas, para que las personas pueden leer y entender de manera fácil la información más importante sobre un tema.

Texto creado con fines didácticos MEAD.




Lee la siguiente infografía, luego escribe las características donde corresponda y contesta las dos preguntas del final.


imágenes texto breve título subtítulos


COVID-19


Virus de fácil contagio, que daña tu sistema de defensas, afectando tus pulmones principalmente.




Síntomas



 Fiebre



 Esgurrimiento nasal



 Tos



 Dolor corporal

Prevención


 Lavado de manos


 Uso de cubrocas


 Estornudar en el codo

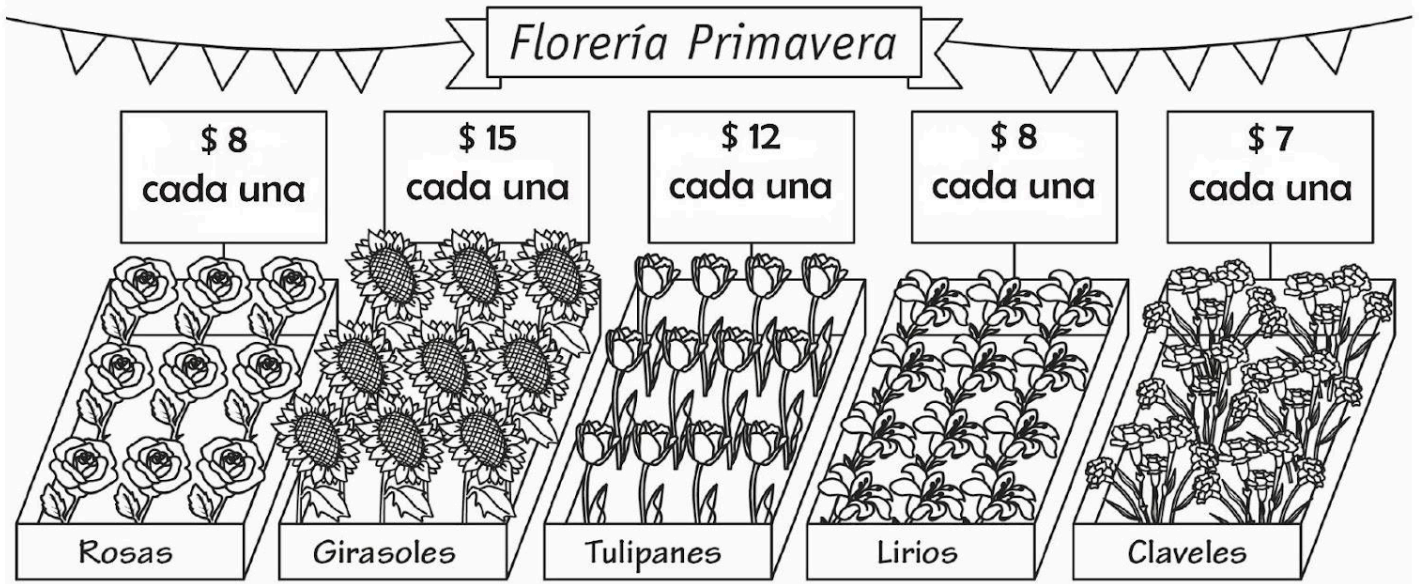

 Distancia social

¿De qué trata la infografía?

¿Qué te pareció más importante para cuidar tu salud?



Resuelve los siguientes problemas. Puedes apoyarte con tu libro de Matemáticas en las páginas 107 a la 112.



1. Juan y su mamá organizarán una fiesta que adornarán con arreglos florales, ayer compraron 30 flores ¿cuántas flores necesita para completar 50?

Resultado: _____

2. Cuando Juan y su mamá estaban por terminar los arreglos se dieron cuenta que les faltaría 1 girasol y 1 rosa ¿Cuánto gastarían en esas 2 flores?

Resultado: _____

3. Dibuja las flores que te gustaron y completa el total.

+	=	86
+	=	40

VISITA:

<https://materialeducativo.org/>

&

<https://materialeseducativos.m>

X