

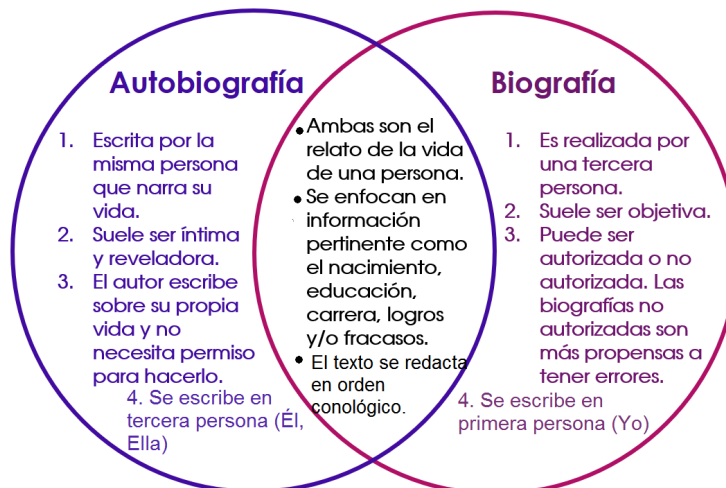


FECHA:

NOMBRE DEL ALUMNO:

INSTRUCCIONES: Lee los textos de las págs. 20 y 21 y completa la tabla del libro SEP de la pág. 22

Aspectos	Texto 1 "Arreola, Juan José"	Texto 2 "Memoria y olvido"
Tipo de texto		
Posición del narrador: uso de persona gramatical (pronombres)		
Forma de presentar los hechos desde un punto de vista impersonal		
Forma de presentar los hechos desde un punto de vista personal		
Orden en que se narran los acontecimientos		





INSTRUCCIONES: Resuelve el desafío 6 del libro SEP.

6 Vamos a completar

Consigna 1

En equipos de tres compañeros resuelvan estos problemas.

1. Para comprar un juego de mesa yo aporté un quinto del total del precio, mi hermana María la sexta parte y mi papá el resto. ¿Qué parte del costo del juego aportó mi papá? Si pagamos \$90, ¿cuánto dinero puso cada uno?

2. ¿Qué peso pondrían en el platillo izquierdo para que la balanza se mantenga en equilibrio?





ESCUELA PRIMARIA NARCISO MENDOZA
CCT. 17DPR0583R CUAUTLA
SEXTO GRADO
CIENCIAS NATURALES

ACTIVIDAD

6

INSTRUCCIONES: Responde las preguntas. Consulta la pág. 24 del libro SEP.

1.- ¿De qué se encargan las proteínas llamadas anticuerpos?

2.- ¿Por qué se dice que el sistema antígeno-anticuerpo es específico?

3.- ¿Qué pasa cuando el sistema inmunológico ya ha producido anticuerpos contra algún microorganismo o virus que causó la enfermedad?

4.- ¿Qué ocurre cuando nos introducen en el cuerpo una vacuna que fue preparada con virus y bacterias debilitados?

5.- ¿Cuáles son las vacunas que forman parte del esquema de vacunación registrado en la Cartilla Nacional de Vacunación?



Imag



ESCUELA PRIMARIA NARCISO MENDOZA
CCT. 17DPR0583R CUAUTLA
SEXTO GRADO
GEOGRAFÍA

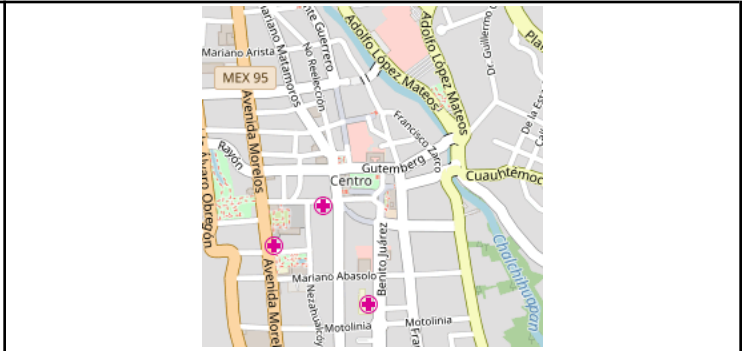
ACTIVIDAD

5

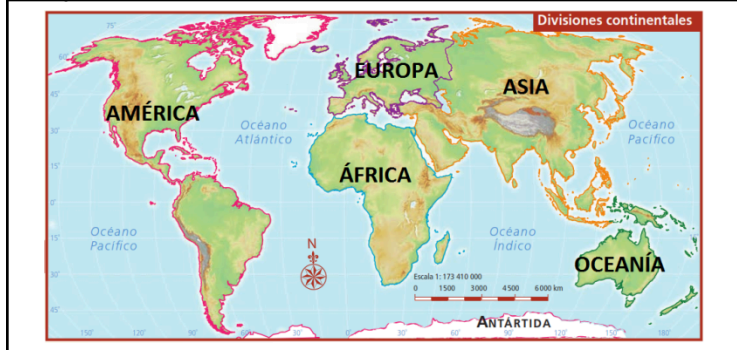
INSTRUCCIONES: Escribe debajo de cada imagen ESCALA GRANDE o ESCALA PEQUEÑA, según cada caso.



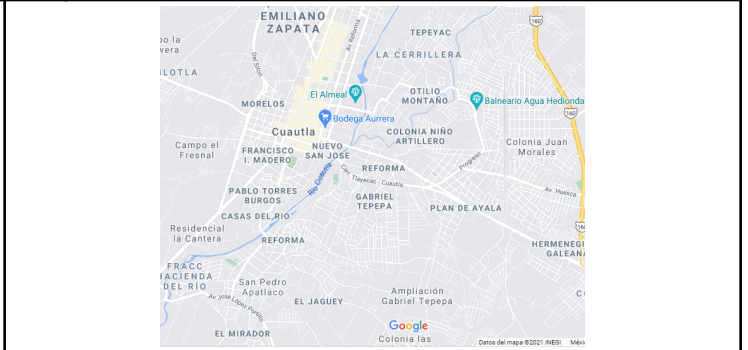
1



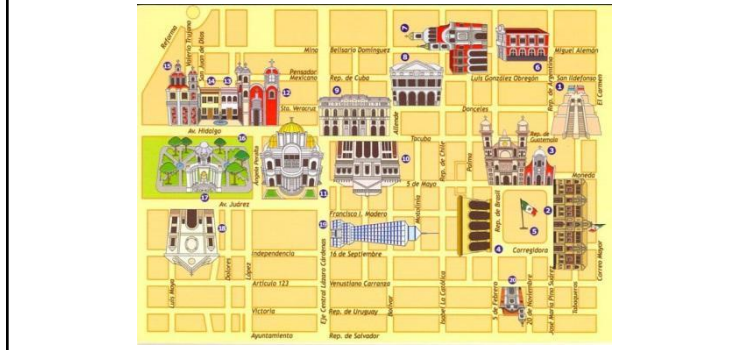
2



3



4



5



6

