

**SOAL SUMATIF AKHIR SEMESTER
UPTD SDN PENGAJARPEDIA
TAHUN PELAJARAN 20../20..**

Mata Pelajaran	: Matematika	Nama	:
Kelas	: IV (Empat)	Hari/Tanggal	:
Semester	: Ganjil	Nilai	: <input type="text"/>

- I. **Berilah tanda (x) pada huruf a, b, c, atau d pada jawaban yang paling benar!**
- Jumlah 180 juta dan 840 juta adalah. . .
 - 960 juta
 - 1.010 juta
 - 1.020 juta
 - 1.200 juta
 - Selisih dari 23 triliun dan 17 triliun yaitu...
 - 3 triliun
 - 4 triliun
 - 5 triliun
 - 6 triliun
 - Pak Anton akan membangun rumah di kota Makmur. Biayanya adalah 1.100.000.000 rupiah untuk membeli lahan, dan 2.300.000.000 rupiah untuk pembangunan rumah. Biaya total yang harus dibayar Pak Anton adalah...rupiah
 - 3.400.000.000
 - 3.500.000.000
 - 4.300.000.000
 - 1.200.000.000
 - Ada 30 buah apel. Apel tersebut dibagi sama rata di antara 5 orang. Banyak apel yang diterima setiap anak yaitu...
 - 4 buah apel
 - 5 buah apel
 - 6 buah apel
 - 8 buah apel
 - Dina memiliki 24 cokelat. Agar setiap anak menerima 6 cokelat dari Dina, maka banyaknya anak yang diberikan cokelat yaitu..
 - 4 orang
 - 6 orang
 - 8 orang

d. 12 orang

6. Perhatikan pernyataan berikut!

12 permen dibagikan kepada 6 anak. Setiap anak mendapatkan 2 permen. 12 permen dibagikan kepada 3 anak. Setiap anak mendapatkan 4 permen.

Apabila banyak anak berkurang setengahnya, maka jumlah permen yang diterima setiap anak akan....

- a. berkurang menjadi setengahnya
- b. bertambah menjadi 2 kali lipat
- c. berkurang menjadi 2 kali lipat
- d. bertambah menjadi setengahnya


7. Perhatikan operasi hitung bilangan berikut!

$$\begin{array}{r} 30 : 3 = 10 \\ \downarrow \times 2 \\ 30 : 6 = 5 \end{array} \quad \left. \begin{array}{l} \\ \end{array} \right\} : \square$$

Angka yang tepat untuk mengisi kotak di atas yaitu...

- a. 1
 - b. 2
 - c. 3
 - d. 4
8. Ada 5 bungkus dengan masing-masing 12 permen di dalamnya. Kemudian semua permen itu dibagikan kepada 4 anak. Banyak permen yang akan didapat setiap anak yaitu. . .
- a. 12 orang
 - b. 15 orang
 - c. 25 orang
 - d. 27 orang
9. Kartika memiliki 6 kardus dengan masing-masing 8 botol susu di dalamnya. Semua susu tersebut akan dibagikan kepada 4 orang. Banyak susu yang akan didapat setiap orang yaitu...
- a. 8 botol susu
 - b. 10 botol susu
 - c. 12 botol susu
 - d. 16 botol susu

10. Perhatikan gambar berikut!



Semua permen di atas akan dibagikan kepada 3 anak. Setiap anak akan mendapatkan....

- a. 8 permen
- b. 10 permen
- c. 12 permen
- d. 15 permen

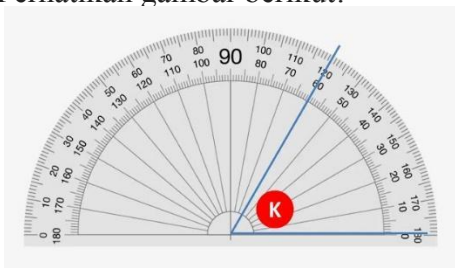
11. Perhatikan gambar berikut!



Semua potongan cokelat di atas akan dibagikan kepada 6 siswa. Setiap siswa akan mendapatkan. . .

- a. 2 cokelat
- b. 3 cokelat
- c. 4 cokelat
- d. 5 cokelat

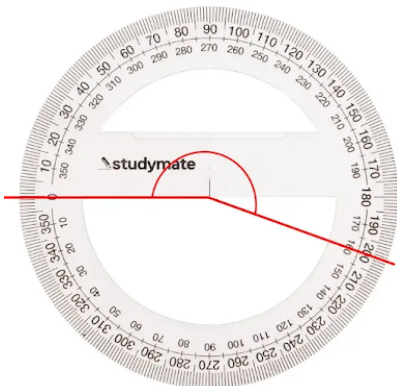
12. Perhatikan gambar berikut!



Sania melakukan pengukuran sudut. Diperoleh hasil seperti gambar di atas. Ukuran sudut K yaitu...

- a. 50°
- b. 60°
- c. 110°
- d. 120°

13. Perhatikan gambar berikut!



Hasil dari pengukuran sudut di atas yaitu...

- a. 20°
- b. 180°
- c. 200°
- d. 215°

14. Hasil dan sisa pembagian antara 45 dan 7 yaitu...

- a. 5 dan 2
- b. 5 dan 3
- c. 6 dan 2
- d. 6 dan 3

15. Witan membagikan 68 cokelat sama rata kepada 8 anak. Cokelat yang akan diterima setiap anak dan sisanya yaitu...

- a. 7 dan 4
- b. 7 dan 5
- c. 8 dan 4
- d. 8 dan 5

16. Perhatikan pembagian susun berikut!

$$\begin{array}{r} 8 \\ 6 \overline{) 49} \\ \underline{48} \\ 1 \end{array}$$

Hasil dari pembagian di atas yaitu...

- a. 1
- b. 8
- c. 48
- d. 49

17. Coki membagikan 48 pensil sama rata kepada 2 anak. Setiap anak akan memperoleh pensil sebanyak...

- a. 12 buah
- b. 14 buah
- c. 16 buah
- d. 18 buah

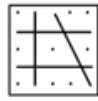
18. Dina dan 5 temannya akan membuat 720 origami berbentuk ayam. Jika setiap anak membuat origami dalam jumlah yang sama, origami yang harus dibuat setiap anak yaitu...

- a. 12
- b. 15
- c. 120
- d. 150

19. Perhatikan gambar berikut!



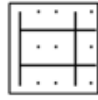
(1)



(2)



(3)



(4)

Segi empat dengan empat sisi yang panjang sama ditunjukkan oleh gambar nomor yaitu...

- a. satu
- b. dua
- c. tiga
- d. empat

20. Perhatikan gambar berikut!



(a)



(b)



(c)



(d)

Garis-garis yang saling tegak lurus ditunjukkan oleh huruf...

- a. (a) dan (b)
- b. (b) dan (c)
- c. (c) dan (d)
- d. (d) dan (b)

21. Dede akan menggambar dua garis yang saling tegak lurus. Kedua garis tersebut harus digambar dengan membentuk sudut...

- a. lancip
- b. tumpul
- c. siku-siku
- d. berpelurus

22. Perhatikan diagram berikut!



Diagram di atas menunjukkan kegemaran siswa kelas 4, 5, dan 6 SD Harapan. Banyaknya siswa yang gemar membaca yaitu...

- a. 10 orang
- b. 15 orang
- c. 25 orang
- d. 30 orang

23. Perhatikan diagram berikut!

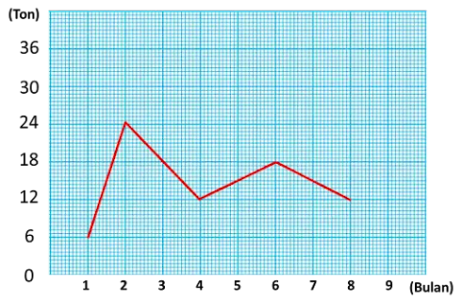


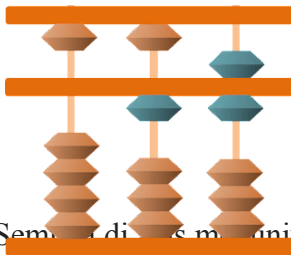
Diagram garis tersebut menunjukkan penjualan jeruk oleh PT Makmur Sejahtera. Penjualan terbanyak terjadi pada bulan ke...

- a. 2 (Februari)
- b. 3 (Maret)
- c. 6 (Juni)
- d. 8 (Agustus)

24. Ada 433 orang siswa yang akan masuk ke kebun binatang. Harga tiket masuk 4.600 rupiah per orang. Perkiraan uang yang harus dibayar oleh semua siswa yaitu...

- a. 1.000.000
- b. 1.500.000
- c. 1.800.000
- d. 2.000.000

25. Perhatikan gambar berikut!



Sengker di atas menunjukkan bilangan ..

- a. 15
- b. 16
- c. 17
- d. 18

II. Jawablah Pertanyaan di Bawah ini dengan benar !

1. Bilangan yang menyatakan 10 kali 450 miliar yaitu

2. 54 juta 410 ribu – 3 juta dan 560 ribu = . . .
3. $2800 : 700 = \dots$
4. $2.560 : 16 = \dots$
5. $2.36 \times 8 =$
6. $4.321 \times 13 =$
7. $2.367 : 12 =$
8. Gambarlah belah ketupat!
9. Bulatkan angka berikut ke nilai puluhan ribu terdekat!
 - 24.000
 - 67.000
10. Hitunglah operasi berikut menggunakan sempoa!
 - $24 + 12 =$
 - $45 + 15 =$
 - $75 + 105 =$
 - $24 - 12 =$

III. Jawablah Uraian Soal di Bawah ini !

1. $738 : 6$
2. 5.145×3
3. Gambarlah sudut 55° !
4. Gambarlah trapesium!
5. Buatlah diagram garis dari data berikut!

No.	Bulan	Banyak Panen Apel (Ton)
1	Januari	5
2	Februari	3
3	Maret	2
4	April	6
5	Mei	4
6	Juni	5

