

**PENILAIAN TENGAH SEMESTER I
TAHUN PELAJARAN**

LEMBARAN SOAL

Mata Pelajaran : Matematika
Kelas : 4 (Empat)
Hari/Tanggal :
Waktu :

PETUNJUK UMUM :

1. *Tulislah nama, kelas, dan no. urutmu di sebelah kanan atas pada lembar jawaban.*
2. *Bacalah setiap soal dengan sebaik-baiknya.*
3. *Kerjakanlah lebih dahulu soal yang kamu anggap lebih mudah.*
4. *Semua jawaban dikerjakan pada lembar jawaban yang telah tersedia.*
5. *Periksalah kembali pekerjaanmu sebelum lembar soal dan lembar jawaban kamu serahkan kepada guru.*

----- SELAMAT BEKERJA -----

I. Isilah tanda silang (X) pilihan huruf A, B, C dan D pada jawaban yang benar!

1. Perhatikan bilangan berikut!

15.000.000

Bilangan di atas dibaca....

- A. Lima belas ribu
- B. Lima belas miliar
- C. Lima belas juta
- D. Lima belas triliun

2. Pak Mahendra memiliki tabungan di bank sebanyak dua puluh lima miliar tiga ratus juta. Uang Pak Mahendra dapat ditulis....

- A. 25.300.000
- B. 25.300.000.000
- C. 25.300.000.000
- D. 250.300.000.000

3. Perhatikan kedua bilangan berikut!

555.850.000 555.085.000

Tanda ketidaksamaan yang sesuai yaitu...

- A. >
- B. <
- C. =
- D. \geq

4. Perhatikanlah gambar berikut ini!



Selisih harga kedua benda tersebut yaitu
Rp

- A. 3 juta 200 ribu
 - B. 4 juta 200 ribu
 - C. 3 juta 300 ribu
 - D. 4 juta 300 ribu
5. Jumlah 180 juta dan 810 juta adalah. .
- A. 750 juta
 - B. 980 juta
 - C. 985 juta
 - D. 990 juta
6. Ada 20 buah apel. Apel tersebut dibagi sama rata di antara 5 orang. Banyak apel yang diterima setiap anak yaitu...
- A. 4 buah apel

- B. 5 buah apel
- C. 6 buah apel
- D. 8 buah apel

7. Perhatikan gambar berikut ini!

$$\begin{array}{rcl}
 30 : 3 = 10 & & \\
 \downarrow \times 2 & & \\
 30 : 6 = 5 & &
 \end{array}
 \quad : \quad \boxed{}$$

Angka yang tepat untuk mengisi kotak di atas yaitu....

- A. 1
 - B. 2
 - C. 3
 - D. 4
8. Tali sepanjang 24 m akan dipotong menjadi beberapa bagian. Setiap bagian memiliki panjang 4 m. Banyaknya potongan tali yang dihasilkan....
- A. 4 buah
 - B. 5 buah
 - C. 6 buah
 - D. 7 buah

9. Perhatikan gambar di bawah ini!




Kelereng yang dimiliki Yudi lebih banyak kali dibandingkan dengan kelereng

Dika

- A. 2
 - B. 4
 - C. 6
 - D. 8
10. Hasil dari $400 : 4 = \dots$
- A. 4
 - B. 40
 - C. 10
 - D. 100
11. Ada 5 bungkus dengan masing-masing 12 permen di dalamnya. Kemudian semua

permen itu dibagikan kepada 4 anak. Banyak permen yang akan didapat setiap anak yaitu. . .

- A. 12 orang
 - B. 15 orang
 - C. 25 orang
 - D. 27 orang
12. Ibu Sari akan membagikan 48 buah baju kepada 3 anak. Setiap anak akan mendapatkan...buah baju
- A. 12
 - B. 16
 - C. 24
 - D. 27
13. Bu Rini memiliki 40 butir telur. Semua telur tersebut akan dibagikan kepada 5 orang, maka setiap orang akan mendapatkan...
- A. 4 telur
 - B. 6 telur
 - C. 7 telur
 - D. 8 telur
14. Hasil dari $28 : 2$ yaitu...
- A. 9
 - B. 12
 - C. 14
 - D. 16
15. Hasil dari $65 : 5$ yaitu...
- A. 8
 - B. 12
 - C. 13
 - D. 15
16. Besar sudut satu putaran yaitu...
- A. 90°
 - B. 180°
 - C. 360°
 - D. 420°
17. Perhatikan gambar berikut!



Beberapa hewan membuka mulutnya sehingga membentuk sudut seperti gambar di atas. Mulut hewan yang membentuk sudut paling besar yaitu. .

- A. hewan nomor 1
- B. hewan nomor 2
- C. hewan nomor 3
- D. hewan nomor 4

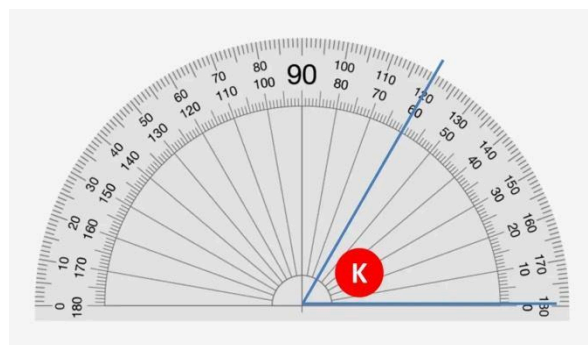
18. Perhatikan gambar berikut!



Wiguna menggerakkan kedua tangannya seperti pada gambar. Sudut yang terbentuk dari kedua tangan tersebut yaitu...

- A. 45°
- B. 60°
- C. 90°
- D. 120°

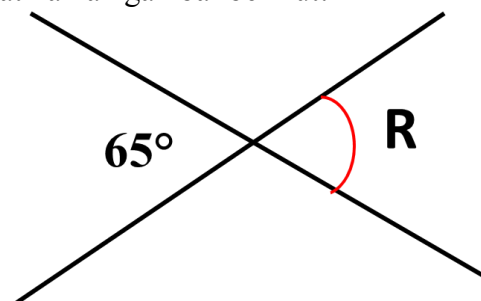
19. Perhatikan gambar berikut!



Fika melakukan pengukuran sudut. Diperoleh hasil seperti gambar di atas. Ukuran sudut K yaitu...

- A. 50°
- B. 60°
- C. 110°
- D. 120°

20. Perhatikanlah gambar berikut!



Besar sudut R pada dua garis yang saling berpotongan yaitu...

- A. 25°
- B. 30°
- C. 60°
- D. 65°

II. Jawablah pertanyaan berikut dengan benar!

1. 4 juta 400 ribu – 3 juta dan 600 ribu = . . .
2. $2800 : 700 = . . .$
3. Tunjukkan idemu dalam menghitung $48 : 3!!$
4. Denita memiliki 3200 rupiah dan Dayu memiliki 800 rupiah. Uang yang dimiliki Denita berapa kali lipat dari uang yang dimiliki oleh Dayu?!
5. Gambarkanlah sudut 125° !