



DINAS PENDIDIKAN, KEBUDAYAAN, RISET DAN TEKNOLOGI
PENILAIAN AKHIR SEMESTER GANJIL
TAHUN PELAJARAN 20../20..

MATA PELAJARAN : **E K O N O M I**

KELAS : X (SEPULUH)

PEMINATAN : ILMU-ILMU SOSIAL

HARI/TANGGAL :

PUKUL : 07.30 – 09.30

WAKTU : 120 MENIT

- PERHATIAN : 1. Semua jawaban dikerjakan pada lembar jawaban yang disediakan.
 2. Gunakan waktu yang disediakan dengan sebaik-baiknya.

I. Hitamkan satu alternatif jawaban yang paling tepat: A, B, C, D, atau E pada lembar jawaban yang disediakan !

1. Perhatikan pernyataan dari para ahli berikut tentang ilmu ekonomi :

1. Ilmu ekonomi adalah ilmu pengetahuan yang mempelajari tingkah laku manusia dalam hubungannya dalam pemenuhan kebutuhannya yang langka
2. Ilmu ekonomi sebagai sebuah kajian dalam rangka untuk menambahkan jumlah pengeluaran yang bertujuan untuk meningkatkan taraf hidup
3. Ilmu ekonomi adalah ilmu pengetahuan yang mempelajari usaha manusia kearah kemakmuran
4. Ilmu ekonomi sebagai suatu kajian tentang peraturan yang bisa menentukan kekayaan
5. Ilmu ekonomi sebagai suatu kajian mengenai hukum di dalam berbagai jenis golongan masyarakat

Yang merupakan pengertian ilmu ekonomi menurut Adam Smith adalah....

- | | |
|------|------|
| A. 1 | D. 4 |
| B. 2 | E. 5 |
| C. 3 | |

2. Yunus seorang pelajar di MAN 1 Poncowati, ia merupakan anak yang soleh dan rajin, ia anak yang aktif di organisasi ROIS, setiap hari berangkat ke madrasah selalu saja lebih awal datang karena ia akan membersihkan dan mempersiapkan karpet masjid untuk digunakan shalat dhuha berjamaah, ia tidak sendirian saja tetapi dengan anggota ROIS yang lainnya.

Tabel berikut menunjukan kebutuhan berdasarkan intensitasnya

1	Sepatu	3	Handphone	5	Pakaia n
2	Sepeda Motor	4	Tas Punggung	6	Laptop

Jika melihat tabel tersebut, kebutuhan tersier seorang pelajar, ditunjukan pada nomor....

- | | |
|----------------|----------------|
| A. 1, 3, dan 5 | D. 2, 3, dan 6 |
| B. 2, 4, dan 6 | E. 3, 4, dan 6 |
| C. 1, 4, dan 5 | |

3. Menjelang akhir bulan Ramadhan, biasanya masyarakat di Indonesia disibukkan dengan kegiatan rutin tahunan yaitu mudik dan persiapan

lebaran, pasar pasar baik tradisional maupun modern ramai dikunjungi untuk membeli kebutuhan lebaran, misal membeli pakaian, kebutuhan pokok seperti daging, ketupat dan lalin lain, pada masa seperti ini harga barang akan naik dikarenakan kebutuhan meningkat, Pak Musa yang merupakan masyarakat pada umumnya selalu mempersiapkan uangnya agar dapat memenuhi kebutuhan menjelang lebaran, uang yang dimilikinya sebesar Rp.5.000.000,- uang tersebut digunakannya untuk dibelikan baju buat anaknya yang berjumlah empat orang anak, yang masing-masing nya dibelikan 2 buah set pakaian dengan total

WEBSITE : www.kherysuryawan.id

harganya Rp.2.400.000,- sedangkan keluarga pak Musa belum membayar zakat sebesar Rp.40.000,- per orang. Sikap kalian melihat persoalan di atas adalah....

- A. Mendahulukan kebutuhan pokok karena makanan lebih penting dari pada pakaian
- B. Kebutuhan pakaian dan makanan yang didahulukan dari pada membayar zakat
- C. Zakat didahulukan dibayar agar sisanya bisa dibelikan pakaian
- D. Tidak membeli makanan dan pakaian karena zakat lebih utama dibandingkan keduanya
- E. Uang untuk membeli pakaian sebaiknya di tabung agar bisa hemat

4. Wilayah Indonesia begitu luas membentang dari Sabang hingga Merauke, suku bangsa yang ada begitu banyak, menurut data Badan Pusat Statistik (BPS) berdasarkan SP2010 jumlah suku di Indonesia ada 1.331, berdasarkan data BPS juga merilis jumlah pulau yang ada di Indonesia yaitu 17.504 pulau, yang telah dilaporkan ke PBB pulau yang memiliki nama sebanyak 16.056 pulau, dan dengan jumlah penduduk 256 juta jiwa, selain itu juga sumber daya alam yang melimpah.

Masyarakat Indonesia yang heterogen ini menyebabkan semakin sempitnya kesempatan kerja karena penyedia lapangan pekerjaan masih sedikit. Ini menyebabkan kesenjangan sosial ekonomi terlihat nyata disekitaran kita, dimana jumlah angka kriminal semakin banyak, disebabkan kebutuhan masyarakat meningkat tajam sedangkan alat pemenuhan kebutuhan nya semakin berkurang. Bisa kita buktikan sejumlah SPBU di sekitaran kita kendaraan umum maupun pribadi mengantri panjang hanya untuk membeli premium ataupun solar selain itu juga ada antrian Gas LPG disekitaran tempat.

Menurut kalian, pokok masalah kelangkaan pada artikel tersebut adalah....

- A. Antrian premium dan solar sehingga kendaraan umum maupun pribadi yang panjang
- B. Sumber daya alam yang terbatas
- C. Kesenjangan sosial ekonomi semakin nyata ditunjukkan dengan Kriminalitas meningkat
- D. Penyedia lapangan pekerjaan yang terbatas
- E. Sumber daya manusia tidak memiliki keterampilan

5. Daud merupakan alumni dari Madrasah Aliyah Negeri 1 Poncowati yang telah lulus 4 tahun lalu, ia kuliah dan masuk ke jurusan design grafish atau Desain komunikasi Visual di ITB Bandung, selama perkuliahan Daud termasuk mahasiswa yang aktif dan berprestasi, ia aktif di organisasi ke mahasiswaan dan juga sempat menjadi gubernur BEM Fakultas hanya satu

periode. Prestasi Daud di bidang Desain ia pernah meraih juara satu desain gambar poster dengan tema “hari kemerdekaan Indonesia” tingkat nasional di Jakarta, ia telah mengalahkan sejumlah peserta dari berbagai daerah yang ada di Indonesia, kesempatan ini menjadi salah satu curriculum vitae yang dimiliki Daud sebagai pengalaman nya, lalu ia pernah juga diminta kementerian komunikasi dan informasi untuk membuat gambar poster tentang Perkembangan Era Digital dan ia diberi bayaran yang cukup lumayan.

Sekarang ia telah menyelesaikan kuliahnya dengan hasil yang sangat memuaskan, dan ia diberikan beasiswa untuk melanjutkan kuliah S2 karena prestasinya tersebut. Oleh karena itu, banyak sekali tawaran pekerjaan dari berbagai perusahaan, ada perusahaan iklan yang menawarkan gaji Rp.2.000.000/bulan, lalu dari perusahaan entertainment menawarkan gaji yaitu Rp.700.000/minggu, dan perusahaan film juga memberikan tawarannya dengan gaji Rp.35.000.000/tahun karena Daud masih ingin melanjutkan kuliah S2 nya ia memutuskan untuk tidak mengambil salah satu tawaran pekerjaan tersebut.

Dilihat dari problematika di atas, maka Daud kehilangan biaya peluang sebesar....

- A. Rp.24.000.000,- D. Rp.35.000.000,-
- B. Rp.33.600.000,- E. Rp. 2.000.000,-
- C. Rp. 700.000,-

6. Gaya hidup sehat merupakan suatu rujukan untuk hidup sehat dan bahagia, terutama di era digital saat ini perkembangan informasi semakin cepat, terlebih info mengenai kesehatan dan hidup sehat semakin cepat menyebar dimana mana, melalui berbagai aplikasi info tersebut disebarkan ada yang melalui twitter, Instagram, facebook dan lain sebagainya, sehingga bisa menjadi hal yang luar biasa (viral) jika info yang diterima salah atau hoax. Gaya hidup sehat sudah merambah dalam kehidupan masyarakat, misalnya tips menu makan sehat, tips menjaga kebugaran tubuh lalu tips dan resep makanan yang sehat sudah banyak ditemui di Internet.

Hal ini menjadi pelecute semangat untuk kita semua agar kita menjadi lebih baik dan sehat, begitu juga bagi penjual kantin di MAN 1 Poncowati bernama bu Siti Fatimah aka Syifa. Ia menjual makanan sehat dan layak konsumsi bebas dari MSG karena bahan yang dipakai hampir semuanya dari bahan organik yang ia tanam Bersama kelompok tani di kebun mereka, bu Syifa merupakan orang yang sangat selektif dalam menjual makanan, karena harus bersih, dan rasa yang nikmat, sehingga di Kantin tempat ia berjualan selalu ramai dan habis terjual dengan laba yang besar, selain harga yang murah tempat ia berjualan juga selalu diperhatikannya agar tetap bersih wangi dan rapih, siswa/i yang berbelanja ditempatnya pun menjadi nyaman dan bahagia,

Menurut kalian motif yang dipakai oleh Bu Syifa

dalam melakukan kegiatan jual beli tersebut adalah....

- A. Motif memperoleh keuntungan
- B. Motif mengikuti gaya hidup
- C. Motif menolong sesama manusia
- D. Motif memperoleh penghargaan
- E. Motif memperoleh Kekuasaan

7. Untuk memenuhi kebutuhan hidupnya manusia butuh pengorbanan, yaitu dengan cara bekerja. Dengan bekerja manusia bisa mendapatkan hasil atau upah guna memenuhi kebutuhan hidup sehari-harinya, seperti membeli makanan pokok, membeli alat penunjang pekerjaan, membeli pakaian dan lain sebagainya agar tercipta kehidupan yang layak dan bisa mencapai kemakmuran.

Perhatikan hal hal berikut :

1. Hemat
 2. Rasional dan ekonomis
 3. Menentukan kebutuhan yang utama
 4. Tabungan
 5. Perencanaan yang matang
- Dari kelima hal di atas yang bukan merupakan prinsip ekonomi....

- | | |
|------|------|
| A. 1 | D. 4 |
| B. 2 | E. 5 |
| C. 3 | |

8. Indonesia pernah mengalami krisis moneter pada tahun 1998, dimana nilai tukar rupiah terhadap dollar merosot tajam yang semula dibulan juni 1997 nilai tukar rupiah Rp. 2.380/dollar, mendadak pada Januari 1998 menjadi 11.000/dollar selanjutnya terus merosot dilevel 14.000/dollar, pada Desember 1998 rupiah mulai menguat secara perlahan hingga mencapai 8.000/dollar. Imbas dari krisis tersebut masuk dalam ranah politik dimana terjadi penurunan presiden Suharto dari kursi kepresidenan dan digantikan oleh B.J. Habibie. Yaitu demo besar besaran yang dilakukan mahasiswa 1998 di Gedung DPR/MPR RI yang dikenal dengan gerakan Reformasi.

Jika kalian sudah membaca ilustrasi tersebut, maka ilustrasi di atas termasuk dalam ilmu ekonomi....

- A. Makro
- B. Terapan
- C. Mikro
- D. Pertahanan
- E. Deskriptif

9. Keputusan dilakukan dengan cara mengumpulkan data dan informasi yang ada dalam realitas kehidupan meliputi setiap unsur kehidupan baik individu, keluarga masyarakat dan sebagainya guna mencari jalan keluar untuk pemenuhan kebutuhan dan dapat dikaji secara cermat

Ini merupakan metode dalam ilmu ekonomi yaitu....

- A. Metode Statistika
- B. Metode Matematika
- C. Metode Keilmuan
- D. Metode Deduktif
- E. Metode Induktif

10. Perkembangan zaman menuntut setiap orang melakukan kegiatan yang bersifat cepat dan instan, pada saat ini waktu berjalan semakin cepat tanpa terasa, bahkan jika kita melakukan perjalanan pun waktu seakan terasa singkat dan jarak menjadi dekat karena pengaruh perkembangan teknologi yang semakin canggih, termasuk juga dalam pelayanan diberbagai sektor. Salah satunya pelayanan simpan pinjam yang dilakukan oleh bank konvensional kebanyakan dari kita melakukan kegiatan yang bersifat pinjaman, karena bank pada saat ini memberikan kemudahan untuk melakukan pinjaman, baik syarat-syaratnya lebih dipermudah dan gampang dilakukan pencairan.

Hal ini juga dialami oleh individu individu seperti

dalam kehidupan kita, meminjamkan barang atau uang dengan jaminan sangat mudah ditemui dalam keseharian kita, termasuk kita yang ada di madrasah Aliyah, contoh Adam meminjam uang dengan Ayub sebesar Rp.50.000,- karena Adam anak yang baik dan soleh ia berkomitmen dengan Ayub akan mengembalikan uang tersebut dalam 2 hari dan Adam menjanjikan pengembalian uang disertai tambahan sebesar Rp.10.000,-. 2 hari kemudian uang tersebut dikembalikan oleh Adam beserta tambahan yg telah dijanjikannya.

- Tingginya penggunaan handphone menyebabkan persegeran moral.
- Penjualan handphone menunjukkan kenaikan angka penjualan yang signifikan.
- Industri 4.0 bukan hanya membahas handphone semata tapi permasalahan yang kompleks.

- D. Peranan apa dan bagaimana orang tua untuk melindungi anak remaja nya.
- E. Pangsa pasar yang terbesar berada di Indonesia terutama penjualan handpone.

13. Berikut ini gambar situasi Bursa Efek Indonesia.



Suatu cara untuk mengatur atau mengorganisasikan segala aktivitas perekonomian dalam masyarakat untuk mencapai tujuan tertentu. Pernyataan tersebut merupakan pengertian tentang....

- A. Sistem Pasar
- B. Ekonomi pasar
- C. Ekonomi Mikro
- D. Metode Induktif
- E. Sistem Ekonomi

14. Amerika Serikat tergolong sebagai negara dengan perekonomian termaju di dunia, beberapa merek-merek terkenal di dunia teknologi berasal dari negara yang memiliki Pendapatan Domestik Bruto (PDB) sebesar US\$ 19,39 triliun ini. Merek-merek tersebut diantaranya seperti Microsoft, Apple, Google, Amazon, Twitter, Facebook dan masih banyak lagi. Perhatikan tabel berikut !

1	Memonopoli perdagangan
2	Kebebasan individu memilih pekerjaan
3	Munculnya persaingan tidak sehat
4	Orientasi Produksi pada Keuntungan yang maksimal
5	Persaingan bebas

Pernyataan di atas merupakan dari sistem ekonomi pasar (liberal/Kapital), *kecuali*....

- A. 1, 2
- B. 2, 3
- C. 4, 5
- D. 1, 3
- E. 2, 4

15. Pemerintah mengendalikan semua kegiatan dan masalah ekonomi dinegaranya, negara juga menghilangkan pembeda antara si kaya dan si miskin, kemudian negara juga mudah mengatur kebutuhan masyarakatnya baik produksi barang dan jasa, Lalu keberadaan warga negara dibatasi pergerakannya agar dapat dikendalikan oleh pemerintah dan tidak memberikan kebebasan pada warga negaranya karena semua sumber daya baik alam maupun manusia dikuasi oleh negara, dan warga negaranya sulit dalam mengembangkan kreatifitas sehingga negaranya menjadi tertutup sulit mendapatkan akses dari luar atau informasi masuk kedalam negaranya.

Negara yang menganut sistem ekonomi tersebut mempunyai kelemahan, salah satu kelemahan dari sistem ekonomi sosialis merujuk dari ilustrasi diatas

adalah....

- A. Pemerintah mengendalikan semua kegiatan dan masalah ekonomi dinegaranya
- B. Negara juga mudah mengatur kebutuhan masyarakatnya baik produksi barang dan jasa
- C. Sulit mendapatkan akses dari luar atau informasi masuk kedalam negaranya
- D. Warga negaranya sulit dalam mengembangkan kreatifitas
- E. Semua jawaban salah

16. Bangsa Indonesia merupakan bangsa yang besar, bangsa yang dari dulu selalu menjadi primadona bagi bangsa lain untuk datang ke Indonesia, hanya untuk melihat keindahan alam, ramah tamah warganya, adat budaya, bahasa yang beraneka ragam, ekosistem yang bermacam-macam, keindahan laut dan lain sebagainya, semua kekayaan yang kita miliki wajib untuk kita jaga dan lestarikan agar kita bisa menjadi insan yang bermanfaat lalu kita sepatutnya mensyukuri karunia Allah SWT tersebut.

Dari segi ekonomi merujuk dari UUD 1945, pernyataan tersebut sesuai dengan....

- A. Pasal 33 ayat 4 D. Pasal 32 ayat 1
B. Pasal 33 ayat 3 E. Pasal 31 ayat 2
C. Pasal 33 ayat 2

17. PT. Ar-Razaak adalah perusahaan manufaktur yang menjual beragam furniture, dalam satu bulan Perusahaan melakukan produksi meja sebanyak 3000 unit meja, berikut rincian biaya untuk memproduksi 3000 unit meja :

Rp.15.000.000 untuk

kayu Rp. 7.000.000

untuk upah

Rp. 2.000.000 untuk penjaga atau security untuk menjaga selama pengerjaan meja

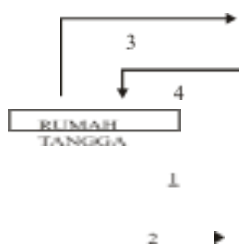
Rp.1.500.000 untuk sewa pabrik dan utilitas

lainnya Jumlah biaya produksi dari satu unit

meja adalah....

- A. Rp.10.500/unit meja D. Rp. 7.500/unit meja
B. Rp. 9.500/unit meja E. Rp. 6.500/unit meja
C. Rp. 8.500/unit meja

18. Perhatikan diagram berikut !



Dari diagram interaksi pelaku ekonomi (circular flow diagram) yang menunjukkan rumah tangga melakukan penawaran faktor produksi berupa tanah, tenaga kerja, modal dan sebagainya kepada perusahaan sebagai modal perusahaan untuk melakukan kegiatan produksi pada nomor....

- A. 1 D. 4
B. 2 E. Semua jawaban salah
C. 3

20. Baca wacana berikut !

Laju pertumbuhan jumlah penduduk dewasa ini menyebabkan begitu banyak permintaan akan kebutuhan pokok seperti pangan, Apabila terjadi bencana alam dan perubahan iklim menyebabkan banyak daerah gagal panen dan akan menyebabkan peningkatan permintaan bahan-bahan yang dulunya dihasilkan sendiri.

Yang termasuk faktor nonekonomis yang mempengaruhi permintaan adalah....

- A. Selera dari konsumen berupa bahan pokok
B. Harga barang yang melonjak naik
C. Pendapatan penduduk yang rendah
D. Kualitas barang yang dihasilkan buruk
E. Bencana alam dan perubahan iklim penyebab gagal panen

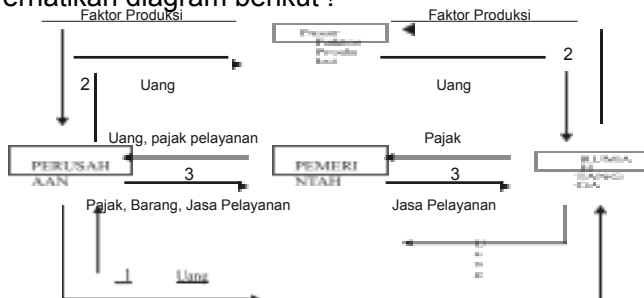
21. PT. Ar-Raihan merupakan perusahaan yang bergerak di bidang furniture, perusahaan ini memiliki sejumlah anak perusahaan diberbagai daerah daerah yang tersebar luar seluruh Indonesia, Setiap bulannya Permintaan sekitar 40 unit meja dan kursi dengan harga di kisaran Rp.100/unit, lalu harga turun menjadi Rp.50/unit permintaan naik menjadi 60 unit, maka tentukan persamaan fungsi permintaan....

- A. $P = -2.5Q + 200$
B. $P = 2.5Q + 200$
C. $P = 25Q + 200$
D. $P = -25Q + 200$
E. $P = 2.5Q + 200$

22. Hukum permintaan "dimana makin tinggi suatu barang, makin sedikit jumlah barang yang diminta atau makin rendah harga suatu barang makin banyak jumlah barang yang diminta dengan asumsi bahwa faktor-faktor lain tidak berubah" Jenis barang apa yang tidak mempengaruhi hukum permintaan....

- A. Barang Ekonomi
B. Barang Pokok

19. Perhatikan diagram berikut !

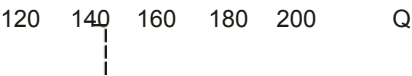


Sektor interaksi pelaku ekonomi pada circular flow diagram tersebut adalah....	20.000
A. Sektor Rumah Tangga dan Perusahaan	18.000
B. Sektor Pemerintah, uang dan Perusahaan	16.000
C. Sektor Pasar Produksi, Pemerintah dan Perusahaan	14.000
D. Sektor Pemerintah, Perusahaan dan Uang jasa pelayanan	12.000
E. Sektor Rumah Tangga, Perusahaan dan Pemerintah	

- C. Barang Makanan
- D. Barang Inferior
- E. Barang rumah tangga

23. Dahulu Penjual bakso “Al Fazza” berjualan dari hari senin sampai dengan minggu, mulai pukul 11.00 s.d 17.00 wib, Al fazza memiliki 5 orang pegawai, ia melayani pelanggan bakso yang antusias sebanyak 200 mangkok terjual setiap harinya pada tahun 2008 silam, memasuki tahun berikutnya harga bahan pembuatan bakso mengalami kenaikan begitu pula dengan harga bakso yang awal penjualan bakso dari Rp.12.000/mangkok pada saat ini menjadi Rp.20.000/mangkok dengan jumlah permintaan yang menurun menjadi 120 mangkok, yang sebelumnya mengalami kenaikan secara perlahan dari tahun ketahun hingga kenaikan yang terkini. Perhatikan kurva permintaan bakso selama lima tahun terakhir berikut !

P



Apabila harga bakso mahal, hanya orang-orang yang memiliki pendapatan tinggi yang mampu membelinya, menurut kalian argument tersebut apakah sesuai dengan hukum permintaan....

- A. Tidak, karena semua orang mampu membeli
- B. Iya, karena semakin murah akan semakin banyak yang membeli
- C. Tidak, karena kebutuhan seseorang bukan dilihat berdasarkan pendapatan tapi kemauan
- D. Iya, karena bakso banyak sekali peminatnya termasuk saya walaupun mahal
- E. Tidak tahu karena saya bukan penggemar bakso

tua nya yang sedang berangkat haji, ia pun berkomunikasi dengan lancar karena penggunaan internet yang murah dan mudah digunakan oleh siapapun.

24. Di Kabupaten Lampung Tengah tepatnya di Desa Kopel, sedang menghadapi panen besar yaitu panen padi dimana sebagian besar masyarakatnya bekerja sebagai tani, setiap panen nya menghasilkan padi yang melimpah bahkan sering mengalami kelebihan panen. Di Desa Kopel ini tidak ada koperasi yang menampung penjualan padinya, tetapi ada tengkulak yang datang langsung membeli keseluruhan padi-padi hasil panen desa Kopel tersebut. Kegiatan tengkulak tersebut sudah berlangsung puluhan tahun lamanya sehingga tidak mengalami lonjakan harga yang signifikan bahkan cenderung lebih menguntungkan tengkulak. Berdasarkan cerita singkat di atas, tengkulak masuk dalam bentuk pasar....

- A. Pasar monopsoni
- B. Pasar monopoli
- C. Pasar oligopoly
- D. Pasar monopolistic
- E. Pasar persaingan sempurna

25. Perhatikan pernyataan berikut !

- 1. Produsen perlu melakukan promosi atau memperkenalkan barang hasil produksinya kepada konsumen.
- 2. Pasar yang proses jual belinya dilakukan seminggu sekali
- 3. Pasar yang penjual dan pembelinya tidak bertemu langsung
- 4. Pasar memberikan informasi langsung terkait harga
- 5. Keadaan suatu pasar yang hanya dikuasai sepenuhnya oleh penjual

Kategori pasar monopoli ditunjukkan pada pernyataan nomor....

- | | |
|------|------|
| A. 1 | D. 4 |
| B. 2 | E. 5 |
| C. 3 | |

26. Masyarakat dunia saat ini sudah tidak terpisahkan jarak dan waktu, karena perkembangan alat teknologi komunikasi begitu massive berkembang dengan cepat, kita bisa melakukan apa saja yang berkaitan dengan komunikasi baik melalui udara yaitu telephone ataupun melihat langsung menggunakan videocall, hal ini membuat kita semakin mudah dalam melakukan komunikasi jarak jauh. Misal Muhammad yang menghubungi orang

terhalang oleh waktu, Berikut unicorn atau starup yang dimaksud yaitu Bukalapak, ZaloraIndonesia, Belanja.com, Blibli.com.

Kata unicorn berasal dari Bahasa Inggris berarti keuangan, kata tersebut digunakan untuk jenis perusahaan baru/rintisan atau starup yang bernilai diatas 1 miliar dollar AS atau 14.1 triliun rupiah (merujuk pada nilai tukar/kurs pada tanggal 12 Okt 2019 1 dollar = Rp.14.133)

Jika kalian sudah membaca artikel di atas, pasar modal dan pasar valuta asing termasuk kedalam pasar....

- A. Pasar Monopoli
- B. Pasar Oligopoli
- C. Pasar Harian
- D. Pasar Konkret
- E. Pasar Abstrak

27. Pengendalian moneter bank sentral atau Bank Indonesia :

1. Operasi pasar terbuka dipasar uang, baik rupiah maupun valuta asing
2. Penetapan tingkat diskonto
3. Penetapan cadangan wajib minimum
4. Menentukan menetapkan pemakaian instrument pembayaran
5. Melakukan pengawasan terhadap penyelenggara jasa sistem pembayaran

Yang bukan pengendalian moneter Bank sentral atau Bank Indonesia adalah....

- A. 1, 2, 3
- D. 1, 3, 4

Termasuk juga kegiatan jual beli dilakukan pula di dunia maya tanpa langsung menemui sipejual, sangat dipermudah setiap aktifitas yang kita kerjakan tanpa langsung bersentuhan. Misal pasar valuta asing dimana terjadi transaksi jual beli tanpa bertemu langsung, selain itu ada pasar modal yaitu tempat perdagangan saham, yakni bukti dari kepemilikan dari sebuah

perusahaan.

E-commerce akhir akhir ini di Indonesia sedang berkembang pula yang dinamakan Unicorn atau Starup yaitu sebuah platform atau aplikasi yang memudahkan setiap orang untuk melakukan transaksi dimana saja dan kapan saja tanpa

- B. 1, 3, 4
- C. 3, 4, 5

- E. 2, 4, 5

28. Aktifitas sehari-hari dari Pak Idris adalah penjual sayur keliling, ia berangkat dari rumahnya setelah selesai shalat subuh di masjid, ia membawa gerobak motor yang sudah dimodifikasi, langganannya kebanyakan ibu-ibu Perumahan, sayuran Pak Idris biasanya sudah habis di siang hari. Keuntungan yang Pak Idris dapatkan mampu mencukupi kebutuhan hidup sehari-hari nya termasuk membayar uang spp anaknya yg sudah kuliah, dan anaknya yg di MTsN 1 Poncowati. Selain itu Pak Idris sering sekali membayar tagihan telephone, PDAM dan Listrik di bank yang dekat dengan rumahnya, semuanya serba mudah, cepat dan proses yang tidak rumit tanpa perlu lagi datang ke kantor pelayanan yang dimaksud. Pak Idris sendiri dirumahnya membuka warung klontongan sebagai mata pencaharian tambahan untuk menutupi biaya-biaya lainnya yang tak terduga. Metode pembayaran tagihan pada bank yang dimaksud pada wacana di atas adalah....

- A. Jual beli Mata uang
- B. Safe Box Deposit
- C. Payment point
- D. Debit Card
- E. Bank Central Asia

29. Perhatikan gambar di bawah ini !

2. Kartu BCA

3. Uang



1. Cek



4. Kartu Alfamart

5. Bilyet giro

Berdasarkan gambar di atas, yang termasuk kedalam alat pembayaran nontunai adalah...

- A. 1, 2, dan 3
- B. 2, 3, dan 4
- C. 3, 4, dan 5
- D. 1, 2, dan 5
- E. 1, 3, dan 5

30. Perhatikan pernyataan berikut :

1. Bentuk uang kartal berupa logam dan kertas
2. Uang kartal adalah bukan alat pembayaran yang sah sehingga masyarakat berhak untuk tidak menerimanya
3. Uang kartal beredar di seluruh masyarakat
4. Pihak yang berhak mengeluarkan uang kartal adalah Bank Indonesia
5. Tidak praktis dan menyulitkan jika uang kartal disimpan dalam jumlah yang banyak

Pernyataan di atas yang **tidak benar** tentang uang kartal adalah....

- A. Pernyataan 1
- B. Pernyataan 2
- C. Pernyataan 3
- D. Pernyataan 4
- E. Pernyataan 5

31. Bank Muamalat adalah bank yang digagas oleh Majelis Ulama Indonesia dan Pemerintah Indonesia untuk pertama menerapkan prinsip syariah Islam, Yaitu didirikan pada tanggal....

- A. 1 November 1991
- B. 1 November 1992
- C. 2 November 1990
- D. 2 November 1991
- E. 1 November 1993

32. Tujuan yang ingin dicapai dari sistem ekonomi Pancasila adalah....

- A. Kebijakan yang merakyat
- B. Tentram dan damai
- C. Mensejahterakan dan memakmurkan masyarakat
- D. Kelonggaran untuk melakukan kegiatan impor
- E. Mendapatkan keuntungan yang sebesar-besarnya

33. Ibu Zaynab berasal dari Negeri Katon, ia merupakan seorang pengrajin tapis, ada beberapa hasil buaatannya sudah terjual, ia memiliki gallery kecil didepan rumahnya untuk memajang hasil buatan tangan nya. Ibu Zaynab sudah lama menggeluti pembuatan tapis khas daerah Lampung ini.

Pernah ada yang datang jauh hanya untuk memiliki kain tapis yang ia buat karena memiliki corak dan jahitan yang indah. Ibu Zaynab juga mendirikan kelompok pengrajin tapis didesanya tersebut. Ada hal yang membuat ia kesulitan untuk mempromosikan sekaligus meningkatkan penjual tapis yang sudah dibuat oleh kelompok pengrajin tapis nya, karena transportasi yang minim untuk menjangkau daerah daerah lainnya , geografi wilayahnya yang berkelok kelok dan juga akses internet yang masih belum maksimal.

Sehingga kebanyakan orang orang tertentu dan sudah pernah datang saja yang membeli hasil dari kelompok pengrajin tapis tersebut.

Manurut kalian, problematika yang dihadapi ibu Zaynab tersebut adalah....

- A. Kurangnya pengrajin Tapis
- B. Hanya orang orang tertentu yang membeli

tapis

- C. Promosi yang masi minimal
- D. Ekonomi masyarakat negeri katon yang masih miskin
- E. Penyaluran barang yang masih sulit dan letaknya yang jauh

34. Faktor faktor penawaran :

1. Biaya produksi dan teknologi yang digunakan
2. Prilaku selera konsumen
3. Tujuan dari perusahaan
4. Intensitas kebutuhan konsumen
5. Pendapatan/penghasilan konsumen

Yang bukan termasuk faktor penawaran adalah....

- A. 1, 2, dan 5
- B. 2, 3, dan 4
- C. 3, 4, dan 5
- D. 2, 4, dan 5
- E. 1, 3, dan 5

35. Lembaga independen bebas dari campur tangan pihak lain yang mempunyai fungsi, tugas, dan wewenang pengaturan, pengawasan, pemeriksaan dan penyidikan terhadap keseluruhan kegiatan di dalam sektor jasa keuangan baik dari sektor perbankan, pasar modal, dan sektor jasa keuangan non- bank seperti Asuransi, Dana Pensiun dan lain sebagainya adalah....

- A. Bank Indonesia (BI)
- B. Otoritas Jasa Keuangan (OJK)
- C. Deposito
- D. Rekening Bersama (Rekber)
- E. Modal Ventura

II. Jawablah pertanyaan berikut dengan benar dan jelas!

1. Uraikan dengan jelas karakteristik ekonomi Syariah yang telah kalian pelajari !
2. Apa sajakah kelemahan dari sistem ekonomi campuran ? Uraikankan apa sajakah yang menjadi kelemahan system ekonomi campuran, jelaskan...
3. PT. Hanania memproduksi barang sebanyak 25 Unit output dengan average total cost Rp.20.000,-. Agar mampu berproduksi PT. Hanania harus mengeluarkan fixed cost sebesar Rp.50.000,-. Hitunglah berapa besaran average variable cost nya ?
4. Lihat tabel berikut !

Penawaran Buah Jeruk

Posisi	Harga (Rupiah per kg)	Jumlah yang ditawarkan (kuintal)
A	2000	6
B	4000	10
C	6000	12
D	8000	16
E	10000	18

Buatlah kurva penawaran berdasarkan tabel di atas !

5. Uang memiliki fungsi selain alat pembayaran, ada fungsi turunan lainnya, sebutkan 4 fungsi turunan uang selain sebagai fungsi alat pembayaran ?



DINAS PENDIDIKAN, KEBUDAYAAN, RISET DAN TEKNOLOGI
PENILAIAN AKHIR SEMESTER GANJIL
TAHUN PELAJARAN 20../20..

MATA : **E K O N O M I**
 PELAJARAN
 KELAS : X (SEPULUH)
 PEMINATAN : ILMU-ILMU SOSIAL

HARI/TANGGA
 L :
 PUKUL : 07.30 – 09.30
 WAKTU : 120 MENIT

KUNCI JAWABAN

I. Jawaban Soal Pilihan Ganda

1	C	6	A	11	A	16	B	21	A	26	E	31	A
2	C	7	D	12	B	17	C	22	D	27	A	32	C
3	C	8	C	13	E	18	A	23	B	28	C	33	E
4	B	9	E	14	D	19	E	24	A	29	D	34	D
5	D	10	B	15	D	20	E	25	E	30	B	35	B

II. Pedoman Penskoran Pilihan Ganda

Bena r	Nilai	Bena r	Nilai	Bena r	Nilai	Bena r	Nilai	Bena r	Nilai	Bena r	Nilai	Bena r	Nilai
1	2,0	6	12,0	11	22,0	16	32,0	21	42,0	26	52,0	31	62,0
2	4,0	7	14,0	12	24,0	17	34,0	22	44,0	27	54,0	32	64,0
3	6,0	8	16,0	13	26,0	18	36,0	23	46,0	28	56,0	33	66,0
4	8,0	9	18,0	14	28,0	19	38,0	24	48,0	29	58,0	34	68,0
5	10,0	10	20,0	15	30,0	20	40,0	25	50,0	30	60,0	35	70,0

III. Jawaban Soal Uraian

No	Kunci Jawaban	Sko r
1	KARAKTERISTIK EKONOMI SYARIAH : a) Berpedoman pada Al-Qur'an dan Hadis b) Berpotensi pada kemakmuran dan kesejahteraan masyarakat c) Ruang lingkup penerapan secara universal d) Keseimbangan materil dan immateril harus diutamakan e) Terbebas dari segala unsur riba dalam kegiatan ekonominya	6
2	KELEMAHAN SISTEM EKONOMI CAMPURAN : a) Pemerintah memiliki tanggungjawab yang lebih besar dibandingkan pihak swasta. b) Meskipun pemerintah berperan aktif dalam perekonomian, namun masalah ekonomi tetap terjadi. Misalnya inflasi, pengangguran, dan sebagainya. c) Pemerataan pendapatan sangat sulit untuk diwujudkan pada sistem ekonomi ini. d) Pertumbuhan ekonomi cenderung lebih lambat dibandingkan dengan sistem ekonomi liberal. e) Pihak swasta tidak dapat memaksimalkan keuntungannya karena ada intervensi dari pemerintah. f) Pembatasan sumber produksi yang dikuasai antara pemerintah dan swasta sulit untuk ditentukan	6
3	MENCARI AVERAGE VARIABLE COST : $AC = AFC + AVC$; $AFC = \frac{FC}{Q}$ Diketahui : $Q = 25$; $AC = \text{Rp.}20.000$; $FC = \text{Rp.}50.000$ Ditanya : AVC ? Jawab: Jadi $AC = AFC + AVC \Rightarrow AC = \frac{FC}{Q} + AVC \Rightarrow 2000 = \frac{50000}{25} + AVC \Rightarrow 20000 = 2000 + AVC \Rightarrow AVC = 20000 - 2000 = 18000$	6
4		6

	6 10 12 16 18	
5	<p>FUNGSI TURUNAN UANG :</p> <p>a)Menunjukkan harga b)Penimbun kekayaan c)Penunjang kegiatan ekonomi dan sosial</p> <p>d)Satuan hitung e)Alat pembayaran utang</p>	6