

શ્રી જાળિયા અમ.કે.વ.શાળા તા- પાલિતાણા જિ- ભાવનગર

પુનઃ કસોટી વિષય-ગણિત તા-19-8-2023

વિદ્યાર્થીનું નામ :રોલ નંબર..... ધોરણ : 5

પ્રશ્ન : ૧(અ) સંખ્યાને અંકમાં લખો .

ગુણ-2

1. છત્રીસ લાખ ચાર-

2. ત્રણ લાખ ચોસઠ હજાર તેર-

પ્રશ્ન : ૧ (બ) સંખ્યાને શબ્દમાં લખો.

ગુણ-2

1. 8,07,780 -

2. 5,31,42,502 -

પ્રશ્ન : ૨(અ) સુચના મુજબ જવાબ આપો.

ગુણ-6

1. છ અંકની મોટામાં મોટી સંખ્યામાં પાંચ અંકની મોટામાં મોટી સંખ્યા ઉમેરતા પરિણામ શું મળે ?

2. 9,99,999 માંથી 20,007 બાદ કરતા પરિણામ શું મળે ?

પ્રશ્ન : ૨ (બ) સાચો વિકલ્પ પસંદ કરો .


ગુણ-1

(1) 9999 માંથી 1099 બાદ કરતા પરિણામ શું મળે ?

(અ) 8899 (બ) 8099 (ક) 8900 (ડ) 8888

પ્રશ્ન : ૩ (અ) ખાલી જગ્યા પૂરો.

ગુણ-1

(1)  આકૃતિમાંખૂણા છે .

પ્રશ્ન : ૩ (બ) આપેલ શબ્દના ખૂણા ગણી કોષ્ટક પૂરો.

(1) MATH

ગુણ-3

ક્રમ	ખૂણા	કેટલા ?
1	કાટકોણ	
2	કાટકોણ થી નાના	

3 કાટકોણ થી મોટા

પ્રશ્ન : 3 (ક) સાચો વિકલ્પ પસંદ કરો .


ગુણ-1

(1) નીચેમાંથી કયો અંગ્રેજી મૂળાક્ષર 90° નો ખૂણો ધરાવે છે ?

(અ) A (બ) V (ક) N (ડ) L

પ્રશ્ન : 4 આકૃતિ પરથી જવાબ આપો

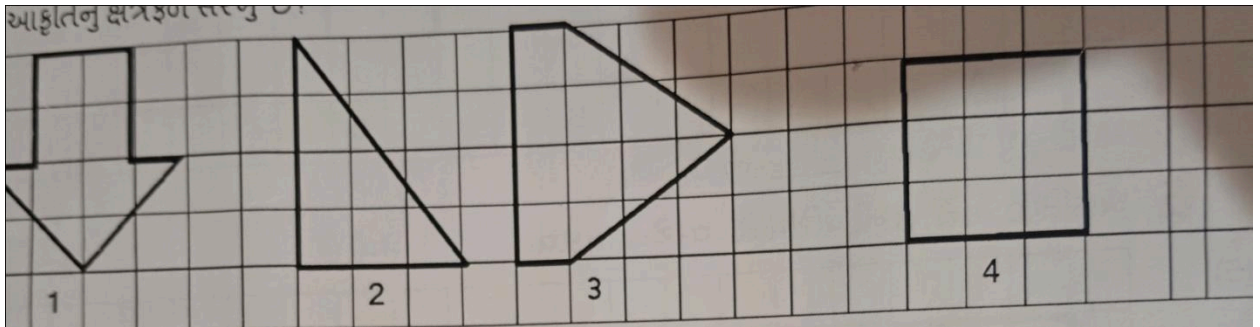
ગુણ-4



1. સૌથી ઓછી પરિમિતિ આકારની છે ? 2. સૌથી વધુ પરિમિતિ આકારની છે ?

પ્રશ્ન : 5 આપેલા પ્રશ્નોના જવાબ આપો .

ગુણ-5



(1) આકૃતિ 1 નું ક્ષેત્રફળ છે ? (2) આકૃતિ 2 નું ક્ષેત્રફળ છે ?

(3) આકૃતિ 3 નું ક્ષેત્રફળ છે ? (4) આકૃતિ 4 નું ક્ષેત્રફળ છે ?

(5) સૌથી વધુ ક્ષેત્રફળ આકૃતિનું છે ?