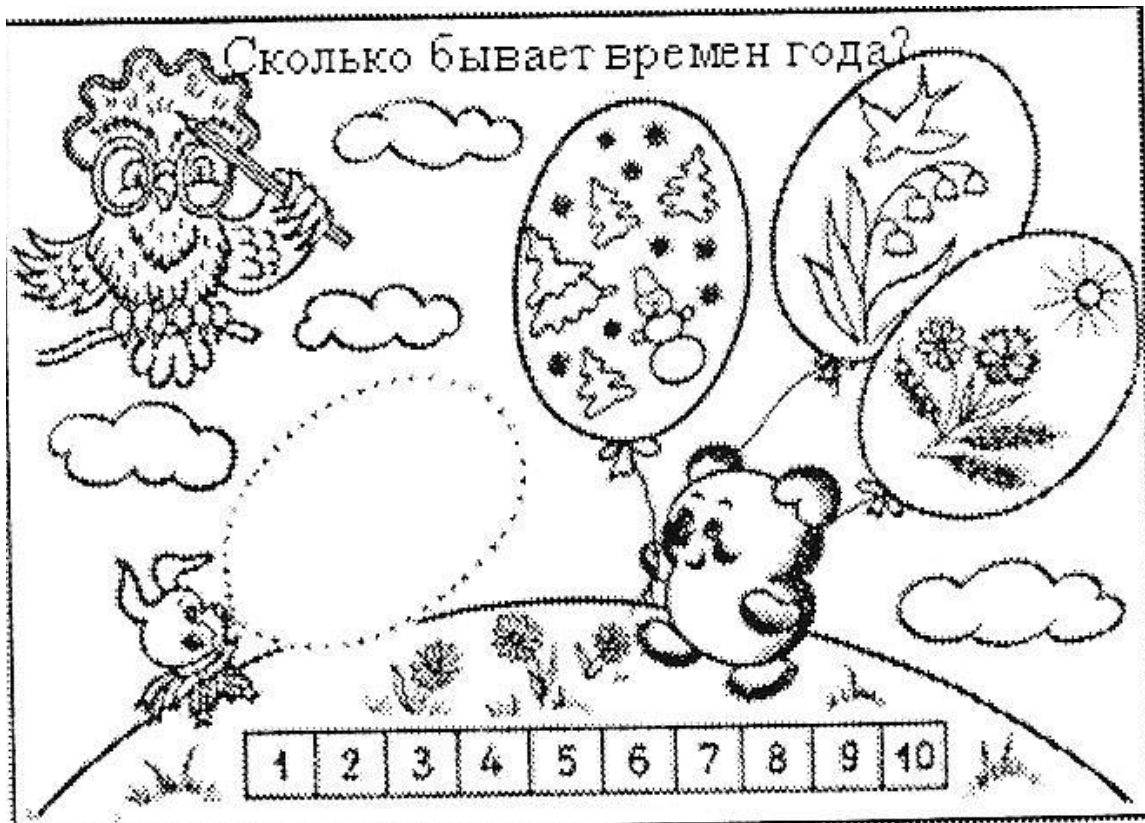


ОЛИМПИАДА ПО ПОЗНАНИЮ «МИР ЗНАНИЙ» ДЛЯ ДЕТЕЙ 6-7 лет

ЗАДАНИЕ №1

1. Вспомните, сколько бывает времён года? Закрасьте клеточку с соответствующей цифрой. Подумайте, какого времени года не хватает, нарисуйте его на свободном шарике.



ЗАДАНИЕ №2


Сколько всего машин? А сколько машин слева? Справа?

Сколько сигналов у светофора? Закрасьте клеточку с соответствующей цифрой красным карандашом.




ЗАДАНИЕ № 3

Раскрасьте картинку в левом верхнем углу в желтый цвет, в левом нижнем в зеленый цвет, в правом верхнем в красный цвет, в правом нижнем в синий цвет. В середине листа в оранжевый цвет



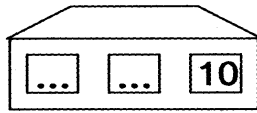
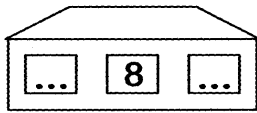
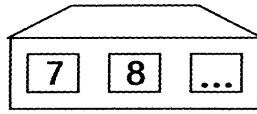
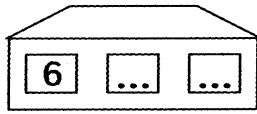
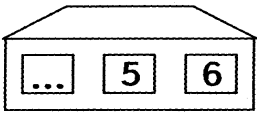
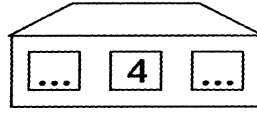
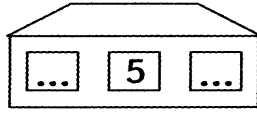
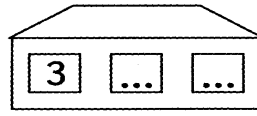
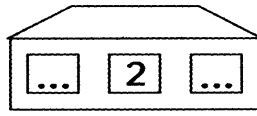
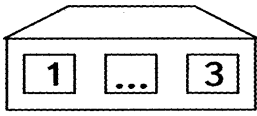
ЗАДАНИЕ № 4

В каждом ряду обведи предмет, точно такой же, как нарисован в квадрате






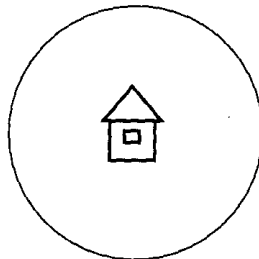



ЗАДАНИЕ № 5

Впишите в пустые окошечки соседней чисел




ЗАДАНИЕ № 6

Найди на картинке всех домашних животных и от каждого из них проведи дорожку к домику

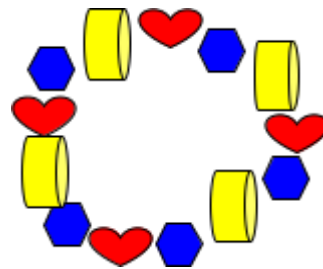
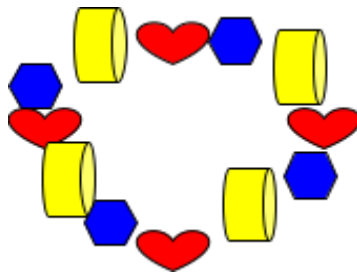
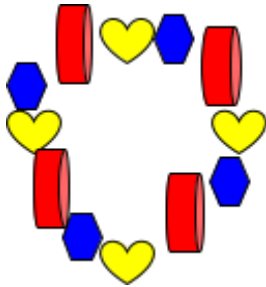


ЗАДАНИЕ № 7

Твоя сестра смастерила бусы. Ты нечаянно порвал нитку, и бусинки рассыпались.

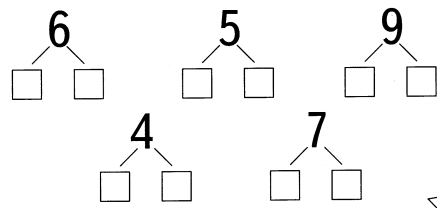


Вопрос: Определи, какую нитку бус ты порвал? Обведи правильный ответ.



ЗАДАНИЕ № 8

Напиши недостающие цифры.



ЗАДАНИЕ № 9

Поставь знаки: <, =, >.

$5 \bigcirc 8$

$9 \bigcirc 4$

$4 \bigcirc 1$

$5 \bigcirc 1$

$7 \bigcirc 2$

$7 \bigcirc 6$

ЗАДАНИЕ № 10

Обведите предмет, который нельзя брать дома без взрослых?

