

5. Alat muzik di atas dimainkan dengan cara _____
- | | |
|----------------------|----------------------|
| A. Ketuk dan tiup | C. tiup dan petik |
| B. Goncang dan tepuk | D. Gesek dan goncang |

Soalan 6 dan 7 adalah berdasarkan gambar rajah di bawah



6. Alat muzik di atas ialah _____
- | | |
|----------|-----------|
| A. Kibod | C. Gong |
| B. Dram | D. simbal |
7. Alat muzik di atas dimainkan dengan cara _____
- | | |
|------------|------------|
| A. Tiupan | C. Tepukan |
| B. Pukulan | D. Gesekan |
8. Berikut yang manakah **bukan** alat muzik tradisional _____
- | | |
|------------|-------------|
| A. Trumpet | C. Angklung |
| B. Gong | D. sompoton |
9. Berikut ialah alat muzik bertali **kecuali** _____
- | | |
|-------------|-----------|
| A. Seruling | C. Violin |
| B. Gitar | D. Hap |
10. Tali yang sangat halus jika dipetik akan menghasilkan pic yang _____
- | | |
|-----------|-----------|
| A. Tinggi | C. Lembut |
| B. Kuat | D. Rendah |
11. Bunyi yang dihasilkan oleh bunyi drum ialah _____
- | | |
|----------------|--------------|
| A. Cing! Cing! | C. Tik! Tok! |
| B. Tap! Tap! | D. Dum! Dum! |
12. Kastanet menghasilkan bunyi _____
- | | |
|----------------|----------------|
| A. Cing! Cing! | C. Ceng! Ceng! |
| B. Tik! Tok! | D. Tap! Tap! |

13. Pilih pasangan yang betul.

- | | |
|-----------------------|--------------------|
| A. Kastanet = goncang | C. Gitar = petik |
| B. Kerincing = tepuk | D. kompang = gesek |

14. Kompang biasanya dimainkan semasa _____

- | | |
|-----------------------|------------------------|
| A. Majlis perkahwinan | C. Nyanyian lagu rasmi |
| B. Persembahan koir | D. Kematian |

15. Kelajuan detik dalam muzik ialah _____

- | | |
|----------|------------|
| A. Tempo | C. Ton |
| B. Pic | D. Dinamik |

16. _____ bermaksud kekuatan bunyi dalam muzik.

- | | |
|------------|--------|
| A. Tempo | C. Ton |
| B. Dinamik | D. Pic |

17. Dinamik  bermaksud bunyi semakin _____

- | | |
|-----------------------|--------------------|
| A. Beransur sederhana | C. Beransur kuat |
| B. Beransur kuat | D. Beransur lambat |

18. Meter dalam muzik menunjukkan bilangan _____ dalam setiap bar.

- | | |
|-----------|----------|
| A. Melodi | C. Pic |
| B. Tempo | D. Detik |

19. Tempoh dalam muzik bermaksud _____

- | | |
|-------------|---------------|
| A. Kelajuan | C. Keberatan |
| B. Tekanan | D. Kelembutan |

20. Istilah muzik '**piano**' (**p**) membawa maksud _____

- | | |
|-----------|-----------|
| A. Cepat | C. Kuat |
| B. Lembut | D. Lambat |

21. Istilah muzik '**forte**' (**f**) membawa maksud _____

- | | |
|-----------|-----------|
| A. Cepat | C. Kuat |
| B. Lembut | D. Lambat |

22. Mud ketika menyanyikan lagu 'Negaraku' ialah _____

- A. Gembira
- B. Sedih
- C. Marah
- D. Semangat


23. Nyanyian lagu 'Rasa sayang' membawa kepada perasaan _____

- A. kecewa
- B. murung
- C. Sedih
- D. Riang

24. Kita dapat merasai detik bunyi berterusan dan sekata dalam kehidupan seharian kita melalui keadaan semasa _____

- A. Ketawa
- B. Bercakap
- C. Berlari
- D. Titisan air paip


Soalan 25 adalah berdasarkan gambar rajah di bawah



25. Isyarat tangan di atas melambangkan solfa _____

- A. Fa
- B. Mi
- C. Do
- D. Re

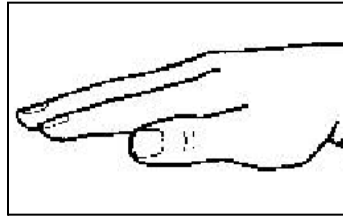
Soalan 26 adalah berdasarkan gambar rajah di bawah



26. Isyarat tangan di atas melambangkan solfa _____

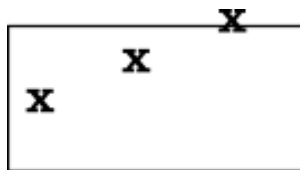
- A. Mi
- B. Do
- C. Fa
- D. Re

Soalan 27 adalah berdasarkan gambar rajah di bawah



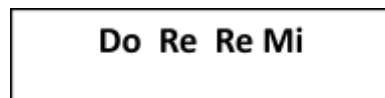
27. Isyarat tangan di atas melambangkan solfa _____
- A. MI
 - B. Do
 - C. Fa
 - D. Re

Soalan 28 adalah berdasarkan gambar rajah di bawah

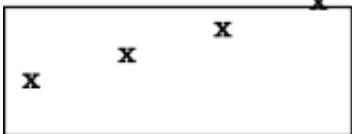
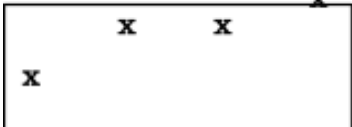
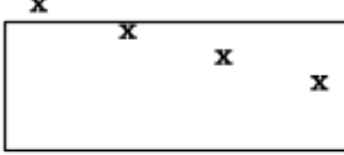



28. Kontur melodi di atas adalah mewakili _____
- A. De Re Mi
 - B. Do Mi MI
 - C. Re Re Mi
 - D. Mi Do Re

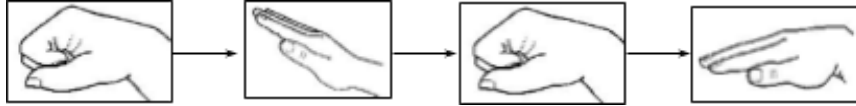
Soalan 29 adalah berdasarkan gambar rajah di bawah



29. Kontur melodi di atas adalah mewakili _____

- A. 
- B. 
- C. 
- D. 

Soalan 30 adalah berdasarkan gambar rajah di bawah



30. Urutan isyarat tangan Curwen di atas ialah _____

- A. Do - Re - Do - Mi
- B. Do - Re - Do - Do
- C. Do - Re - Mi - Do
- D. Mi - Re - Mi - Re

Soalan 31 dan 32 adalah berdasarkan gambar rajah di bawah



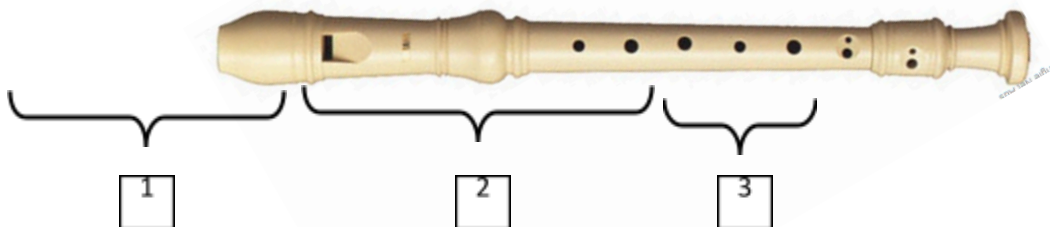
31. Solfa yang bertanda X ialah _____

- A. Re
- B. Fa
- C. La
- D. Ti

32. Solfa yang bertanda Y ialah _____

- A. Re
- B. La
- C. Mi
- D. Ti

Soalan 16 hingga 18 adalah berdasarkan gambar rajah di bawah



33. Rekoder dibahagikan kepada berapa bahagian?

- A. 1
- B. 3
- C. 2
- D. 4