









## BÀI TẬP PHÁT TRIỂN TƯ DUY CHO TRẺ









Tên:.....

Ngày:.....

### 1. Khoanh tròn những số nhỏ nhất

							
<b>5</b>	<b>6</b>	<b>4</b>	<b>3</b>	<b>7</b>	<b>5</b>	<b>9</b>	<b>3</b>

### 2. Khoanh tròn những con số lớn nhất

							
<b>4</b>	<b>6</b>	<b>5</b>	<b>4</b>	<b>8</b>	<b>4</b>	<b>9</b>	<b>7</b>

### 3. Điền những số thiếu vào ô trống

<b>0</b>		<b>2</b>		<b>4</b>
<b>5</b>		<b>7</b>		<b>9</b>

4. Khoanh tròn con số lớn nhất trong mỗi phần

3



7



9



6



8



2




5









4



5. Vẽ vòng tròn bao quanh mỗi loài động vật



6. Khoanh tròn con số đúng

 <p>2      1      3</p>	 <p>1      2      3</p>
 <p>3      2      1</p>	 <p>2      1      3</p>
 <p>3      1      2</p>	 <p>1      2      3</p>

### 7. Làm phép cộng




$$5 + 1 = 6$$

..... + ..... = .....



$$..... + ..... = .....$$



$$..... + ..... = .....$$



$$..... + ..... = .....$$