

سلطنه عمان

المديرية العامة للتربية والتعليم

(مدرسه الغدير للتعليم الاساسي 4-1)

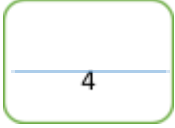
..... :- الاسم :- ..... الصف

### الامتحان الأول للفنون التشكيليه للصف الثالث

:- السؤال الأول

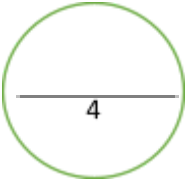
. ضع علامه ( ) امام العبارة الصحيحة و علامه ( ) امام العبارة الخاطئة

- عبارة عن ظاهره اجتماعيه سنويه يشترك فيها افراد الاسره العمانيه أصحاب ( )  
( ) المزارع تسمى بحصاد التمور  
( ) عند دمج اللون الأحمر مع اللون البرتقالي ينتج معنا البرتقالي المخضر  
( ) من العناصر الفنيه الخط والشكل واللون  
( ) يندرج الأسد من الحيوانات الاليفه



.السؤال الثاني :- اختر الاجابه الصحيحه من بين البدائل المعطاه

- ( التعبير -البنفسجي المصفر - الرسم والتلوين - الخلال -الاعراس )  
..... من المناسبات التي تقدم فيها الحلوى العمانيه  
..... عند دمج اللون الأصفر مع اللون البنفسجي يعطينا  
..... من مراحل نمو التمر  
..... من الأسس الفنيه

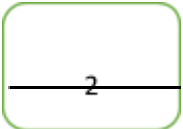


السؤال الثالث

اذكر اثنين من الألعاب الرياضيه التي نستخدم فيها الكره ؟

1-

2-



أتمنى لكم التوفيق