

Secretaría de Educación Pública  
 Escuela Primaria Urbana o Rural  
 "https://materialeducativo.org/"


C.C.T.: XXXXXXXX

Zona Escolar: XX Sector: XX

Ciclo Escolar: 2022 - 2023

Grado: 2° Grupo: X

CICLO ESCOLAR  
 2022 - 2023



**EXAMEN DEL SEGUNDO TRIMESTRE**

**EXAMEN DEL TERCER TRIMESTRE**



**SEGUNDO GRADO**

Nombre del alumno: \_\_\_\_\_

Lugar: \_\_\_\_\_ Fecha: \_\_\_\_\_

Reactivo Asignatura s Aciertos Calificación n Firma del padre o tutor

Nombre del maestro: Lenguaje y comunicación	64			
Nombre del padre de familia o tutor: _____				
Pensamiento Matemático	51			
Exploración y Conocimiento del Mundo	45			
Formación Cívica y Ética				
<b>PROMEDIO</b>				



# ESPAÑOL

1 a la 3.- ¿Qué significa tu nombre y en qué idioma está?

Me llamo: \_\_\_\_\_

Es un nombre de origen: \_\_\_\_\_

Y significa: \_\_\_\_\_

4 y 5.- Escribe el nombre de 2 lenguas distintas al español.

6 a la 8.- Recuerda la entrevista que realizaste para conocer acerca de otras lenguas y sus costumbres.

¿A quién entrevistaste? \_\_\_\_\_

Escribe 2 preguntas que le hiciste.

1.- \_\_\_\_\_

2.- \_\_\_\_\_

9 y 10.- Ahora escribe un texto breve sobre lo que te platicó acerca de su lengua y sus costumbres.

---

---

---

---

11 a la 15.- Une las palabras en inglés con su significado al español.

books

friends

games

school

mother

madre

juegos

escuela

libros

amigos

16 y 17.- Colorea las 2 palabras provenientes del náhuatl.

kinder

Xitomatl

family

ahuacatl

futbol

18 a la 20.- Escribe 3 palabras que hayas aprendido de otras lenguas y escribe su significado.

\_\_\_\_\_ y significa \_\_\_\_\_

\_\_\_\_\_ y significa \_\_\_\_\_

\_\_\_\_\_ y significa \_\_\_\_\_

21 a la 24.- Encierra las 4 palabras que deben estar escritas con mayúscula al inicio.

papalote

jorge

antonio

mesa

silla

méxico

elote

rodríguez

25.- Escribe tu nombre completo como aparece en tu acta de nacimiento.

---

26.- De tus apellidos, ¿cuál es el que viene de tu mamá?

---

27.- Encierra cuáles otros nombres aparecen en tu acta de nacimiento.

hermanos

tíos

papás

primos

28.- ¿Qué otro dato aparece en tu acta de nacimiento?

---

29 a la 32.- Encierra la palabra que está escrita correctamente.



moscito

quaracol

muñeca

raceta

mosquito

caracol

muñequa

raqueta

33 a la 36.- Elige un juego tradicional, dibújalo y explica cómo se juega.



37 a la 41.- Completa el siguiente texto.

Los tiempos han cambiado. Antes se jugaba a \_\_\_\_\_ y ahora jugamos a \_\_\_\_\_.

Los juegos favoritos de algunos adultos eran \_\_\_\_\_ y ahora los nuestros son \_\_\_\_\_.

Con el tiempo los juegos han cambiado porque \_\_\_\_\_

---

---

42 y 43.- Encuentra 2 palabras o frases que se lean igual de atrás para adelante o de adelante para atrás. Enciérralas.

somos      antena      araña      ojo rojo      ratonera

44 y 45.- Pide a tu maestra(o) que te lea una obra de teatro corta. Escucha con atención y luego responde.

¿Cuál es el nombre de la obra de teatro?

---

Escribe el nombre de los personajes:

---

---

---

Lee el siguiente guion de teatro.

EL PASTORCILLO Y EL LOBO

PASTORCILLO. - (Grita, angustiado). -¡Socorro! -¡El lobo ataca a las ovejas! -¡Socorro, ayuda!  
(Desde el Pueblo entran tres aldeanos, armados con palos).

ALDEANO 1.- Tranquilo, Juan; nosotros te ayudaremos.

ALDEANO 2.- -¿Dónde está el lobo?

ALDEANO 3.- Salvaremos tu rebaño.

(De pronto, el Pastorcillo cambia de actitud y comienza a reír).

PASTORCILLO.- No hay ningún lobo. Ha sido una broma. Estaba muy aburrido, allí solo con las ovejas.

ALDEANO 1.- ¿Tú eres bobo, o sólo lo pareces?

ALDEANO 2.- Esta broma no es graciosa.

PASTORCILLO.- Es que estaba aburrido.

ALDEANO 3.- Algún día nos necesitarás y no te creeremos.

(Salen los tres en dirección al pueblo).


PASTORCILLO.- No tenéis sentido del humor.  
(Sale el Pastorcillo en dirección al bosque).

46 y 47.- Haz un dibujo del pastorcillo y luego describe cómo es.



A large rectangular box with a thin black border. On the right side of the box, there are eight horizontal lines spaced evenly, providing a guide for writing a description. The rest of the box is empty, intended for a drawing of the character 'Pastorcillo'.

48 a la 50.- Haz un cartel para invitar a ver la obra de teatro.



51 a la 54.- Escribe 4 cosas que se deben hacer o tomar en cuenta para poder representar una obra de teatro.

---

---

---

---

Lee el siguiente texto.

*Las ballenas son mamíferos.* Esto significa que los ballenatos crecen dentro de sus madres hasta que nacen. Además, son cuidados por sus madres hasta que alcanzan cierta edad.

*Las ballenas respiran aire como nosotros.* Por lo tanto, tienen que llegar a la superficie del océano para respirar, porque no pueden respirar bajo el agua.

Hay varias especies de ballenas, pero se clasifican de acuerdo a la forma en que se alimentan, en dos tipos, ballenas barbadas y ballenas dentadas.

55 y 56.- Subraya la respuesta correcta.

El texto que acabas de leer es un texto...

- a) Literario.      b) Informativo.      c) Periodístico.

El texto trata acerca de...

- a) Los mamíferos.      b) Los animales del mar.      c) Las ballenas.


57.- Subraya la oración que contiene información falsa.

Las ballenas se clasifican en barbadas y dentadas.

Las ballenas respiran dentro del agua.

Las ballenas crecen dentro de sus madres hasta que nacen.


58 a la 64.- Completa las palabras.



\_\_\_tarra





\_\_\_antes



\_\_\_rrero



\_\_\_rasol



tortu\_\_\_\_\_ta


á\_\_\_\_\_la

\_\_\_\_\_to

ju\_\_\_\_\_tes

# MATEMÁTICAS

1 y 2.- Cuenta el dinero que tiene cada niña.



\_\_\_\_\_ pesos



\_\_\_\_\_ pesos

3 a la 5.- Tres amigos quebraron sus alcancías para saber cuánto dinero ahorraron en el año. ¿Cuánto dinero ahorró cada uno?



2 billetes de \$100  
15 monedas de \$10



1 billete de \$100  
36 monedas de \$10



4 billetes de \$100  
6 monedas de \$1

6 a la 8.- Laura le ayuda a su mamá a llenar cajas con 100 dulces en cada una.

¿Cuántas cajas puede llenar si su mamá le entregó 627 dulces? \_\_\_\_\_

¿Cuántos dulces le quedarán sueltos? \_\_\_\_\_

¿Cuántos dulces necesita pedirle a su mamá para llenar otra caja? \_\_\_\_\_

9.- Colorea el número mayor.

299	386	501	478	189	398
-----	-----	-----	-----	-----	-----

10.- Completa la serie contando de 10 en 10 hacia adelante.

235	245	255						
-----	-----	-----	--	--	--	--	--	--

11.- Completa la serie contando de 10 en 10 hacia atrás.

641	631	621						
-----	-----	-----	--	--	--	--	--	--

12.- Completa la serie contando de 100 en 100 hacia adelante.

154	254	354						
-----	-----	-----	--	--	--	--	--	--

13.- Completa la serie contando de 100 en 100 hacia atrás.

995	895							
-----	-----	--	--	--	--	--	--	--

14 y 15.- Calcula mentalmente.

¿Cuánto le falta al 75 para llegar al 100? \_\_\_\_\_

¿Cuánto le falta al 38 para llegar al 100? \_\_\_\_\_


16 a la 19.- ¿Cuál es la unidad de medida adecuada para medir lo siguiente? (valor 4 puntos)

- La mesa: \_\_\_\_\_
- Un lápiz: \_\_\_\_\_
- El largo del salón: \_\_\_\_\_



- El patio de la escuela: \_\_\_\_\_

20.- Encierra el \_\_\_\_\_ que sirve mejor para medir el ancho de tu salón.




21.- Doña Luisa compró 6 racimos de plátanos, si cada racimo tenía 4 plátanos, ¿cuántos plátanos compró en total?




\_\_\_\_\_ plátanos.

22.- ¿Cuántas llantas habrá en total en 8 bicicletas?



\_\_\_\_\_ llantas.

Observa los precios de los siguientes juguetes.



23 a la 26.- Resuelve los siguientes problemas.

¿Cuánto se debe pagar por un caballo de madera y una muñeca?

\_\_\_\_\_ pesos.

¿Cuánto dinero se necesita para comprar un robot y unos patines?

\_\_\_\_\_ pesos.


El papá de Carlos le regaló a su hijo una bicicleta y una bolsa de canicas. ¿Cuánto pagó?

\_\_\_\_\_ pesos.

Julio se quiere comprar un robot y una bicicleta, pero sólo tiene 500 pesos. ¿Cuánto dinero le falta?

\_\_\_\_\_ pesos.

27.- Don Juan registra en una tabla la cantidad de canicas que vende cada día. Las canicas las vende en cajas con 100, en bolsas con 10 y también vende canicas sueltas. Observa las canicas que vendió el sábado y las que vendió el domingo.

			
Sábado	2	4	7
Domingo	4	2	3

¿Cuántas canicas vendió en total el fin de semana? \_\_\_\_\_ canicas.

28.- El lunes le pidieron a Don Juan 1000 canicas, pero el sólo tiene 340 canicas en la bodega. ¿Cuántas canicas le faltan para poder surtir el pedido que le hicieron?


\_\_\_\_\_ canicas.

29.- En la peletería venden conos con 3 bolas de helado. ¿Cuántas bolas de helado se necesitan para 6 conos?



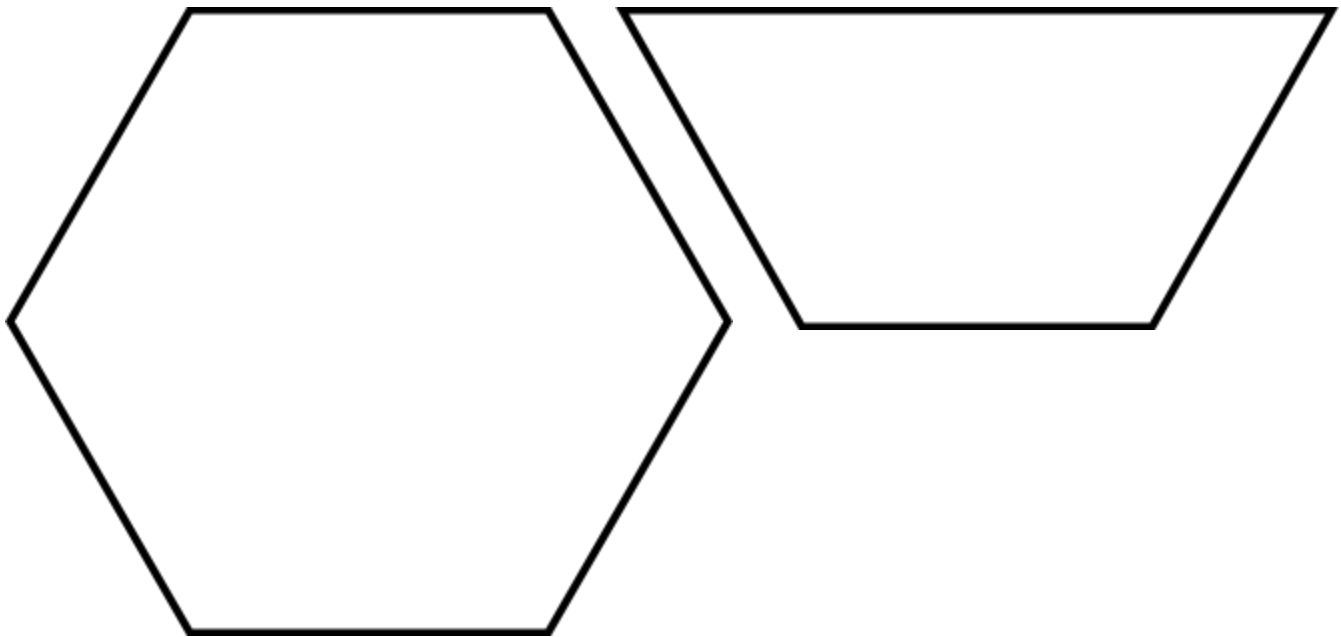
\_\_\_\_\_ bolas de helado.

30.- La mamá de Sergio quiere comprar 35 naranjas. ¿Cuántas bolsas necesita si a cada bolsa le ponen 5 naranjas?




necesita \_\_\_\_\_ bolsas.

31 y 32.- Recorta los triángulos y arma un hexágono y un trapecio. Luego pégalos en donde corresponda.






33 a la 37.- El conejo da brincos de 9 en 9. Escribe los números que faltan.



9 18 27   54 63

38.- Este conejo da saltos de 7 en 7. ¿A qué número llegará si da 8 saltos?



Llegará al número \_\_\_\_\_

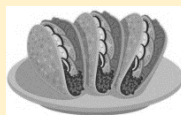
39 a la 41.- Resuelve los siguientes problemas.

Carlitos tiene 7 bolsas con 10 canicas en cada bolsa.




¿Cuántas canicas tiene en total? \_\_\_\_\_

A doña Juana le pidieron 8 órdenes de 3 tacos en cada plato.




¿Cuántos tacos le pidieron? \_\_\_\_\_

Lupita compró 7 racimos de uvas, si cada racimo tiene 9 uvas.




¿Cuántas uvas compró? \_\_\_\_\_

42 y 43.- Observa con atención las balanzas.



¿Cuál es el alimento más pesado? \_\_\_\_\_

¿Cuántas manzanas se necesitan para que la balanza esté equilibrada?



e necesitan \_\_\_\_\_ manzanas.

44 y 45.- Don Juan está plantando árboles en su terreno. Observa con atención y calcula lo que se te pide.



¿Cuántos árboles le faltan para terminar? \_\_\_\_\_


¿Cuántos árboles plantará en total en todo su terreno? \_\_\_\_\_

46 y 47.- Responde las siguientes preguntas.

¿Cuántos años tendrás cuando salgas de sexto grado de primaria? \_\_\_\_\_

¿Y cuántos años tendrás en el año 2065? \_\_\_\_\_

48.- Paola le ayuda a su papá a hornear galletas. A cada charola le debe colocar 48 galletas acomodadas en filas con la misma cantidad de galletas. Dibuja cómo debe acomodar las galletas.



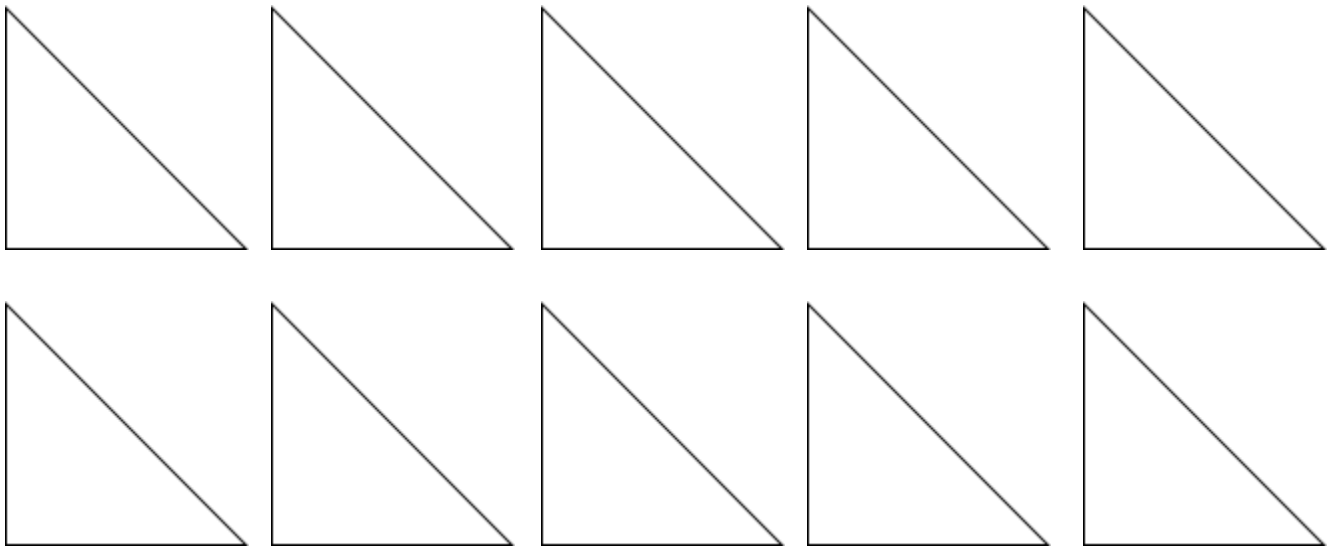
48.- Después de hornear, las colocan en cajas de 10 galletas. ¿Cuántas cajas necesitan si tienen 452 galletas?



Necesitan \_\_\_\_\_ cajas.

49 a la 51.- Recorta los triángulos de abajo. Forma con ellos un cuadrado, un trapecio y un romboide. Luego pégalos en el siguiente espacio.





## CONOCIMIENTO DEL MEDIO

1 y 2.- Dibuja tu actividad recreativa preferida y luego explica por qué te parece divertida.



**Me parece divertida porque**

---

---

---

---

---

---

3 y 4.- Ahora escribe 2 actividades recreativas de tu comunidad y el lugar donde se realizan.

Actividades Recreativas	Se realizan en...

5.- Escribe dónde se divertían tus padres o abuelos antes cuando ellos eran niños.

6.- Y tú, ¿dónde te diviertes?


7.- Escribe una actividad recreativa que realizas con tu familia.

8.- ¿Dónde la realizan?

9.- ¿Quiénes participan?

10.- ¿Por qué te parece divertida?

11 a la 14.- Escribe si crees que cada olor es agradable o desagradable.



---

---

---

---

15.- Escribe un olor que te haga sentir alegre.

---

16 y 17.- Escribe 2 olores que NO te gustan.

---

 y 

---

18 a la 21.- Escribe si los siguientes alimentos son dulces, amargos o agrios.



---

---

---

---

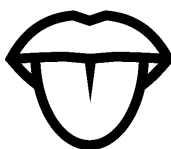
22 y 23.- Encierra con rojo la parte de tu cuerpo con la que puedes percibir los olores y tacha con azul con lo que puedes percibir los sabores.



24 y 25.- Escribe como se llama cada sentido.



-----

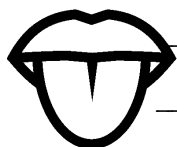


-----

26 y 27.-Escribe de qué manera puedes cuidar tus sentidos.



\_\_\_\_\_  
\_\_\_\_\_




\_\_\_\_\_  
\_\_\_\_\_

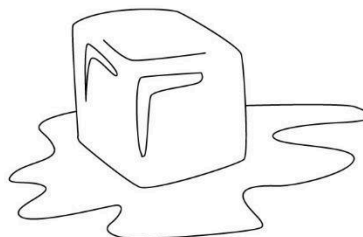
28 a la 30.- Escribe si se trata de un sólido, líquido o gas.



\_\_\_\_\_



\_\_\_\_\_



\_\_\_\_\_

31 a la 34.- Escribe el nombre de cada estación donde corresponda.

\_\_\_\_\_

Hace más calor y llueve mucho. Las plantas crecen más rápido.

\_\_\_\_\_

Baja más la temperatura, empieza a hacer frío. Los árboles casi no tienen hojas.

Empieza a aumentar la temperatura. Algunas plantas florecen.

Hace menos calor, las hojas de los árboles empiezan a caer. Lluve con menos frecuencia.

35 a la 38.- Colorea los meses que pertenecen a cada estación del año con el color que piensas que lo representa mejor.



Primavera



Otoño



Verano



Invierno

DICIEMBRE

ENERO

FEBRERO

MARZO

ABRIL

MAYO

J  
U  
N  
I  
O

NOVIEMBRE


OCTUBRE

SEPTIEMBRE

AGOSTO

JULIO

39 a la 41.- Observa la siguiente imagen y luego responde.



¿Qué daños observas?

---

---

¿Qué acciones de las personas crees que afectaron el medio?

---

---

---

---

¿Qué se puede hacer para cuidar y proteger el medio ambiente?

---

---

---

---

---

42.- Subraya la respuesta correcta.

¿Qué nombre recibe el lugar donde se guardan y exponen diferentes objetos que son valiosos para una comunidad?

- a) Biblioteca.      b) Escuela.      c) Museo.      d) Parque.

43 y 44.- Escribe el nombre de una costumbre o tradición de tu localidad. Luego explica en qué consiste y cuando se lleva a cabo.

La costumbre o tradición es \_\_\_\_\_

Y consiste en \_\_\_\_\_

\_\_\_\_\_

\_\_\_\_\_

\_\_\_\_\_

\_\_\_\_\_

45.- Escribe el nombre de un juego o juguete tradicional.

\_\_\_\_\_

## FORMACIÓN CÍVICA Y ÉTICA

1 y 2.- Describe una situación en la que hayas recibido apoyo y menciona quién te lo brindó.

Recibí apoyo cuando:

\_\_\_\_\_

\_\_\_\_\_

Me apoyó:

---

3 y 4.- Describe una situación en la que tú hayas brindado apoyo y menciona a quién apoyaste:

Apoyé a:

---

Cuando:

---

---

5.- Encierra la imagen donde se está brindando apoyo a quien lo necesita.



6 y 7.- Escribe 2 formas en las que puedes colaborar con las autoridades del lugar donde vives.

Empty rounded rectangular box for writing.

8.- ¿Por qué es importante tener autoridades?

Three horizontal lines for writing the answer to question 8.

9 a la 11.- Escribe una función de las siguientes autoridades.

Mamá o papá



Two horizontal lines for writing the function of a parent.

Maestro o maestra



Two horizontal lines for writing the function of a teacher.

Policía



---

---

12 y 13.- Escribe una regla del aula y otra de tu casa.

Aula: \_\_\_\_\_

---

Casa: \_\_\_\_\_

---

14.- Dibuja una medida que implementan en tu familia para cuidar el medio ambiente.

A large empty rounded rectangular box with a thin black border, intended for drawing a measure to care for the environment.



**¡Gracias Por Visitar!**

**<https://materialeducativo.org/>**

**&**

**<https://materialeseducativos.mx/>**

**Los textos, las imágenes, dibujos y el contenido de este examen es propiedad de sus respectivos autores solo se utilizó para realizar el examen y compartir de manera gratuita y educativa sin fines de lucro.**

**<https://www.facebook.com/educacionprimariamx/>**

**&**

**<https://www.facebook.com/materialeducativomx/>**

**Créditos:**

**<https://www.pngwing.com/>**

**<https://es.pngtree.com/>**



**Gracias por visitar:**

<https://materialeducativo.org/>

&

<https://materialeseducativos.mx/>

**Únete a nuestro canal de Youtube:**

[https://www.youtube.com/channel/UC2c9MOFE8JOwPAc9EY\\_uMeOw](https://www.youtube.com/channel/UC2c9MOFE8JOwPAc9EY_uMeOw)

**Únete a nuestras páginas de Facebook:**

<https://www.facebook.com/materialeducativomx>

/

<https://www.facebook.com/educacionprimariamx>

/

El texto, imágenes y contenido de los exámenes pertenecen a sus respectivos autores, nosotros solo compartimos el material como fin informativo y educativo, sin fines de lucro.

# Este material fue enviado u obtenido de manera gratuita en las redes sociales.

Grupos de WhatsApp:



(Si el grupo está lleno, puedes ingresar a otro o informarnos para crear uno nuevo)

Nombre del grupo:	Enlace para unirte:
Material Educativo	<a href="https://chat.whatsapp.com/HCH4ijLQzHVFFMNvU1rEM6">https://chat.whatsapp.com/HCH4ijLQzHVFFMNvU1rEM6</a>
MaterialEducativo.Org	<a href="https://chat.whatsapp.com/EkpWS87fB0U78L5fpallHQ">https://chat.whatsapp.com/EkpWS87fB0U78L5fpallHQ</a>
MaterialPrimaria.Com	<a href="https://chat.whatsapp.com/CsNPTuCClg261yMVENi0RO">https://chat.whatsapp.com/CsNPTuCClg261yMVENi0RO</a>
Materia Primaria	<a href="https://chat.whatsapp.com/CugchCe8FW62AWCDiX2daR">https://chat.whatsapp.com/CugchCe8FW62AWCDiX2daR</a>
MaterialesEducativos.Mx	<a href="https://chat.whatsapp.com/GYUY2zApjw0FPt33WUaM1N">https://chat.whatsapp.com/GYUY2zApjw0FPt33WUaM1N</a>
Materiales Educativos	<a href="https://chat.whatsapp.com/KzSXWScrV4B06x2UNkYZp">https://chat.whatsapp.com/KzSXWScrV4B06x2UNkYZp</a>
Primer Grado 2022 – 2023	<a href="https://chat.whatsapp.com/JfgY19xH8es61OkZSdX4bP">https://chat.whatsapp.com/JfgY19xH8es61OkZSdX4bP</a>
Segundo Grado 2022 – 2023	<a href="https://chat.whatsapp.com/KVjTT12Qu8s5qjcZyceDzR">https://chat.whatsapp.com/KVjTT12Qu8s5qjcZyceDzR</a>
Tercer Grado 2022 – 2023	<a href="https://chat.whatsapp.com/JSEZwHfRDJQ00diHKdKL7m">https://chat.whatsapp.com/JSEZwHfRDJQ00diHKdKL7m</a>
Cuarto Grado 2022 – 2023	<a href="https://chat.whatsapp.com/L2cbFdHJfy365Relf5Odlh">https://chat.whatsapp.com/L2cbFdHJfy365Relf5Odlh</a>

Quinto Grado 2022 – 2023	<a href="https://chat.whatsapp.com/CYppQf7wBA9HRUYjHAd82r">https://chat.whatsapp.com/CYppQf7wBA9HRUYjHAd82r</a>
Sexto Grado 2022 – 2023	<a href="https://chat.whatsapp.com/K4fj8WiPbkZ2RtCDH1EJcx">https://chat.whatsapp.com/K4fj8WiPbkZ2RtCDH1EJcx</a>
Primer Grado De Primaria	<a href="https://chat.whatsapp.com/IR2nMeat0CWKOhAMLhe7U0">https://chat.whatsapp.com/IR2nMeat0CWKOhAMLhe7U0</a>
Segundo Grado De Primaria	<a href="https://chat.whatsapp.com/CkePgSyaQh1JiS1cSIOTnP">https://chat.whatsapp.com/CkePgSyaQh1JiS1cSIOTnP</a>
Tercer Grado De Primaria	<a href="https://chat.whatsapp.com/Lm7RHR9Urdf1mSpKPBjTWK">https://chat.whatsapp.com/Lm7RHR9Urdf1mSpKPBjTWK</a>
Cuarto Grado De Primaria	<a href="https://chat.whatsapp.com/ImvWWNyvfMCGclZzpRHmYj">https://chat.whatsapp.com/ImvWWNyvfMCGclZzpRHmYj</a>
Quinto Grado De Primaria	<a href="https://chat.whatsapp.com/L1yH7fTStOkB1SMkozfqfD">https://chat.whatsapp.com/L1yH7fTStOkB1SMkozfqfD</a>
Sexto Grado De Primaria	<a href="https://chat.whatsapp.com/JON96BEiLMh5GeQgkdYcJF">https://chat.whatsapp.com/JON96BEiLMh5GeQgkdYcJF</a>

## Grupos de Telegram:



Nombre del grupo:	Enlace para unirte:
Material Educativo	<a href="https://t.me/+9lHVu6TM6NjMzBh">https://t.me/+9lHVu6TM6NjMzBh</a>
Primer Grado De Primaria	<a href="https://t.me/+P_tocv7pIAkzNGEx">https://t.me/+P_tocv7pIAkzNGEx</a>
Segundo Grado De Primaria	<a href="https://t.me/+lpMcBB0jCgs5Nzlx">https://t.me/+lpMcBB0jCgs5Nzlx</a>
Tercer Grado De Primaria	<a href="https://t.me/+2uOuORxbemQwZjRh">https://t.me/+2uOuORxbemQwZjRh</a>
Cuarto Grado De Primaria	<a href="https://t.me/+JuTdpqAlvqEyNjZh">https://t.me/+JuTdpqAlvqEyNjZh</a>
Quinto Grado De Primaria	<a href="https://t.me/+wHpCJ-TvP7gwYjZh">https://t.me/+wHpCJ-TvP7gwYjZh</a>
Sexto Grado De Primaria	<a href="https://t.me/+JLXLZORU2d41NTEEx">https://t.me/+JLXLZORU2d41NTEEx</a>

Visita:

<https://materialeducativo.org/> <->

<https://materialeseducativos.mx>