






# اختبار قصير ( 3 ) في مادة الرياضيات للصف الثالث

الاسم: ..... الصف: .....

رقم سؤال	السؤال
1	<p>اشترى علي 3 علب حلوى ، ثمن العلبة الواحدة 5 ريالات . كم ريالاً دفع للبائع؟</p> <p>10 ريال      12 ريال      15 ريال      20 ريال</p>
2	<p>إذا أشار عقرب الدقائق الى الرقم 6 فإن الدقائق تساوي :</p> <p>10 دقائق      15 دقيقة      20 دقيقة      30 دقيقة</p>
3	<p>3 ريال = ——— بيسة</p>
4	<p>الأسبوع فيه ---- أيام .</p>

2	<p>5 ضع علامة <math>\sqrt{\quad}</math> أو <math>\times</math> أمام كل عبارة بما يناسبها:</p> <p>( ) ريال تساوي 5000 بيسة 5 )</p> <p>( بيسة فيها 4 قطع من فئة 25 بيسة 100 )</p> <p>( يوم الجمعة هو أول أيام الأسبوع ) 3</p>	5
1	<p>-6 ارسم عقربي الساعة التي تشير إلى تمام الساعة السادسة</p> 	
3	<p>1- اذا كان لديك 4ريالات ، اشتريت الكرة ، كم ريال يتبقى معك؟ _____</p> <p>2- ما ثمن الكتاب والكرة؟ _____</p> <div data-bbox="252 1473 1246 1989">  <div> <div>  <p>٢,٤٠٠ ريال</p> </div> <div>  <p>٣,٦٠٠ ريال</p> </div> <div>  <p>٣٠٠ بيسة</p> </div> </div> </div>	

