

Contoh Soal Penilaian Harian

Tema : 6. Merawat Hewan dan Tumbuhan	Nama :
Sub Tema : 2. Merawat Hewan di Sekitarku	Kelas/Semester : II/II (Dua/Dua)
	Hari/Tanggal :

Kerjakan soal – soal di bawah ini dengan teliti dan benar !

BELAJAR DI KELAS

A. Soal I

TATA TERTIB SEKOLAH

1. Semua siswa hadir di sekolah selambat-lambatnya 10 menit sebelum jam pelajaran dimulai.
2. Siswa yang terlambat harus minta izin kepala sekolah sebelum masuk kelas.
3. Siswa yang piket harus datang lebih awal.
4. Siswa yang tidak masuk karena suatu hal harus izin kepada guru.
5. Setiap siswa wajib berpakaian rapi dan bersih sesuai dengan ketentuan sekolah.
6. Bagi siswa perempuan dilarang memakai perhiasan yang berlebihan.
7. Selama jam sekolah dilarang keluar halaman sekolah tanpa seizin guru piket.
8. Setiap hari Senin, siswa diwajibkan mengikuti upacara bendera dengan memakai seragam sekolah lengkap.
9. Setiap siswa wajib menjaga nama baik sekolah.
10. Pelanggaran terhadap tata tertib sekolah akan mendapatkan sanksi.

1. Aturan yang menunjukkan tentang pakaian ditunjukkan oleh nomor



Peserta wajib hadir 30 menit sebelum ujian dimulai sesuai dengan pemesanan waktu ujian. Testing center tidak akan melayani Peserta yang datang terlambat. Bagi peserta terlambat akan dianggap tidak hadir, sehingga voucher yang telah diberikan menjadi tidak berlaku dan tidak mendapatkan pengembalian atau kompensasi.



2. Paragraf di atas menjelaskan agar peserta ujian datang sebelum ujian dimulai
3. *Setiap hari Minggu, Lani membantu Ayah membersihkan kandang ayam.*

Salinlah menggunakan huruf tegak bersambung dengan benar.


Ayam perlu dirawat dengan baik agar tidak mudah sakit. Kandang Ayam perlu dibersihkan agar lingkungan bersih dan sehat. Ayam juga perlu diberi makan secara teratur. Ayam juga perlu diberi Vaksin agar tidak mudah sakit.

4. Lingkari tanda baca yang ada pada paragraf di atas.
5. Ani memiliki apel sebanyak 2 kg. Ida memiliki anggur sebanyak 500 gram. Eka memiliki stroberi sebanyak 10 kg. Berat semua buah milik Ani, Ida dan Eka adalah gram


No.	Benda	Berat
1		
2		

3		
4		

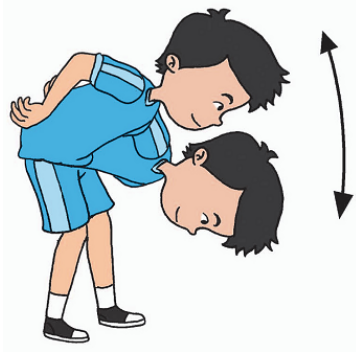
6. Tentukan berat masing-masing gambar dengan benar.



7. Gerakan yang dilakukan dari gambar di atas yaitu



8. Gerakan yang dilakukan dari gambar di atas yaitu



9. Gerakan di atas disebut dengan gerakan



10. Gerakan yang dilakukan dari gambar di atas yaitu

Kunci Jawaban

A. Soal I

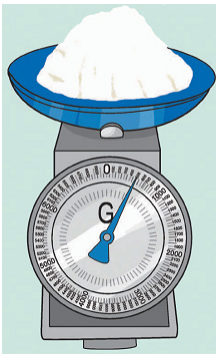
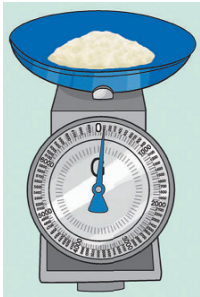
1. Nomor 5
2. 30 menit
3. Setiap hari Minggu, Lani membantu Ayah membersihkan kandang ayam.



4.

Ayam perlu dirawat dengan baik agar tidak mudah sakit. Kandang Ayam perlu dibersihkan agar lingkungan bersih dan sehat. Ayam juga perlu diberi makan secara teratur. Ayam juga perlu diberi Vaksin agar tidak mudah sakit.

5. $2 \text{ kg} = 2000 \text{ gram}$, $10 \text{ kg} = 10000 \text{ gram}$
 $2000 + 500 + 10000 = 12500 \text{ gram}$

6.

No	Benda	Berat
1		500 gram
2		100 gram

3		250 gram
4		200 gram

7. Gerakan lari berbelok-belok sesuai pola
8. Gerakan mengepakkan sayap seperti ayam
9. Gerakan kepala ayam ketika makan
10. Gerakan lari di tempat dengan lutut terangkat