

Crea un anuncio para promover la venta de una crema corporal teniendo en cuenta los siguientes elementos:

- Frase principal
- Colores llamativos
- Texto
- Personas a las que va dirigido.



Lee las siguientes etiquetas y contesta las preguntas al final de la hoja. Puedes ayudarte de tu libro de Español en las páginas 91 a la 97 de 4°.

Información Nutricional	
Tamaño de porción:	30g (2 galletas aprox.)
Porción por envase:	8.3 aprox.
Contenido energético	602 KJ (144 kcal)
Proteínas	2g
Grasas	4g
Grasas Saturadas	4g
Colesterol	10mg
Carbohidratos	6g
Azúcares	6g
Sodio	36g

Información Nutricional	
<i>Tamaño de la porción 1 lara (140g) (por ración de 56g escurrida)</i>	
Cantidad Por Porción	
Calorias	90
Grasas	3(g)
Proteínas	16(g)
Carbohidratos	0(g)
Calcio	4(g)
Sodio	160(mg)
Fósforo	130(mg)
Hierro	1(mg)

Observa el siguiente anuncio y contesta la tabla.



Contenido	Si	No
La imagen es llamativa.		
Tiene frase principal o eslogan.		
Menciona para quién es el producto.		
Aparecen personas.		
Contiene algún texto breve extra.		

Resuelve el crucigrama escribiendo las palabras que hablan de los temas tratados en los tres diferentes proyectos que estudiaste.

que estudiaste.

HORIZONTALES

1. Consumidor que analiza la información de los productos para escoger el mejor para él y el medio ambiente.
2. En un poema, palabras cuyas terminaciones son iguales.
3. Plática entre dos personas.
4. Tipo de pregunta que permite dar una respuesta más amplia o explicada.
5. Tipo de consumo donde se compara calidad y precio antes de decidir qué se va a comprar.

VERTICALES

6. Conjunto de preguntas que se hacen a una persona para conocer sus opiniones sobre algún tema.
7. Consumo donde se cuida el ambiente al elegir productos ecológicos.
8. ¿? estos signos se llaman de.....
9. Tipo de discurso donde se escribe la respuesta tal como se dijo el entrevistado.
10. Recurso usado en las poemas para decir que una cosa se parece a otra.

Observa lo siguiente:

Contenido: mayonesa a base de leche, huevo, aceite puro y especias diversas.

SABORÍSIMO

Peso 600 grs. \$43.00

A

Contenido: aceite de oliva, leche descremada, huevos.

120 calorías por porción

Envase de vidrio

Precio \$65.00

Importada de Italia

Presentación de 250 ml

Dudas: 018003 968746

B

Contenido: leche, huevos y jugo de limón.

25 calorías por porción.

RIQUÍSIMO

Precio por envase \$32.00

Producto Nacional

Presentación de 250 ml.

C

Estos son envases con mayonesa en diferentes presentaciones, fórmulas de preparación y con diferente precio también. En cada rectángulo se amplía la información de las etiquetas.

De acuerdo al pensamiento de cada ama de casa, escribe cuál fue la presentación que eligieron para comprar y después contesta las preguntas de la siguiente hoja.

Yo prefiero aquellos productos que vienen en envases fácilmente degradables, claro que también me fijo en el precio y la calidad.

Sra. Gómez

No, yo prefiero todo lo extranjero, es de mejor calidad aunque me cueste más dinero.

Sra. Estrada

Yo busco productos de mi país y desde luego ¡quiero más por mi dinero!

Sra. Márquez

Observa con atención y siguiendo las pistas busca los cuadriláteros y píntalos.

¡Búscalos!


¡Aquí hay uno!

¿Habrá aquí?

¿Cuáles son?

CUADRILÁTEROS

Observa con atención las figuras que aparecen en la pantalla de la televisión.

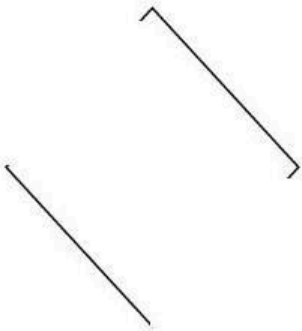
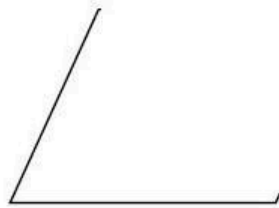


Busca sus nombres y píntalos.

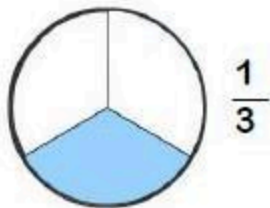
O	L	O	S	P	O	L	I	G	O	N	O
D	U	R	O	M	B	O	I	D	E	Q	S
A	E	T	I	E	N	E	N	C	U	A	T
R	T	R	A	P	E	C	I	O	L	O	R
D	A	D	O	S	S	E	L	L	A	M	A
A	N	O	L	U	G	N	Á	T	C	E	R
U	C	U	A	O	B	M	O	R	D	R	I
C	E	D	I	O	Z	E	P	A	R	T	L

Anota las palabras que encontraste.

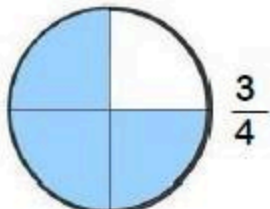
Completa los siguientes cuadriláteros, trazando las líneas que faltan y anota el nombre.



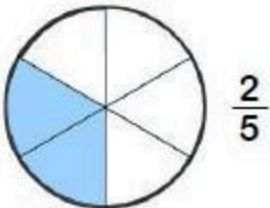
Utiliza diferentes colores para seguir el camino que una las fracciones equivalentes.



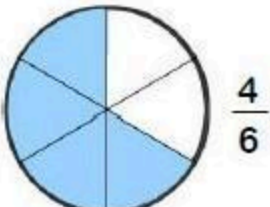
$$\frac{1}{3}$$



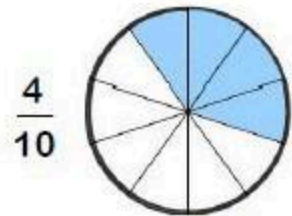
$$\frac{3}{4}$$



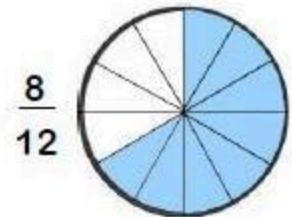
$$\frac{2}{5}$$



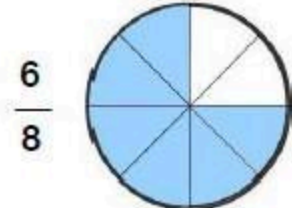
$$\frac{4}{6}$$



$$\frac{4}{10}$$



$$\frac{8}{12}$$

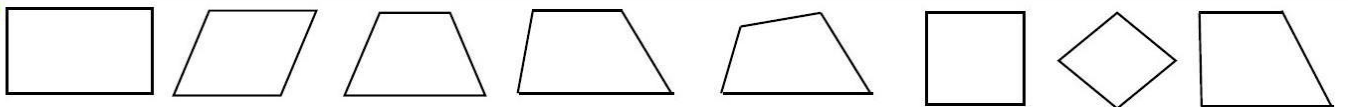
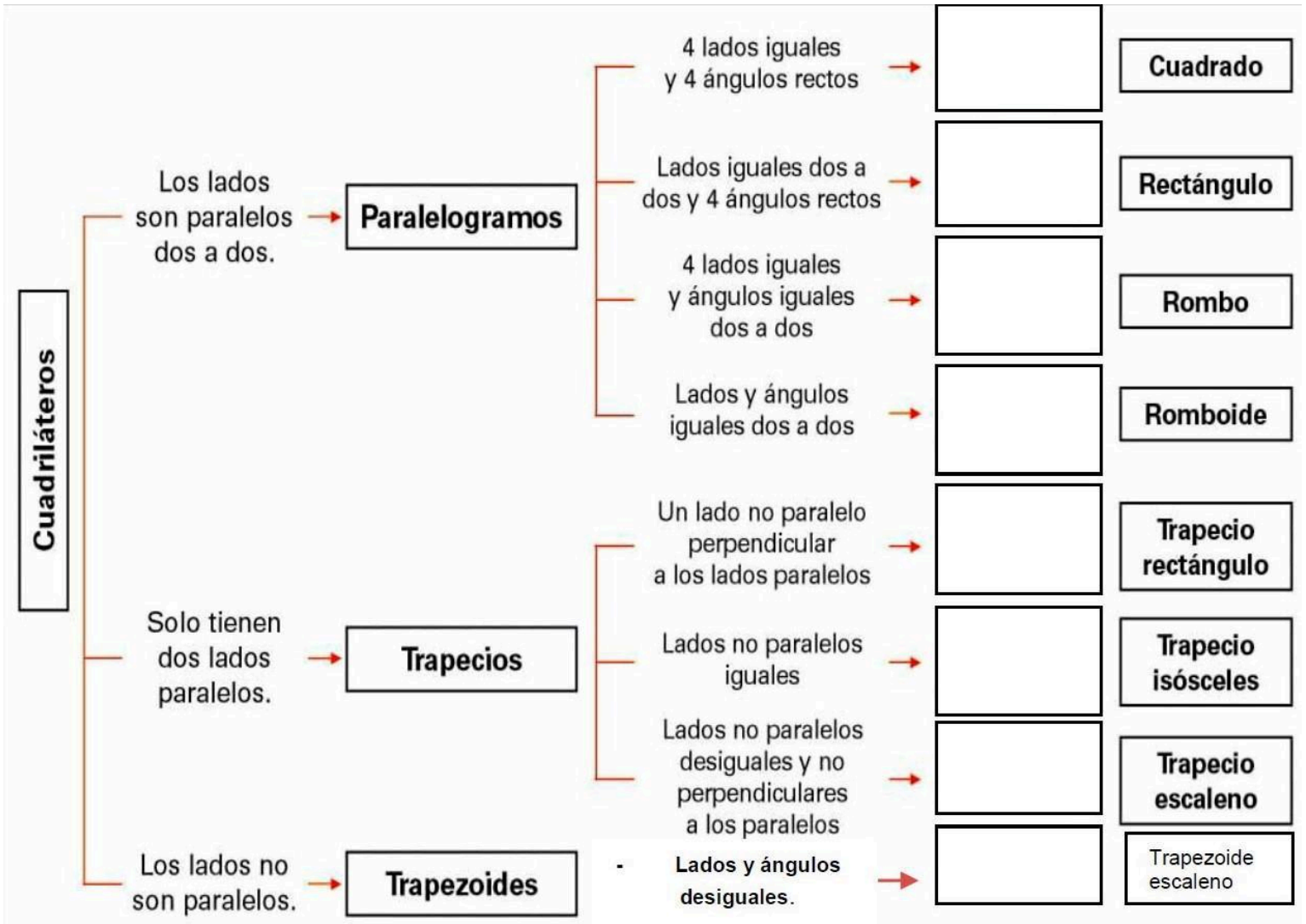


$$\frac{6}{8}$$

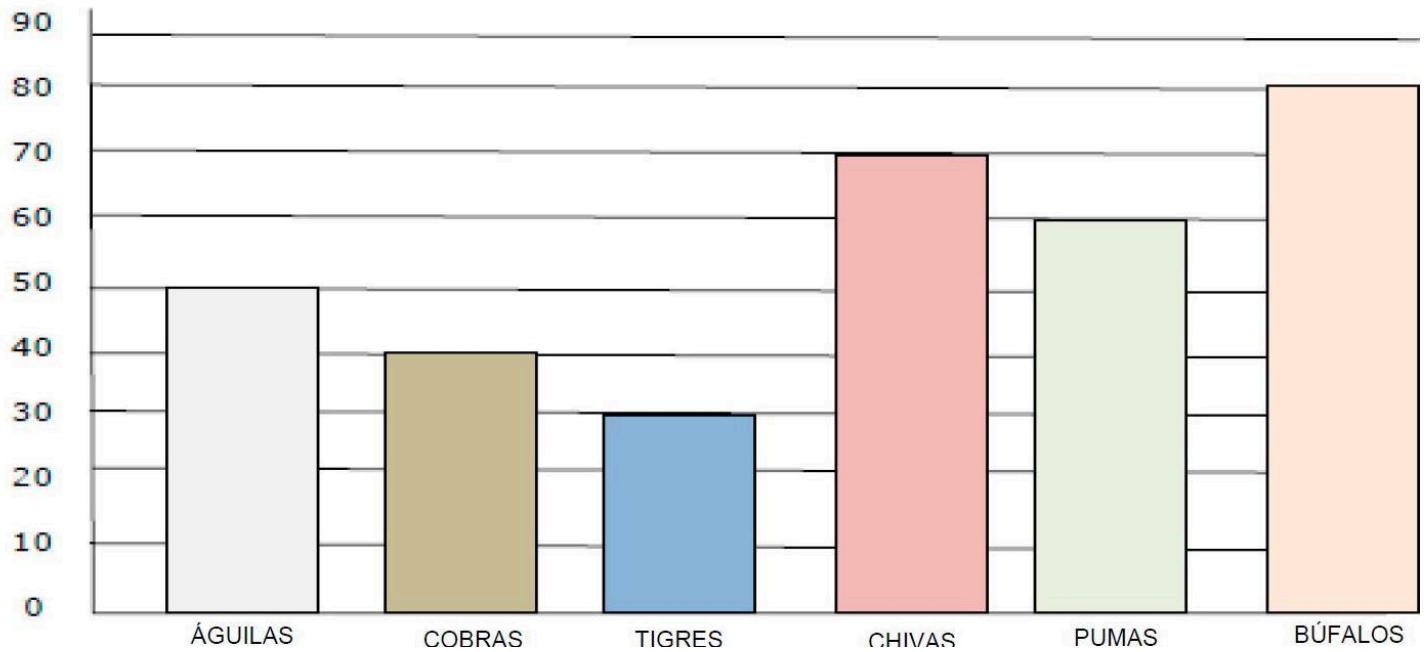


$$\frac{3}{9}$$

Recorta de la parte inferior de la hoja los cuadriláteros y pégalos en el lugar que les corresponda de acuerdo a las características que se dan.



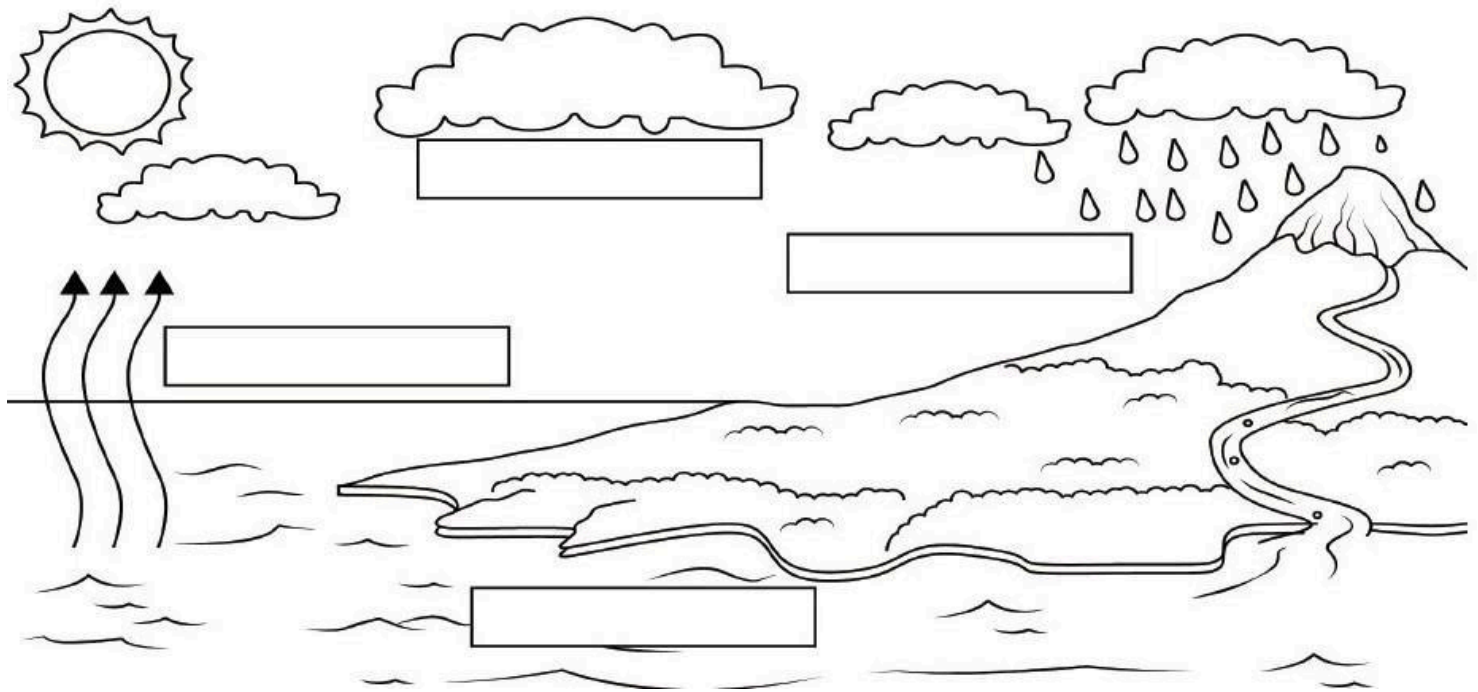
En la siguiente gráfica se anotaron los goles que metió cada equipo en un torneo.



Responde las siguientes preguntas de acuerdo a la gráfica.

1. ¿Cuál equipo anotó el doble de goles de los que anotaron los Tigres? _____
2. ¿Cuántos goles más anotaron las Águilas que los Tigres? _____
3. ¿Por la cantidad de goles metidos, ¿cuál equipo quedaría en segundo lugar? _____
4. ¿Cuál fue el equipo que anotó más goles? _____
5. ¿Por cuántos goles le ganan los Pumas a las Cobras? _____

Recorta de la parte inferior de la hoja los nombres del ciclo del agua y pega en el lugar que corresponda.



Condensación Evaporación Precipitación Acumulación

observa las imágenes y contesta las preguntas.

Deliciosos Hot Cakes




Geografía

Anexo 01

Escribe la palabra urbano o rural en cada una de las imágenes según corresponda y coloréalas.


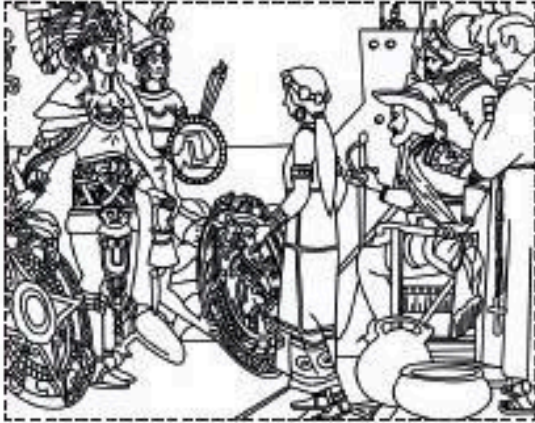


Escribe en cada círculo el número de la actividad que corresponda según las ilustraciones. Apóyate en tu libro de Geografía en las páginas 117- 123 del 4°.




- | | | |
|--|-----------------------------|-----------------------|
| 1) Ganadería extensiva | 2) Actividad forestal | 3) Actividad pesquera |
| 4) Ganadería intensiva | 5) Ganadería de autoconsumo | 6) Actividad pecuaria |
| 7) Es el cultivo más importante en nuestro país. | | |

Recorta y pega las imágenes en tu cuaderno, realiza una historieta sobre la Conquista de México Tenochtitlan; utiliza tu libro de texto páginas 90 a la 96 de 4°.




Malitzin



Jerónimo Aguilar




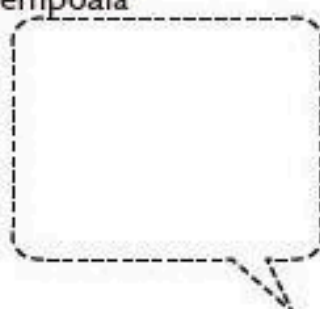


Hernán Cortés



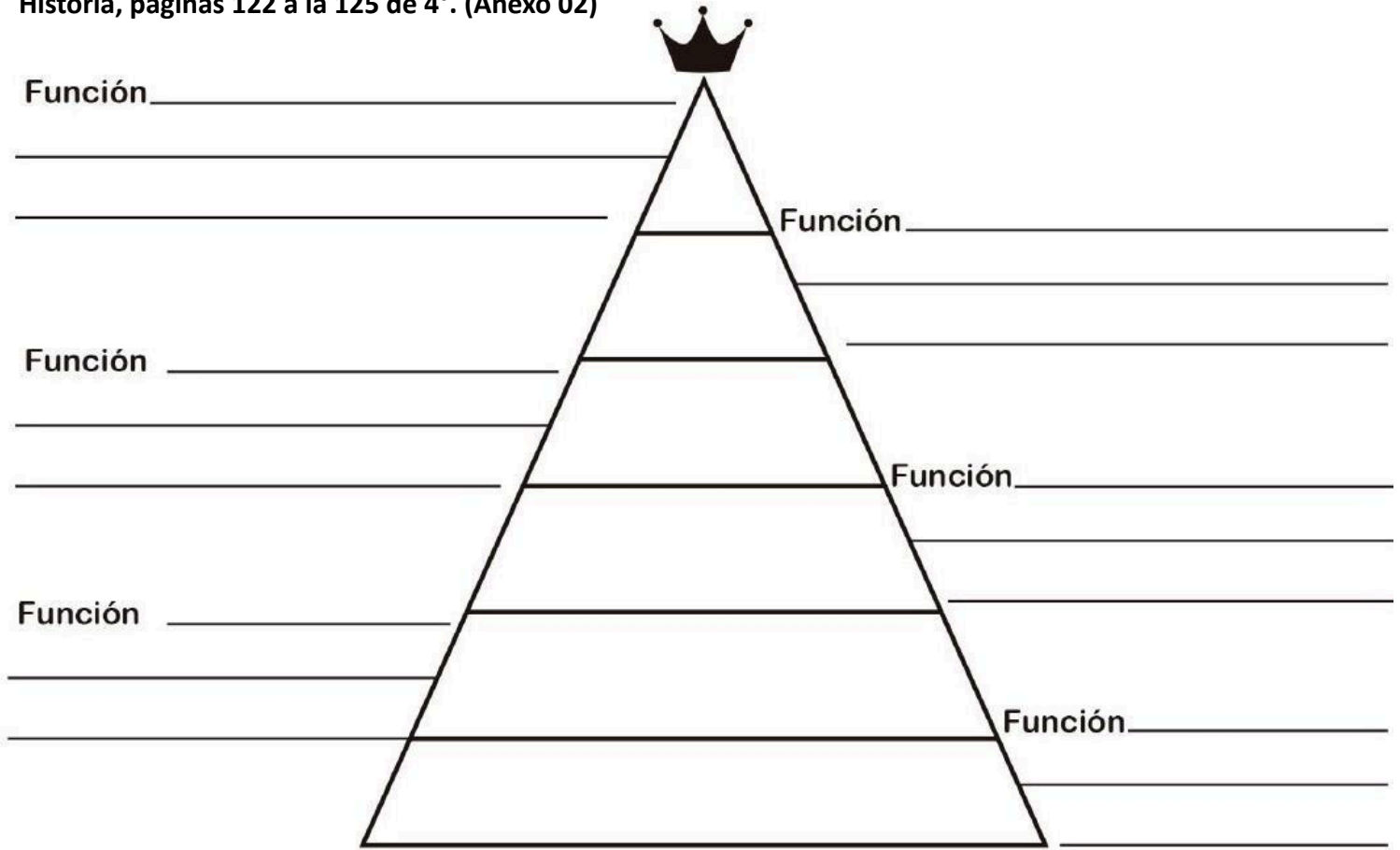
Cempoala



Moctezuma



Escribe en la pirámide la organización política de la Nueva España y sus funciones. Contesta con tu libro de Historia, páginas 122 a la 125 de 4°. (Anexo 02)



VISITA:

<https://materialeducativo.org/>

&

<https://materialeseducativos.m>

X

