

ESCOLA MUNICIPAL RITA CARMELINDA ROCHA

PROFESSOR(A): Leidiana da Silva Acres

Ano: 2021

3º Ciclo 7º ano

Atividade Nº23

Disciplina: Geografia

Turno: Manhã

Data: 10/09/2021

Habilidades: EF07GE04 e EF07GE09

**ORIENTAÇÕES AOS PAIS E RESPONSÁVEIS**

Sempre que possível ajude seu (sua) filho(a), a executar as atividades que estão sendo proposta neste momento de ensino a distância

**DICA PARA O ALUNO (A)**

Orientações para desenvolver o trabalho

Preencha o cabeçalho com seu nome completo e turma .

Após terminar esta atividade, encaminhe no meio de comunicação disponibilizado.

**QUER SABER MAIS**

Dicas de pesquisa e aprofundamento do componente

**IBGE Educa – Nosso povo**

<https://educa.ibge.gov.br/criancas/brasil/nossopovo/19632-nosso-povo.html>>

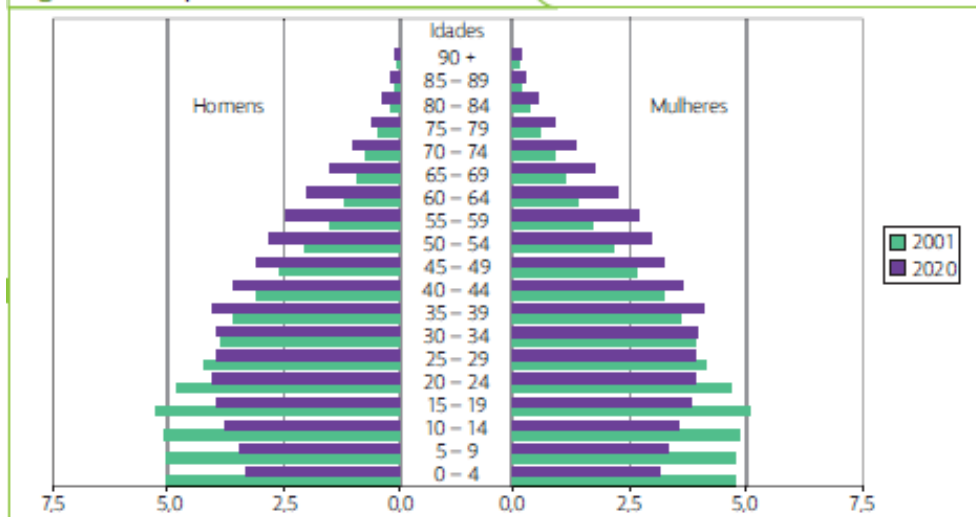
Esse *site* apresenta características da população brasileira, como a população total, a pirâmide etária, o nível de escolaridade, entre outras.

**Caro (a) aluno(a)! Para a realização das atividades desta atividade, consulte também o texto da atividade 22.**

**As pirâmides etárias**

A pirâmide populacional do Brasil é uma representação gráfica que permite observar que o país apresenta uma tendência de aumento de idosos e de diminuição de jovens. A composição dos habitantes do país por idade e sexo é representada por meio de um gráfico, a pirâmide etária. Ela é formada por duas sequências de gráficos de barra, uma para os homens e outra para as mulheres. Cada barra representa a porcentagem da população (masculina ou feminina) que pertence a determinada faixa etária. Veja a pirâmide da figura 7.

Figura 7. Brasil: pirâmide etária - 2001 e 2020\*



Fonte: elaborado com base em IBGE. *Projeção da população do Brasil e das Unidades da Federação*. Disponível em: <[www.ibge.gov.br/apps/populacao/projecao/](http://www.ibge.gov.br/apps/populacao/projecao/)>. Acesso em: jul. 2018.  
\*Projeção.

## ATIVIDADES

1. Quais indicadores apontam que a população brasileira está envelhecendo?
2. Considerando que a população brasileira tende a ficar mais velha e que a taxa de fecundidade do país tende a cair ainda mais, responda:
  - a) Como você imagina a pirâmide etária do Brasil no ano 2050?
  - b) Desenhe no caderno uma pirâmide que represente essa realidade.
3. Sobre o crescimento vegetativo, responda: O que é e o que ele informa sobre a população de um país?
4. Pensando em como a taxa de natalidade, a expectativa de vida e a taxa de fecundidade mudaram no Brasil, aponte os fatores que motivaram tais mudanças em cada item abaixo.
  - a) Redução na taxa de natalidade.
  - b) Aumento na expectativa de vida.
5. Leia atentamente as afirmações abaixo e responda: Quais podem explicar a redução da taxa de fecundidade no Brasil?
  - a) As mulheres não podem mais ter filhos.
  - b) Entrada e permanência da mulher no mercado de trabalho.

- c) Ampla oferta de creches nos locais de trabalho.
- d) Pouca oferta de creches próximo aos locais de trabalho.
- e) Amplo uso dos métodos contraceptivos, como as pílulas anticoncepcionais.
- f) Aumento da taxa de natalidade.

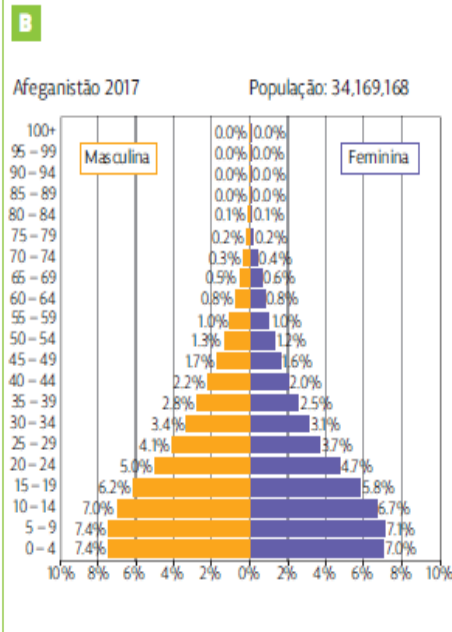
6. Leia atentamente as afirmações abaixo e responda: Quais podem explicar o aumento na expectativa de vida?

- a) Redução na taxa de mortalidade.
- b) Atualmente, cada mulher, em média, tem 6 filhos.
- c) Melhoria das condições de vida (saúde e saneamento básico).
- d) Redução da taxa de mortalidade infantil.
- e) Aumento da criminalidade.
- f) Aumento do número de mulheres em relação ao de homens

7- Como é interpretada uma pirâmide etária?

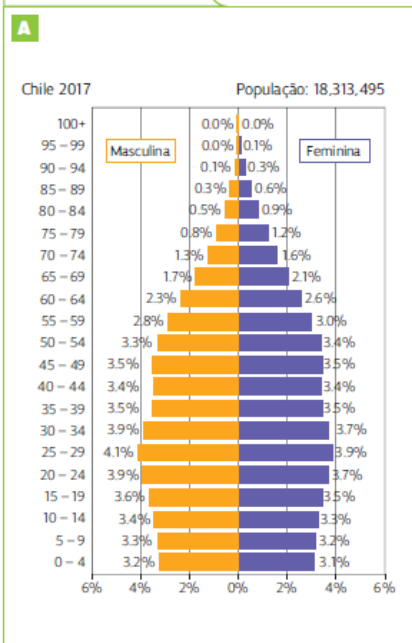
**8- Analise os gráficos**

### Pirâmide etária do Afeganistão



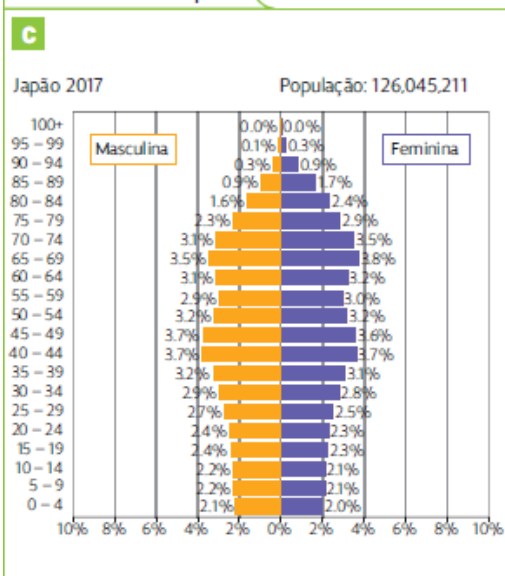
Fonte: elaborado com base em populationpyramid.net. Pirâmides populacionais do Mundo desde 1950 até 2100. Disponível em: <www.populationpyramid.net/pt/afeganistao/C3%A3o/2017/>. Acesso em: ago. 2018.

### Pirâmide etária do Chile



Fonte: elaborado com base em populationpyramid.net. Pirâmides populacionais do Mundo desde 1950 até 2100. Disponível em: <www.populationpyramid.net/pt/chile/2017/>. Acesso em: ago. 2018.

### Pirâmide etária do Japão



Fonte: elaborado com base em populationpyramid.net. Pirâmides populacionais do Mundo desde 1950 até 2100. Disponível em: <www.populationpyramid.net/pt/japao/C3%A3o/2017/>. Acesso em: ago. 2018.

**Leia as frases a seguir e observe as pirâmides etárias do Chile, do Afeganistão e do Japão. Depois, relacione no caderno a pirâmide de cada país com sua respectiva descrição e justifique sua resposta.**

**a) População envelhecida, taxa da natalidade muito reduzida, crescimento vegetativo negativo, a população idosa supera a população de crianças.**

**b)** População com maioria de crianças e adolescentes, baixa expectativa de vida, taxa de fecundidade alta.

**c)** População jovem, em processo de transição: aumentando a expectativa de vida e reduzindo a taxa de natalidade, a maior parte da população encontra-se em idade economicamente