



GUÍA N°5 MATEMÁTICA

Profesa: Tatiana Saavedra G.

OBJETIVOS	<p>Objetivos específicos:</p> <p>MA02 OA 09</p> <p>Demostrar que comprende la adición y la sustracción en el ámbito del 0 al 100: usando un lenguaje cotidiano y matemático para describir acciones desde su propia experiencia; resolviendo problemas con una variedad de representaciones concretas y pictóricas, de manera manual y/o usando software educativo; registrando el proceso en forma simbólica; aplicando los resultados de las adiciones y sustracciones de los números del 0 a 20 sin realizar cálculos; aplicando el algoritmo de la adición y sustracción sin considerar reserva; creando problemas matemáticos en contextos familiares y resolviéndolos.</p>
Nombre:	
Curso:	Segundo básico

- Cuenta hasta el 100 de 2 en 2. Pinta los números con color amarillo.
- Cuenta hasta el 100 de 5 en 5. Pinta los números con color verde.
- Cuenta hasta el 100 de 10 en 10. Pinta los números con color rojo.

1	2	3	4	5	6	7	8	9	10
11	1	1	1	1	1	1	1	1	20
	2	3	4	5	6	7	8	9	
2	2	2	2	2	2	2	2	2	30
1	2	3	4	5	6	7	8	9	
3	3	3	3	3	3	3	3	3	40
1	2	3	4	5	6	7	8	9	
4	4	4	4	4	4	4	4	4	50
1	2	3	4	5	6	7	8	9	



GUÍA N°5 MATEMÁTICA

Profesa: Tatiana Saavedra G.

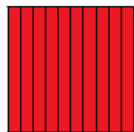

5	5	5	5	5	5	5	5	5	60
1	2	3	4	5	6	7	8	9	
6	6	6	6	6	6	6	6	6	70
1	2	3	4	5	6	7	8	9	
7	7	7	7	7	7	7	7	7	80
1	2	3	4	5	6	7	8	9	
8	8	8	8	8	8	8	8	8	90
1	2	3	4	5	6	7	8	9	
9	9	9	9	9	9	9	9	9	10
1	2	3	4	5	6	7	8	9	0

La centena


1 centena = 10 decenas = 100 unidades

1C = 10 D = 100 U

Una centena se representa de varias formas:



C	D	U
1	0	0



100 U = 10 D = 1 C

I. Completa los números que falten.



GUÍA N°5 MATEMÁTICA

Profesa: Tatiana Saavedra G.

	282			285					
290							297		

Contamos de 1 en 1

300		302		304		306			
------------	--	-----	--	-----	--	-----	--	--	--

310		312		314			317		
-----	--	-----	--	-----	--	--	-----	--	--

320	321						327		
------------	-----	--	--	--	--	--	-----	--	--

Contamos de 2 en 2

330		334			340			346	
------------	--	-----	--	--	------------	--	--	-----	--

350		354			360				
------------	--	-----	--	--	------------	--	--	--	--

370		374			380				
------------	--	-----	--	--	------------	--	--	--	--

Contamos de 3 en 3



GUÍA N°5 MATEMÁTICA

Profesa: Tatiana Saavedra G.

390				402	405			414	
------------	--	--	--	------------	------------	--	--	-----	--

420				432					
------------	--	--	--	------------	--	--	--	--	--

450					465				
-----	--	--	--	--	------------	--	--	--	--

Contamos de 5 en 5

500	505				525				
-----	-----	--	--	--	------------	--	--	--	--

III. Lee cuidadosamente antes de responder.

I. Lee atentamente y marca la alternativa correcta

1. El número 85 se lee:

- a) Ochenta y cinco
- b) Ocho y cinco
- c) Cincuenta y ocho
- d) Ochocientos cinco

2. El número sesenta y siete se escribe:

- a) 76
- b) 607
- c) 77
- d) 67

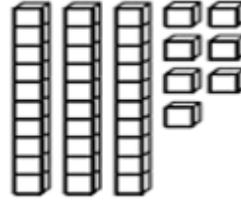


GUÍA N°5 MATEMÁTICA

Profesa: Tatiana Saavedra G.

3. El número que representa la cantidad de cubos es:

- a) 37
- b) 307
- c) 73
- d) 27



4. El número 150 se lee:

- a. Ciento cincuenta
- b. Ciento cincuenta
- c. Cincuenta
- d. Ciento

5. El número 200 se lee:

- a. Doscientos
- b. Dos y ciento
- c. Cien y cien
- d. Veinte

6. El numero cuatrocientos noventa y seis corresponde a:

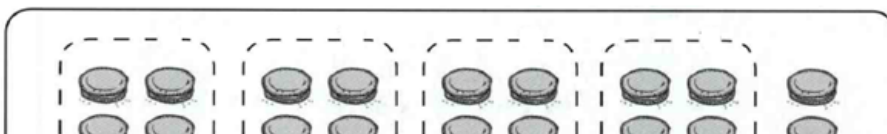

- a. 406
- b. 469
- c. 604
- d. 496

7. El numero trecientos veintiocho corresponde a:

- a. 308
- b. 328
- c. 283
- d. 382

IV. Observa el cuadro e indica la cantidad de unidades y decenas

¿Cuántas decenas y unidades hay?





GUÍA N°5 MATEMÁTICA

Profesa: Tatiana Saavedra G.

V. Escribe el antecesor y sucesor de los siguientes números. Sigue el ejemplo.

NÚMERO ANTERIOR		NÚMERO POSTERIOR
266	267	268
<input type="text"/>	255	<input type="text"/>
<input type="text"/>	299	<input type="text"/>
<input type="text"/>	200	<input type="text"/>
<input type="text"/>	232	<input type="text"/>



GUÍA N°5 MATEMÁTICA

Profesa: Tatiana Saavedra G.

--	--	--	--

VI. Escribe los siguientes números en orden, desde el menos al mayor.

356	205	105	456

300	200	500	100
-----	-----	-----	-----

--	--	--	--

114	314	214	414

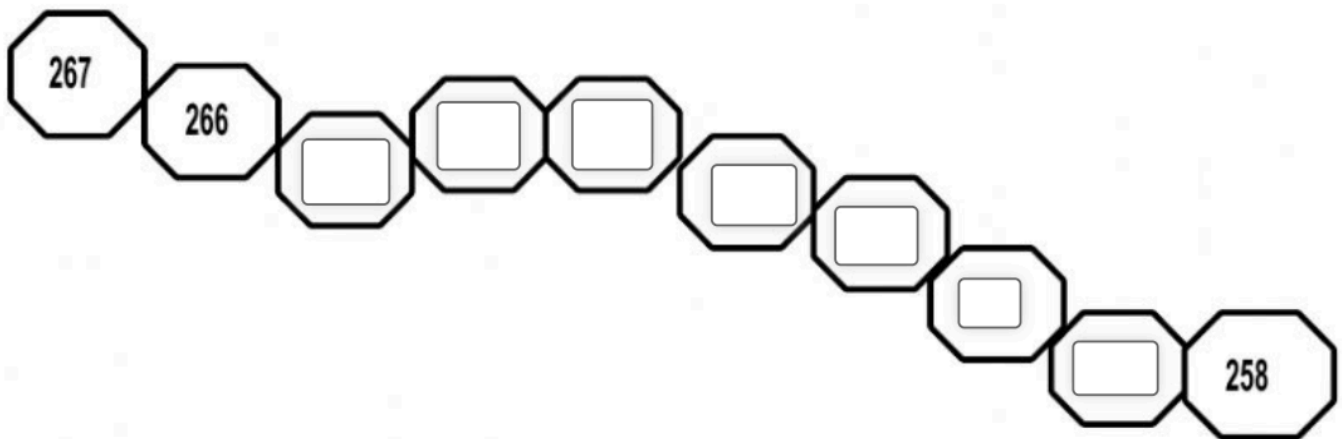
97	145	472	233
----	-----	-----	-----



GUÍA N°5 MATEMÁTICA

Profesa: Tatiana Saavedra G.

3) Completa la siguiente serie descendente:



VII. Escribe con letras los siguientes números.

366	Trescientos sesenta y seis
323	<input type="text"/>
308	<input type="text"/>
380	<input type="text"/>
377	<input type="text"/>





GUÍA N°5 MATEMÁTICA

Profesa: Tatiana Saavedra G.

Buen trabajo. Nunca te rindas.