

Ответы на задание 2 части к уроку
“Культура 1917-1945 гг.”

1.1. Укажите название войны, события которой изображены на марке стрелками. Используя изображение, приведите одно любое обоснование Вашего ответа.



Ответ:

- 1) война — Гражданская;
- 2) обоснование, например: на марке указано действие флота под командованием Врангеля, сохранена символика Советского государства, что соответствует событиям, произошедшим в годы Гражданской войны.

1.2. Какой из представленных ниже памятников архитектуры был создан до события, которому посвящён выпуск марки? В ответе запишите цифру,

которой обозначен этот памятник архитектуры. Назовите архитектора, по проекту которого создан данный памятник архитектуры.

1.




2.



3.



4.



Ответ:

1) 1

2) Шервуд, Семенов

2.1. Укажите событие, к годовщине которого приурочен выпуск марки. Используя изображение, приведите одно любое обоснование Вашего ответа.



Ответ:

- 1) событие — смерть В. И. Ленина;
- 2) обоснование, например: на марке изображён В. И. Ленин и указаны годы 1924-1954, 1924 - год смерти В. И. Ленина.

2.1. Какой из представленных ниже памятников архитектуры был создан в период жизни исторического деятеля, изображённого на марке? В ответе

запишите цифру, которой обозначен этот памятник архитектуры. Укажите город, в котором находится данный памятник архитектуры.



Ответ:

1) 3

2) Москва

3.1. Укажите название плана, юбилею реализации которого посвящён выпуск марки. Используя изображение, приведите одно любое обоснование Вашего ответа.



Ответ:

- 1) название плана — план электрификации Советской России (план ГОЭЛРО);
- 2) обоснование, например: на марке указан год выпуска - 1961 г. То есть событие, юбилею которого посвящён выпуск марки, происходило в 1920-е гг. На марке изображены гидроэлектростанции и показана карта воплощения плана электрификации.

3.2. Какой из представленных ниже памятников архитектуры был создан в период жизни исторического деятеля, изображённого на марке? В ответе запишите цифру, которой обозначен этот памятник архитектуры. Назовите архитектора, по проекту которого был создан этот памятник архитектуры.



Ответ:

1) 3

2) Шехтель

4.1. Укажите с точностью до половины десятилетия период, раньше которого не мог быть выпущен данный плакат. Используя изображение, приведите одно любое обоснование Вашего ответа.



Ответ:

- 1) период — вторая половина 1930-х гг.;
- 2) обоснование, например: плакат призывает подписываться на заём третьей пятилетки, которая началась в 1938 г., следовательно раньше второй половины 1930-х гг. он не мог быть выпущен.

4.2. Какой из представленных ниже скульптурных памятников был создан при том же руководителе СССР, при котором был выпущен данный плакат? В ответе запишите цифру, которой обозначен этот скульптурный

памятник. Укажите стиль, в котором создан данный скульптурный памятник.



Ответ:

- 1) 4
- 2) социалистический реализм

5.1. Назовите командира экипажа в ходе перелёта, которому посвящена марка. Используя изображение, приведите одно любое обоснование Вашего ответа.



Ответ:

- 1) командир экипажа — В. П. Чкалов;
- 2) обоснование, например: на марке обозначен перелёт через Северный полюс с территории нашей страны в США. Марка выпущена к 75-летию перелёта и на ней указан год выпуска — 2012. $2012 - 75 = 1937$. Перелёт состоялся в 1937 г. В этом году перелёт через Северный полюс совершил экипаж под руководством В. П. Чкалова

2.2. Какой из представленных ниже памятников архитектуры был создан после события, годовщине которого посвящена марка? В ответе запишите цифру, которой обозначен этот памятник архитектуры. Назовите город, где находится этот памятник архитектуры.



Ответ:

- 1
- Москва

6.1. Укажите один любой год, когда могли происходить события, изображённые на картине, размещённой на марке. Используя изображение, приведите одно любое обоснование Вашего ответа.



Ответ:

- 1) год, например: - 1941; - 1942;
- 2) обоснование, например: картина называется «Оборона Севастополя». Оборона Севастополя велась в годы Крымской и Великой Отечественной войны. О том, что на картине изображена Великая Отечественная, а не Крымская война, свидетельствуют форма защитников города и их противников, а также их вооружение. В период Великой Отечественной войны оборона Севастополя велась в 1941 и 1942 гг.

6.2. Какой из представленных ниже памятников скульптуры был создан в память о событиях войны, которой посвящён выпуск марки? В ответе запишите цифру, которой обозначен этот памятник скульптуры. Укажите современное название города, где установлен данный памятник.


1.	2.
----	----



3.



4.



Ответ:

- 2
- Волгоград

7.1. Укажите с точностью до половины десятилетия период, когда был выпущен данный плакат. Используя изображение, приведите одно любое обоснование Вашего ответа.



Ответ:

- 1) период — вторая половина 1940-х гг.;
- 2) обоснование, например: плакат призывает достойно встретить тридцатую годовщину Великого Октября, следовательно, он был выпущен в 1947 г. (вторая половина 1940-х гг.).

7.2. Какой из фильмов, афиши которых представлены ниже, был создан при том же руководителе СССР, при котором был выпущен данный

плакат? В ответе запишите цифру, которой обозначена афиша этого фильма. Назовите режиссёра, снявшего этот фильм.



Ответ:

- 3
- Эйзенштейн

8.1. Назовите период в истории России, которому посвящен данный плакат. Используя изображение, приведите одно любое обоснование Вашего ответа.



Ответ:

- 1) Гражданская война
- 2) На плакате упомянут Врангель – генерал белого движения, который возглавлял Добровольческую Армию в годы Гражданской войны. Также о том, что на плакате говорится о событиях Гражданской войны свидетельствует воин на Красном коне и в будёновке – головной убор солдат РККА.

Важно: чтобы в ответе школьника фигурировало объяснение не только через Врангеля, так как Врангель был участником не только Гражданской, но и Первой мировой войны.

8.2. Укажите писателя, который был современником исторического деятеля, упомянутого на плакате В ответе запишите цифру, которой обозначена эта картина. Укажите фамилию.

1.	2.
----	----



Ответ:

- 2
- Маяковский

9.1. В каком году был создан плакат? Используя изображение, приведите одно любое обоснование Вашего ответа.




Ответ:

- 1944
- На плакате символически упомянуты операции, в которых принимали участие советские войска, которые проходили в 1943 и в начале 1944 года. Соответственно, плакат мог быть создан только в 1944 году.

9.2. Укажите скульптуру, посвященную событиям, которые упоминаются в плакате. Укажите город.

1.	2.
----	----



3.



4.



Ответ:

- 3
- Волгоград

10.1. В каком году была завершена битва, которой посвящена данная монета. Используя изображение, приведите одно любое обоснование Вашего ответа.



Ответ:

- 1) 1943
- 2) На монете изображён монумент «Родина-мать», а также упомянут Мамаев курган, которые находятся в Волгограде (в годы ВОВ - Сталинград). Монумент «Родина-мать» был установлен в память о победе в Сталинградской битве, которая завершилась в 1943 году

10.2. Укажите афишу фильма, который был создан после событий, которым посвящена монета. Укажите, режиссера фильма.

<p style="text-align: center;">1.</p> 	<p style="text-align: center;">2.</p> 
<p style="text-align: center;">3.</p> 	<p style="text-align: center;">4.</p> 

Ответ:
 - 4
 - Иван Пырьев

