




Propósito de la clase: El estudiante compara números de tres cifras.

Lunes

Orden hasta 999

Para comparar números de tres cifras, primero se comparan las centenas, luego, las decenas y, finalmente las unidades. Es menor el que tenga la cifra menor. Se utilizan los signos para comparar

 “mayor que”  “menor que”  “igual que”

Colorea el signo correcto.

165	<input type="checkbox"/>	<input type="checkbox"/>	<input type="checkbox"/>	744
-----	--------------------------	--------------------------	--------------------------	-----

219	<input type="checkbox"/>	<input type="checkbox"/>	<input type="checkbox"/>	361
-----	--------------------------	--------------------------	--------------------------	-----

806	<input type="checkbox"/>	<input type="checkbox"/>	<input type="checkbox"/>	720
-----	--------------------------	--------------------------	--------------------------	-----

Martes

Ubica en cada número la **U**nidad, **D**ecena, **C**entena y compara los siguientes números.

88 ____ 63	69 ____ 69	832 ____ 378
52 ____ 86	620 ____ 689	517 ____ 635
66 ____ 47	898 ____ 786	485 ____ 485
25 ____ 28	709 ____ 960	251 ____ 156

Miércoles

Escribe los siguientes números en orden, desde el menor al mayor.

856	205	685	502	▶	<input type="text"/>	<input type="text"/>	<input type="text"/>	<input type="text"/>
105	692	498	319	▶	<input type="text"/>	<input type="text"/>	<input type="text"/>	<input type="text"/>


Escribe los siguientes números en orden, desde el mayor al menor.





178	187	871	817	▶	<input type="text"/>	<input type="text"/>	<input type="text"/>	<input type="text"/>
560	650	450	550	▶	<input type="text"/>	<input type="text"/>	<input type="text"/>	<input type="text"/>

Jueves


Estadística Recolección y organización de datos


1. Cuenta y completa la tabla





	
	
	
	

2. Colorea las flores según la información recolectada


rojas


amarillas


rosadas



3. Organiza en la tabla la linformación correspondiente altipo de material del que están hechos los juguetes.

Plástico						
Metal						
Tela						
Otro						