

Secretaría de Educación Pública
Escuela Primaria Urbana o Rural
“<https://materialeducativo.org/>”

C.C.T.: XXXXXXXX

Zona Escolar: XX Sector: XX

Ciclo Escolar: 2021 - 2022

Grado: 2° Grupo: X

EXAMEN DEL SEGUNDO TRIMESTRE

Examen



<https://materialeducativo.org/>

Nombre del alumno: _____

Lugar: _____

Fecha: _____




Nombre del maestro: _____

Nombre del padre de familia o tutor: _____

Examen Del Segundo Trimestre

Asignatura	Reactivos	Aciertos	Calificación	Firma del padre o tutor
Lenguaje y comunicación	55			
Pensamiento matemático	49			
Exploración y conocimiento del mundo	40			
PROMEDIO	20			

Segundo Grado



10 y 11.- Escribe dos tipos de libros (textos) que hay en tu biblioteca del salón.

12.- Lee el siguiente texto y después encierra la respuesta correcta.

En mi cara redondita
tengo ojos y nariz,
y también una boquita
para hablar y para reír.

Con mis ojos veo todo,
con la nariz hago achís,
con mi boca como como
palomitas de maíz.

El texto que acabas de leer es:

- a) Un cuento. b) Un poema. c) Una historieta. d) Una noticia.

13. ¿En qué material puedes encontrar información sobre cómo se alimentan las plantas? Marca el círculo con una palomita.

En un libro de cuentos.

En un libro informativo.

En un periódico.

En una receta.

14 y 15.- Escribe dos reglas de la biblioteca de tu salón de clases.



16 y 17. Localiza palabras que riman en la siguiente copla.




Naranja dulce
limón partido,
dame un abrazo
que yo te pido.
Si fueran falsos
mis juramentos,
en otros tiempos
se olvidarán.

Toca la marcha
mi pecho llora,
adiós señora
yo ya me voy.
A mi casita
de sololy,
a comer tacos
y no les doy.

_____ rima con _____

_____ rima con _____

18.- Marca con una palomita el libro que te sirve para investigar acerca de los huracanes.



LEE CON MUCHA ATENCIÓN EL SIGUIENTE TEXTO.

La obesidad infantil es una enfermedad grave que afecta a los niños. Los niños son obesos cuando pesan más de lo normal. Los niños pueden hacerse obesos cuando consumen alimentos chatarra que no son nutritivos o cuando toman bebidas con mucha azúcar o calorías. Los dulces, papitas y los refrescos son alimentos chatarra que dañan tu salud. La obesidad puede generar otras enfermedades como la diabetes, asma y una baja autoestima. Para evitar estar obesos es necesario alimentarse con comidas sanas y variadas, consumir frutas y verduras, hacer ejercicio y consumir menos dulces y refrescos.

19 a la 22.- Con la información que leíste en el texto anterior, elabora un cartel.



23 a la 25. Escribe 3 soluciones para evitar la obesidad infantil.







26 y 27.-Tacha los nombres propios de la siguiente lista.

gato	Juan	pulsera	goma
pera	computadora	Morelos	gallina

28.- Encierra el cartel.



29 a la 32.-Ordena las palabras alfabéticamente.

			
perro	avión	toro	zapato

1	2	3	4
---	---	---	---

33 a la 36.-Une el dibujo con su palabra escrita.



perr

a

pera

hada

haba



37.- Lee los textos y encierra el que es un instructivo.

“Una viejita con un solo diente,
hace correr a toda la gente”.

- ¡Señor!, ¡señor! ¿de qué son sus paletas.
- De limón, de fresa, de coco...
- ¡Uy, qué miedo!

1. Ponga a hervir un litro de agua
2. Al hervir vacíe el polvo de la gelatina
3. Bata muy bien
4. Agregue un litro de agua fría
5. Ponga en un recipiente y lleve al refrigerador.

Este torito que traigo,
lo traigo desde Tenango,
y lo vengo manteniendo
con cascaritas de mango.

38.- Encierra las palabras que riman en la siguiente copla.

Naranja dulce,
limón partido,
dame un abrazo
que yo te pido.

39, 40 y 41.- Cambiando una o dos letras, escribe palabras semejantes a las siguientes.

juego	→	
marro	→	
casa	→	

42.-Encuentra la respuesta de la adivinanza.

Agua pasa por mi casa,
cate por mi corazón.
El que no lo adivinara,

¿Qué es?

será un burro cabezón.

43 y 44.- Elabora un anuncio para vender jugos.

45.- Completa la copla utilizando palabras del rectángulo de la derecha.

La loba, la loba
salió de _____,
con su traje lindo
y su hijito _____.

aquí
feo
bonito
dormir
paseo
lobito

46 y 47. Lee la siguiente canción, escribe sobre las líneas las palabras que faltan para completar las rimas.

A mi burro, a mi burro
le duele la cabeza,
el médico le ha dado
jarabe de cereza.
A mi burro, a mi burro
le duele el corazón,



el médico le ha dado
agüita de _____.

A mi burro, a mi burro
le duelen las _____,
el médico le ha dado
sopita de lentejas.

Lee la siguiente copla.



Tres pececitos
tiene mi hermana,
les da de comer
por la mañana.

48. Escoge las palabras para hacer una nueva versión sin que se pierda la rima.

Tres _____
tiene la _____,
les da de comer
maíz y _____.

iguanas	pollitos
gallina	señora
pan	purina

49 y 50. Une los dibujos con las frases.



¡Vamos a comer niños!

¡Vamos a comer, niños!



51 a la 53. Escoge la respuesta que completa correctamente las oraciones.

La señora _____ su casa.

estaba riendo

está barriendo

_____, no te vayas.

Espera

Es pera

Mi hermana se duerme _____ ocho de la noche.

alas

a las


54 y 55. Escribe el título de un cuento que hayas leído y escribe una recomendación para que otros niños lo lean.

Título: _____

Recomendación: _____

MATEMÁTICAS


Observa el calendario y responde a las preguntas.



OCTUBRE							NOVIEMBRE						
D	L	M	M	J	V	S	D	L	M	M	J	V	S
		1	2	3	4	5						1	2
6	7	8	9	10	11	12	3	4	5	6	7	8	9
13	14	15	16	17	18	19	10	11	12	13	14	15	16
20	21	22	23	24	25	26	17	18	19	20	21	22	23
27	28	29	30	31			24	25	26	27	28	29	30



- 1.- ¿Cuándo cumpleaños Janeli? _____
- 2.- ¿Cuántos días tienen que pasar desde el cumpleaños de Janeli hasta el cumpleaños de Johnny? _____
- 3.- ¿Qué mes está antes de octubre? _____
- 4.- ¿Cuál mes va después de noviembre? _____
- 5.- Coloca los números del 1 al 4, desde lo que dura menos tiempo hasta lo que dura más tiempo.



Lavarse los dientes



Dormir

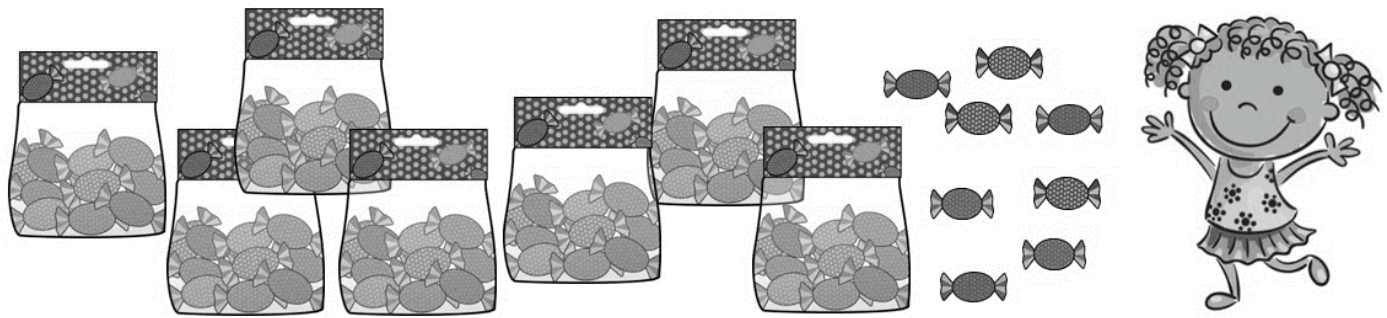


Estar en la escuela



Comer

OBSERVA Y RESPONDE. En cada bolsa hay 10 dulces.




6.- ¿Cuántos dulces tiene Constanza? _____

7.- ¿Cuántos dulces le quedarán si regala 1 bolsa? _____



8.- Roberto quiere tener 100 canicas. Dibuja las bolsas y las canicas que le faltan.



9 y 10. – Cuenta el dinero que tiene cada niña.



Carmen tiene: _____ pesos



Rubí tiene: _____ pesos

11.- Mario tenía 67 pesos y su papá le regaló otros 10 pesos.

¿Cuánto dinero tiene ahora? _____ pesos.

12.- Jocelyn tenía 70 pesos. Pero se compró un dulce que costaba 1 peso.

¿Cuánto dinero le quedó? _____ pesos.

OBSERVA LOS PRECIOS DE LOS JUGUETES.



\$ 23



\$ 31



\$ 44



\$ 86




\$ 15



\$ 32

13.- Edwin se quiere comprar el tambor. Dibuja el dinero que le falta.



\$ 86





14.- ¿Cuánto se debe pagar si se compra un avión y un tren?

pesos

15.- Patricia se compró un oso y un patito. Si pago con un billete de 50 pesos, ¿Cuánto dinero le tienen que dar de cambio? Puedes dibujarlo.

pesos

16, 17 y 18.- Observa muy bien el registro y luego contesta.

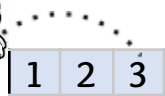
Frutas preferidas en el grupo	
	
	
	
	

¿Cuántos alumnos eligieron su fruta preferida? _____

¿Cuál es la fruta preferida en el grupo?

¿Cuál es la fruta que menos alumnos escogieron? _____

19.- Observa y luego contesta.



¿Cuántos saltos necesita el conejo para llegar al 24?

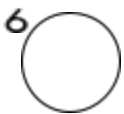
20, 21 y 22.- El maestro colocó una trampa.

1	2	3	4	5	6	7	8	9	10	11	12	13	14	15	16
17	18	19	20	21	22	23	24	25	26	27	28	29	30	31	32
33	34	35	36	37	38	39	40	41	42	43	44	45	46	47	48

Marca con una cruz al conejo que SI va a caer en la trampa.



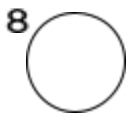
De 6 en



De 9 en



De 8 en




De 7 en



De 4 en



23 y 24.- Observa los dibujos y contesta.



¿Cuántos huevos hay en cada charola? _____

¿Cuántos huevos hay en total? _____

25.- ¿Cuántas uvas hay en total?



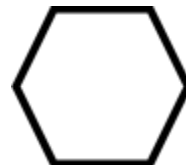
Hay _____ uvas.

26, 27 y 28.- Une con una línea cada adivinanza con la figura que le corresponde.

Tengo seis lados,
todos iguales.
¿Quién soy?

Tengo cuatro lados,
dos cortos y dos más largos.
¿Quién soy?

Tengo tres lados,
todos son iguales.
¿Quién soy?



29.- Cuenta cuántos mosaicos hay en el piso.





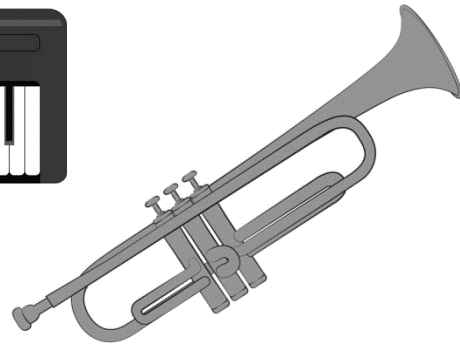

Hay _____ mosaicos.

30.- ¿Cuánto falta al resultado para llegar al 100?

$$35 + 43 = \underline{\hspace{2cm}}$$

Le faltan: _____ para llegar al 100

31 a la 33. Observa y responde.





¿Cuántas cuartas mide aproximadamente el piano? _____

¿Y la trompeta? _____

¿Cuántos pasos necesita el niño para llegar a la pelota? _____



34. Colorea de azul el recipiente al que le cabe más agua.



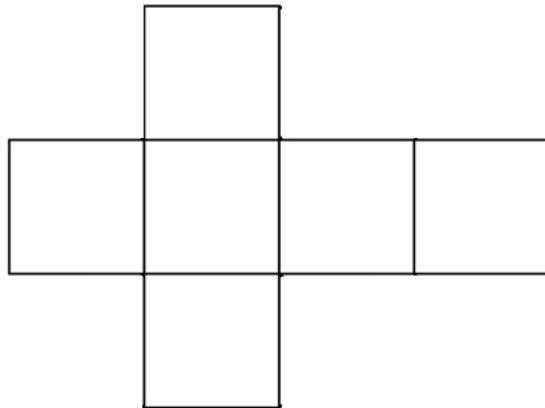
35 y 36. Observa muy bien y contesta.



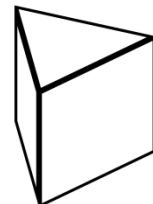
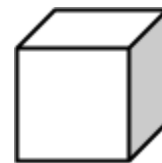
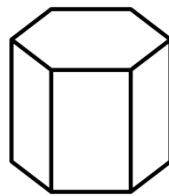
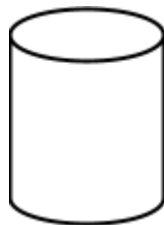
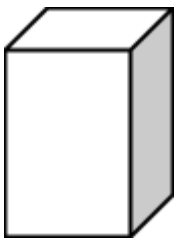
¿Cuántas caras cuadradas tiene la caja? _____

¿Y cuántas caras rectangulares? _____

Observa bien que hizo mamá.



37. Colorea la caja que puede forrar.



38 a la 40. Colorea como se indica.



ROJO: Todos sus lados son iguales.

VERDE: Tiene dos lados cortos y dos lados largos.

AZUL: Tiene dos lados largos y uno corto.



CONOCIMIENTO DEL MEDIO

1 y 2.- Dibuja cómo eras antes y cómo eres ahora.

Así era antes


Así soy ahora

3 y 4.- Escribe 2 cambios físicos que has tenido.

5 y 6.- Escribe 2 cosas que haces para cuidar tu salud.



7 y 8.- Marca con una palomita lo que hace tu familia cuando te enfermas.



9 y 10.- Escribe el nombre de dos enfermedades que se pueden prevenir con las vacunas.

11 a la 15.- Escribe dentro de cada recuadro el nombre de cada sentido: oído, vista, gusto, olfato y tacto.



16 a la 18. Une cada situación con el sentido que se puede percibir.

El ruido de los carros

tacto

El viento soplar

gusto

Lo dulce de una paleta

des cuidar los siguientes sentid

oído




21 y 22.- Haz un dibujo de una costumbre de tu familia. Escribe en qué consiste.

Consiste en: _____


23.- Encierra el dibujo que representa mejor la celebración de la Independencia de México.



24 y 25. Observa y lee algunas tradiciones en nuestro país. Luego contesta.



En algunas poblaciones de Michoacán se celebra el “Día de muertos”, colocando altares.



En muchas ciudades se cierran las calles para organizar paseos en bicicleta.




En poblaciones del estado de Oaxaca se acostumbra comer chapulines.


¿Cuál de estas tradiciones te gusta más?

¿Por qué te gusta?




26, 27 y 28.- Encierra los animales acuáticos.





29, 30, 31 y 32.-Escribe si los siguientes animales reptan, vuelan, nadan o caminan.



33.- ¿Cuál de los siguientes animales está en peligro de extinción?



34 y 35.- Dibuja actividades que realizas.

Durante el día	Durante la noche
	

36 a la 38. Escribe sobre la línea el derecho que corresponde a cada imagen.



39 a la 40. Observa a lo que juegan los niños. Escribe cómo se llama el juego y menciona dos reglas para poder jugarlo.




Nombre del juego: _____

Regla 1: _____

Regla 2: _____

41 a la 43. Encierra los juegos que jugaron tus abuelos.



44 a la 47. Elige un juego que se jugaba antes que te hayan enseñado tus maestros, tus padres o tus abuelos y registra la información.

Nombre del juego: _____

Materiales u objetos que se necesitan:

¿Dónde se juega?

¿Cómo se juega?

48 y 49. Observa el trompo que se usaba antes y el que se usa ahora.




¿En qué se parecen?

¿En qué son diferentes? ¿Qué ha cambiado?

FORMACIÓN CÍVICA Y ÉTICA

1 y 2.- Tacha con rojo a los niños que NO toman medidas preventivas para evitar riesgos o accidentes.



3 a la 6.- Encierra a los niños que se alimentan correctamente.



7 a la 10.- Completa escribiendo si se trata de una discapacidad MOTRIZ, VISUAL, AUDITIVA o de LENQUAJE.

Antonio utiliza una silla de ruedas. _____

Karla se comunica con ayuda de sus manos y gestos. _____



Luis usa sus lentes para leer mejor. _____

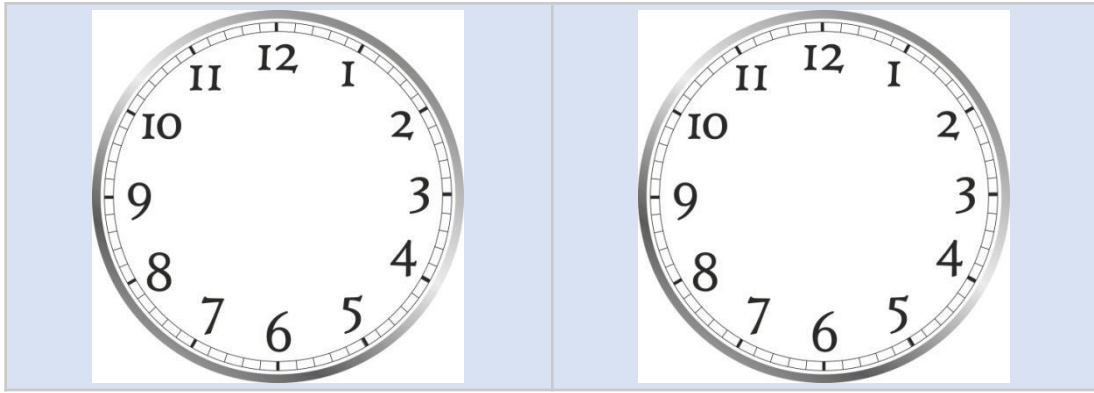
A Rodrigo le tuvieron que poner un aparato en el oído para poder escuchar.

11 a la 13.- Escribe una situación que te haga sentir cada emoción.

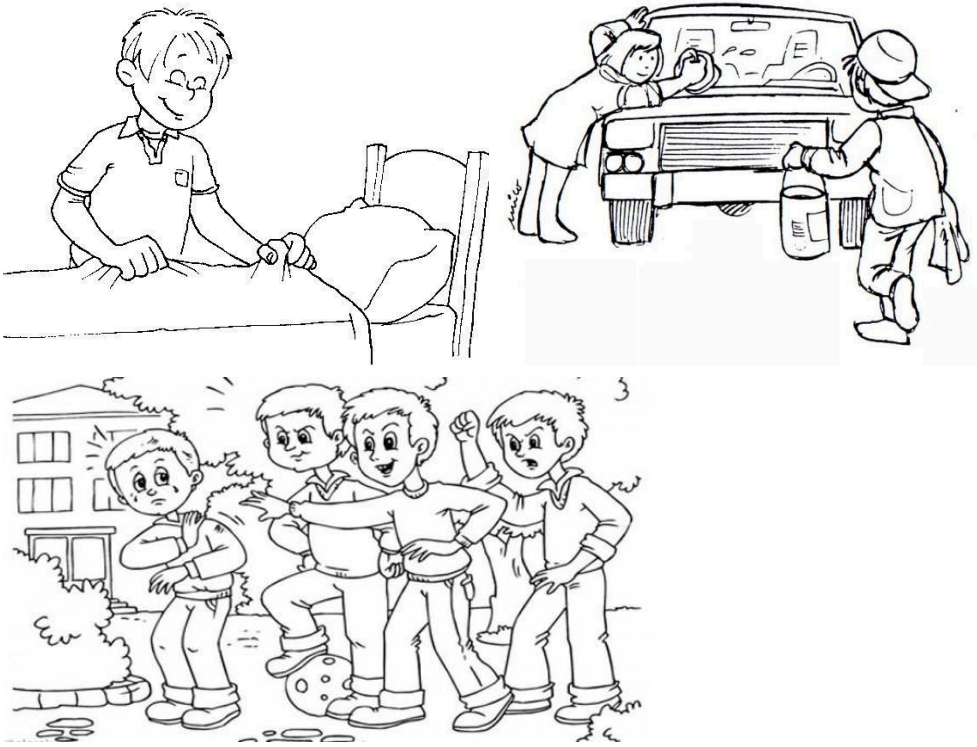
Tristeza	Felicidad	Enojo


14 a la 17.- Dibuja en el reloj las manecillas para que indiquen la hora en la que realizas cada actividad.

Desayunar	Ir a la escuela
	
Hacer la tarea	Jugar



18 a la 20.- Tacha las injusticias que observas.





Visita:

<https://materialeducativo.org/>

&

<https://materialprimaria.com/>

Este material es enviado por el usuario Gorgue Acosta, solo se modificó para su uso educativo.

Los textos, las imágenes, dibujos y el contenido de este examen es propiedad de sus respectivos autores solo se utilizó para realizar el examen y compartir de manera gratuita y educativa sin fines de lucro.

Créditos de las imágenes:



Licencia de las imágenes adquiridas en TPT.

Otras imágenes obtenidas de la red.

<https://www.facebook.com/educacionprimariamx/>

&

<https://www.facebook.com/materialeducativomx/>

Les recomendamos los siguientes grupos para tener el mejor material educativo totalmente gratuito, siempre actualizado y a la vanguardia para este ciclo escolar 2021 – 2022.

<https://www.facebook.com/groups/materialeseducativosmx/>

<https://www.facebook.com/groups/maestrodeprimaria/>

<https://www.facebook.com/groups/primergradodeprimaria/>

<https://www.facebook.com/groups/segundogradodeprimaria/>

<https://www.facebook.com/groups/tercergradodeprimaria/>

<https://www.facebook.com/groups/cuartogradodeprimaria/>

<https://www.facebook.com/groups/quintogradodeprimaria/>

<https://www.facebook.com/groups/sextogradoprimariamx/>

<https://www.facebook.com/groups/todosobredocencia/>

<https://www.facebook.com/groups/situacionesdidacticasprescolar/>

<https://www.facebook.com/groups/materialeducativoprimerysegundogrado/>

<https://www.facebook.com/groups/materialeducativotercerycuartogrado/>

<https://www.facebook.com/groups/materialeducativoquintoysextogrado/>

<http://educacionprimaria.mx/>

<http://materialeducativo.org/>