

# Soal pilihan Ganda Ekonomi Kelas XI Bab 4 Indeks Harga dan Inflasi

Jawablah soal-soal berikut ini dengan memilih huruf A, B, C, D, atau E pada jawaban yang benar dan tepat!

1. Perhatikan beberapa pernyataan berikut ini!

- (1) Mengukur harga barang yang diperdagangkan dalam eceran untuk dikonsumsi sendiri.
- (2) Mengetahui harga makanan, perumahan, sandang, dan aneka barang dan jasa.
- (3) Mengetahui harga barang secara grosir.
- (4) Menilai kesejahteraan petani dilihat dari nilai tukar.
- (5) Sebagai indikator inflasi.

Dari pernyataan di atas, peranan Indeks Harga Konsumen (IHK) adalah ....

- A. (1), (2), dan (3)
- B. (1), (2), dan (5)
- C. (2), (3), dan (4)
- D. (2), (4), dan (5)
- E. (3), (4), dan (5)

2. Terdapat beberapa cara untuk menghitung indeks harga dan salah satunya adalah indeks harga agregatif sederhana (tak tertimbang). Rumus yang digunakan untuk menghitungnya adalah ....

A.  $IA = \frac{\sum P_n}{\sum P_0} \times 100$

B.  $IA = \frac{\sum P_0}{\sum P_n} \times 100$

C.  $IL = \frac{\sum P_n \times Q_n}{\sum P_0 \times Q_n} \times 100$

D.  $IL = \frac{\sum P_n \times Q_0}{\sum P_0 \times Q_0} \times 100$

E.  $IP = \frac{\sum P_0 \times Q_0}{\sum P_0 \times Q_0} \times 100$

3. Berikut ini data perkembangan harga 3 macam barang dalam 3 tahun terakhir. Apabila tahun 2009 sebagai tahun dasar, dengan metode indeks harga agregatif sederhana (tak tertimbang), maka inflasi tahun 2010 adalah ....

- A. Inflasi ringan
- B. Hyper inflation
- C. Inflasi sedang
- D. Inflasi sangat ringan
- E. Inflasi berat

4. Diketahui data sebagai berikut:

Berdasarkan data di atas maka indeks harga tahun 2015 apabila menggunakan metode Laspeyres (IL) adalah ....

- A. 104,45
- B. 105,62
- C. 105,86
- D. 106,12
- E. 107,21

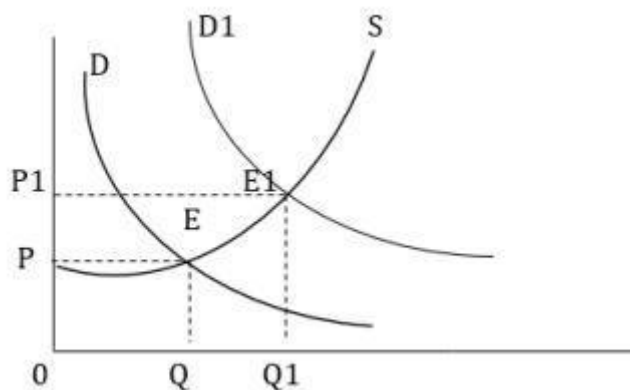
5. Perhatikan beberapa pernyataan tentang indeks harga di bawah ini:

- (1) Angka indeks harga dapat dijadikan standar/pedoman untuk melakukan perbandingan harga dari waktu ke waktu.
- (2) Angka indeks harga menunjukkan perubahan-perubahan yang terjadi atas harga pada pasar-pasar primer.
- (3) Indeks harga merupakan petunjuk/indikator yang dapat digunakan untuk mengukur pertumbuhan ekonomi secara umum.
- (4) Indeks harga pedagang besar dapat memberikan gambaran/trend dalam perdagangan di tingkat eceran.
- (5) Indeks harga konsumen adalah ukuran statistik yang dapat menunjukkan perubahan-perubahan yang terjadi pada harga eceran barang dan jasa yang diminta oleh konsumen dari waktu ke waktu.

Pernyataan di atas yang yang benar adalah ....

- A. (1), (2), dan (3)
- B. (1), (3), dan (4)
- C. (1), (3), dan (5)
- D. (2), (3), dan (4)
- E. (3), (4), dan (5)

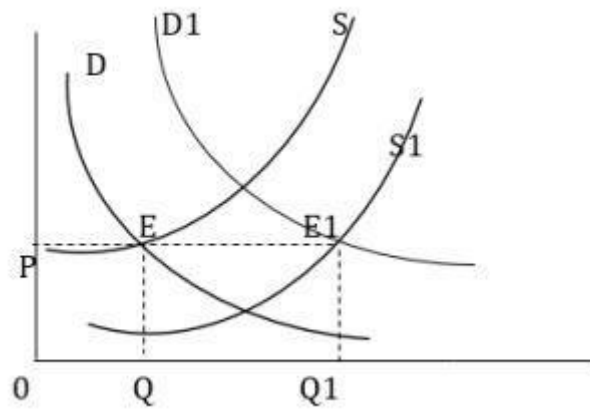
6. Perhatikan kurva berikut:



Berdasarkan kurva di atas telah terjadi kenaikan harga (inflasi) dari P ke P1 yang disebabkan oleh ....

- A. cost pull inflation
- B. demand pull inflation
- C. pencetakan uang baru oleh pemerintah
- D. perubahan selera masyarakat
- E. kenaikan biaya produksi

7. Perhatikan kurva berikut:



Berdasarkan kurva di atas diketahui bahwa kurva D bergeser ke D1 dan kurva S bergeser ke S1. Maka dapat disimpulkan bahwa ....

- A. Telah terjadi inflasi yang disebabkan oleh peningkatan jumlah permintaan
- B. Telah terjadi inflasi yang disebabkan oleh peningkatan jumlah penawaran
- C. Tidak terjadi inflasi karena jumlah permintaan diimbangi dengan jumlah penawaran
- D. Tidak terjadi inflasi karena jumlah permintaan yang menurun
- E. Tidak terjadi inflasi karena jumlah penawaran yang menurun

8. Berikut yang bukan merupakan dampak negatif dari inflasi adalah ....

- A. Bagi masyarakat berpenghasilan tetap inflasi akan sangat merugikan karena menurunnya nilai uang
- B. Menurunkan nilai ekspor karena harga barang ekspor menjadi lebih mahal di luar negeri
- C. Minat orang untuk menabung semakin menurun
- D. Mempersulit dalam menghitung harga pokok suatu produk
- E. Menurunkan harga-harga sehingga konsumsi masyarakat bisa meningkat

9. Berikut adalah cara mengatasi inflasi:

- Meningkatkan jumlah produksi
- Kebijakan harga (harga maksimum dan minimum)
- Kebijakan upah

Cara mengatasi inflasi di atas termasuk dalam kebijakan ....

- A. moneter
- B. Bank Indonesia
- C. fiskal
- D. pemerintah melalui APBN
- E. nonmoneter dan nonfiskal

10. Berikut adalah kebijakan yang diambil oleh pemerintah dan masyarakat:

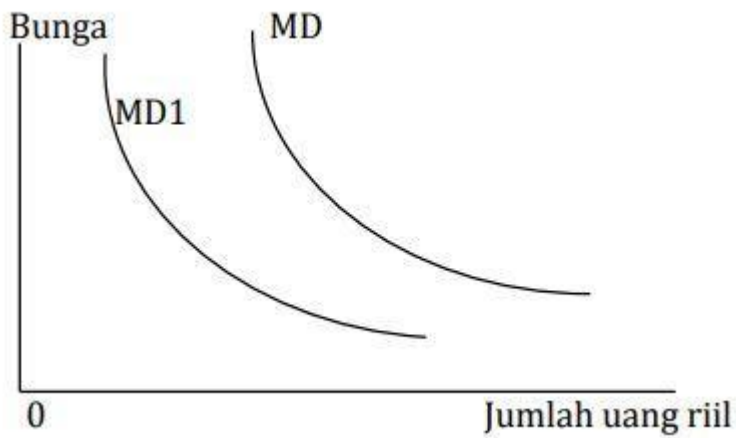
- Menurunkan jumlah produksi
- Menurunkan upah pekerja
- Menambah pengeluaran pemerintah
- Kebijakan uang longgar (easy money policy)

Kebijakan tersebut tepat untuk mengatasi ....

- A. inflasi ringan

- B. deflasi
- C. inflasi sedang
- D. hyper inflation
- E. inflasi berat

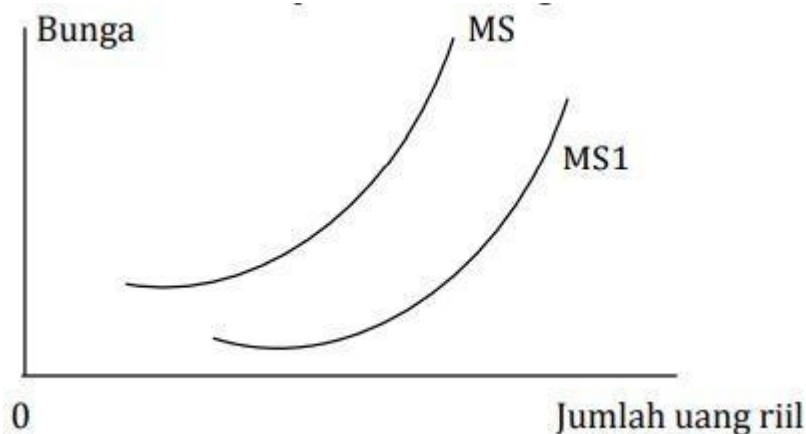
11. Perhatikan kurva permintaan uang berikut:



Berdasarkan kurva di atas diketahui bahwa MD bergeser ke MD1, maka dapat disimpulkan bahwa ....

- A. Terjadi penurunan jumlah permintaan uang di masyarakat
- B. Jumlah uang yang beredar tidak mengalami perubahan
- C. Terjadi penambahan jumlah permintaan uang di masyarakat
- D. Terjadi penambahan jumlah permintaan uang di masyarakat karena MD bergeser ke kanan
- E. Terjadi penambahan jumlah permintaan uang di masyarakat karena MD bergeser ke kiri

12. Perhatikan kurva penawaran uang berikut:



Berdasarkan kurva di atas diketahui bahwa MS bergeser ke MS1, maka dapat disimpulkan bahwa ....

- A. Terjadi penurunan jumlah penawaran uang di masyarakat
- B. Jumlah uang yang beredar tidak mengalami perubahan
- C. Terjadi penambahan jumlah penawaran uang di masyarakat
- D. Terjadi penurunan jumlah penawaran uang di masyarakat karena MS bergeser ke kanan
- E. Terjadi penurunan jumlah penawaran uang di masyarakat karena MS bergeser ke kiri

13. Berikut adalah faktor-faktor yang mempengaruhi permintaan dan penawaran uang di masyarakat:

- (1) Kebutuhan untuk bertransaksi
- (2) Tingkat inflasi
- (3) Tingkat produksi dan pendapatan nasional
- (4) Berjaga-jaga
- (5) Kegiatan spekulasi
- (6) Kondisi kesehatan dunia perbankan

Faktor yang mempengaruhi permintaan uang di masyarakat adalah ....

- A. (1), (2), dan (3)
- B. (1), (3), dan (6)
- C. (1), (4), dan (5)
- D. (2), (3), dan (4)
- E. (3), (4), dan (5)

14. Salah satu teori nilai uang adalah Teori Transaksi (Kuantitatif). Teori ini dikemukakan oleh ....

- A. Adam Smith
- B. David Ricardo
- C. John Stuart Mill
- D. John Maynard Keynes
- E. Irving Fisher

15. Diketahui data pada suatu daerah sebagai berikut:

- Jumlah uang yang beredar Rp5 Miliar
- Kecepatan peredaran uang 5 kali dalam setahun
- Harga per unit barang Rp25.000,00

Berdasarkan data di atas, jumlah barang yang diperdagangkan berjumlah ....

- A. 1.000.000 unit
- B. 500.000 unit
- C. 100.000 unit
- D. 10.000 unit
- E. 1.000 unit