

A- Aşağıdaki kesirlerin okunuşlarını yazın. (5s x 2p = 10 Puan)

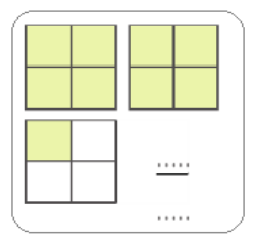
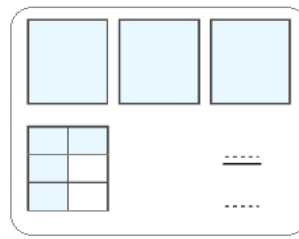
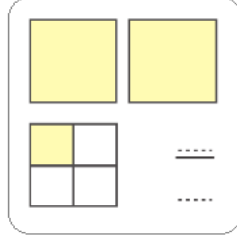
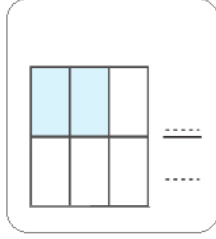
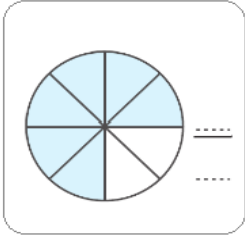
1- $\frac{3}{5} =$

2- $\frac{7}{12} =$

3- $\frac{13}{8} =$

4- $3\frac{6}{9} =$

5- $7\frac{2}{8} =$


B- Aşağıdaki kesir modellerinin altlarına kesirlerini yazınız. (5s x 2p = 10 Puan)

C- Aşağıdaki kesirleri büyükten küçüğe doğru sıralayınız. (5 Puan)
1-


$\frac{\dots}{\dots} > \frac{\dots}{\dots} > \frac{\dots}{\dots} > \frac{\dots}{\dots}$

D- Aşağıdaki kesirleri küçükten büyüğe doğru sıralayınız. (5 Puan)
2-


$\frac{\dots}{\dots} < \frac{\dots}{\dots} < \frac{\dots}{\dots} < \frac{\dots}{\dots}$


E- Aşağıdaki kesirlerde toplama ve çıkarma işlemlerini yapınız. (5s x 2p = 10 Puan)

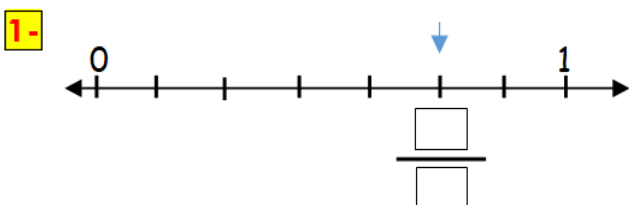
1-  $+\ =$

2-  $+\ =$

3-  $- \ =$

4-  $4 + 3 = \dots$

5-  $9 - 2 = \dots$

F- Aşağıdaki kesirleri sayı doğrusunda gösteriniz. (2s x 5p = 10 Puan)

2- $\frac{3}{5}$ kesirini sayı doğrusunda gösteriniz?


H) Aşağıda **toplama** işlemleri yapınız. (5p)

$$\begin{array}{r} 467 \\ + 531 \\ \hline \end{array}$$
$$\begin{array}{r} 8466 \\ + 5245 \\ \hline \end{array}$$

J) Aşağıda **çıkarma** işlemleri yapınız. (5p)

$$\begin{array}{r} 589 \\ - 345 \\ \hline \end{array}$$
$$\begin{array}{r} 6293 \\ - 3458 \\ \hline \end{array}$$

K) Aşağıda **çarpma** işlemleri yapınız. (5p)

$$\begin{array}{r} 149 \\ \times 3 \\ \hline \end{array}$$
$$\begin{array}{r} 235 \\ \times 45 \\ \hline \end{array}$$

L) Aşağıda **bölme** işlemleri yapınız. (5p)

$$\begin{array}{r} 49 \overline{) 3} \\ \hline \end{array}$$
$$\begin{array}{r} 742 \overline{) 7} \\ \hline \end{array}$$

1- Ayşe, topladığı 95 adet elmanın $\frac{1}{5}$ 'ini sınıftaki arkadaşlarına dağıtmıştır. Ayşe, arkadaşlarına kaç adet elma dağıtmıştır? (5p)

Çözüm:

2- Bir bakkal elindeki 280 paket çikolatanın $\frac{3}{7}$ ' ünü sattı. **Geriye kaç paket çikolata kaldı?** (5p)

Çözüm:

3- Sabah **08.50** 'de ders başlıyor. **12.15** 'de bitiyor. Acaba **kaç saat ve kaç dakika** okulda kalıyorum? (5p)

Çözüm:

M) Aşağıda **zamanları** çeviriniz. (5p)

(Not: 1 ay= 30 gündür.)

6 ay=..... gün eder.

36 ay=.....yıl eder.

52 hafta=..... yıl eder.

128 gün=.....aygündür.

4 yıl=.....ay eder.



N)Aşağıda **zamanları** çeviriniz. (5p)

1 saat: dakika

2 saat 15 dakika: dakika

185 dakika:.....saat dakika

3 dakika: saniye

300 saniye:..... dakika

R- Aşağıdaki sütun grafiğine ait soruları cevaplayın.(5p)

Hayvan Sayısı

15

12

- 1- Hayvanat bahçesinde **en çok** hangi hayvan vardır ?
.....
- 2- Hayvanat bahçesinde **en az** hangi hayvan vardır
.....
- 3- Maymun sayısı, kaplan sayısından kaç fazladır ?
.....
- 4- Aslan sayısı, maymun sayısından kaç eksiktir ?
.....
- 5- Hayvanat bahçesinde toplam kaç tane hayvan vardır ?
.....