

TEMA 6 LINGKUNGAN

Subtema 1

Lingkungan Rumahku

Bekerja Sama Membersihkan Rumah

Ayah dan ibu sedang membersihkan rumah.

Ibu menyapu dan mengepel lantai.

Ayah memotong tanaman dan menyapu halaman.

Dayu ingin ikut membantu ayah dan ibu.

Dayu ingin membersihkan jendela.

Tetapi Dayu belum tahu cara membersihkan jendela.

Lalu ibu memberi petunjuk.

Ibu : Lap kain dibasahi dengan air terlebih dahulu Dayu.

Lalu, gosokkan kain itu ke kaca.

Setelah itu keringkan dengan kertas koran.

Dayu : Baik, Bu.

Kaca pun menjadi bersih dan mengkilat.

Mereka bekerja dengan gembira.

Mereka ingin rumahnya menjadi bersih dan sehat.

Jawablah pertanyaan berikut ini.

1. Apa yang sedang dilakukan ayah dan ibu?

.....

.....

2. Apa yang dilakukan ibu?

.....

.....

3. Apa yang dilakukan ayah?

.....

.....

4. Apa yang Dayu ingin lakukan?

.....

.....

5. Mengapa mereka bekerja dengan gembira?

.....

.....

Ceritakanlah kembali menggunakan bahasamu sendiri.

.....

.....

.....

.....

.....

.....

Lingkari Nomor pada kalimat yang merupakan ungkapan petunjuk.

- 1. Setiap hari ibu membersihkan rumah.**
- 2. Cucilah tangan dengan sabun.**
- 3. Ayah membuang sampah di tempatnya.**
- 4. Sikat gigi setelah makan dan sebelum tidur.**
- 5. Gunakan cairan pembersih lantai saat mengepel**

Amati gambar berikut ini dan bandingkan.



A



B

Rumah manakah yang lebih nyaman untuk ditinggali?

.....

1. Menurutmu apa yang menyebabkan keadaan rumah pada kedua gambar itu berbeda?

.....

2. Apa yang harus dilakukan agar lingkungan rumah pada gambar A menjadi bersih?


.....

3. Apa kewajiban kita agar kebersihan rumah terjaga?

.....
.....

Beri tanda (v) pada gambar kebiasaan yang baik

Beri tanda (X) pada gambar kebiasaan yang tidak baik

☐☐☐☐☐☐

Susunlah menjadi ungkapan petunjuk.

Contoh:

sampah

tempatnya

pada

buanglah

Susunan kalimat yang benar adalah:

buanglah

sampah

pada

tempatnya

1.

sabun

saat

tangan

gunakan

cuci

Menjadi

2.

disapu

hari

lantai

setiap

harus

Menjadi

3.

air

ember

ke

tuang

dalam

Menjadi

--	--	--	--	--

4.

campur

lantai

pewangi

air

dengan

Menjadi

--	--	--	--	--

5.

basah

bersihkan

kaca

dengan

lap

Menjadi

--	--	--	--	--

sekarang kerjakan latihan berikut ini.

1. $24 - 13 = \dots$

$$24 = \dots \text{ puluhan} + \dots \text{ satuan}$$

$$13 = \dots \text{ puluhan} + \dots \text{ satuan} -$$

$$\dots \text{ puluhan} + \dots \text{ satuan}$$

Jadi, $24 - 13 = \dots$

2. $29 - 15 = \dots$

$$29 = \dots \text{ puluhan} + \dots \text{ satuan}$$

$$15 = \dots \text{ puluhan} + \dots \text{ satuan} -$$

$$\dots \text{ puluhan} + \dots \text{ satuan}$$

Jadi, $29 - 15 = \dots$

3. $43 - 11 = \dots$

$$43 = \dots \text{ puluhan} + \dots \text{ satuan}$$

$$11 = \dots \text{ puluhan} + \dots \text{ satuan} -$$

$$\dots \text{ puluhan} + \dots \text{ satuan}$$

Jadi, $43 - 11 = \dots$

4. $23 - 13 = \dots$

$$23 = \dots \text{ puluhan} + \dots \text{ satuan}$$

$$13 = \dots \text{ puluhan} + \dots \text{ satuan} -$$

$$\dots \text{ puluhan} + \dots \text{ satuan}$$

Jadi, $23 - 13 = \dots$

Cobalah membuat kalimat tanggapan dari petunjuk berikut ini.

**1. Petunjuk :
Membersihkan debu sebaiknya dengan lap basah**

Tanggapan :

.....

**2. Petunjuk :
Letakkan bola di keranjang.**

Tanggapan :

.....

**3. Petunjuk :
Selesai digunakan, mainan dikembalikan ke tempatnya.**

Tanggapan :

.....

**4. Petunjuk :
Lantai rumah sebaiknya dipel setiap hari.**

Tanggapan :

.....

5. Petunjuk: Semprot kaca dengan cairan pembersih. Lalu, gosok dengan lap atau karet pembersih kaca.

Tanggapan:

.....

Selesaikan soal-soal cerita berikut ini dengan teliti.

1. Baju yang dijemur ada 24 potong. Ada baju dewasa dan anak-anak. Baju anak-anak ada 11 baju. Berapa banyak baju dewasa yang dijemur?

$$\begin{array}{lcl} \text{Baju yang dijemur} & 24 & = 20 + 4 \\ \text{Baju dewasa} & 11 & = 10 + 1 \\ \text{Baju anak} & & \underline{10 + 3 = 13} \end{array}$$

2. Ibu akan menyetrika. Ibu menghitung pakaian yang akan disetrika. Banyak pakaian ada

29 helai. Setelah menyetrika 21 baju, ayah datang membantu ibu. Berapa pakaian yang belum disetrika ibu?

3. Ibu selesai menyetrika semua pakaian. Lani membantu ibu memasukkan pakaian ke dalam lemari. Ada 28 helai pakaian yang sudah disetrika. 14 pakaian adalah pakaian ayah dan ibu. Sisanya adalah pakaian Lani.

Berapa banyak pakaian Lani yang disetrika?

Ayo, belajar menuliskan nama dan lambang bilangan bersama Ido.

41 = empat puluh satu

51 = lima puluh satu

60 = enam puluh

Tuliskan lambang atau nama bilangannya.



= empat puluh tiga



= lima puluh dua



=



=



= empat puluh tujuh



= lima puluh enam



=



=



= lima puluh



= lima puluh sembilan

Bacalah dengan nyaring.



Bekerja Sama Membersihkan Rumah

Edo, Ayah, dan Ibu membersihkan rumah.

Edo membersihkan jendela dan perabotan.

Ibu menyapu dan mengepel lantai.

Ayah memotong tanaman dan menyapu halaman.

Halaman rumah Edo menjadi bersih.

Mereka gembira bekerja bersama.

Mereka ingin rumahnya bersih dan sehat selalu.

Kebersihan pangkal kesehatan.

Jawablah pertanyaan berikut.

1. Apa yang dibersihkan Edo?

.....
.....

2. Apa yang dilakukan Ibu?

.....
.....

3. Apa yang dipotong Ayah?

.....
.....

4. Untuk apa mereka membersihkan rumah dan halaman?

.....
.....

Bacalah.

pangkal
pang kal
p-a-ng-k-a-l
p-a-n-g-k-a-l

menyapu
me-nya-pu
m-e-ny-a-pu
m-e-n-y-a-p-u

Tebalkan.

ng ng ng ng ng ng

ny ny ny ny ny ny

Tuliskan.


ng

ny

Tirukan.

lingkungan	mengepel	memotong	cangkul
nyamuk	nyaman	menyuruh	menyanyi


Lihat contoh di bawah ini.



$$23 + 8 = 31$$

Hitunglah jumlah nyamuk dan lain-lain berikut ini.

1.



$$.... + =$$

2.



dan



menjadi



.... + =

3.



dan



menjadi



.... + =

4.



dan

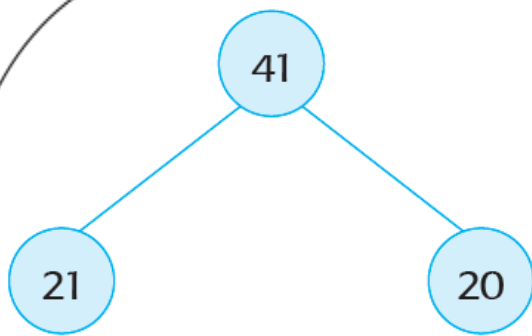


menjadi

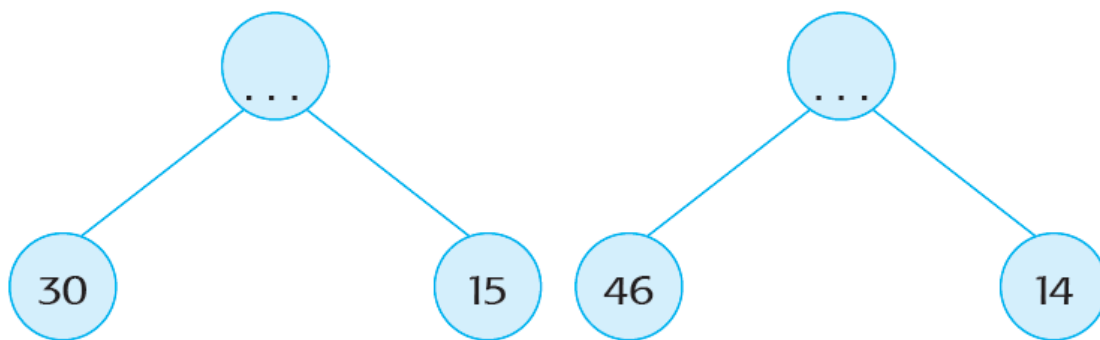


.... + =



Lihat contoh di bawah ini.



Tentukan bilangan dari hasil penjumlahan pasangan bilangan di bawah ini.




**Beri tanda pada gambar kebiasaan yang baik.
Beri tanda pada gambar kebiasaan yang tidak baik.**



Beni menghitung benda-benda lain.


Ayo, kita bantu Beni.

1.



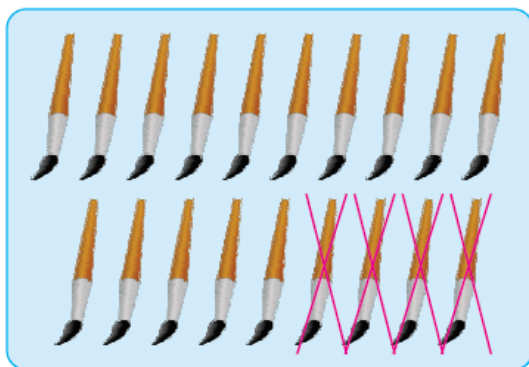
$$18 - 3 = \dots$$

2.



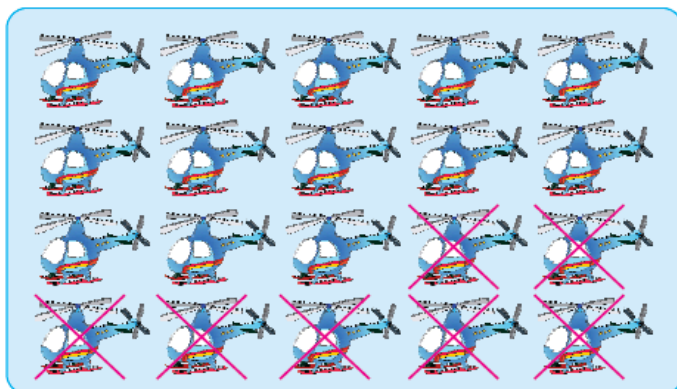
$$17 - 5 = \dots$$

3.



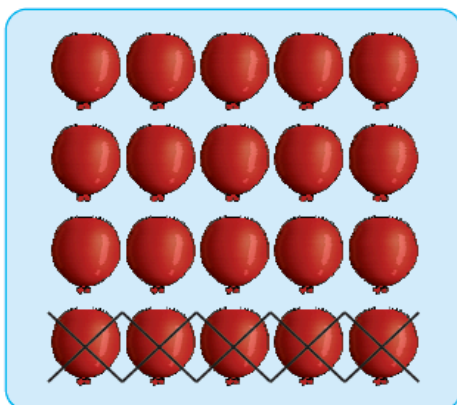
$$19 - 4 = \dots$$

4.



$$20 - \dots = \dots$$

5.




$$\dots - \dots = \dots$$

Buatlah kalimat dari kata-kata berikut ini.

**Menyapu Menggali Mengelap
Merapikan Mengepel**


Berapa daun yang masih bagus?

1.




$$18 - 3 = \dots$$

2.




$$19 - 7 = \dots$$

3.



$$20 - 4 = \dots$$

4.



$$17 - 6 = \dots$$

Tuliskan nama alat di bawah gambaranya.



.....



.....



.....



.....



.....



.....


Beri tanda (v) pada gambar cara memakai alat yang benar.

Beri tanda (x) pada gambar cara memakai alat yang tidak benar.













Evaluasi Tema 6 Sub Tema 1
Lingkari kata yang tepat.

1. Ibu mengepel

halaman

lantai

dinding

2. Dayu ... tanaman di kebun.

menyiram

mengepel

menyapu

3. Untuk menjaga kebersihan, kita membuang sampah di

kebun

sungai

tempat
sampah

4. Ayah memotong rumput dengan

sabit

cangkul

sapu



5. Siti ... jendela yang berdebu.



menyapu

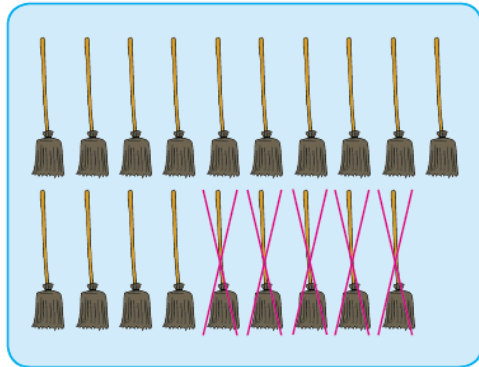
memotong


mengelap

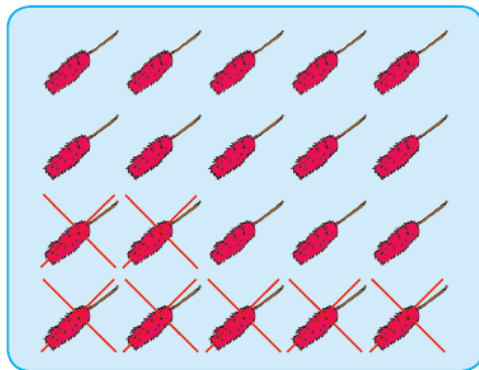
Tulis angkanya.

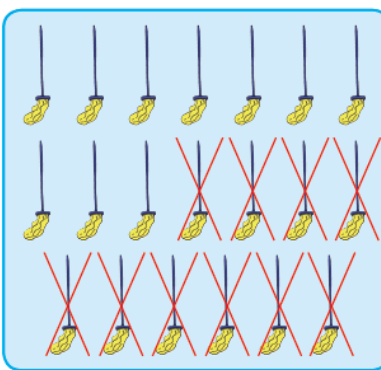
1.  dan 
 $\dots + \dots = \dots$

2.  dan 
 $\dots + \dots = \dots$

3. 
 $\dots - \dots = \dots$

4. 
 $\dots - \dots = \dots$

5. 
 $\dots - \dots = \dots$

6. 
 $\dots - \dots = \dots$

Buatlah kalimat dari kata-kata di bawah ini.

1. halaman

.....
.....

2. menyapu

.....
.....

3. menggelap

.....
.....

4. merapikan

.....
.....

5. mencangkul

.....
.....