

Lunes 29 - 09 -2025

Dictado de números:

_____ - _____

_____ - _____

_____ - _____

_____ - _____

_____ - _____

Martes 30-09-2025

$$\begin{array}{r} + 452 \\ + 278 \\ \hline \end{array}$$

$$\begin{array}{r} + 324 \\ + 146 \\ \hline \end{array}$$

$$\begin{array}{r} + 736 \\ + 187 \\ \hline \end{array}$$

$$\begin{array}{r} 608 \\ - 321 \\ \hline \end{array}$$

$$\begin{array}{r} 240 \\ - 193 \\ \hline \end{array}$$

$$\begin{array}{r} 968 \\ - 709 \\ \hline \end{array}$$

$$\begin{array}{l} 6 \times 9 = \square \\ 2 \times 8 = \square \\ 7 \times 4 = \square \\ 8 \times 9 = \square \\ 6 \times 2 = \square \end{array}$$

Miércoles 01-10-2025

1. Alejandra y su papá escalaron un cerro de 876 metros de altura. Se después de llegar a la cima descendieron 59 metros para acampar, ¿A cuántos metros quedó el campamento?

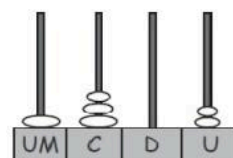
¿Qué tengo?

¿Qué hago?

¿Qué obtengo?

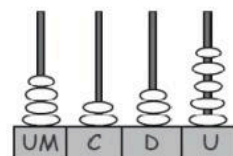
Jueves 2-10-2025

Escribe con cifras y en letras las siguientes cantidades.



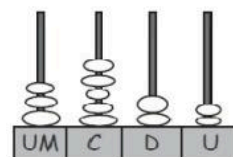
Um	C	D	U

Se lee: _____



Um	C	D	U

Se lee: _____



Um	C	D	U

Se lee: _____

