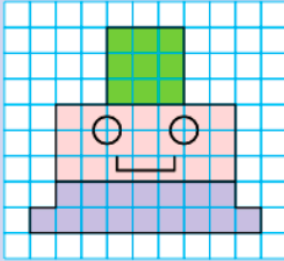








Área de un polígono con un cuadrado unidad



Nuria dibuja una figura formada por polígonos.
Quiere saber cuántos cuadrados forman cada polígono.
Esta medida se llama **área** del polígono.

-  ▶ Área = 9 
-  ▶ Área = 21 
-  ▶ Área = 16 

Para calcular el área de un polígono se toma un cuadrado como unidad de medida y se cuenta el número de cuadrados que forman el polígono.

JUEGO 1 PARA REPASAR

JUEGO 2 PARA REPASAR