

SOAL PILIHAN GANDA

Pilihlah salah satu jawaban yang paling benar!

1. Perhatikan beberapa pernyataan berikut :
 - 1) Harga emas dapat naik atau turun tergantung nilai tukar rupiah terhadap dolar.
 - 2) Letusan Gunung Merapi menyebabkan dinding menjadi terbuka lebar.
 - 3) Berkembangnya toko *online* mendorong masyarakat berperilaku konsumtif.
 - 4) Minimnya budaya gotong royong dan semangat kekeluargaan di kota.
 - 5) Remaja lebih mengenal budaya bangsa lain disbanding budaya lokal.

Dari pernyataan di atas, yang merupakan obyek kajian sosiologi adalah nomor

- A. 1), 2), dan 3)
 - B. 1), 3), dan 4)
 - C. 2), 3), dan 4)
 - D. 2), 4), dan 5)
 - E. 3), 4), dan 5)
2. Penyelesaian masalah kemiskinan dan kriminalitas yang ada dalam kehidupan masyarakat haruslah didasarkan pada pemahaman-pemahaman tentang budaya yang ada dalam masyarakat. Dalam hal ini, sosiologi dapat memberikan data yang bermanfaat kepada pemerintah untuk
 - A. membuat program baru untuk masyarakat
 - B. mengubah kebudayaan masyarakat
 - C. membuat kebijakan sesuai keadaan masyarakat
 - D. mengidentifikasi perilaku masyarakat
 - E. menimbang-nimbang apa yang harus dilakukan
 3. Para guru selalu mengajarkan kepada para siswanya untuk menghargai pendapat orang lain. Dalam pertemuan antara siswa dengan para perwakilan orang tua dan guru terdapat seorang bapak mengemukakan pendapatnya secara emosional tetapi dengan seksama para siswa mendengarkan dan menghormatinya. Contoh tersebut menunjukkan fungsi nilai sosial sebagai
 - A. pemersatu kelompok sosial antarsiswa
 - B. petunjuk cara berfikir dan bertindak siswa
 - C. alat solidaritas kelompok siswa di sekolah
 - D. penjaga stabilitas budaya kelompok siswa
 - E. pendorong cita-cita siswa dalam kehidupan
 4. Perhatikan pernyataan berikut!
 - 1) Sebagai tempat sosialisasi paling dini.
 - 2) Merupakan sarana transmisi ilmu dan teknologi.
 - 3) Sebagai pembentukan kepribadian individu.
 - 4) Memberikan bekal ketrampilan dan skill.
 - 5) Sebagai wadah aktualisasi diri di luar keluarga.

Dari pernyataan di atas, yang merupakan penerapan dari tujuan media sosialisasi sekunder adalah nomor

- A. 1), 2), dan 3)

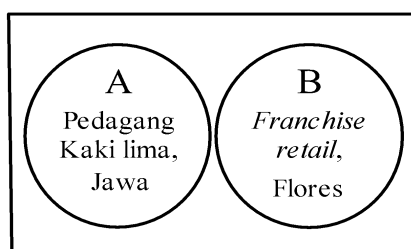
- B. 1), 3), dan 4)
 - C. 2), 3), dan 4)
 - D. 2), 4), dan 5)
 - E. 3), 4), dan 5)
5. Anton adalah seorang pelajar yang santun dan patuh pada orang tua. Tetapi karena ia sering bergaul dan berteman dengan teman-temannya yang sering terlibat perkelahian pelajar, ia menjadi salah seorang pelaku dari perkelahian pelajar. Selain itu dia awalnya juga menolak tawaran untuk menggunakan narkoba, namun karena sering bergaul dan berteman dengan orang-orang yang sering menggunakan obat terlarang, Anton menjadi pecandu narkoba.

Dari deskripsi di atas, menunjukkan hubungan antara proses sosialisasi dengan

- A. dasar pembentukan kepribadian seorang individu.
 - B. penyimpangan sosial yang positif.
 - C. penyerapan nilai-nilai budaya menyimpang.
 - D. penyerapan nilai norma yang tidak sempurna.
 - E. penanaman nilai-norma sosial.
6. Sekolah tidak hanya mengajarkan membaca dan menulis, tetapi juga membimbing para siswa untuk dapat mengemukakan hasil bacaannya kepada orang lain seperti teman sekelasnya. Saat pembelajaran berlangsung guru meminta siswanya berpendapat tanpa memikirkan salah atau benar. Contoh tersebut menunjukkan bahwa tujuan sosialisasi adalah
- A. menjaga kewibawaan sekolah saat tampil di luar sekolah
 - B. mendorong siswa untuk berpartisipasi langsung saat berdiskusi
 - C. upaya menjalin persahabatan antarsiswa di sekolah dan luar sekolah
 - D. mengembangkan kemampuan berkomunikasi siswa secara efektif dan efisien
 - E. menanamkan dan membiasakan nilai-nilai yang ada di sekolah dan masyarakat
7. Seorang siswa telah melakukan penelitian dengan judul “ Pengaruh Sosialisasi Teman Bermain terhadap Perilaku Budi Pekerti Anak di SMPN 1 Pacitan Tahun Pelajaran 2015/2016” . Perhatikan judul dan data yang dikumpulkan, Penelitian ini termasuk jenis penelitian..
- A. penelitian studi kasus
 - B. penelitian survei
 - C. penelitian kuantitatif
 - D. penelitian kualitatif
 - E. penelitian eksperimen
8. Perusahaan manufaktur dipimpin oleh seorang direktur utama dengan beberapa manajer profesional dan didukung oleh para karyawan yang bekerja dengan giat. Stratifikasi sosial pada perusahaan tersebut bersifat terbuka karena
- A. direktur utama merupakan jabatan tertinggi pada perusahaan tersebut
 - B. setiap individu memiliki peluang untuk jabatan yang lebih tinggi
 - C. persaingan yang terjadi antara karyawan dengan level tinggi
 - D. terdapat aturan baku perusahaan yang disepakati bersama

E. keterbatasan individu dalam mencapai jabatan tinggi tertentu

9. Judul Penelitian : Tindakan siswa dari keluarga miskin mempertahankan prestasi di Sekolah Menengah Atas Negeri di Kabupaten Pamekasan. Memperhatikan judul penelitian tersebut rumusan masalah yang tepat adalah....
- Bagaimana upaya mempertahankan prestasi siswa di Sekolah Menengah Atas Negeri di Kabupaten Pamekasan ?
 - Bagaimana tindakan siswa dari keluarga miskin dalam mempertahankan prestasi di Sekolah Menengah Atas Negeri di Kabupaten Pamekasan ?
 - Seberapa banyak siswa dari keluarga miskin yang mempertahankan prestasi di Sekolah Menengah Atas Negeri di Kabupaten Pamekasan ?
 - Bagaimanakah keadaan siswa miskin dari keluarga tidak mampu di Sekolah Menengah Atas Negeri di Kabupaten Pamekasan ?
 - Apakah ada pengaruh kondisi keluarga miskin dengan prestasi di Sekolah Menengah Atas Negeri di Kabupaten Pamekasan ?
10. Perhatikan bagan interaksi tersebut!



Bagan struktur sosial pada masyarakat di atas mempunyai konsekuensi terjadinya

- potensi konflik antarkelompok sosial
 - perbedaan kebudayaan antarkelompok
 - kesenjangan pendapatan kelompok
 - keseragaman dalam pelayanan sosial
 - loyalitas antaranggota kelompok
11. Tabel jajak pendapat tentang studi kampus untuk peserta didik kelas XI

No	Kelas	Jumlah	Setuju	Tidak Setuju
1	XI Ilmu Pengetahuan Alam	120	70	50
2	XI Ilmu Pengetahuan Sosial	80	65	15
3	XI Ilmu Pengetahuan Bahasa	40	15	25

Dari hasil jejak pendapat tersebut dapat disimpulkan bahwa yang setuju dengan dilakukan studi kampus adalah

- A. 55 % peserta didik tidak memilih
- B. 60,5 % pada peserta didik jurusan IPB
- C. 55,5 % pada peserta didik jurusan IPS
- D. 57,2 % pada peserta didik jurusan IPA
- E. 62,5 % dari keseluruhan peserta didik

12. Perhatikan syarat–syarat penyusunan laporan penelitian berikut !

- (1) Mengacu kepada pedoman sistematika penulisan ilmiah.
- (2) Peneliti membuat kerangka utama materi laporan penelitian.
- (3) Mudah dipahami karena latar belakang pembaca berbeda–beda.
- (4) Memfokuskan topik penelitian yang sudah ditetapkan.
- (5) Hasil penelitian secara lugas, jujur, obyektif dan apa adanya.

Yang termasuk syarat konstruksi dalam penulisan laporan penelitian adalah nomor....

- A. 1), 2), dan 3)
- B. 1), 2), dan 4)
- C. 1), 3), dan 5)
- D. 2), 3), dan 4)
- E. 3), 4), dan 5)

13. Masyarakat merupakan kelompok sosial yang dapat mendorong terjalinnya hubungan antarwarga yang kondusif sehingga dapat terwujud kondisi masyarakat yang harmonis. Setiap warga diharapkan dapat memaksilmalkan partisipasinya di masyarakat. Peran masyarakat sebagai kelompok sosial adalah

- A. mengajarkan keterampilan mencari nafkah
- B. mengintegrasikan pengetahuan hidup warga
- C. meletakkan nilai-nilai dasar kemasyarakatan
- D. menumbuhkan semangat solidaritas antarwarga
- E. mempersiapkan warga untuk memiliki kemampuan

14. Perhatikan beberapa contoh konflik sosial berikut:

- (1) Konflik antarsaudara yang melibatkan ketua RT dalam penyelesaiannya
- (2) Guru berhasil melerai dua siswa yang berkelahi kemudian memberikan skorsing
- (3) Konflik antara tukang parkir dengan pedagang kaki lima melibatkan pihak RW setempat untuk melerainya

Penyelesaian konflik dengan cara arbitrase bisa diterapkan pada contoh konflik di atas karena

- A. bantuan pihak ketiga yang berfungsi sebagai penengah diantara pihak yang berkonflik
- B. membiarkan kasus itu sampai lama agar memiliki kekuatan sanksi yang mengikat
- C. diselesaikan di pengadilan agar memiliki kekuatan sanksi yang mengikat kepada pihak yang berkonflik

- D. pihak yang kuat menekan yang lemah agar tidak ada hambatan dalam penyelesaian konflik
- E. bantuan pihak ketiga dengan memberikan keputusan mengikat kepada yang berkonflik

15. Perhatikan contoh kelompok sosial di bawah ini !

- (1) Ikatan advokat indonesia
- (2) Keluarga besar bani Umar
- (3) Persatuan guru indonesia
- (4) Rukun tetangga (RT)
- (5) Paguuban pedagang kaki lima

Yang tergolong bentuk kelompok sosial *gemeinschaft* ditunjukkan nomor adalah

- A. 1), 2), dan 3)
- B. 1), 3), dan 5)
- C. 2), 3), dan 4)
- D. 2), 4), dan 5)
- E. 3), 4), dan 5)

16. Perhatikan pernyataan berikut

- (1) Adanya Gerakan separatisme di daerah Aceh dan Papua
- (2) Adanya pemukiman liar dan kumuh di bawah jembatan di daerah perkotaan
- (3) Merebaknya prosstitusi dikalangan pelajar dan mahasiswa
- (4) Penggunaan handphone untuk aplikasi taxi on line
- (5) Penggunaan tehnologi informasi untuk media pembelajaran

Berdasarkan pernyataan diatas, Yang tergolong masalah sosial ditunjukkan nomor ...

- A. 1), 2), dan 3)
- B. 1), 2), dan 4)
- C. 1), 2), dan 5)
- D. 1), 3), dan 5)
- E. 1), 4), dan 5)

17. Masyarakat kotamemiliki keberagaman (profesi), dan terdiri dari suku bangsa yang berbeda akan menghambat proses integrasi.. Faktor yang menghambat integrasi sosial pada masyarakat kota adalah.....

- A. jumlah penduduk yang banyak,
- B. mobilitas sosial yang bergerak cepat
- C. homogenitas masyarakat
- D. heterogenitas masyarakat
- E. jaringan komunikasi

18. Seorang guru menerapkan pembelajarannya dengan menggunakan media film dan media gambar. Pengalaman menggunakan dua metode tersebut menunjukkan ada perbedaan prestasi siswanya, sehingga ia tertarik untuk melakukan penelitian komparatif. Tujuan pemilihan jenis penelitian tersebut adalah

- melihat keterkaitan antara dua metode tersebut
- menguji validitas dari dua metode tersebut
- membandingkan efektivitas dua metode tersebut
- melihat perbedaan prestasi siswa di sekolah tersebut
- menggali secara detail semua kemampuan belajar siswa

19. Perhatikan pernyataan berikut ini

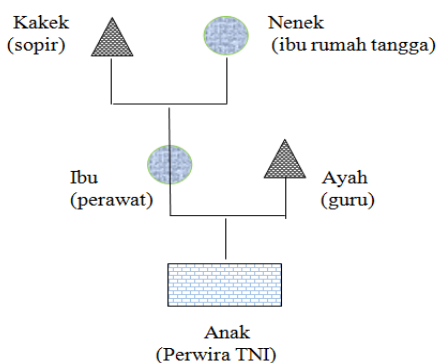
- Penjual Tahu campur Lamongan berpindah berjualan di Surabaya
- Pak Hajar, Guru PNS Surabaya yang dimutasi ke Irian Jaya
- Letnan Tisnan berpindah tugas dari Jakarta ke Surabaya
- Ali karena prestasinya mendapatkan Kenaikan pangkat
- Ibu Yuli memasuki usia Pensiun PNS

Berdasarkan pernyataan tersebut diatas, yang tergolong mobilitas sosial horizontal ditunjukkan nomor....

- 1), 2), dan 3)
- 1), 3), dan 4)
- 1), 4), dan 5)
- 2), 3), dan 5)
- 3), 4), dan 5)

20. Perhatikan gambar berikut :

Perhatikan bagan Mobilitas Sosial berikut ini :



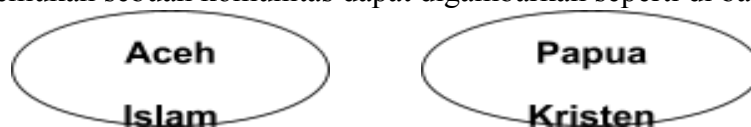
Berdasarkan bagan diatas, maka mobilitas sosial yang terjadi dalam keluarga tersebut adalah mobilitas...

- intra generasi naik
- intra generasi turun
- antar generasi naik
- antar generasi turun

E. intra generasi

21. Tuntutan upah minimum propinsi diantaranya menyebabkan pemilik pabrik memindahkan lokasi pabrik ke daerah pedesaan untuk mendapatkan buruh dengan upah yang lebih murah. Konsekuensi tersebut dapat menimbulkan konflik....
- antarkelas
 - antarpribadi
 - antargolongan
 - antargenerasi
 - antarstruktur sosial

22. Kemajemukan sebuah komunitas dapat digambarkan seperti di bawah ini :



Kedua kelompok yang hidup berdampingan dengan perbedaan suku bangsa tersebut dapat membuat struktur sosial yang berpotensi mendorong terjadinya

- aksi sosial
 - pengendalian sosial
 - integrasi sosial
 - diferensiasi sosial
 - konsolidasi sosial
23. Perhatikan pernyataan berikut
- memberi kebebasan memeluk agama bagi individu
 - membatasi ruang gerak organisasi yang berbeda lain
 - meningkatkan interaksi yang dissosiatif
 - menganggap perbedaan sebagai keunikan budaya
 - mengembangkan sikap toleran atas perbedaan

Pernyataan yang tergolong sikap atas pemecahan konflik dalam masyarakat multikultural ditunjukkan pada pernyataan nomor.....

- 1,2 dan 3
 - 1,2 dan 4
 - 1,2 dan 5
 - 1,3 dan 5
 - 1,4 dan 5
24. Pemerintah kota Surabaya menutup lokalisasi di kawasan Dolly, Surabaya. Meskipun awalnya, rencana tersebut mendapatkan penolakan dari warga yang berkecimpung pada bisnis prostitusi tersebut. Saat ini kawasan Dolly berubah menjadi kawasan yang bersih, asri dan bermunculan usaha produktif seperti warung, dan kerajinan industry lainnya. Berikut ini pernyataan yang sesuai dengan dengan gejala sosial tersebut.....
- prostitusi merupakan gejala sosial yang wajar sesuai keinginan masyarakat

- B. prostitusi merupakan gejala sosial yang bersumber pada ekonomi
- C. prostitusi merupakan gejala sosial yang bersumber pada masalah biologis
- D. prostitusi dapat dikaji, sehingga dapat menghindari masalah sosial lain
- E. prostitusi telah didukung oleh pelbagai pihak

25. Perhatikan pernyataan berikut !

- (1) Pendidikan dengan menggunakan sistem bertaraf internasional
- (2) Penggunaan internet dan telepon seluler memperlancar komunikasi
- (3) Pelaksanaan program kartu indonesia sehat meningkatkan kualitas kesehatan masyarakat miskin
- (4) Asap kebakaran hutan di Riau menyebabkan gangguan lalu lintas
- (5) Kemarau panjang menyebabkan masyarakat sulit memperoleh air bersih

Kategori perubahan sosial terencana ditunjukkan nomor....

- A. 1), 2), dan 3)
- B. 1), 2), dan 4)
- C. 1), 3), dan 5)
- D. 2), 4), dan 5)
- E. 3), 4), dan 5)

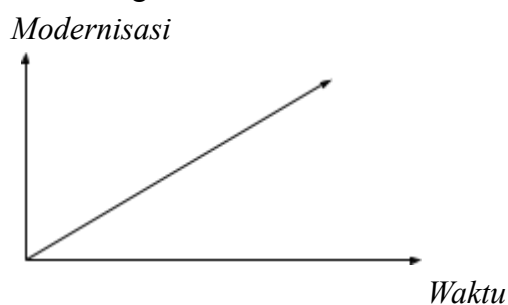
26 Cermatilah pernyataan di bawah ini !

- (1) Sistem terbuka lapisan masyarakat
- (2) Sistem pendidikan tradisional
- (3) Toleransi
- (4) Jumlah penduduk
- (5) Kontak dengan kebudayaan yang lain
- (6) Terjadinya bencana alam

Pernyataan diatas yang menunjukkan faktor pendorong perubahan sosial di masyarakat ditunjukkan nomor....

- A. 1), 2), dan 3)
- B. 1), 3), dan 5)
- C. 2), 3), dan 4)
- D. 2), 4), dan 6)
- E. 3), 4), dan 5)

27 Perhatikan gambar berikut!



Bentuk proses perubahan sosial seperti pada gambar adalah....

- A. Struktural
- B. siklus
- C. Fungsional
- D. Konflik
- E. Linier

28 Globalisasi telah membuka batas sosial budaya di seluruh dunia. Dalam era globalisasi, masyarakat dunia terbuka terhadap berbagai informasi. Dampak negatif globalisasi bagi anggota masyarakat yang belum siap dengan kondisi tersebut adalah....

- A. Meningkatkan tindak kriminalitas
- B. Menyebabkan kerusakan lingkungan
- C. Meningkatkan konsumerisme dan hedonisme
- D. Mengalami ketidakteraturan sosial
- E. Mengalami guncangan sosial budaya

29 Perhatikan dampak-dampak berikut ini !

- (1) Kontrol negara terhadap dunia pendidikan semakin longgar
- (2) Pertukaran tenaga pendidik berkualitas antar negara semakin meningkat
- (3) Lembaga pendidikan bersaing membangun fasilitas bertaraf internasional
- (4) Pertukaran informasi dalam perkembangan ilmu pengetahuan meningkat
- (5) Kesempatan memperoleh bantuan biaya pendidikan di luar negeri meningkat

Yang merupakan dampak positif globalisasi adalah....

- A. 1), 2), dan 3)
- B. 1), 2), dan 5)
- C. 1), 3), dan 4)
- D. 2), 4), dan 5)
- E. 3), 4), dan 5)

30 Perhatikan indikator berikut!

- (1) Tenaga kerja dan komunitas makin tidak terikat dalam satu wilayah
- (2) Industrialisasi melalui perusahaan multinasional berkembang pesat
- (3) Kepedulian terhadap bahaya ekologi global meningkat
- (4) Masyarakat terpencil semakin sulit dijangkau
- (5) Akses informasi dan teknologi tidak merata

Ciri-ciri globalisasi terdapat pada nomor....

- A. 1), 2), dan 3)
- B. 1), 2), dan 5)
- C. 1), 3), dan 4)
- D. 2), 3), dan 5)
- E. 3), 4), dan 5)

- 31 Dampak globalisasi ekonomi mempengaruhi perkembangan sistem perdagangan luar negeri yang lebih bebas. Hal ini menyebabkan negara berkembang tidak dapat lagi menggunakan tarif yang tinggi untuk memberikan proteksi kepada industri yang baru berkembang. Berdasarkan deskripsi tersebut maka dampak negatif di bidang ekonomi di Indonesia adalah
- menghambat pertumbuhan industri dalam negeri
 - menurunnya dana tambahan bagi pemerintah pusat
 - sektor keuangan semakin tidak stabil dan sulit dikendalikan
 - memperburuk keadaan neraca pembayaran negara
 - memperoleh lebih banyak modal dari luar negeri

- 32 Perhatikan pernyataan berikut!

- Data keadaan
- Rumusan masalah
- Tujuan dan penerima manfaat yang hendak dicapai
- Cara mencapai tujuan
- Metode yang dipilih

Cakupan rencana kegiatan dalam pemberdayaan komunitas adalah.....

- 1), 2), 3), dan 4)
- 1), 3), 4), dan 5)
- 1), 2), dan 5)
- 1), 3), dan 5)
- 2), 3), dan 5)

- 33 Perhatikan beberapa pernyataan berikut!

- Mendorong pemerintah mewujudkan *good governance*/pemerintahan yang baik
- Meningkatkan hubungan diplomatik antar negara
- Meningkatkan dukungan partisipasi aktif untuk menciptakan perdamaian dunia
- Negara cenderung mengikuti perkembangan kenegaraan yang banyak dianut negara di dunia
- Pergolakan politik negara berpotensi muncul lebih besar

Yang termasuk dampak positif globalisasi dalam bidang politik.....

- 1), 2), dan 3)
- 1), 2), dan 4)
- 2), 3), dan 5)
- 1), 3), dan 4)
- 3), 4), dan 5)

- 34 Pemerintah Indonesia akhir-akhir ini banyak menerima kritikan dari berbagai elemen sosial sebagai akibat dari berbagai kebijakan. Masyarakat menginginkan adanya perubahan ke arah yang lebih baik lagi. Faktor pendorong terjadinya tuntutan terhadap perubahan tersebut adalah

- sistem stratifikasi masyarakat yang bersifat terbuka
- adanya orientasi masyarakat tentang masa depan
- tingginya sistem pendidikan formal masyarakat
- banyaknya permintaan elemen-elemen sosial

E. ketidakpuasan masyarakat dalam bidang tertentu

35 Perhatikan beberapa pernyataan berikut!

- (1) Terjadi pembagian kerja dunia
- (2) Pilihan barang yang beragam
- (3) Mendorong masyarakat cenderung konsumtif
- (4) Menambah sumber devisa
- (5) Meningkatkan ketergantungan terhadap investasi asing

Yang termasuk dampak negatif globalisasi dalam bidang ekonomi.....

- A. 1), 2), dan 3)
- B. 1), 2), dan 4)
- C. 2), 3), dan 5)
- D. 1), 3), dan 5)
- E. 3), 4), dan 5)

- 36 Perhatikan gejala sosial berikut!
- (1) Pendirian rumah panggung pada masyarakat Palembang
 - (2) Pemotongan hewan qurban pada masyarakat Minang
 - (3) Bercocok tanam masyarakat Baduy penuh kehati-hatian
 - (4) Banyaknya sungai di sekitar pemukiman masyarakat Madura
 - (5) Hubungan kekerabatan Daliha Na Tolu pada masyarakat Batak.

Yang merupakan nilai-nilai kearifan lokal di tengah-tengah globalisasi ditunjukkan pada nomor

- A. (1), (2), dan (3)
 - B. (1), (2), dan (4)
 - C. (1), (3), dan (5)
 - D. (2), (4), dan (5)
 - E. (3), (4), dan (5)
- 37 Berdasarkan Undang-undang Pemilukada, kepala daerah dipilih langsung oleh rakyat. Akan tetapi dalam praktek pemilihan langsung tersebut muncul suatu masalah, yaitu adanya gugatan hasil pemilukada. Gugatan hasil pemilukada dilakukan dengan aksi anarkis sehingga terjadi ketidakstabilan kehidupan masyarakat. Berdasarkan deskripsi tersebut dapat diketahui bahwa perubahan sosial menyebabkan terjadi disorganisasi dalam bentuk.....
- A. Kejahatan dan kekerasan kelompok
 - B. Aksi protes menuntut perubahan
 - C. Gerakan melawan keteraturan
 - D. Pergolakan politik di daerah
 - E. Tindak kriminalitas
- 38 Meskipun era globalisasi melanda indonesia, bagi kita bangsa Indonesia, tatanan masyarakat modern harus tetap tumbuh, bertambah kokoh dan berkembang diatas.....
- A. Kebebasan bangsa
 - B. Kehidupan demokrasi
 - C. Kekuatannya sendiri
 - D. Kepribadian bangsa sendiri
 - E. Landasan bangsa
- 39 Perhatikan pernyataan berikut!
- (1) Membantu pengembangan kepemimpinan
 - (2) Mengurangi partisipasi masyarakat dan tokoh masyarakat
 - (3) Memantapkan tujuan-tujuan yang ingin dan harus dicapai yang perkembangannya dapat diukur dan di evaluasi
 - (4) Mencegah kesalahartian tentang tujuan akhir
 - (5) Melakukan pemborosan sumber daya

Yang melatarbelakangi pentingnya perencanaan program pemberdayaan komunitas adalah.....

- A. 1), 2), dan 3)
- B. 1), 3), dan 4)
- C. 1), 2), dan 5)
- D. 2), 3), dan 4)
- E. 3), 4), dan 5)

40 Perhatikan pernyataan berikut!

- (1) Kearifan lokal berasal dari dua suku kata yaitu kearifan(wisdom) dan lokal (local)
- (2) Kearifan lokal tidak selalu merujuk kepada pengetahuan lokal yang digunakan oleh masyarakat lokal untuk bertahan hidup dalam suatu lingkungannya yang menyatu dalam sistem kepercayaan, norma, budaya, dan diekspresikan di dalam tradisi dan mitos yang dianut dalam jangka waktu yang lama
- (3) Kearifan lokal merupakan modal sosial yang dipandang sebagai sumbu vital bagi perkembangan pemberdayaan ekonomi masyarakat
- (4) Kearifan lokal dapat menjelma sebagai substansi ucapan, maupun sebagai praktik kehidupan
- (5) Kearifan lokal tidak dapat dimaknai sebagai pandangan hidup dan pengetahuan lokal

Pernyataan di atas yang merupakan makna kearifan lokal adalah.....

- A. 1), 2), dan 3)
- B. 1), 3), dan 4)
- C. 1), 3), dan 5)
- D. 2), 3), dan 5)
- E. 3), 4), dan 5)

SOAL URAIAN

41. Fenomena tawuran antarwarga menimbulkan kerugian harta benda, rusaknya sarana prasana umum, bahkan korban jiwa. Identifikasikan bentuk-bentuk interaksi sosial asosiatif dan disosiatifnya!
42. Perhatikan Tabel Hasil Niai Ulangan semester genap mata pelajaran Sosiologi

Nilai	Jumlah
5	1
6	1
7	5
8	5
9	6
10	2
Jumlah	20

- Hitunglah :
- Nilai rata-ratanya (Mean) !
 - Nilai modusnya !
 - Nilai medianya !
43. Seorang peneliti akan melakukan penelitian tentang "Pengaruh Minat Baca Terhadap Kemampuan Berkomunikasi", karena keterbatasan waktu, tenaga, dan dana, ia memilih menggunakan teknik *purposive sampling*(sampel bertujuan). Jelaskan yang dimaksud dengan *purposive sampling* dan uraikan 3 syarat yang harus dipenuhi dalam pengambilan sampel tersebut!
44. Perubahan sosial yang terjadi di dalam masyarakat dapat disebabkan oleh beberapa faktor. Identifikasikan minimal 3 faktor Eksternal penyebab perubahan sosial!
45. Ketimpangan sosial dalam kehidupan masyarakat dapat menimbulkan masalah sosial yang beragam seperti munculnya kriminalitas. Jelaskan minimal 3 upaya yang dapat dilakukan untuk mengatasi kriminalitas tersebut!