

Идентификационный номер

--

**ЗАДАНИЯ ДЛЯ ПРОВЕДЕНИЯ I ЭТАПА РЕСПУБЛИКАНСКОЙ
ОЛИМПИАДЫ ПО УЧЕБНЫМ ПРЕДМЕТАМ
«ИСТОРИЯ БЕЛАРУСИ», «ВСЕМИРНАЯ ИСТОРИЯ»
ДЛЯ 10-ГО КЛАССА
В 2021/2022 УЧЕБНОМ ГОДУ**

Внимание! Задания выполняются на бланках заданий. При необходимости можно использовать обратную сторону бланка заданий.

Максимальное количество баллов – 151.

I. Выберите правильный вариант ответа.

За каждый правильный ответ – 1 балл. Максимальное количество баллов – 15.

1. Немецкий археолог, который прославился успешными раскопками в Микенах и открытием Трои:

- | | |
|--------------------|--------------------|
| А) Генрих Шлиман; | В) Артур Эванс; |
| Б) Хольгер Арбман; | Г) Генрих Брюнинг. |

Ответ	
-------	--

2. Какая египетская царица приказала изображать себя на рельефах мужчиной?

- | | |
|---------------|---------------|
| А) Хатшепсут; | В) Нефертити; |
| Б) Клеопатра; | Г) Мернейт. |

Ответ	
-------	--

3. Современное государство Латинской Америки, на территории которого в Средние века располагалась империя ацтеков:

- | | |
|-------------|---------------|
| А) Перу; | В) Аргентина; |
| Б) Мексика; | Г) Бразилия. |

Ответ	
-------	--

4. В результате переворота 1688 г. в Англии была свергнута династия:

- | | |
|--------------|----------------|
| А) Тюдоров; | В) Оранских; |
| Б) Стюартов; | Г) Габсбургов. |

Ответ	
-------	--

5. Уроженец Беларуси, участник Войны за независимость США, генерал, герой битвы под Саратогой:

- А) Тадеуш Костюшко;
Б) Константин Калиновский;

- В) Игнатий Домейко;
Г) Якуб Ясинский.

Ответ	
-------	--

6. В X–XIII вв. военное ополчение у восточных славян возглавлял:

- А) каштелян;
Б) митрополит;

- В) тысяцкий;
Г) старейшина.

Ответ	
-------	--

7. Самая древняя книга, созданная на белорусских землях и сохранившаяся до наших дней:

- А) «Туровское евангелие»;
Б) «Радзивилловская летопись»;

- В) «Псалтырь»;
Г) «Хроника Быховца».

Ответ	
-------	--

8. Организовывал работу и следил за порядком на заседаниях великокняжеской Рады и сейма:

- А) канцлер;
Б) гетман;

- В) подскарбий земский;
Г) маршалок земский.

Ответ	
-------	--

9. М. Глинский поднял мятеж против:

- А) Казимира Ягайловича;
Б) Сигизмунд I;

- В) Сигизмунд II Август;
Г) Казимира IV Ягеллона.

Ответ	
-------	--

10. Японский флот потерпел поражение у острова Мидуэй в:

- А) 1941 г.;
Б) 1942 г.;

- В) 1943 г.;
Г) 1944 г.

Ответ	
-------	--

11. Британский ученый А. Флеминг в конце 1920-х гг.:

- А) открыл пенициллин;
Б) создал теорию относительности;

- В) заложил основы генетики;
Г) открыл структуру ДНК.

Ответ	
-------	--

12. На Парижской мирной конференции (1919–1920 гг.) Великобританию представлял премьер-министр:

- А) Ф. Эберт; В) Б. Муссолини;
Б) Ж. Клемансо; Г) Д. Ллойд Джордж.

Ответ	
-------	--

13. Алжир был признан независимым государством при президенте Франции:

- А) Ж. Шираке; В) Ш. де Голле;
Б) Н. Саркози; Г) Ф. Миттеране.

Ответ	
-------	--

14. Латеранские соглашения с Ватиканом в 1929 г. подписала:

- А) Германия; В) Австрия;
Б) Италия; Г) Швейцария.

Ответ	
-------	--

15. Главой и председателем правительства Китайской Советской Республики, провозглашенной в 1931 г., был избран:

- А) Хирохито; В) Мао Цзэдун;
Б) Сунь Ятсен; Г) Мустафа Кемаль.

Ответ	
-------	--

II. Определите лишние элементы, вычеркните их.

За каждый правильный ответ – 1 балл. Максимальное количество баллов – 4.

1. Категории мещан Великого Княжества Литовского:	коморники;
	наймиты;
	коробейники;
	земяне.

2. Элементы женской одежды жителей белорусских земель:	понёва;
	ноговицы;
	андарак;
	намитка.

3. Причины заключения Люблинской унии:	внешняя угроза;
--	-----------------

	заинтересованность польских магнатов в земельных приобретениях в ВКЛ;
	борьба за «золотые шляхетские вольности»;
	отсутствие персональной унии между Польшей и ВКЛ.

4. Деятели Реформации:	Якуб из Калиновки;
	Симон Будный;
	Иосафат Кунцевич;
	Василий Тяпинский.

III. Согласны ли вы с утверждением? (ответ укажите словом «да» или «нет»).
За каждый правильный ответ – 0,5 балла. Максимальное количество баллов – 4,5.

№	Утверждение	Да/нет	Баллы
1.	Франсиско Писарро завоевал империю ацтеков всего с 200 солдатами		
2.	617 цветных миниатюр содержит «Летописец великих князей литовских»		
3.	Пионерами в области географических открытий стали Англия и Франция		
4.	Комитет спасения революции, созданный в Минске в октябре 1917 г., ставил перед собой цель защитить достижения Октябрьской революции		
5.	Французский философ и математик Рене Декарт считал, что общество и живой организм функционируют в соответствии с законами механики		
6.	В ходе так называемой «бостонской бойни» американские колонисты проникли на английский корабль и выбросили в воду чай		
7.	Династия Токугава правила до 1868 г.		
8.	Крестьянская реформа 1861 г. наделила крестьян политическими правами		
9.	В результате Брестской церковной унии была создана униатская церковь		

IV. Соотнесите элементы двух множеств.

За каждое правильное соответствие – 0,5 балла. Максимальное количество баллов – 10.

1. Битву с именем князя, при котором эта битва произошла:

1) Всеслав Чародей;	А) битва на р. Ворскле;
2) Ольгерд;	Б) битва на р. Пещань;
3) Владимир Красное Солнышко;	В) Куликовская битва;
4) Витовт;	Г) битва на р. Стреве;
5) Ягайло.	Д) битва на р. Немиге.
Ответ	1 - ; 2 - ; 3 - ; 4 - ; 5 -
Баллы	

2. Населенные пункты и найденные около них археологические памятники:

А) п. Красносельский, Волковыский район;	1) языческое захоронение шахтера;
Б) д. Осовец, Бешенковичский район;	2) рало;
В) д. Коплановичи, Клецкий район;	3) статуэтки людей;
Г) д. Лабенщина, Минский район.	4) печь-домница.
Ответ	А - ; Б - ; В - ; Г -
Баллы	

3. Имена исторических деятелей с характеристикой их деятельности:

1) Э. Бернштейн;	А) генералиссимус, главнокомандующий войсками на Западном фронте;
2) А. Веллингтон;	Б) «Алмазный король», завоевавший огромные земли для Британской короны;
3) Ф. Энгельс;	В) глава общества «Молодая Италия»;
4) С. Родс;	Г) крупнейший теоретик ревизионизма
5) Ф. Фош;	Д) известный английский полководец первой половины XIX в.;
6) Дж. Мадзини.	Е) один из создателей I и II Интернационала.
Ответ	1 - ; 2 - ; 3 - ; 4 - ; 5 - ; 6 -
Баллы	

4. Деятели белорусской культуры второй половины XIX – первой половины XX в. и их литературные псевдонимы:

1) А. Левицкий;	А) Ц. Гартный;
2) И. Луцевич;	Б) А. Гарун;
3) А. Прушинский;	В) Ядвига Ш.;
4) К. Мицкевич;	Г) Я. Колас;
5) З. Жилунович.	Д) Я. Купала.
Ответы	1 - ; 2 - ; 3 - ; 4 - ; 5 -
Баллы	

V. Укажите исторические события, представленные на данных иллюстрациях, и годы, когда эти события произошли.

За каждый правильный ответ – 1 балл. Максимальное количество баллов – 8.

Иллюстрация	Событие	Дата	Баллы
			
			
			



--	--	--	--

VI. Установите правильную хронологическую последовательность.

За каждое правильное соответствие в задании – 0,5 балла. Если в задании указано 3 правильных ответа, то – 1 балл; если 1–2, то – 0 баллов. Максимальное количество баллов – 8,5.

1. События периода Смутного времени в Российском государстве:

А) восстание под предводительством Ивана Болотникова;
Б) смерть Бориса Годунова;
В) избрание царем Михаила Романова;
Г) освобождение Москвы ополчением Минина и Пожарского.
Ответ: 1 - ; 2 - ; 3 - ; 4 -

Баллы	
--------------	--

2. События периода обретения независимости США:

А) принятие Декларации независимости США;
Б) «бостонское чаепитие»;
В) подписание мирного договора между США и Великобританией;
Г) начало войны за независимость в Северной Америке.
Ответ: 1 - ; 2 - ; 3 - , 4 -

Баллы	
--------------	--

3. Утверждение конституционных актов:

А) принятие первой Конституции Франции;
Б) принятие Конституции США;
В) принятие «Билля о правах» в Англии;
Г) принятие Конституции Речи Посполитой.
Ответ: 1 - ; 2 - ; 3 - ; 4 -

Баллы	
--------------	--




4. Освобождение от немецко-фашистских захватчиков белорусских городов:

А) Бобруйска;
Б) Могилева;
В) Мозыря;
Г) Полоцка;
Д) Витебска.
Ответ: 1 - ; 2 - ; 3 - ; 4 - ; 5 -

Баллы	
--------------	--

VII. Где находятся представленные на фотографиях памятники архитектуры? (укажите название населенного пункта).

За каждый правильный ответ – 1 балл. Максимальное количество баллов – 3.

Памятник и архитектуры			
	Ответ		
Баллы			

VIII. Дополните информацию.

За каждый правильный ответ – 1 балл. Максимальное количество баллов – 6.

№		Ответ	Баллы
1.	Крестьянская война 1524–1526 гг. под руководством Томаса Мюнцера происходила на территории ...		
2.	Первым из европейцев проложил путь в Индию в 1497 г. португалец ...		
3.	Сторонников протестантов-кальвинистов во Франции в XVI в. называли ...		
4.	Первоначально скромно одетых дворян, а затем всех тех, кто боролся за свободу Нидерландов, во время революции 1566–1609 гг. называли ...		
5.	Масштабная война в Европе, происходившая с 1618 по 1648 г., получила название ...		
6.	Главным событием восстания 14 июля 1789 г. в Париже, ставшим началом Французской революции, являлось взятие ...		

IX. Рассмотрите иллюстрации и ответьте на вопросы.

За каждый правильный ответ – 1 балл. Максимальное количество баллов – 3.



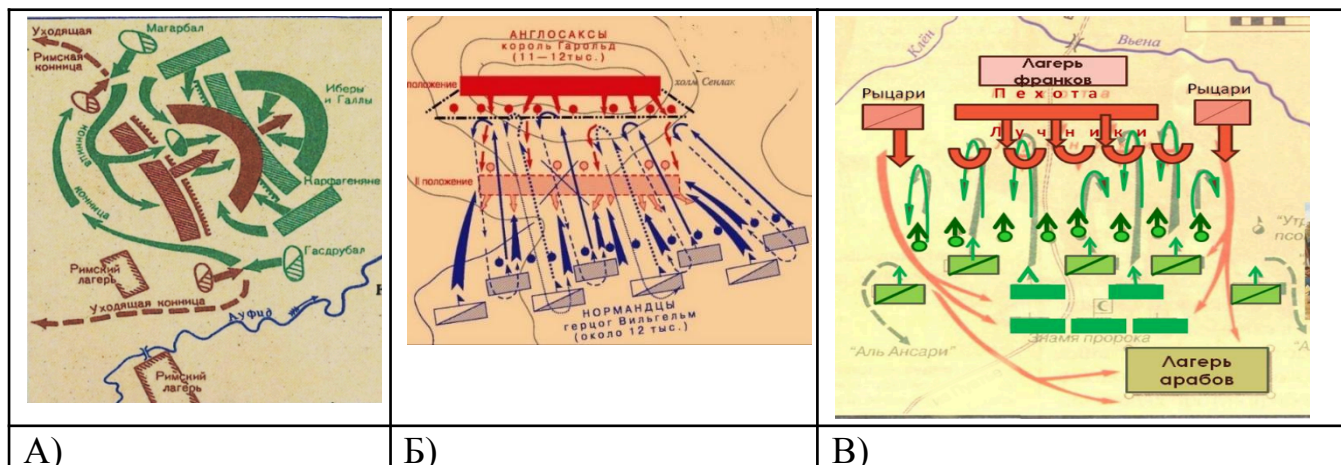
Герб «Лис»

Вопрос	Ответы	Баллы
Какому известнейшему магнатскому роду Великого Княжества Литовского принадлежал данный герб?		
Какое прозвище получил представитель этого рода по имени Бенедикт?		
Какую государственную должность он (Бенедикт) занимал в ВКЛ во вт. пол. 1680-х гг.?		

X. Соотнесите даты сражений античной и средневековой истории со схемами этих сражений и назовите их.

За каждый правильный ответ – 1 балл. Максимальное количество баллов – 6.

Дата	Название сражения	Схема	Баллы
216 г. до н.э			
732 г.			
1066 г.			



XI. Запишите исторический термин или понятие в соответствии с его определением.

За каждый правильный ответ – 1 балл. Максимальное количество баллов – 4.

№	Определение понятия	Ответ	Баллы
1.	Собрание взрослых свободных мужчин у германцев и скандинавов		
2.	Форма государственного устройства, при которой монарх обладает неограниченной властью		
3.	Лично свободное население Спарты, лишённое политических прав		
4.	Умеренная республиканская группировка периода Французской революции		

XII. Ниже приведённые организации разделите на две группы по принципу.

За каждый правильный ответ – 0,5 балла. Максимальное количество баллов – 6.

А) военно-политические блоки;

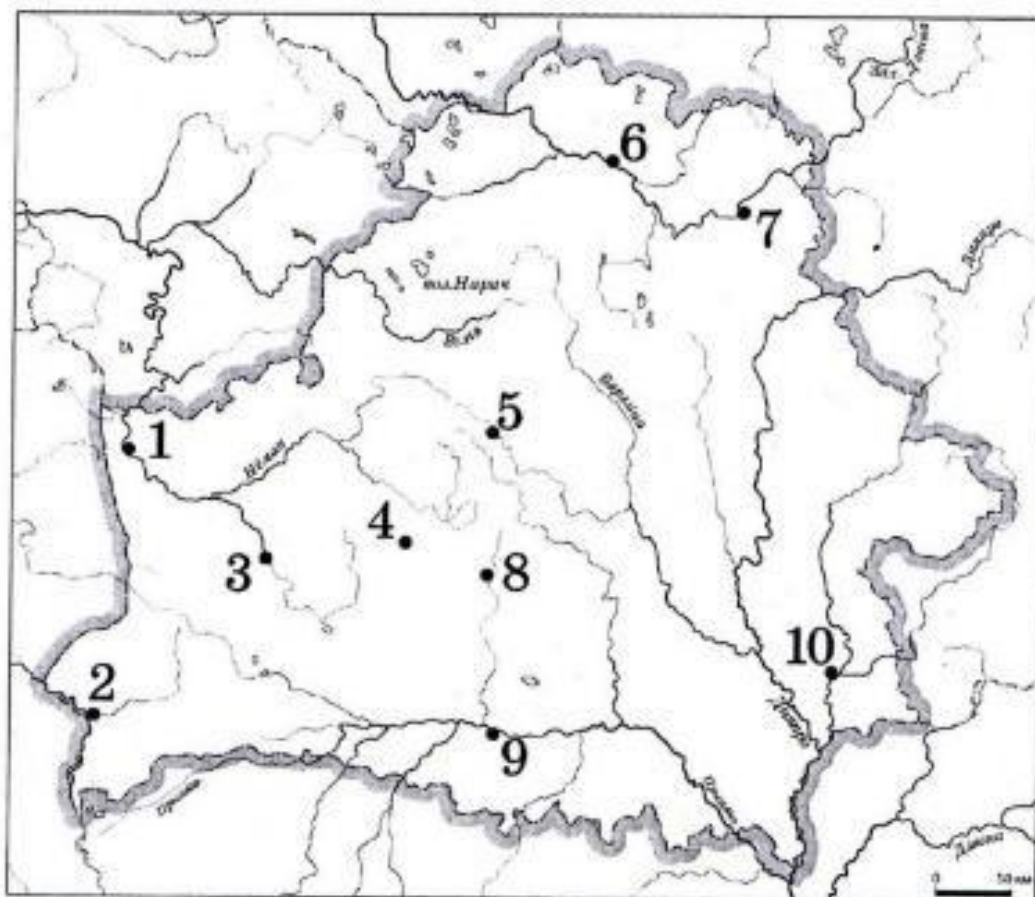
Б) экономические группировки.

СЭВ, СЕАТО, НАТО, ЕС, ОВД, АНЗЮС, НАФТА, ЕАСТ, АТЭС, СЕНТО, ЗЕС, АСЕАН

А) военно-политические блоки;	Б) экономические группировки.

XIII. Рассмотрите карту. Запишите цифру и название населенного пункта, с историей которого связаны следующие факты.

За каждый полный правильный ответ – 2 балла. Максимальное количество баллов – 8.



№	Факты	Цифра	Название населенного пункта	Баллы
1.	Этот город во время правления князя Ольгерда был центром православной митрополии			
2.	Город, центр княжества, который впервые в летописи упоминается в 1128 г., когда князем здесь был Всеволод			
3.	В 1562 г. около этого города собрался сейм, который потребовал «совершить совместный сейм с поляками, чтобы вместе короля выбирать, иметь общую защиту, совместно соймиковать и одинаковое право употреблять»			
4.	Город, в котором в 1408 г. состоялась тайная встреча Витовта и Ягайло, где было принято решение о начале войны с Тевтонским орденом			

XIV. Проанализируйте текст документа и ответьте на вопросы.

Максимальное количество баллов – 15.

Из указа императора Сенату ... Отныне впредь в губерниях Киевской, Подольской, Волынской, Минской, Виленской и Гродненской и в области Белостокской всякое действие статута или в дополнение к оному изданных сеймовых конституций и иных постановлений прекратить, заменив их общими российскими узаконениями и наблюдая, как в решении дел по существу оных, так и в образе и формах производства оных и разделении между присутственными местами тот самый порядок, который учрежден для прочих внутренних областей империи».

Вопрос	Ответ	Баллы
Назовите, кто и когда (год) издал указ		
О каком Статуте упоминается в документе		
Когда (назовите годы) на территории Беларуси было прекращено действие этого закона?		
Какое событие повлияло на принятие данного решения?		
Какие ещё меры были предприняты российским правительством после этого события?		
Какие цели преследовало российское правительство в данной ситуации?		

XV. Ниже представлен портрет и краткое описание политического деятеля. Узнайте, о ком идет речь, и ответьте на предложенные вопросы.

Максимальное количество баллов – 22.








Он происходил из старинного бранденбургского дворянского рода. Получив в двух университетах (Геттингена и Берлина) юридическое образование и прослушав курс агрономии, он вначале поступил на военную службу, а затем поселился в деревне и стал вести жизнь помещика, лично занимаясь хозяйством. Был депутатом прусского сейма, членом палаты депутатов, прусским посланником при германском союзном сейме, послом в России и во Франции. В 1862 г. он возглавил прусское правительство и стал «истинно прусскими» методами, «железом и кровью», решать назревшие проблемы. Ему принадлежит фраза «Политика есть искусство возможного».

Вопросы	Ответ	Баллы
Назовите исторического деятеля, представленного на иллюстрации		
Какой наивысший государственный пост он занимал и когда?		
Какое прозвище получил этот государственный деятель?		
Какой важный вопрос при участии названной выше личности был решен «железом и кровью»? Объясните, когда и как?		

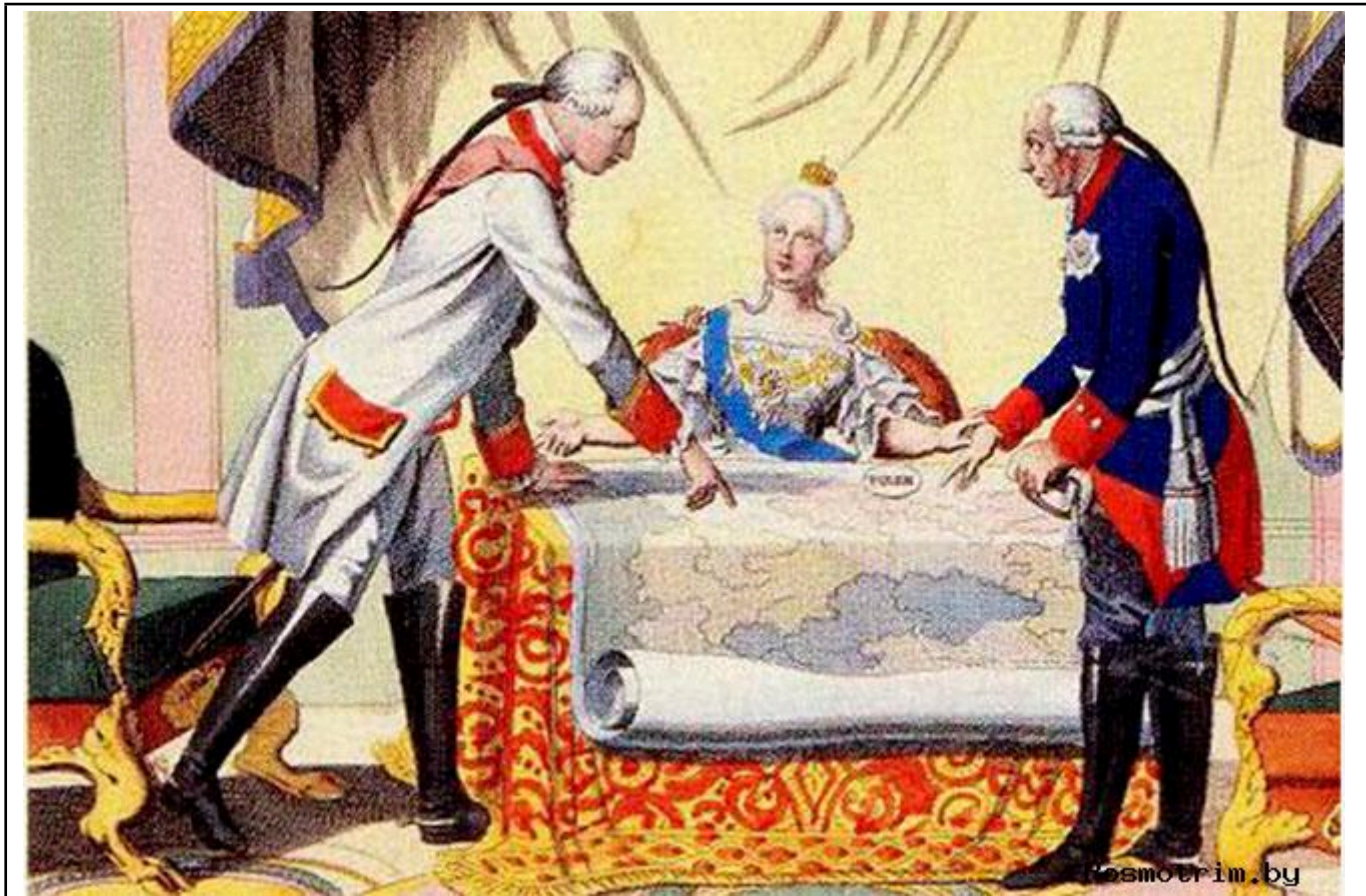
<p>Какой военно-политический союз был создан при его участии? Назовите дату создания и состав союза (государства). Против каких государств был направлен?</p>		
<p>Объясните, что такое «исключительный закон» против социалистов и «социальные законы». Когда они были приняты по инициативе, названной выше личности?</p>		

XVI. Заполните таблицу «Мыслители эпохи Возрождения».
Максимальное количество баллов – 20.

Деятели Возрождения, гуманисты					Баллы
					
Произведения					
Основные идеи					

--	--	--	--	--	--

**XVII. Рассмотрите иллюстрацию и ответьте на предложенные вопросы.
Максимальное количество баллов – 8.**



Вопрос	Ответа	Баллы
Какому событию в истории Беларуси посвящена иллюстрация?		
Кого символизируют изображенные фигуры (личности)?		
Кто еще мог (должен был) присутствовать на этом событии, защищая свои интересы?		
Какие последствия имело это событие в масштабах европейской истории?		

--	--	--