

Задание 1.1

В правление какого московского князя произошло событие, изображенного на монете? Используя изображение, приведите одно любое обоснование Вашего ответа.





Ваш ответ:

Задание 1.2.


Какой из представленных ниже памятников архитектуры был создан в период жизни московского князя, изображённого на монете? В ответе запишите цифру, которой обозначен этот памятник архитектуры. Укажите век постройки данного памятника архитектуры.

1.

2.



3.



4.



Ваш ответ:

Задание 2.1

В левой части марки изображена женщина в белых одеждах. Назовите ее имя. Используя изображение, приведите одно любое обоснование Вашего ответа.




Ваш ответ:

Задание 2.2.

Какой из представленных ниже памятников архитектуры был создан в том же веке, что и событие, изображенное на банкноте? В ответе запишите цифру, которой обозначен этот памятник архитектуры. Укажите век постройки данного памятника архитектуры.


1.	2.
----	----



3.



4.



Ваш ответ:

Задание 3.1

Какому событию посвящено литературное произведение, изображенное на марке? Используя изображение, приведите одно любое обоснование Вашего ответа.



Ваш ответ:

Задание 3.2.

Какой из представленных ниже памятников архитектуры был создан в том же веке, что и событие, изображенное на марке? В ответе запишите цифру, которой обозначен этот памятник архитектуры. Укажите век постройки данного памятника архитектуры.

1.




2.



3.



4.



Ваш ответ:

Задание 41

Юбилею какой битвы посвящена монета? Используя изображение, приведите одно любое обоснование Вашего ответа.



Ваш ответ:

Задание 42.

Какой из представленных ниже памятников архитектуры был создан в том же веке, что и событие, изображенное на монете? В ответе запишите

цифру, которой обозначен этот памятник архитектуры. Укажите век постройки данного памятника архитектуры.

1.



2.



3.



4.



Ваш ответ: