

المملكة العربية السعودية وزارة التعليم الإدارة العامة للتعليم بمنطقة .....	 وزارة التعليم Ministry of Education	التاريخ: المادة: العلوم الصف: الأول الابتدائي
اسم الطالب/ة ..... الفصل .....		

## تقويم ختامي لمهارات علوم الصف الأول – (الفصل الدراسي الثالث) عام 1446

السؤال الأول: نكتب ( الصيف \_ الشتاء \_ الربيع \_ الخريف ) تحت صورة كل فصل :

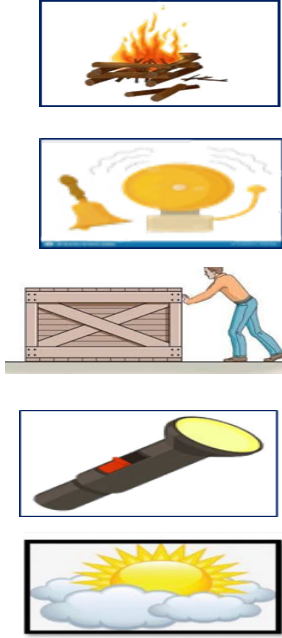









السؤال الثاني: نصل كل كلمة بالصورة المناسبة:



غائم

ضوء

حرارة

صوت

دفع

السؤال الثالث: نحدد موقع الأشياء ب ( تحت \_ يمين - فوق \_ خلف ) تحت كل صورة :

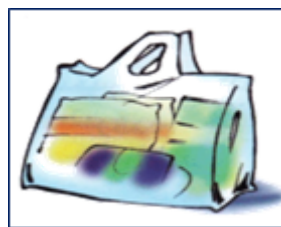







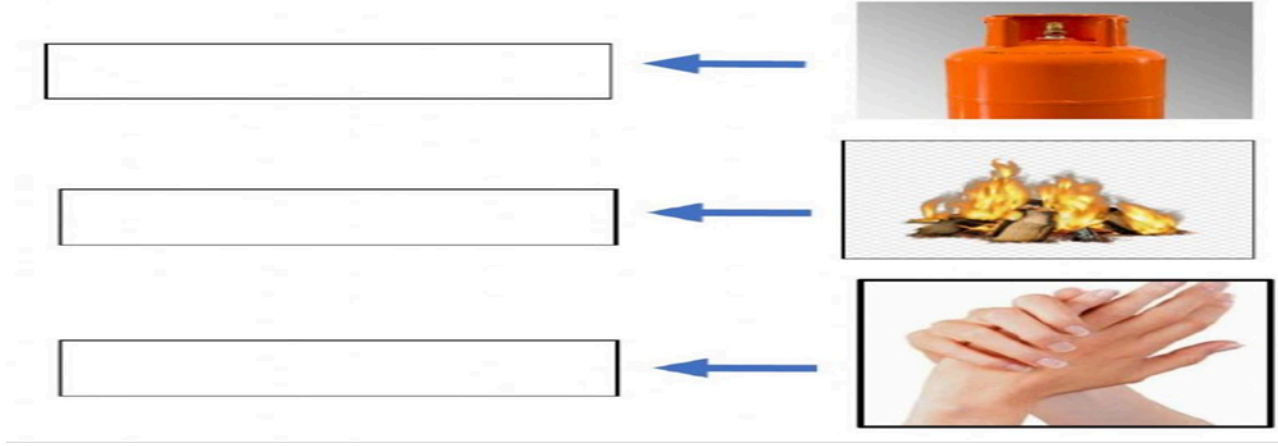



السؤال الرابع: \* نضع إشارة صح تحت الجسم الذي يسمح بمرور الضوء من خلاله :

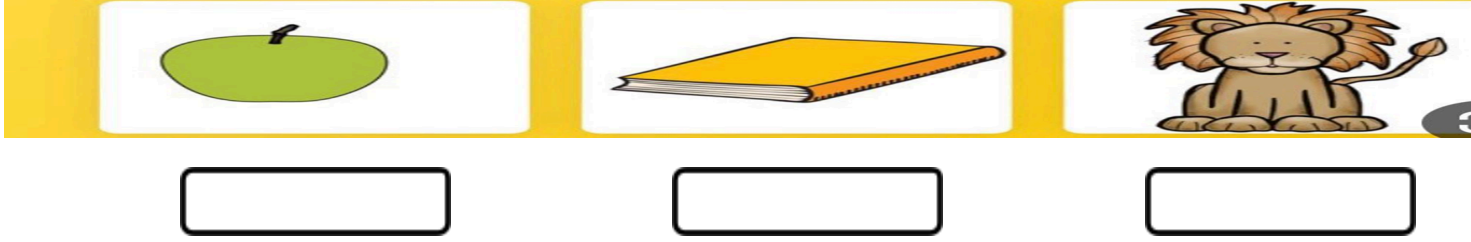


ب/ ايهما نلبس في فصل الشتاء ؟

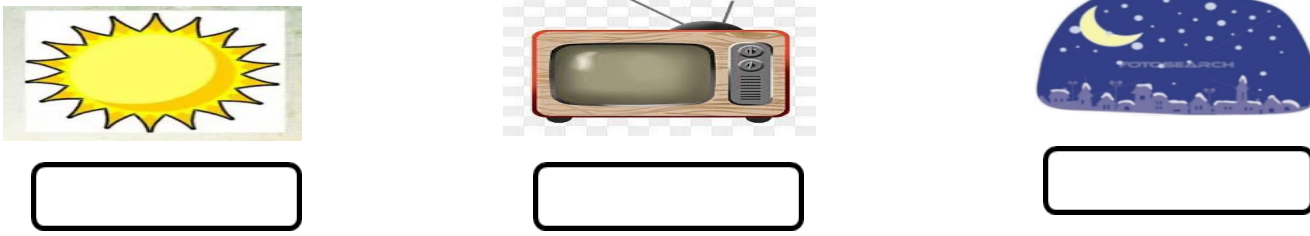
السؤال الخامس: نكتب مصادر الحرارة بجانب كل صورة ( الاحتكاك \* احتراق الخشب \* الغاز )



السؤال السادس: 1. أيهما يصدر صوت :



2 / ما مصادر الضوء الطبيعية على الأرض :



السؤال السابع: 1. نصف نوع الحركة في الصور التالية ( دورانية \* مستقيم \* متعرج ):



ب. نصل كل مفردة بمعناها

السرعة

مقدار البعد

بين جسمين



ياصغاري