

Тест за модельною програмою «Всесвітня історія. 7 – 9 класи»
(авт. Щупак І. Я., Посунько А. С., Бакка Т. В., Бурлака О. В., Власова Н. С., Желіба О. В.,
Махонін О. О., Мелешенко Т. В., Павловська-Кравчук В. А., Піскарьова І. О., Худобець О)

Пушкарська Інна Василівна,

вчителька історії та правознавства Смілянської спеціалізованої школи I-III ступенів №12
Смілянської міської ради Черкаської області;

8 клас

Всесвітня історія

Розділ I. Економіка і суспільство раннього Модерного (Нового) часу.

Варіант 1

У завданнях 1-5 оберіть одну правильну відповідь

1. Згадайте основне підприємство у період зародження капіталізму, що ґрунтується на ручній праці та її поділі.

- А цех
- Б майстерня
- В мануфактура
- Г фабрика

2. Укажіть цивілізацію доколумбової Америки, яку знищив іспанський конкістадор Франсіско Пісарро.

- А ацтеків
- Б інків
- В майя
- Г ольмеків

3. Продовжте твердження «Револуція цін» – це явище, пов'язане з / зі ...».

- А зростанням попиту на європейські товари
- Б знеціненням європейських грошей через надходження золота і срібла
- В падінням цін на східні прянощі
- Г зниженням цін на сільськогосподарську продукцію

4. Позначте назву єдиного уцілілого корабля, що повернувся з першої навколосвітньої подорожі Магеллана.

- А «Пінта»
- Б «Нінья»
- В «Вікторія»
- Г «Санта Марія»

5. Установіть історичну подію за уривком з «Історії Індій» Бартоломе де Лас Каса.

«Навіть якби покарання за вбивства індіанців були найсуворішими, навіть якби біля дверей кожного будинку іспанців повісили б мотузки й попередили, що за кожного індіанця, який загине від голоду або непосильної праці, їхнього господаря повісять, то навіть у таких умовах індіанці гинули б, а іспанці їх вбивали..., бо користь і бажання золота такі великі, що з ними не йдуть у порівняння ні голодний вовк, ні охоплений любов'ю юнак, ні навіть буйний божевільний...».

А великі географічні відкриття

Б селянська війна 1524 – 1525 рр.

В завоювання Нового Світу

Г відкриття морського шляху в Індію

6. Розв'яжіть хронологічну задачу

У 1492 році Христофор Колумб відкрив новий континент, здійснивши подорож через Атлантичний океан. **Обчисліть, скільки років минуло з моменту відкриття Америки до наших днів?**

(Відповідь запишіть тільки числом.)

7. Упізнайте історичний термін раннього Модерного часу за сенканом та зображенням.

Нова, впливова.

Інвестує, торгує, виробляє.

Верства власників капіталу.

Підприємці.



(Відповідь упишіть словом з малої літери в Н.в. одн.)

8. Упізнайте відому історичну особу за описом та портретом.

Португальський моряк із небагатих дворян. Дав назву океану – «Тихий». Організатор і керівник першої навколосвітньої подорожі, досяг Філіппінських островів. Відкрив протоку, яку згодом назвали його ім'ям. Загинув у сутичці з місцевими племенами.







(Відповідь запишіть з великої літери.)

9. Установіть відповідність між поняттям та його визначенням.

1	Конкіста	А	Територія, позбавлена самостійності, що перебуває під владою іншої держави.
2	Метрополія	Б	Країна, яка володіє колоніями та здійснює над ними політичний й економічний контроль.
3	Мануфактура	В	Процес завоювання європейцями земель Нового світу в XVI–XVII ст.
4	Колонія	Г	Велике підприємство, засноване на ручній праці та її розподілі між працівниками.

		Д	Процес переходу від традиційного до індустріального суспільства.
--	--	---	--

10. Установіть відповідність між історичними діячами та їх характеристикою.

1	Васко да Гама 	А	Здійснив першу в історії навколосвітню подорож.
2	Фернан Магеллан 	Б	Підкорив імперію ацтеків.
3	Ернан Кортес 	В	Відкрив морський шлях до Індії.
4	Роберт Кет 	Г	Очолив повстання в Англії.
		Д	Підкорив імперію інків.

11. Оберіть ТРИ правильні твердження, що вказують на передумови Великих географічних відкриттів:

А науково-технічний прогрес (компас, астролябія, каравела)

Б пошук нових торговельних шляхів до Індії

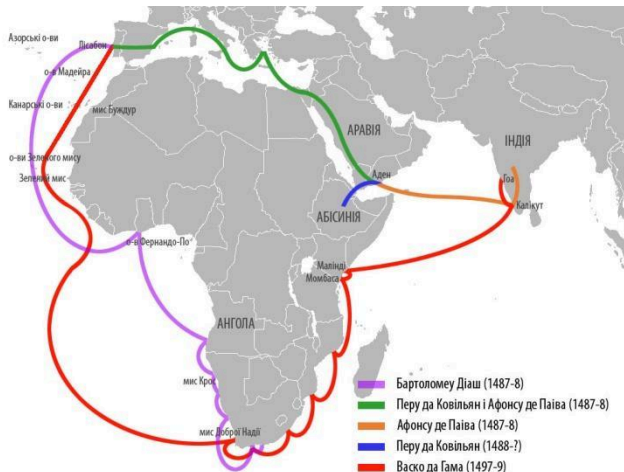
В відсутність інтересу до східних товарів

- Г успіхи в розвитку картографії та географії
- Д відмова від ідеї круглої форми Землі
- Е надзвичайне зростання обсягів торгівлі

12. Розташуйте події в хронологічній послідовності.

- А Тордесільяський договір
- Б відкриття морського шляху до Індії
- В перша навколосвітня подорож
- Г відкриття Америки

13. Опишіть маршрут подорожі Васко да Гама, використовуючи історичну карту.



13.1. З якого порту Європи відправився дослідник?

- А О. Мадейра
- Б Мадрид
- В Лісабон
- Г Антверпен

13.2. Розгадайте анаграму і дізнайтесь назву країни, куди прагнув дістатися Васко да Гама

Я	Д	І	Н	І
---	---	---	---	---

(Відповідь упишіть з великої літери в Н.в.)

14. Ви отримали заогоданого листа. Відтворіть його зміст, заповнивши пропуски: 1, 2, 3.

У XV-XVI ст. відбувалися значні зміни в економіці Європи. Виникли перші _____ 1, тобто великі господарства, орієнтовані на ринок. Капітал зосереджувався в руках купців і підприємців – _____ 2. А збіднілі селяни, робітники, колишні цехові майстри ставали новою вільною робочою силою – _____ 3.

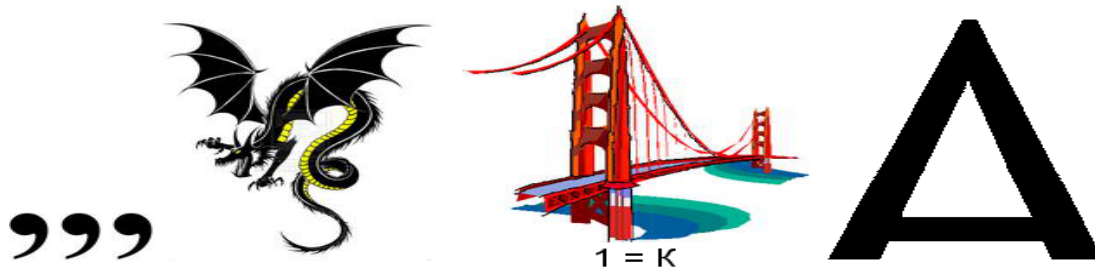
(Відповідь запишіть словами у відповідній граматичній формі через кому з пробілом.)

15. Прочитайте текст і виконайте завдання.

Знайомство європейців з розвиненими цивілізаціями інків, майя і ацтеків тільки посилило жагу до завоювання Нового світу. Невеликі загони іспанських конкістадорів (завойовників) вирушали в пошуках золота та влади на відкриті землі. Індіанці спочатку вважали бородатих і

білолицих європейців богами, які спустилися на землю. Та європейці без жалю підкорювали індіанців, використовуючи вогнепальну зброю.

15.1. Розгадайте ребус та впишіть назву епохи завоювання іспанцями й португальцями територій Центральної і Південної Америки наприкінці XV-XVI ст.



(Відповідь упишіть словом з малої літери в Н.в. одн.)

15.2. Хто очолив завоювання ацтекської імперії в 1519–1521 роках?

- А Ернан Кортес
- Б Франсіско Пісарро
- В Фернан Магеллан
- Г Бартоломеу Діаш

15.3. Розгадайте анаграму і дізнайтесь назву столиці держави ацтеків.

л	т	і	н	ч	о	т	т	а	е	н
---	---	---	---	---	---	---	---	---	---	---

(Відповідь упишіть словом з великої літери в Н.в. одн.)

15.4. Виберіть ТРИ правдиві твердження, які, на вашу думку, сприяли успіху конкістадорів.

1. Військова техніка
2. Поширення християнства
3. Підтримка місцевих союзників
4. Відсутність опору
5. Захворювання корінного населення
6. Економічна криза в Іспанії
7. Супутникові технології

Критерії оцінювання

№ п/п	Відповідь	Рівні	Бал	Усього
1	В	Початковий	0,5	30 балів. Отриманий бал потрібно помножити на 0,4
2	Б		0,5	
3	Б		0,5	
4	В		0,5	
5	В		0,5	
6	533		0,5	
7	буржуазія	Середній	1	

8	Магеллан		1	
9	1В, 2Б, 3Г, 4А		4	
10	1В, 2А, 3Б, 4Г	Достатній	4	
11	А, Б, Г		3	
12	Г, А, Б, В		4	
13	1. В 2. Індія		Високий	1
14	мануфактури, буржуазії, найманими робітниками	3		
15	1. конкіста 2. А 3. Теночтітлан 4. 1, 3, 5	6		

Варіант 2

1. Визначте подію, яка відбулася в 1492 році.

- А перша навколосвітня подорож
- Б відкриття Америки Христофором Колумбом
- В відкриття західного шляху в Індію
- Г завоювання Мексики й Перу

2. Укажіть мореплавця, який досяг берегів Америки, шукаючи морський шлях до Індії.

- А Америго Веспуччі
- Б Фернан Магеллан
- В Христофор Колумб
- Г Джон Кабот

3. Як називалася столиця імперії ацтеків, що була захоплена Ернаном Кортесом?

- А Куско
- Б Мачу-Пікчу
- В Теночтітлан
- Г Тікаль

4. Укажіть товари, які стали основними предметами торгівлі з колоніями.

- А золото, срібло, прянощі
- Б зброя, порох, тканини
- В зерно, м'ясо, овочі
- Г виробу ремісників, кераміка

5. Установіть за уривком зі скарги городян – учасників повстання комунерос у 1520 – 1521 рр., де саме відбулося це повстання.

«Фламандські радники короля обдирають нас, забирають наші багатства, а самі живуть у розкоші. Вони не знають наших звичаїв, не розуміють наших потреб. Король не бажає прислухатися до наших прохань, він править нами, як захоче, не рахуючись з нашими кортесами. Ми повинні захищати свої права!»

- А Німеччина
- Б Кастилія

В Англія
Г Швейцарія

6. Розв'яжіть хронологічну задачу

Фернан Магеллан розпочав свою навколосвітню подорож у 1519 році.

Обчисліть, в якому році буде 500-річчя з моменту початку його подорожі?

(Відповідь запишіть тільки числом.)

7. Упізнайте історичний термін раннього Модерного часу за сенканом та зображенням.

Хоробрий, жорстокий.

Завойовував, грабував, руйнував.

Шукав золото і славу.

Загарбник.



(Відповідь упишіть словом з малої літери в Н.в. одн.)

8. Упізнайте відому історичну особу за описом та портретом.

Найбільш відомий мореплавець, який відкрив новий материк. Організував своє плавання під іспанським прапором, проте народився в Італії, у місті Генуя, у родині чесальника вовни. Командуючи флотилією з трьох каравел, перетнув Атлантичний океан і відкрив острови Сан-Сальвадор, Кубу та Гаїті.







(Відповідь запишіть з великої літери.)

9. Установіть відповідність між поняттям та його визначенням.

1	Буржуазія	А	Складники суспільства, що включали метрополії та колонії; заснована на експлуатації колоній
2	Капітал	Б	Процес переходу від традиційного до сучасного суспільства
3	Модернізація	В	Соціальна верства власників мануфактур, банків та великих капіталів
4	Колоніальна імперія	Г	Кошти і ресурси, що вкладалися в розвиток виробництва
		Д	Процес знецінення грошей через надходження золота

10. Установіть відповідність між історичними діячами та їх характеристикою.

1	<p>Бартоломеу Діаш</p> 	А	Підкорив імперію ацтеків.
2	<p>Френсіс Дрейк</p> 	Б	Очолив повстання в Угорщині (1514 р.).
3	<p>Дердь Дожа</p> 	В	Здійснив першу навколосвітню подорож.
4	<p>Франсіско Пісарро</p> 	Г	Англійський мореплавець, вдруге обійшов земну кулю на кораблях.
		Д	Досяг південного краю Африки, який назвав мисом Бур (пізніше – Доброї Надії).

11. Оберіть ТРИ правильні твердження, що вказують на наслідки Великих географічних відкриттів.

А поява в Європі нових рослин, товарів, продуктів

Б збагачення власників майстерень і купців Європи

В занепад науки через релігійні війни

Г відмова від вивчення географії

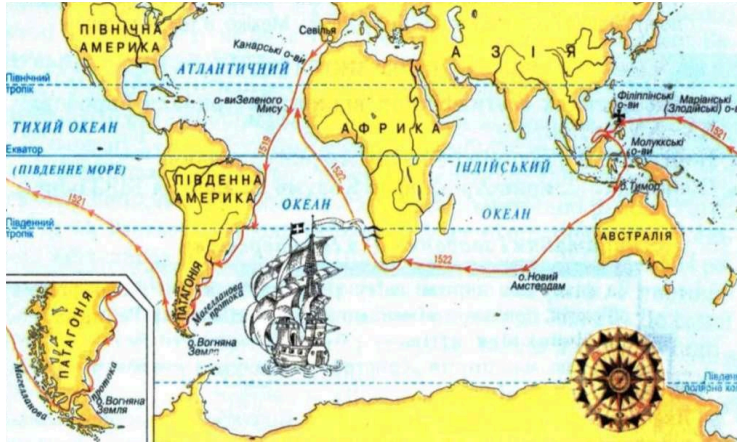
Д посилення впливу церкви на науку

Е переміщення торгових шляхів із Середземного моря в Атлантичний океан

12. Розташуйте події в хронологічній послідовності.

- А підписання між Іспанією та Португалією Сарагоської угоди
- Б подорож Френсіса Дрейка
- В знищення імперії інків
- Г подорож Бартоломеу Діаша

13. Опишіть маршрут подорожі Фернана Магеллана, використовуючи історичну карту.



13.1. Розгадайте анаграму і дізнайтесь назву океану, який перетнув Магеллан.

Й	И	Т	Х	И
---	---	---	---	---

(Відповідь упишіть з великої літери в Н.в.)

13.2. Яких островів досягли мореплавці у 1521р., де й загинув Магеллан у сутичці з місцевими племенами?

- А Сейшельські
- Б Канарські
- В Філіппінські
- Г О.Куба

14. Ви отримали закодованого листа. Відтворіть його зміст, заповнивши пропуски: 1, 2, 3.

У XVI ст. обіг товарів і грошей став інтенсивнішим. Як наслідок, з'явилася оптова _____ 1 великими партіями товару. Її центрами стали біржі. Першу торговельну біржу було засновано у місті _____ 2 у Голландії. Центр економічного життя європейців перемістився із Середземного моря в _____ 3 океан.

(Відповідь запишіть словами у відповідній граматичній формі через кому з пробілом.)

15. Прочитайте текст і виконайте завдання.

У Ранній Новий час економіка Європи зазнала значних змін, які були тісно пов'язані з Великими географічними відкриттями та розвитком торгівлі. До Європи почали надходити нові товари та величезна кількість дорогоцінних металів, що спричинило суттєві перетворення. Посилилася роль грошей, а старі феодальні відносини поступово замінювалися новими, капіталістичними.

15.1. Розгадайте ребус та впишіть назву нового типу виробництва, що виник у період Раннього Нового часу та об'єднував багато робітників під одним дахом для спільного виготовлення товарів вручну.



(Відповідь упишіть словом з малої літери в Н.в. одн.)

15.2. Продовжте твердження: «Надходження великої кількості золота та срібла з Нового Світу до Європи в Ранньому Новому часі призвело до...».

- А зниження цін на всі товари та послуги
- Б розквіту натурального господарства
- В явища, відомого як «революція цін»
- Г повного зникнення торгівлі

15.3. Розгадайте анаграму і дізнаєтесь, як називалися кошти і ресурси, що вкладалися в розвиток виробництва.

п	а	к	т	і	л	а
---	---	---	---	---	---	---

(Відповідь упишіть словом з малої літери в Н.в. одн.)

15.4. Уявіть, що ви є свідком економічних змін у Ранньому Новому часі. Виберіть ТРИ твердження, які характеризують ці зміни.

1. Збільшення обсягів міжнародної торгівлі.
2. Повне панування сільського господарства без розвитку промисловості.
3. Поява нових соціальних груп, таких як буржуазія.
4. Занепад банківської справи та фінансових операцій.
5. Зміщення основних торговельних шляхів із Середземномор'я до Атлантичного океану.
6. Зміцнення кріпосної залежності в Західній Європі.

Критерії оцінювання

№ п/п	Відповідь	Рівні	Бал	Усього
1	Б	Початковий	0,5	30 балів. Отриманий бал потрібно помножити на 0,4
2	В		0,5	
3	В		0,5	
4	А		0,5	
5	Б		0,5	
6	2019		0,5	
7	конкістадор	Середній	1	
8	Колумб		1	
9	1В, 2Г, 3Б, 4А		4	
10	1Д, 2Г, 3Б, 4А	Достатній	4	
11	А, Б, Е		3	
12	Г, А, В, Б		4	

13	1. Тихий 2. В	Високий	1	
14	торгівля, Антверпен, Атлантичний		3	
15	1. мануфактура 2. В 3. капітал 4. 1, 3, 5		6	

Використані джерела

1. Бартоломеу Діаш. URL:

<https://resources.cdn.miyklas.com.ua/ac304bdb-a534-43e5-8919-8ff1e717decc/%D0%91%D0%B0%D1%80%D1%82%D0%BE%D0%BB%D0%BE%D0%BC%D0%B5%D1%83%20%D0%94%D0%B8%D0%B0%D1%88.jpg>

2. Буржуазія. URL:

https://upload.wikimedia.org/wikipedia/commons/thumb/6/64/Massysm_Quentin_%E2%80%94_The_Moneylender_and_his_Wife_%E2%80%94_1514.jpg/1100px-Massysm_Quentin_%E2%80%94_The_Moneylender_and_his_Wife_%E2%80%94_1514.jpg

3. Васко да Гама. URL:

<https://pogoda.rovno.ua/sites/default/files/images/20142204233626.jpeg>

4. Дердь Дожа. URL:

https://upload.wikimedia.org/wikipedia/commons/thumb/c/c1/D%C3%B3zsa_Gy%C3%B6rgy.jpg/1200px-D%C3%B3zsa_Gy%C3%B6rgy.jpg

5. Ернан Кортес. URL:

https://static.wikia.nocookie.net/warriors/images/6/64/Hernncorts_opt.jpg/revision/latest/scale-to-width-down/250?cb=20140103183025&path-prefix=uk

6. Конкістадор. URL:

https://upload.wikimedia.org/wikipedia/commons/b/b6/ROHM_D201_The_conquistadors_enter_tenochtitlan_to_the_sounds_of_martial_music.jpg

7. Подорож Васко да Гами. URL:

https://www.jnsm.com.ua/ures/img/Vasco_DaGama_Trip.jpg

8. Подорож Магеллана. URL: <https://ukr6geo.narod.ru/kanbIZ0Q.jpg>

9. Роберт Кет. URL:

<https://www.wymondhamheritagemuseum.co.uk/Storage/htmluploads/RobertKett.jpg>

10. Фернан Магеллан. URL:

https://upload.wikimedia.org/wikipedia/commons/9/9c/Ferdinand_Magellan.jpg

11. Фернан Магеллан. URL:

https://upload.wikimedia.org/wikipedia/commons/thumb/3/35/Fern%C3%A3o_de_Magalh%C3%A3es_por_Charles_Legrand.jpg/250px-Fern%C3%A3o_de_Magalh%C3%A3es_por_Charles_Legrand.jpg

12. Франсіско Пісарро. URL:

https://encrypted-tbn0.gstatic.com/images?q=tbn:ANd9GcTNxTXNN4w4JHDHHjK4VGr2Mi02Fd7_ORAjkg&s

13. Френсіс Дрейк. URL:

<https://discover.in.ua/uploads/illustrations/%D0%A4%D1%80%D0%B5%D0%BD%D1%81%D1%96%D1%81-%D0%94%D1%80%D0%B5%D0%B9%D0%BA.jpg>

14. Христофор Колумб. URL:

https://uk.wikipedia.org/wiki/%D0%A5%D1%80%D0%B8%D1%81%D1%82%D0%BE%D1%84%D0%BE%D1%80_%D0%9A%D0%BE%D0%BB%D1%83%D0%BC%D0%B1