

## KELAS 2 TEMA 8

### Sub tema 1

Aturan Keselamatan di Rumah


**JAM**



dibaca pukul 3



dibaca pukul 6



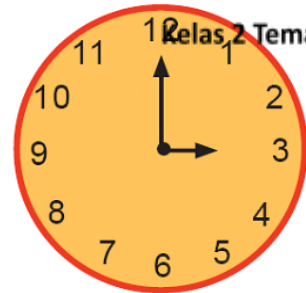
dibaca pukul 2



dibaca pukul 11

## Latihan

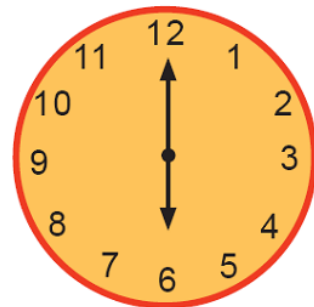
Kerjakan seperti contoh !



pukul 3



\_\_\_\_\_



\_\_\_\_\_



\_\_\_\_\_

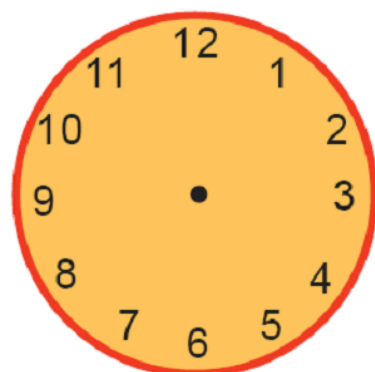


\_\_\_\_\_



\_\_\_\_\_

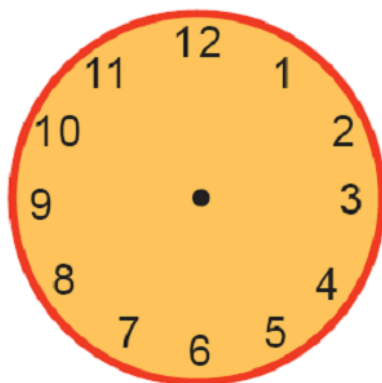
**Latihan**  
Gambarkan Jarum Jam yang sesuai  
dengan waktu yang ditunjukkan



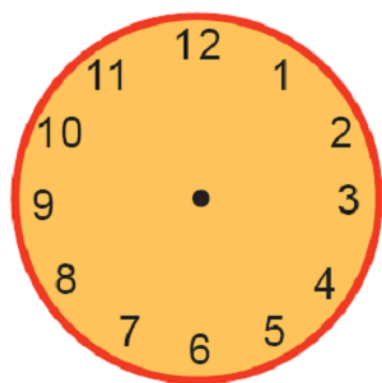
Pukul 2



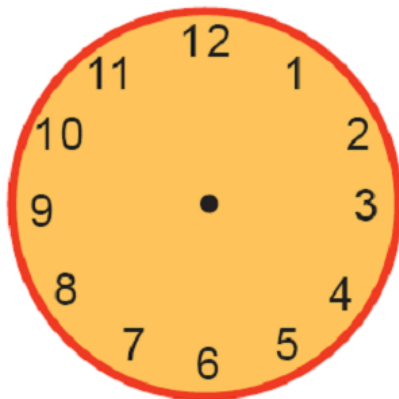
Pukul 4



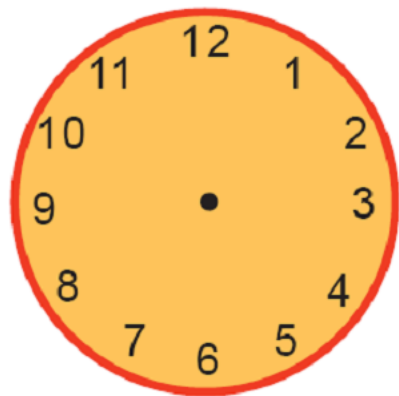
Pukul 5



Pukul 8



Pukul 10



Pukul 12

**Tulislah dengan memperhatikan penggunaan huruf kapital dan tanda titik!**

1. batu baterai jam dinding di ruang tamu sudah usang
2. ayah meminta bantuan udin untuk menggantinya
3. ayah dan udin sama-sama memperbaikinya
4. ayah berterima kasih kepada udin
5. ayah bersyukur kepada tuhan mempunyai anak yang patuh seperti udin

Tuliskan perbaikannya !

Kelas 2 Tema 8 K13 Rev 2017

.....

.....

.....

.....

.....

.....

.....

.....

.....

.....

Amati gambar berikut dengan teliti!  
Tulislah kalimat yang sesuai berdasarkan gambar!  
Perhatikan penggunaan tanda titik dengan benar!








.....  
 .....  
 .....  
 .....

## Pengukuran Waktu

### Membaca dan Menulis Waktu

Pagi




Pukul ...

Jarum pendek menunjuk angka 4.  
 Jarum panjang menunjuk angka 12.  
 Dibaca pukul empat.

**Ditulis pukul 04.00.**

Sore



Kelas 2 Tema 8 K13 Rev 2017

Jarum pendek menunjuk angka 4.  
 Jarum panjang menunjuk angka 12.  
 Dibaca pukul enam belas.

**Ditulis pukul 16.00**

## WAKTU (JAM ANALOG)

### Sistem 24 Jam

sore hari



Pukul 13



Pukul 14



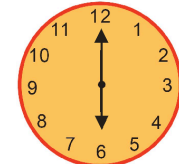
Pukul 15



Pukul 16

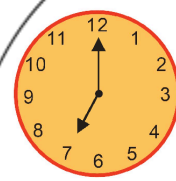


Pukul 17



Pukul 18


**malam hari**




Pukul 19




Pukul 20



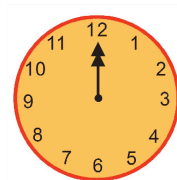
Pukul 21



Pukul 22

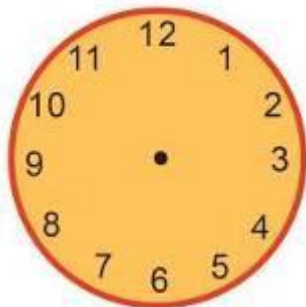


Pukul 23




Pukul 24

**Buatlah jarum jam pada gambar berikut sesuai dengan waktu yang ditunjukkan !**



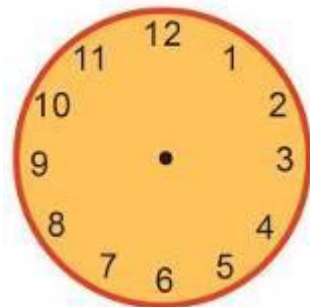
**pukul 2**



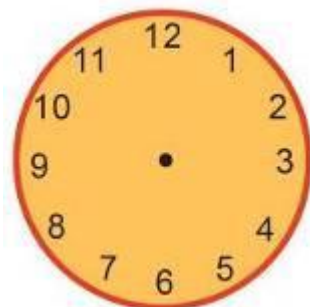
**pukul 4**



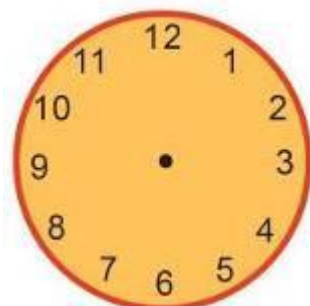
**pukul 8**



**pukul 16**




**pukul 13**

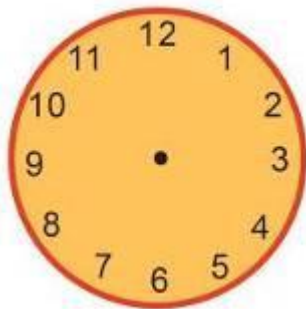


**pukul 20**


Kelas 2 Tema 8 K13 Rev 2017



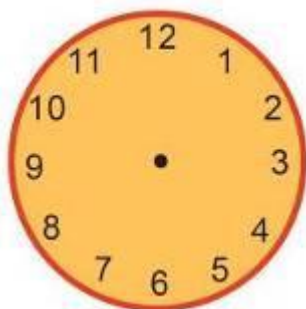
**pukul 12**



**pukul 24**



**pukul 1**

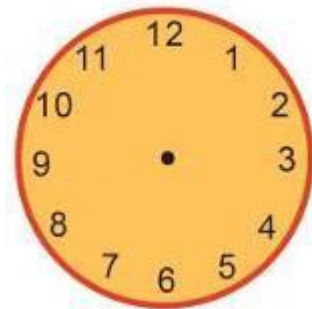


**pukul 22**

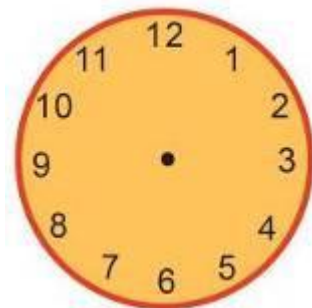


Kelas 2 Tema 8 K13 Rev 2017

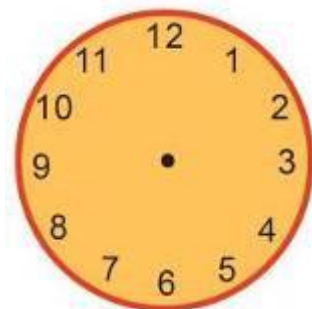
**pukul 16**



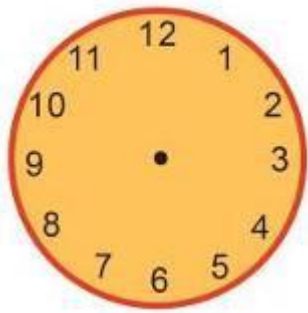
**pukul 14**



**pukul 5**



**pukul 7**



pukul 19

### Latihan

Isilah titik dengan benar!

- 1 . 3:00 + 10:00 = 13:00
- 2 . 4:00 + 11:00 = .....
- 3 . 6:00 + 11:00 = .....
- 4 . 9:00 + 10:00 = .....
- 5 . 11:00 + 8:00 = .....
- 6 . 12:00 + 5:00 = .....
- 7 . 12:00 + 4:00 = .....
- 8 . 11:00 + 4:00 = .....
- 9 . 9:00 + 5:00 = .....
- 10 . 6:00 + 7:00 = .....
- 11 . 4:00 + 10:00 = .....
- 12 . 3:00 + 12:00 = .....
- 13 . 3:00 + 13:00 = .....

$$14 . 4:00 + 13:00 = \dots\dots\dots$$

$$15 . 6:00 + 12:00 = \dots\dots\dots$$

Kelas 2 Tema 8 K13 Rev 2017

### Latihan

Isilah titik dengan benar!

- 1 . 2:00 + 9:00 = 11:00
- 2 . 3:00 + 10:00 = .....
- 3 . 5:00 + 10:00 = .....
- 4 . 8:00 + 9:00 = .....
- 5 . 10:00 + 7:00 = .....
- 6 . 11:00 + 4:00 = .....
- 7 . 11:00 + 3:00 = .....
- 8 . 10:00 + 3:00 = .....
- 9 . 8:00 + 4:00 = .....
- 10 . 5:00 + 6:00 = .....
- 11 . 3:00 + 9:00 = .....
- 12 . 2:00 + 11:00 = .....
- 13 . 2:00 + 12:00 = .....
- 14 . 3:00 + 12:00 = .....
- 15 . 5:00 + 11:00 = .....



Setiap gambar berikut menunjukkan pukul berapakah



1. pukul ...



2. pukul ...



3. pukul ...




4. pukul ...




5. pukul ...


Gambarlah letak kedua jarum jam untuk menunjukkan waktu yang ditentukan




6. pukul 9




7. pukul 11



8. pukul 3



9. pukul 6



10. pukul 10

11. made tidur siang pukul 3  
bangun pukul 5  
made tidur selama ..... jam
12. ayu pergi ke sekolah  
pelajaran dimulai pukul 7  
diakhiri pukul 10  
lamanya belajar ayu ..... jam
13. ibu merebus daging sejak pukul 8  
pagi  
pukul 9 pagi daging sudah masak  
berapa lama ibu merebus daging?
14. dalam satu minggu ada .....  
hari
15. nama bulan ketiga adalah .....
16. nama bulan ketujuh adalah  
.....


17. nama bulan keduabelas adalah  
.....
18. urutan nama hari dimulai hari  
minggu adalah .....
19. dalam satu tahun ada ... bulan
20. kegiatan menggosok gigi  
kegiatan mandi  
yang lebih lama adalah  
.....
21. jika rabu adalah hari ketiga  
maka sabtu adalah hari ke .....
22. jika kamis adalah hari pertama  
maka hari keempat adalah hari  
.....
23. besok lusa hari sabtu tanggal 12  
januari 2012  
sekarang adalah hari .....  
tanggal ..... januari 2012
24. setahun ada ..... bulan
25. bulan setelah april adalah bulan ...  
.....
26. ibu berangkat ke jakarta tanggal 11  
maret 2012  
ibu pulang dari jakarta tanggal 15  
maret 2012  
ibu berada di jakarta selama  
..... hari

27. tulislah nama hari dalam sepekan  
dimulai hari jumat .....  
**Kelas 2 Tema 8 K13 Rev 2017**  
.....
28. ari selesai bermain bola pukul 5  
ari bermain bola selama 3 jam  
ari mulai bermain bola pukul  
.....
29. satu minggu ada ... hari
30. dua hari sesudah hari senin adalah  
hari .....
31. tiga hari sebelum hari rabu adalah  
hari .....
32. setelah hari minggu adalah  
hari...
33. dua hari sesudah hari sabtu adalah  
hari ....

1. Jam yang penunjuk waktunya menggunakan angka adalah ...

a. jam pasir  
b. jam digital  
c. jam matahari

2. Pukul ....



a. 08.00  
b. 09.00  
c. 08.30

3. Jam menunjukkan pukul ...



a. 12  
b. 8  
c. 10

4. Aku pulang sekolah  
jarum jam panjang menunjukkan angka 12  
jarum pendek menunjuk angka 10  
aku pulang pukul ...


a. 12.00  
b. 12.10  
c. 10.00

5. Jarum pendek dan jarum panjang menunjukkan angka sama berarti jam menunjukkan pukul ...

a. 9  
b. 10  
c. 12

Kelas 2 Tema 8 K13 Rev 2017

32. Gambar jam di samping menunjukkan saat ibu berangkat bekerja ibu berangkat pukul ...



a. 4  
b. 6  
c. 8

33. Berat benda di samping adalah ...



a. 3 kg  
b. 3 kg 2 ons  
c. 3 kg 5 ons

34.  $4 \text{ gram} + 5 \text{ gram} = \dots \text{ gram}$

a. 9 gram  
b. 1 gram  
c. 11 gram

35. Sekarang pukul 3.00  
pukul berapa 3 jam yang akan datang ...

a. 6.00  
b. 1.00  
c. 9.00

36. Adit mulai belajar pada pukul 07.00  
selesai belajar pada pukul 09.00  
adit belajar selama ... jam

a. 1

- b. 2
- c. 3

37.  $400 \text{ gram} + 2 \text{ gram} + 50 \text{ gram} = \dots$   
gram
- a. 425
  - b. 452
  - c. 245

38. Jam menunjukkan pukul . . .



- a. 12.00
- b. 02.00
- c. 10.00

39. Hendi bermain selama 60 menit  
dia bermain selama . . . jam
- a. 10
  - b. 100
  - c. 1

42. Jam menunjukkan pukul . . .



- a. setengah tiga
- b. setengah empat
- c. setengah lima

43. Pada pukul 01.00, jarum panjang  
pada jam dinding menunjuk angka .  
...
- a. 12
  - b. 11
  - c. 10


44. Pada pukul 04.00, jarum pendek  
pada jam dinding menunjuk angka .

...

Kelas 2 Tema 8 K13 Rev 2017

- a. 12
- b. 6
- c. 4

45. Jam dinding menunjukkan pukul . . .



- a. 06.00
- b. 08.00
- c. 09.00

46. Pada pukul 08.30, jarum panjang  
pada jam dinding menunjuk angka .  
...
- a. 6
  - b. 8
  - c. 9

47. Jika jarum pendek pada jam  
dinding telah bergeser dari angka  
12 ke angka 4, maka waktu telah  
berlalu selama . . . . jam.

- a. 2
- b. 3
- c. 4

48. Dari pukul 12.30 sampai pukul  
03.30 lamanya. . . . jam.

- a. 2
- b. 3
- c. 4

49. Dua jam sebelum pukul 12.00  
adalah pukul . . . .

- a. 08.00

- b. 09.00
- c. 10.00

50. Jika satu jam yang lalu pukul 06.30, maka satu jam ke depan pukul . . . .
- a. 07.30
  - b. 08.30
  - c. 09.30

53. Lina mengikuti kursus menari mulai pukul 15.00 sampai 16.00. Berapa lama Lina menari?
- a. 1 jam
  - b. 2 jam
  - c. 4 jam

## KELAS 2 TEMA 8

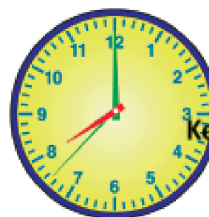
### Sub tema 2

#### Menjaga Keselamatan di Rumah

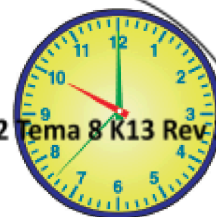
1 jam = 60 menit

Hitung pula berapa menit kegiatan itu berlangsung!

1.



Pagi



Pagi

Lama waktu kegiatan selama ... jam  
... jam = ... menit

2.



Siang



Siang

Kegiatan dimulai pukul 12.00.  
Kegiatan berakhir pukul 13.00.  
Lama waktu kegiatan selama ... jam.  
... jam = ... menit.

3.



Pagi




Pagi

Kegiatan dimulai pukul 06.00.  
Kegiatan berakhir pukul 09.00.  
Lama waktu kegiatan selama ... jam.  
... jam = ... menit.

4.



Pagi




Siang

Kegiatan dimulai pukul 07.00.  
Kegiatan berakhir pukul 12.00.  
Lama waktu kegiatan selama ... jam.

... jam = ... menit.

5.



Pagi



Siang

Kegiatan dimulai pukul 09.00.  
Kegiatan berakhir pukul 13.00.  
Lama waktu kegiatan selama ... jam.  
... jam = ... menit.

Buatlah kalimat yang sesuai dengan tanda waktu yang ditunjukkan oleh jam!  
Tuliskan di bawah ini!




Kelas 2 Tema 8 K13 Rev 2017


Udin belajar pukul 20.00



.....



.....




.....





.....



.....

Hitung pula berapa menit lama kegiatan itu berlangsung!

1.



Pagi

Kegiatan dimulai pukul 10.00.



Siang

Kegiatan berakhir pukul ...


Lama kegiatan selama 4 jam.  
4 jam = ... menit.

2.



Siang

Kegiatan dimulai pukul 12.00.



Siang

Kegiatan berakhir pukul ...

Lama kegiatan selama 2 jam.  
2 jam = ... menit.

3.



Pagi

Kegiatan dimulai pukul 07.00.

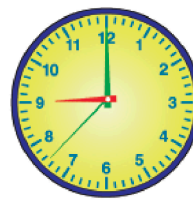


Siang

Kegiatan berakhir pukul ...


Lama kegiatan selama 2 jam.  
2 jam = ... menit.

4.



Pagi

Kegiatan dimulai pukul 09.00.



Siang

Kegiatan berakhir pukul ...

Lama kegiatan selama 6 jam.  
6 jam = ... menit.

5.



Pagi

Kegiatan dimulai pukul 07.00.



Siang

Kegiatan berakhir pukul ...

Lama kegiatan selama 5 jam.  
5 jam = ... menit.



Hitung pula berapa menit kegiatan itu berlangsung!

1.



Pagi

Mulai Latihan  
Pukul ...



Pagi


Selesai Latihan  
Pukul 10.00

Lama waktu kegiatan selama 2 jam.

1 jam = 60 menit.

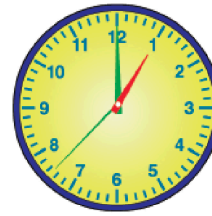
Jadi, lama waktu kegiatan = ... menit.

2.



Pagi

Mulai Latihan  
Pukul ...



Siang


Selesai Latihan  
Pukul 13.00

Lama waktu kegiatan selama 4 jam.

1 jam = 60 menit.

Jadi, lama waktu kegiatan = ... menit.

3.



Pagi

Mulai Latihan  
Pukul ...



Siang


Selesai Latihan  
Pukul 12.00

Lama waktu kegiatan selama 5 jam.

1 jam = 60 menit.

Jadi, lama waktu kegiatan = ... menit.

4.



Pagi

Mulai Latihan  
Pukul ...



Siang


Selesai Latihan  
Pukul 14.00

Lama waktu kegiatan selama 6 jam.

1 jam = 60 menit.

Jadi, lama waktu kegiatan = ... menit.

5.



Pagi

Mulai Latihan  
Pukul ...



Siang

Selesai Latihan  
Pukul 11.00


Lama waktu kegiatan selama 3 jam.

1 jam = 60 menit.


Jadi, lama waktu kegiatan = ... menit.

**Gambarlah tanda waktu pada jam sesuai dengan penjelasan soal berikut!**

1. Siti mulai bermain boneka pada pukul 16.00. Ia bermain selama 1 jam. Pukul berapakah ia selesai bermain?



Mulai bermain  
boneka.




Selesai bermain  
boneka.

2. Beni mulai membantu ibu pada pukul 14.00. Ia membantu ibu selama 60 menit. Pukul berapakah ia selesai membantu ibu?




Mulai membantu ibu.




Selesai membantu ibu.

3. Udin mulai bermain kasti pada pukul 15.00. Ia bermain selama 1 jam. Pukul berapakah ia selesai bermain?




Mulai bermain kasti.




Selesai bermain kasti.

4. Lani dan teman-teman mulai bermain petak umpet pada pukul 16.00. Mereka bermain selama 120 menit. Pukul berapakah mereka selesai bermain?




Mulai bermain petak umpet.



Selesai bermain petak umpet.

5. Beni mulai belajar 07.00. Ia belajar selama 4 jam. Pukul berapakah ia selesai belajar?



Mulai belajar.



Selesai belajar.

## KELAS 2 TEMA 8

### Sub tema 3

Aturan Keselamatan di Perjalanan  
Kelas 2 Tema 8 K13 Rev 2017

Bacalah teks berikut dengan lafal dan intonasi yang tepat!

### Aturan Keselamatan dalam Bus

Melakukan perjalanan dengan bus ada aturannya. Aturan dibuat ada gunanya. Dengan mematuhi aturan, kita akan selamat dalam perjalanan. Tidak hanya itu, kita juga akan dapat menikmati perjalanan dengan baik. Kita akan merasa aman dan nyaman dalam perjalanan.

Ada beberapa aturan yang harus kita patuhi ketika melakukan perjalanan dengan bus, antara lain naik ke dalam bus dengan tertib, duduk di kursi masing-masing dengan baik, tidak mengeluarkan anggota badan melalui jendela, dan berdoa kepada Tuhan sebelum berangkat.

Setiap melakukan perjalanan dengan bus, kita harus mematuhi aturan tersebut dengan baik.

Apa isi teks di atas?

.....  
.....  
.....

Apa saja aturan ketika melakukan perjalanan dengan bus?

.....  
.....  
.....

Amatilah gambar kalender berikut dengan teliti!

JANUARI						
Minggu	Senin	Selasa	Rabu	Kamis	Jumat	Sabtu
1	2	3	4	5	6	7
8	9	10	11	12	13	14
15	16	17	18	19	20	21
22	23	24	25	26	27	28
29	30	31	1	2	3	4

1 Januari 2017 : Tahun Baru 2017  
28 Januari 2017 : Tahun Baru Imlek 2568 Kongli

Tahukah kamu berapa hari dalam 1 minggu?

1 minggu = 7 hari

Aku tahu nama-nama hari, yaitu: **Senin, Selasa, Rabu, Kamis, Jumat, Sabtu, dan Minggu.**

Kerjakanlah latihan berikut dengan teliti!

- Udin dan keluarga berlibur ke rumah nenek selama 4 minggu. Berapa harikah Udin dan keluarga berlibur ke rumah nenek?

Jawab:

.....  
.....

- Udin dan teman-teman berlibur ke luar kota selama 2 minggu. Berapa harikah Udin dan teman-teman berlibur ke luar kota?

Jawab:

.....  
Kelas 2 Tema 8 K13 Rev 2017

- Udin dan teman-teman akan mengikuti lomba menyanyi. Mereka mengadakan latihan selama 5 minggu. Berapa harikah Udin dan teman-teman mengadakan latihan menyanyi?

Jawab:

.....  
.....

- Udin dan teman-teman akan mengikuti lomba menari. Mereka mengadakan latihan menari selama 3 minggu. Berapa harikah Udin dan teman-teman berlatih menari?

Jawab:

.....  
.....

- Sekolah Udin akan mengikuti lomba Adiwiyata.

Mereka melakukan persiapan menjelang lomba selama 6 Minggu. Berapa harikah sekolah Udin melakukan persiapan menjelang lomba?

Jawab:

.....  
.....

### Aturan Naik Sepeda

Hari Senin sore, Udin diminta ibu membeli jagung bakar. Jagung bakar

dijual di perempatan tidak jauh dari rumah. Ibu berpesan agar Udin membeli jagung bakar Pak M. Bayu. Pak M. Bayu merupakan tetangga Udin. Jagung bakar Pak M.

Bayu lebih enak di antara jagung bakar yang lain.

Udin menuju perempatan dengan menggunakan sepeda. Udin mematuhi aturan naik sepeda.

Udin naik sepeda dengan hati-hati. Ia selalu memperhatikan suasana dan benda-benda di sekitar dengan baik. Udin juga memakai alas kaki ketika mengayuh pedal sepeda. Udin selalu mengendarai sepedanya di sisi kiri jalan dan tidak lupa memperhatikan rambu-rambu lalu lintas. Udin menyadari arti pentingnya keselamatan.

Apa isi teks di atas?

.....  
 .....  
 .....

Apa kesimpulanmu terhadap isi teks di atas?

.....  
 .....  
 .....

Apa yang akan terjadi jika Udin tidak mematuhi aturan?

.....  
 .....  
 .....

Kerjakanlah soal-soal berikut dengan benar!

1. Beni dan keluarga berlibur ke Danau Toba selama 14 hari. Berapa minggukah Beni dan keluarga berlibur?

Jawab:

.....  
 .....

2. Ibu guru memberi tugas pengamatan selama 28 hari. Berapa minggukah tugas pengamatan yang diberikan ibu guru?

Jawab:

.....  
 .....

3. Udin dan teman-teman mengikuti lomba menyanyi setelah latihan selama 21 hari. Berapa minggukah Udin dan teman-teman latihan menyanyi?

Jawab:

.....  
 .....

4. Lani menjadi juara pada lomba menari setelah mengikuti latihan selama 42 hari. Berapa minggukah Lani mengikuti latihan menari?

Jawab:

.....  
 .....

5. Edo kembali bertemu dengan nenek 35 hari setelah liburan. Berapa minggukah lama Edo tidak bertemu dengan nenek?

Jawab:

.....  
.....

### Aturan Mengendarai Sepeda Motor

Udin dan ayah menghadiri pesta. Lokasi pesta berjauhan dengan rumah. Rumah Udin berada di jalan W. Jhon. Sedangkan lokasi pesta, berada di jalan M. Nasir. Oleh sebab itu, untuk menuju lokasi pesta harus menggunakan kendaraan.

Udin dan ayah mengendarai sepeda motor menuju lokasi pesta. Mengendarai sepeda motor ada aturannya. Beberapa aturan ketika mengendarai sepeda motor sebagai berikut.

1. Mematuhi segala peraturan lalu lintas.
2. Selalu tertib di jalan.
3. Menjaga kendaraan dalam kondisi baik.
4. Menggunakan pakaian yang pas dan baik serta menggunakan sepatu dan helm.
5. Memastikan bahwa pengait helm terpasang dengan baik.
6. Menyalakan lampu utama sepeda motor.
7. Memastikan lampu penunjuk arah berfungsi dengan baik.
8. Mengecek kaca spion apakah terpasang dengan benar.

Udin dan ayah telah memahami aturan ketika mengendarai sepeda motor. Mereka mengendarai sepeda motor sesuai dengan aturan. Dengan demikian, Udin dan ayah selamat dalam perjalanan.

Apa isi teks di atas?

.....  
.....  
.....

Apa kesimpulanmu terhadap isi teks?

.....  
.....  
.....

Apa yang akan terjadi jika kita tidak mematuhi aturan lalu lintas?

.....  
.....  
.....

Temukanlah kesalahan penggunaan tanda titik pada kalimat-kalimat berikut!

1. Udin dan ayah melewati jalan A Hakim menuju lokasi pesta
2. Lokasi pesta tepat berada di sebelah barat jalan M Nasir
3. Jarak antara jalan W Jhon dan jalan M Nasir cukup jauh

- Rumah Udin tepat berada di sebelah timur jalan W Jhon
- Ayah dan Udin melintas di sebelah kiri jalan A Hakim

JANUARI						
Minggu	Senin	Selasa	Rabu	Kamis	Jumat	Sabtu
1	2	3	4	5	6	7
8	9	10	11	12	13	14
15	16	17	18	19	20	21
22	23	24	25	26	27	28
29	30	31	1	2	3	4

1 Januari 2017 : Tahun Baru 2017  
28 Januari 2017 : Tahun Baru Imlek 2568 Kongzili

Sekarang hari  
Kamis tanggal  
26 Januari 2017

Dua minggu  
yang lalu hari  
Kamis tanggal  
12 Januari 2017

### Kerjakan latihan berikut dengan teliti!

Perhatikan gambar kalender di atas ketika mengerjakan latihan!

- Beni berkunjung ke rumah paman 2 minggu yang lalu. Sekarang hari Minggu tanggal 29 Januari 2017. Hari dan tanggal berapakah Beni berkunjung ke rumah paman?

Jawab:

.....  
.....

- Lani berbelanja ke pasar dengan ibu 3 minggu yang lalu. Sekarang hari Rabu tanggal 25 Januari 2017. Hari dan tanggal berapakah Lani berbelanja ke pasar dengan ibu?

Jawab:

.....  
.....

- Ayah membeli sepeda 1 minggu yang lalu. Sekarang hari Jumat tanggal 13 Januari 2017.

Hari dan tanggal berapakah ayah membeli sepeda?

Jawab:

Kelas 2 Tema 8 K13 Rev 2017

.....  
.....

- Edo membeli buku komik 4 minggu yang lalu. Sekarang hari Senin tanggal 30 Januari 2017.

Hari dan tanggal berapakah Edo membeli buku?

Jawab:

.....  
.....

- Meli mendapat hadiah dari ayah 2 minggu yang lalu. Sekarang hari Rabu tanggal 18 Januari 2017.


Hari dan tanggal berapakah Meli mendapat hadiah dari ayah?

Jawab:

.....  
.....

Kerjakan latihan mengikuti petunjuk berikut!

- Amatilah gambar berikut ini secara teliti!
- Tentukanlah gambar yang menunjukkan kegiatan kerja bakti dalam keberagaman!
- Berikan tanda centang (v) pada gambar yang sesuai!



...



...



...



...



...



...

Amati juga gambar kalender berikut dengan teliti!

JANUARI						
Minggu	Senin	Selasa	Rabu	Kamis	Jumat	Sabtu
1	2	3	4	5	6	7
8	9	10	11	12	13	14
15	16	17	18	19	20	21
22	23	24	25	26	27	28
29	30	31	1	2	3	4

1 Januari 2017 : Tahun Baru 2017  
28 Januari 2017 : Tahun Baru Imlek 2568 Kongzili

Banjir melanda pemukiman warga mulai hari Senin tanggal 2 Januari 2017. Banjir melanda selama 1 minggu. Jadi, banjir berakhir hari Senin tanggal 9 Januari 2017.

Kerjakan latihan berikut dengan teliti!  
Perhatikan gambar kalender sebelumnya ketika mengerjakan latihan!

1. Warga korban banjir mulai mengungsi hari Selasa tanggal 3 Januari 2017. Warga mengungsi selama 2 minggu. Hari dan tanggal berapakah warga kembali ke rumah masing-masing?

Jawab:

.....  
.....

2. Bantuan untuk korban banjir mulai berdatangan hari Rabu tanggal 4 Januari 2017. Bantuan terus berdatangan selama 3 minggu. Hari

dan tanggal berapakah bantuan berakhir datang?

Jawab:

Kelas 2 Tema 8 K13 Rev 2017

.....  
.....

3. Warga mulai membersihkan pemukiman hari Sabtu tanggal 7 Januari 2017. Pemukiman benar-benar bersih setelah dibersihkan selama 2 minggu. Hari dan tanggal berapakah pemukiman warga benar-benar bersih?

Jawab:

.....  
.....

4. Relawan mulai berdatangan hari Selasa tanggal 3 Januari 2016. Relawan membantu selama 3 minggu. Hari dan tanggal berapakah relawan pulang ke tempat masing-masing?

Jawab:

.....  
.....

5. Ada beberapa korban banjir yang dirawat di rumah sakit. Mereka mulai dirawat pada hari Kamis tanggal 5 Januari 2017. Mereka dirawat selama 1 minggu. Hari dan tanggal



berapakah mereka keluar dari rumah sakit?

Jawab:

.....  
.....

## **KELAS 2 TEMA 8**

### **Sub tema 4**

#### **Aturan Keselamatan di Perjalanan**

#### **Kisah Kera dan Ayam**

Suatu hari, Kera dan Ayam berencana untuk berjalan-jalan ke hutan. Mereka berdua mendapatkan informasi kalau di hutan itu terdapat banyak pohon buah-buahan yang lezat. Mereka berdua memulai perjalanan sejak pagi, tapi tidak sebatang pohon buah pun yang mereka temui.

Yang ada hanyalah pohon-pohon yang tinggi dan berdaun lebat. "Mungkin kita harus berjalan lebih jauh lagi," kata Kera. Ayam hanya mengangguk setuju.

Semakin lama, suasana hutan semakin gelap. Sinar matahari tidak mampu menembus rimbunnya pepohonan. Ayam mulai ketakutan, "Kera, kita tersesat? Bagaimana kalau kita pulang saja?", katanya. Kera juga kebingungan, "Mana jalan keluarnya? Mungkin ke arah sana", sahut si Kera.

Mereka sibuk mencari jalan keluar, tapi semakin lama mereka berjalan semakin jauh mereka masuk ke dalam hutan.

Kera meminta maaf kepada Ayam. Kera merasa bersalah karena telah mengajak Ayam berjalan-jalan ke hutan. Padahal ia tidak tahu jalan keluar dari hutan. Ayam pun memaafkan Kera. Akhirnya, Ayam dan Kera bertemu dengan kepiting.

Kepitinglah yang menunjukkan mereka jalan keluar dari hutan. Ayam dan Kera pun selamat sampai ke rumah masing-masing.

*Sumber: [www.dongengceritarakyat.com](http://www.dongengceritarakyat.com)*

Apa isi cerita dongeng "Kisah Kera dan Ayam" di atas?

.....

.....  
 .....  
 Mengapa kera dan ayam bisa tersesat?

.....  
 .....  
 .....  
 Apa yang harus kita lakukan agar tidak tersesat ketika melakukan perjalanan?

.....  
 .....  
 .....  
 1 minggu = 7 hari  
 1 bulan = 30 hari  
 1 bulan = 4 minggu

Kerjakan soal-soal latihan berikut dengan benar!

1. Udin telah menabung selama 3 bulan. Berapa harikah Udin telah menabung?

Jawab:

.....  
 .....

2. Ayah pergi ke luar kota selama 2 bulan. Berapa harikah ayah pergi ke luar kota?

Jawab:

.....  
 .....

3. Umur adik Beni telah 4 bulan. Berapa harikah umur adik Beni?

Jawab:

- .....  
 .....  
 4. Jarak umur Udin dan Lani 5 bulan. Berapa harikah jarak umur Udin dan Lani?

Jawab:

.....  
 .....

5. Udin berlibur ke rumah paman selama 1 bulan.

Berapa harikah lama Udin berlibur ke rumah paman?

Jawab:

.....  
 .....

### Pemuda Bersuling Ajaib

Dahulu kala, terdapat sebuah kota yang terletak di kaki Bukit Malaga. Kota itu bernama kota Hamelin. Penduduk yang tinggal di kota Hamelin hidup dengan aman dan damai. Sayangnya, kesadaran mereka terhadap kebersihan lingkungan sangat memprihatinkan.

Mereka suka membuang sampah di sembarang tempat. Hingga akhirnya

sampah-sampah itu menjadi sarang tikus. Seiring berjalannya waktu, jumlah tikus terus bertambah. Kota pun dipenuhi oleh kawanan tikus. Semua jalan dipenuhi para tikus. Banyak warga yang kecelakaan hingga akhirnya meninggal karenanya.

Musibah yang menimpa kota Hamelin rupanya telah tersebar luas hingga ke kota-kota lain. Dari salah satu kota tersebut, ada seorang pemuda yang datang ke kota Hamelin. Pemuda itu bernama Satria. Ia menawarkan diri untuk mengusir semua tikus yang berkeliaran. Sebagai imbalannya, sang pemuda meminta upah dua keping emas kepada setiap orang yang ada di Hamelin. Warga Hamelin setuju dan sepakat untuk membayar.

Pemuda itu mengeluarkan sebuah seruling dan mulai meniupnya. Suara yang keluar dari seruling itu sangat merdu. Suaranya membuat siapa saja yang mendengarnya terlena. Para tikus yang mendengarnya seakan terhipnotis. Para tikus mulai keluar dari persembunyian. Mereka berkumpul di sekeliling pemuda. Pemuda itu lalu berjalan menuju sebuah sungai. Setelah sampai, sang pemuda langsung menceburkan diri ke tengah sungai. Hal itu diikuti pula oleh para tikus.

Ternyata para tikus tersebut tidak dapat berenang. Akhirnya semua tikus hanyut dan tenggelam. Sejak saat itu, penduduk kota Hamelin memperhatikan kebersihan lingkungan. Mereka tidak mau kejadian sebelumnya terulang kembali.

Sumber: [www.penulisdongeng.co.id](http://www.penulisdongeng.co.id)  
(Dengan pengubahan seperlunya)

Apa isi teks cerita di atas?

..... Kelas 2 Tema 8 K13 Rev 2017

Apa kesimpulanmu terhadap isi teks cerita yang kamu baca?

.....  
.....  
.....

Jadwal Keberangkatan	
Hari	Pukul
Senin	06.00
Selasa	06.00
Rabu	06.00
Kamis	06.00
Jumat	06.00
Sabtu	06.00
Minggu	06.00

### Cara Menjaga Keselamatan di Kereta Api

Kita harus memperhatikan keselamatan di kereta api.

Menjaga keselamatan di kereta api ada caranya. Beberapa cara menjaga keselamatan di kereta api sebagai berikut.

1. Pastikan kereta sesuai dengan yang tertera di tiket.
2. Perhatikan jadwal keberangkatan dengan teliti agar tidak ketinggalan kereta!

3. Apabila kereta api akan datang dijaturnya, tunggu sampai kereta api berhenti dengan sempurna!
4. Gunakan sepatu yang nyaman sehingga memudahkan dalam bergerak.
5. Jagalah barang bawaan dengan baik!
6. Jangan malu bertanya kepada petugas kereta api jika ada yang kurang jelas.

Apa isi teks di atas?

.....  
 .....  
 .....

Apa kesimpulanmu terhadap isi teks di atas?

.....  
 .....  
 .....

**Jawablah soal-soal berikut dengan benar!**

1. Kereta api tujuan Jakarta-Bandung melakukan perbaikan selama 60 hari. Berapa bulankah lama kereta api tujuan Jakarta-Bandung melakukan perbaikan?

Jawab:

.....  
 .....

2. Uji coba kenaikan harga tiket kereta api dilakukan selama 90 hari. Berapa bulankah uji coba kenaikan harga tiket itu dilakukan?

Jawab:

.....  
 ..... **Kelas 2 Tema 8 K13 Rev 2017** .....

3. Rel kereta api dilakukan perbaikan selama 30 hari. Berapa bulankah perbaikan rel kereta api dilakukan?

Jawab:

.....  
 .....

4. Kereta api yang baru dibeli tiba setelah dipesan selama 120 hari. Berapa bulankah lamanya pemesanan kereta api yang baru?

Jawab:

.....  
 .....

5. Penumpang kereta api melonjak setelah 150 hari beroperasi. Berapa bulankah lama kereta api beroperasi baru kemudian mengalami lonjakan penumpang?

Jawab:

.....  
 .....

Amati daftar jumlah pengunjung berikut dengan teliti!

Bulan	Banyak Pengunjung
Januari	1.500 orang
Februari	1.600 orang
Maret	1.550 orang
April	1.350 orang
Mei	1.700 orang
Juni	1.800 orang
Juli	1.600 orang
Agustus	1.650 orang
September	1.500 orang
Oktober	1.850 orang
November	2.000 orang
Desember	2.100 orang
<b>Total</b>	<b>20.200 orang</b>

Berdasarkan tabel, berapakah banyaknya pengunjung?

.....  
 .....  
 .....

Lengkapilah teks yang rumpang berikut berdasarkan tabel jumlah pengunjung sebelumnya!

Perhatikan aturan penggunaan tanda titik yang benar!

1. Jumlah pengunjung museum bulan Februari ada ... orang.

.....

2. Jumlah pengunjung museum bulan April ada ... orang.

.....

3. Jumlah pengunjung museum bulan Agustus ada ... orang.

Kelas 2 Tema 8 K13 Rev 2017

.....

4. Jumlah pengunjung museum bulan September ada ... orang.

.....

5. Jumlah pengunjung museum bulan Desember ada ... orang.

.....

### Ayo Berlatih

1. Sekarang bulan Maret. Dua bulan yang lalu adalah bulan kelahiran Udin. Bulan apakah Udin lahir?

Jawab:

.....

2. Sekarang bulan Desember. Tiga bulan yang lalu adalah bulan kelahiran kakak. Bulan apakah kakak lahir?

Jawab:

.....

3. Sekarang bulan November. Satu bulan yang lalu adalah bulan kelahiran adik. Bulan apakah adik lahir?

Jawab:

.....

4. Sekarang bulan Agustus. Lima bulan yang lalu adalah bulan kelahiran ayah. Bulan apakah ayah lahir?


Jawab:

.....

5. Sekarang bulan Juni. Empat bulan yang lalu adalah bulan kelahiran ibu. Bulan apakah ibu lahir?  
Jawab:


.....

Berilah tanda centang (v) pada gambar yang menunjukkan sikap menjaga kebersihan lingkungan!




Berilah tanda centang (v) pada gambar yang mencerminkan hidup bersatu dalam keragaman!


Bagaimana menurut pendapatmu perbedaan gambar tersebut?



2.



3.



Susunlah kata-kata berikut menjadi kalimat tanya yang utuh!

1 banjir apa penyebab ?

2 mengapa perlu terjadi kita  
banjir jika mengungsi ?

3 bagaimana menanggulangi banjir  
cara ?

4 siapa membantu yang banjir  
korban ?

5 kapan harus mengungsi kita ?

Jawablah soal-soal berikut dengan benar!

1. Para warga mengungsi selama 8 minggu. Berapa hari para warga mengungsi? Berapa bulan pula warga mengungsi?  
Jawab:

2. Tanggap darurat bencana ditetapkan selama 16 minggu. Berapa hari

ditetapkan tanggap darurat  
bencana? Berapa bulan pula  
ditetapkan tanggap darurat  
bencana? Kelas 2 Tema 8 K13 Rev 2017

Jawab:

3. Masyarakat menyalurkan bantuan selama 3 bulan. Berapa minggu masyarakat menyalurkan bantuan?  
Jawab:

4. Pemukiman warga baru benar-benar bersih setelah 6 bulan. Berapa minggu lama warga membersihkan pemukiman? Berapa hari pula lama warga membersihkan pemukiman?  
Jawab:

5. Posko bantuan dibuka selama 150 hari. Berapa bulan posko bantuan dibuka?  
Jawab:

