

Soal UTS Tematik Kelas 1 SD Semester 1 Tema Diriku

I. Pilihlah a, b, atau c dengan memberi tanda silang pada jawaban yang paling benar !


1. Yang pertama kali ditanyakan ketika bertemu dengan teman baru adalah . . .

- a. kamu suka makan apa
- b. warna kesukaanmu apa
- c. nama mu siapa

2. ketika menanyakan nama teman harus ...

- a. sopan
- b. terburu buru
- c. teriak teriak

3. Dibawah ini yang jumlah bendanya ada 7 adalah ...




- A. pensil
- b. anak sekolah
- c. kursi

4. Saat berjalan badan harus . . .

- a. bungkuk
- b. tegak
- c. miring

5. penggarisnya ada ... buah



- a. 7
- b. 8
- c. 9

6. huruf huruf dibawah ini jika disusun menjadi . . .



- a. isti
- b. tiis
- c. siti

7. Lagu " dua mata saya " ciptaan ...

- a. bu joko
- b. ibu sud
- c. pak kasur

8. Kegiatan yang mnnggunakan mata adalah ...


- a. sepak bola
- b. membaca
- c. makan

9. posisi duduk yang benar pada saat membaca adalah pada nomor . . .



- a. 1
- b. 2
- c. 3

10. bagian tubuh yang tidak boleh disentuh orang lain adalah nomor . . .



- a. 1
- b. 2
- c. 3

11. e-l-t-i-n-a-g

jika disusun menjadi nama salah satu dari anggota tubuh kita ...

- a. eltinga
- b. telinga
- c. tengila

12. cara menjaga kesehatan adalah dengan cara . . .

- a. makan yang banyak
- b. banyak tidur
- c. berolah raga secara teratur

13. kuman membuat kita . . .

- a. bahagia

- b. sehat
- c. sakit

14. salah satu merawat mata agar tetap sehat adalah . . .

- a. membaca sambil tiduran
- b. membaca sambil duduk dengan benar
- c. memakai kacamata

15. Mandi sehari . . .

- a. 1 kali
- b. 2 kali
- c. 3 kali

16. kuku panjang merupakan sumber . . .

- a. makanan
- b. air
- c. penyakit

17. perhatikan bilangan 3 1 2 5 4

urutan bilangan dari yang paling sedikit adalah . . .

- a. 5 4 3 2 1
- b. 4 3 2 1 5
- c. 1 2 3 4 5

18. agar gigi selalu bersih harus selalu . . .

- a. gosok gigi
- b. mandi
- c. makan

19. alat indra untuk meraba adalah . . .

- a. telinga
- b. tangan
- c. hidung

20. perbedaan itu kasih sayang tuhan, maka harus ...

- a. disyukuri
- b. marah marah
- c. bermusuhan

21. ketika meniti balok badan harus . . .



- a. seimbang
- b. miring
- c. rapi

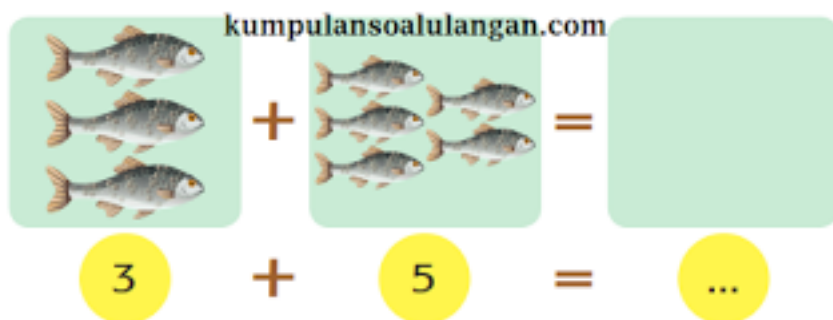
22. ketika kita berberda dengan orang lain, maka kita harus . .

- a. bermusuhan
- b. saling menghargai
- c. marah marah

23. $3 + 4 = \dots$

- a. 8
- b. 7
- c. 6

24. maka jumlah ikan semuanya ada . . .



- a. 7
- b. 8
- c. 9

25. puisi dibawah ini ditujukan untuk . . .

Ibu ...
Kala ku gembira, kau memelukku
Kala ku sedih, kau menghiburku
Kala ku sendiri, kau menemaniku
Kala ku sakit, kau merawatku
Ibu ...
Betapa besar kasih sayangmu
Betapa luas samudera hatimu
Ku hanya ingin engkau tahu
Sungguh aku sayang padamu

- a. puisi untuk ayah
- b. puisi untuk guru
- c. puisi untuk ibu