

Дата \_\_\_\_\_

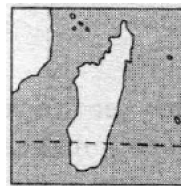
**КОНТРОЛЬНА РОБОТА №2  
З ГЕОГРАФІЇ  
УЧНЯ(УЧЕНИЦІ) 6 КЛАСУ**

---


**I варіант**

**I рівень**

1. Стан тропосфери в певний час у певному місці — це:  
А) погода;                      Б) клімат;                      В) циркуляція атмосфери
2. Великі повітряні вихори зі зниженим тиском у центрі називаються:  
А) мусонами;                      Б) циклонами;                      В) антициклонами.
3. На фрагменті контурної карти зображено острів:  
А Мадагаскар;  
Б Велика Британія;  
В Шрі-Ланка.




4. На схемі річкової системи цифрою 2 позначено:  
А вододіл;  
Б витік;  
В гирло.



5. Найповноводніша у світі річка — це:  
А Волга;  
Б Амазонка;  
В Конго.

6. На ілюстрації зображено типового представника:  
А саван;  
Б степів;  
В арктичних пустель.



**II рівень**

7. Установіть відповідність між частинами Світового океану та вказаними гідрологічними об'єктами.

- |           |                            |
|-----------|----------------------------|
| 1 Моря    | А Гольфстрім, Лабрадорська |
| 2 Затоки  | Б Карибське, Саргасове     |
| 3 Течії   | В Магеланова, Беренгова    |
| 4 Протоки | Г Біскайська, Гудзонова    |
|           | Д Байкал, Вікторія         |

8. Установіть відповідність між назвами природних зон та їхніми характеристиками.
- |                             |   |
|-----------------------------|---|
| 1 Антарктичні пустелі       | А Клімат сухий та жаркий, багато змій                 |
| 2 Напівпустелі та пустелі   | Б Клімат жаркий і вологий, ліси багаторічні           |
| 3 Савани та рідколісся      | В Клімат дуже суворий, тому рослинність відсутня      |
| 4 Вологі екваторіальні ліси | Г Клімат вологий улітку, сухий — узимку, багато трави |



