



**اختر الإجابة الصحيحة بوضع دائرة حول رمز الإجابة الصحيحة:**

1	عد تصاعدياً لإيجاد القيمة الكلية للعمات المعدنية؟ 
A	درهم 25
B	درهم 50
C	درهم 75

2	عد تصاعدياً لإيجاد القيمة الكلية للعمات المعدنية؟ 
A	ريالات 3
B	من الريالات 2
C	ريالات 6

3	إذا كان مع نورة 2 من الريالات ، فكم 50 درهما لديها؟
A	3
B	4

7	C
---	---

ما القيمة الكلية للأوراق النقدية:	4
	
ريال 20	A
ريال 30	B
ريال 40	C

	5
ما الوقت الذي تشير اليه الساعة؟	
10 : 10	A
25 : 10	B
20 : 10	C

استقل الحافلة الى المدرسة؟	6
صباحاً	A
مساءً	B

ظهراً



7 ما هو الوقت الذي تشير اليه الساعة؟



00 : 4

A

00: 5

B

00: 6

C

( السؤال رقم 8 )

في حصاله علىاء العملات المعدنية المبينة أدناه. ما المبلغ الذي لدى علىاء؟

وضح عملك هنا



دِرْهَم

( السؤال رقم 9 )

لدى سهام 5 أوراق نقدية من فئة 10 ريال ، 4 أوراق من فئة 5 ريال ، وورقة واحدة من فئة ريال ،  
ارسم الأوراق النقدية المطلوبة وعد تصاعدياً لإيجاد العدد الكلي للنقود؟

وضح عملك

( السؤال رقم 10 )

يَسْتَيْقِظُ عَلِيٌّ فِي الصَّبَاحِ فِي الْوَقْتِ الْمُبَيَّنِ  
عَلَى السَّاعَةِ.



فِي أَيِّ وَقْتٍ يَسْتَيْقِظُ عَلِيٌّ؟

( السؤال رقم 11 )




تُبَيِّنُ السَّاعَةُ وَقْتُ ذَهَابِ سَعَادَ إِلَى الْمَدْرَسَةِ.  
تَسْتَغْرِقُ سَعَادُ ١٥ دَقِيقَةً لِلْوُضُوءِ إِلَيْهَا.  
فِي أَيِّ وَقْتٍ سَتَصِلُ سَعَادُ إِلَى الْمَدْرَسَةِ؟

-----

( السؤال رقم 12 )

اكتب نفس الوقت على الساعة الرقمية؟



لدى سارة ورقة واحدة من فئة 50 ريال و 3 أوراق من فئة 10 ريال . ما المبلغ الإجمالي لدى سارة ؟

### السؤال الثاني :


عد صاعدا لإيجاد القيمة الاجمالية .



QR-----

### السؤال الثالث :

1 - عبر عن الوقت برسم العقارب التي تشير إلى الوقت أو كتابة الوقت الذي تشير إليه العقارب :



5:45



---- : ----



--- : ---

--- : ---