

Actividad de inicio Con atención observa el video.

<https://youtu.be/rySC3jhlq-k> adición vertical y horizontal .

PROPÓSITO DE APRENDIZAJE : Realizar adiciones de números de cinco cifras

APROPIACIÓN DEL CONOCIMIENTO

23 día lunes ADICIÓN HASTA 99-999 ( escribo en el cuaderno)

Para sumar números de cinco cifras, se suman las que ocupan la misma posición de derecha a izquierda, reagrupando cuando sea necesario. Ubica en los recuadros superiores

DM

UM

C

D

U

+

4	5	3	8	6
2	9	5	8	6

+

2	2	3	8	6
1	9	3	6	6

+

2	9	3	8	6
2	9	3	8	6

+

7	9	3	8	6
1	3	5	6	4

+

3	9	7	8	6
2	4	3	3	6

+

2	2	3	6	6
2	9	7	8	5

24 día martes Resuelve la siguiente situación

Lucía, Diana y Xiomara van a comer hamburguesas. Observa:

Tabla de precios

Combo 1

Hamburguesa de pollo, papas y gaseosa \$6.750

Combo 2

Hamburguesa doble carne, papas y gaseosa \$8.750

Combo 3

Hamburguesa sencilla, papas y gaseosa \$4.750

Escribe en cada caso, el dinero que tienen que pagar entre las tres.


- Compran dos combos 2 y un combo 1.
- Compran un combo de cada uno.
- Compran dos combos 1 y un combo 2.
- Compran dos combos 3 y un combo.

25 día miércoles Escribe con cifras.

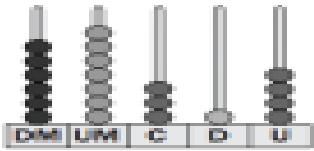
doce mil quinientos setenta y cuatro	▶	<input type="text"/>
sesenta mil setecientos setenta y cinco	▶	<input type="text"/>
ochenta y siete mil quinientos nueve	▶	<input type="text"/>
noventa mil seiscientos veinte	▶	<input type="text"/>

27 día viernes ACTIVIDAD DE CIERRE


Escribe cómo se escribe cómo se lee el número representado en cada ábaco



▶ cincuenta \_\_\_\_\_



▶ \_\_\_\_\_



▶ \_\_\_\_\_

26 día jueves GEOMETRÍA Y ESTADISTICA

Horas del día

Para saber la hora en la que estamos se utiliza el reloj. Los relojes pueden ser de manecillas o digitales. Un día tiene **24 horas**.

### HORAS, MINUTOS Y SEGUNDOS

#### EL RELOJ

Aguja pequeña:  
indica las  
horas

Aguja grande:  
indica los  
minutos

1 hora = 60 minutos

media hora = 30 minutos

un cuarto de hora = 15 minutos

3 cuartos de hora = 45 minutos

Dibuja un reloj teniendo en cuenta la explicación de tu profesor.

Escribe cada hora abreviadamente. Observa el ejemplo.

- Las cuatro en punto de la tarde 4:00 pm

- Las cinco de la madrugada \_\_\_\_\_
- Las seis de la tarde \_\_\_\_\_