

Дата _____

**КОНТРОЛЬНА РОБОТА №2
З ГЕОГРАФІЇ
УЧНЯ(УЧЕНИЦІ) 6 КЛАСУ**

I варіант

I рівень

1. Стан тропосфери в певний час у певному місці — це:

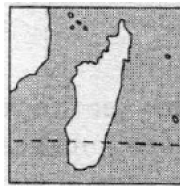
- А) погода; Б) клімат; В) циркуляція атмосфери

2. Великі повітряні вихори зі зниженим тиском у центрі називаються:

- А) мусонами; Б) циклонами; В) антициклонами.


3. На фрагменті контурної карти зображено острів:

- А Мадагаскар;
Б Велика Британія;
В Шрі-Ланка.



4. На схемі річкової системи цифрою 2 позначено:

- А вододіл;
Б витік;
В гирло.




5. Найповноводніша у світі річка — це:

- А Волга;
Б Амазонка;
В Конго.

6. На ілюстрації зображено типового представника:

- А саван;
Б степів;
В арктичних пустель.



II рівень

7. Установіть відповідність між частинами Світового океану та вказаними гідрологічними об'єктами.

- 1 Моря
2 Затоки
3 Течії
4 Протоки

- А Гольфстрім, Лабрадурська
Б Карибське, Саргасове
В Магеланова, Беренгова
Г Біскайська, Гудзонова
Д Байкал, Вікторія

8. Установіть відповідність між назвами природних зон та їхніми характеристиками.

- 1 Антарктичні пустелі
2 Напівпустелі та пустелі
3 Савани та рідколісся
4 Вологі екваторіальні ліси

- А Клімат сухий та жаркий, багато змій
Б Клімат жаркий і вологий, ліси багатоярусні
В Клімат дуже суворий, тому рослинність відсутня
Г Клімат вологий улітку, сухий — узимку, багато трави

Оцінка _____

Дата _____

**КОНТРОЛЬНА РОБОТА №2
З ГЕОГРАФІЇ
УЧНЯ(УЧЕНИЦІ) 6 КЛАСУ**

II варіант


I рівень

1. Великі рухомі об'єми тропосфери, які мають однорідні властивості, – це:
А циклони; Б антициклони; В повітряні маси.
2. Вітер, який улітку дме з моря на суходіл, а взимку із суходолу на море, називається:
А мусоном; Б пасатом; В бризом.

3. На фрагменті контурної карти зображено острів:
А Мадагаскар;
Б Велика Британія;
В Шрі-Ланка.




4. На схемі річкової системи цифрою 1 позначено:
А вододіл;
Б витік;
В гирло.



5. На річках, які мають снігове живлення, повінь настає:
А узимку;
Б навесні;
В улітку.

6. На ілюстрації зображено типового представника:
А степів;
Б арктичних пустель;
В саван.



II рівень

7. Установіть відповідність між частинами Світового океану та вказаними гідрологічними об'єктами.

- | | |
|------------------|-----------------------------|
| 1 Внутрішні моря | А Гібралтарська, Дрейка |
| 2 Окрайні моря | Б Чорне, Азовське |
| 3 Затоки | В Каспійське, Аральське |
| 4 Протоки | Г Баренцове, Японське |
| | Д Мексиканська, Бенгальська |

8. Установіть відповідність між назвами природних зон та їхніми характеристиками.
- | | |
|------------|---|
| 1 Арктичні | А Холодно, надмірно волого, поширена багаторічна пустелі мерзлота |
| 2 Тундра | Б Клімат теплий і сухий, рослинність трав'яниста |

Оцінка _____