



**PEMERINTAH KABUPATEN MUSIRAWAS  
DINAS PENDIDIKAN DAN KEBUDAYAAN  
SEKOLAH DASAR NEGERI PURWODADI  
SUMATIF AKHIR SEMESTER 2  
TAHUN AJARAN 2025**

Mata Pelajaran : SENI RUPA  
 Hari / Tanggal : .....  
 Kelas : IV (Empat)

**A. Pilihlah jawaban yang benar!**



A

B



C



D

- Gambar awal yang kasar dan ringan yang digunakan sebagai kerangka dalam menghasilkan gambar yang lebih bagus disebut....  
 A. lukisan  
 B. karikatur  
 C. sketsa  
 D. ilustrasi
- Komik Gundala Putra Petir ditulis oleh....  
 A. Ganes TH  
 B. Hasmi  
 C. Jan Mintarga  
 D. Raden Ahmad

4. Perhatikan gambar di bawah ini!



Tema komik disamping adalah....

- lingkungan
- agama
- hiburan
- misteri

5. Perhatikan gambar dibawah ini!




Produk di atas terbuat dari... bekas.

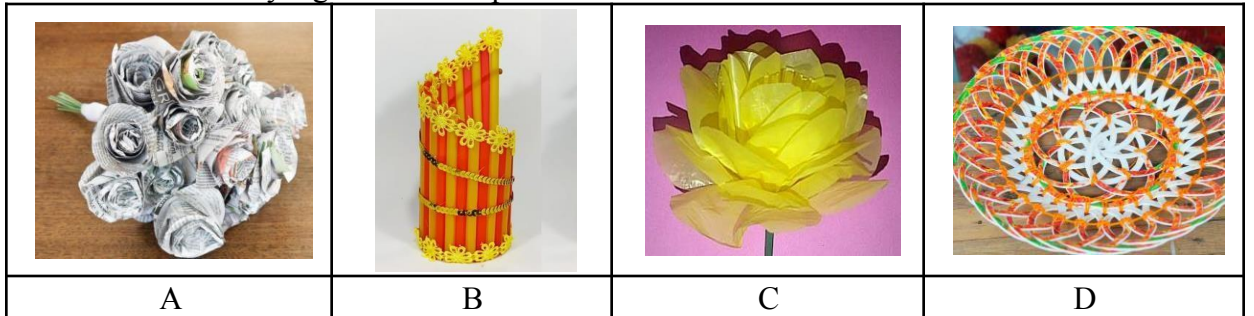
- plastik kresek
- kertas
- tisu
- botol plastik

- Komik yang dibuat dengan menggantung gambar figur dari majalah /koran /buku kemudian ditempel pada kertas polos dan dirangkai membentuk cerita disebut....  
 A. komik konvensional  
 B. komik kolase  
 C. komik mozaik  
 D. komik montase

7. Contoh komik kolase adalah....



8. Benda dibawah ini yang terbuat dari plastik kresek bekas adalah....



gambar di bawah ini!

Celengan disamping terbuat dari....

- A. gelas
- B. toples bekas
- C. botol bekas
- D. kaleng bekas

[koleksisoalsd.blogspot.com](http://koleksisoalsd.blogspot.com)

10. Perhatikan gambar dibawah ini!

Celengan disamping terbuat dari....



[koleksisoalsd.blogspot.com](http://koleksisoalsd.blogspot.com)

11. Bahan yang tepat untuk mewarnai celengan yang terbuat dari botol bekas adalah....

- A. krayon
- B. catair
- C. cat minyak
- D. spidol

12. Perhatikan gambar dibawah ini!



Celengan disamping dihias menggunakan....

- A. tisu
- B. kapas
- C. plastik kresek
- D. kainflanel

[koleksisoalsd.blogspot.com](http://koleksisoalsd.blogspot.com)

ikan gambar dibawah ini!



[koleksisoalstd.blogspot.com](http://koleksisoalstd.blogspot.com)

Celengan dibawah ini yang terbuat dari benda disamping adalah....



A



B

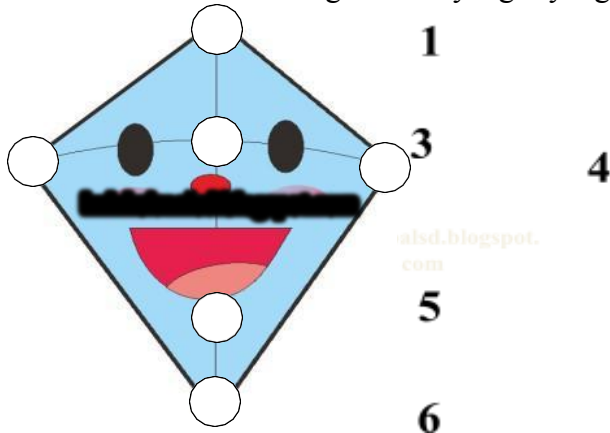


C



D

14. Perhatikan gambar layang-layang dibawah ini!



[alstd.blogspot.com](http://alstd.blogspot.com)

Pemasangan tali goci yang tepat terletak pada nomor....

- A. 1 dan
  - B. 2 dan 4
  - C. 3 dan 5
  - D. 5 dan 6
15. Bahan yang paling cocok untuk membuat layang-layang adalah....
- A. kardus
  - B. kertas minyak
  - C. kertas folio
  - D. kain
16. Bahan yang paling tepat untuk membuat kerangka layang-layang adalah....
- A. kawat
  - B. kayu
  - C. besi
  - D. bambu
17. Layang-layang mengandung unsur sains-teknologi berupa *aerodinamika*. *Aero* artinya....
- A. udara
  - B. gerakan
  - C. bergerak
  - D. melayang
18. Wayang termasuk *shadow puppet*. Arti *shadow* adalah....
- A. bayangan
  - B. tokoh
  - C. imajinasi
  - D. pertunjukan
19. Orang yang memainkan wayang disebut....
- A. sutradara
  - B. panjak
  - C. dalang
  - D. sinden

20. Tokoh wayang kulit dibawah ini bernama....



- A. Werkudara
- B. Arjuna
- C. Gatutkaca
- D. Semar

21. Sebuah layar berwarna putih berbentuk persegi panjang pada pagelaran seni wayang kulit disebut....

- A. sekat
- A. kelir
- B. tabir
- C. spanduk

22. Unsur seni rupa “komposisi” membuat lukisan menjadi....

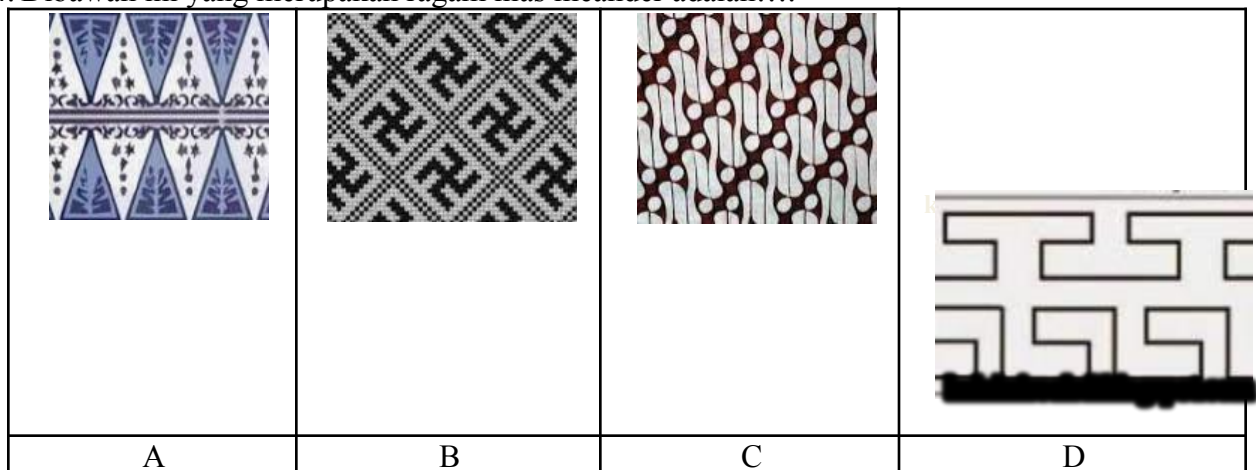
- A. seimbang
- B. cerah
- C. cepat selesai
- D. lebih hidup

23. Ragam hias dibawah ini disebut....



- pilin
- tumpal
- kawung
- ceplokan

24. Dibawah ini yang merupakan ragam hias meander adalah....



25. Perhatikan gambar dibawah ini!



Ragam hias diatas dinamakan....

- A. Geometri
- B. Flora
- C. Fauna
- D. Batik

26. Berikut kerajinan yang terbuat dari plastik ...

- a. Besek
- b. Keramik
- c. Patung
- d. Kerajinan Bunga hias

27. Pot bunga dari botol aqua berbahan dasar ...

- a. Plastik
- b. Kaleng
- c. Kaca
- d. Kertas

28. Kelebihan bahan plastik sebagai bahan kerajinan adalah ...

- a. Ringan
- b. Berat
- c. Mudah dirobek
- d. Susah dibentuk

29. Kaca, keramik, dan botol plastik merupakan bahan – bahan yang memiliki sifat ...

- a. Kuat dan tahan lama
- b. Kuat dan mudah busuk
- c. Lembek dan tahan lama
- d. Ringan dan mudah busuk

30. Hal yang paling utama yang diperlukan setiap pengrajin dalam pembuatan kerajinan adalah ...

- a. Kesungguhan
- b. Keseriusan
- c. Kreativitas
- d. Tanggung jawab

**A. Isilah dengan dengan jawaban yang benar!**  
Perhatikan gambar dibawah ini untuk menjawab soal nomor 1 dan 5!



1. Bak sampah warna hijau(sebelah kiri) untuk tempat sampah jenis....
2. Sampah yang dimasukkan dalam bak warna kuning (sebelah kanan) biasanya dimanfaatkan untuk....
3. Perhatikan gambar dibawah ini!  
Bagian yang ditunjuk dengan anak panah berfungsi untuk....



4. Bahan yang tepat untuk melukis di badan layang-layang adalah....
5. Ekor layang-layang berfungsi untuk....

**B. Isilah titik-titik di bawah ini dengan jawaban yang benar!**

1. Komik merupakan sarana menyampaikan pesan melalui ....
2. Krayon berbentuk seperti ..... namun lebih lunak
3. Celengan dari bahan kaleng bekas merupakan kegiatan ....
4. Semakin besar ukuran layang-layang membuatnya terasa.... saat digerakkan
5. Faktor penentu dapat terbangnya layang-layang adalah .....

