


PENILAIAN AKHIR SEMESTER GANJIL
TAHUN PELAJARAN 2021/2022


Hari, Tanggal :, ... Desember 2021
Mata Pelajaran : IPS
Kelas/Semester : VII/1 (Ganjil)
Waktu : 120 menit

PETUNJUK Pengerjaan

1. Isikan identitas anda dalam format lembar jawaban dengan teliti dan benar
2. Tersedia waktu 90 menit untuk mengerjakan paket soal ini
3. Periksa naskah soal yang anda terima, apabila halamannya tidak lengkap minta ganti pada pengawas ruang ujian
4. Baca dan pahami dengan baik pernyataan atau soal sebelum anda menjawab
5. Periksa pekerjaan anda sebelum diserahkan Kepada pengawas ujian

I. Pilihlah salah satu jawaban yang paling tepat pada pilihan A, B, C dan D di bawah ini!

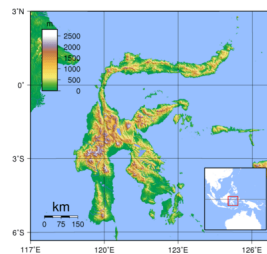
1. Kegiatan berikut yang menunjukkan hubungan antar ruang dengan pemenuhan kebutuhan manusia adalah...
A. Maya berulang tahun pada tanggal 01 Mei
B. Pada tanggal 22 Juni terjadi kenaikan harga BBM di Indonesia
C. Bu Lina berangkat dari Cibitung menuju SMP Strada FX1 untuk mengajar
D. Siswa-siswi SMP Strada FX1 mengadakan karya wisata
2. Bogor membutuhkan ikan, sedangkan Jakarta membutuhkan sayuran. Jika masing-masing memiliki kelebihan (surplus), maka Bogor melakukan interaksi dengan Jakarta melalui aktivitas perdagangan atau jual beli. Kondisi seperti ini disebut....
A. interaksi ruang
B. saling melengkapi
C. kesempatan antara
D. kemudahan transfer
3. Perhatikan gambar berikut ini!


Peta yang dilingkari disebut....
4. Perhatikan gambar berikut!


Peninggalan kerajaan apakah candi tersebut?
A. Kerajaan Kutai
B. Kerajaan Majapahit
C. Kerajaan Singasari
D. Kerajaan Mataram Kuno
5. Pada saat peradaban manusia mulai bertambah laju, mereka kemudian bercocok tanam dan tinggal menetap. Tahap pemenuhan kebutuhan ekonomi pada saat itu dilakukan dengan cara barter. Barter adalah
A. Saling tukar barang yang dibutuhkan
B. Saling mendapatkan untung
C. Membeli barang dengan alat tukar
D. Menjual dan membeli barang dengan alat tukar

6. Teori yang menyebutkan peranan bangsa Indonesia dalam penyebaran agama dan kebudayaan Hindu Budha ke Indonesia adalah teori
- A. Arus balik C. Ksatria
B. Brahmana D. Waisya
7. Indonesia terletak di antara dua samudra, yaitu...
- A. Samudera Hindia dan Samudera Pasifik
B. Samudra Pasifik dan Samudra Atlantik
C. Samudera Hindia dan Samudera Antartika
D. Samudra Atlantik dan Samudra Antartika
8. Indonesia terbagi menjadi tiga waktu, kecuali ...
- A. Waktu Indonesia Barat
B. Waktu Indonesia Timur
C. Waktu Indonesia Utara
D. Waktu Indonesia Tengah
9. Letak astronomis Indonesia, berikut ini yang tepat adalah
- A. 9° LU– 11° LS dan 105° BT– 141° BT
B. 6° LU– 11° LS dan 95° BT– 141° BT
C. 6° LU– 9° LS dan 95° BT– 121° BT
D. 9° LU– 15° LS dan 115° BT– 141° BT
10. Garis khayal yang membujur dari kutub utara sampai kutub selatan, disebut
- A. Garis bujur C. Garis Lintang
B. Garis astronomis D. Garis Khatulistiwa
11. Contoh kenampakan daratan adalah
- A. lautan C. sungai
B. pantai D. rawa
12. Berikut yang termasuk dalam prinsip seorang distributor adalah
- A. membeli barang kualitas bagus
B. memberikan pelayanan yang baik
C. menggunakan bahan baku berkualitas
D. membeli barang sesuai kebutuhan
13. Pasar yang cakupan pembelinya dalam wilayah negara tersebut disebut pasar
- A. setempat C. regional
B. nasional D. internasional
14. Letak Indonesia dipengaruhi oleh letak
- A. geografis C. a dan b salah
B. astronomis D. a dan b benar

15. Perhatikan gambar berikut ini!



Gambar tersebut adalah gambar Pulau ...

- A. Kalimantan
B. Jawa
C. Papua
D. Sulawesi

16. Perhatikan gambar berikut ini!



Urutan nama Pulau sesuai dengan warna berikut

- A. Sulawesi, Kalimantan, Jawa, Sumatera
B. Kalimantan, Jawa, Sumatera, Sulawesi
C. Jawa, Kalimantan, Sulawesi, Sumatera
D. Kalimantan, Jawa, Sulawesi, Sumatera

17. Luas pulau Sumatera adalah ...

- A. 400.000 km² C. 174.600 km²
B. 128.197 km² D. 473.481 km²

18. Seseorang yang sedang mendapatkan masalah besar dapat dengan mudah dipengaruhi oleh orang lain. Proses interaksi ini disebut...

- A. imitasi C. identifikasi
B. sugesti D. empati

19. Menyentuh dan memberi isyarat, merupakan proses apa dalam syarat terjadinya interaksi sosial....

- A. interaksi C. komunikasi
B. kontak D. imitasi

20. Perhatikan pernyataan berikut :

- 1) kontradiksi 3) kerjasama
2) persaingan 4) asimilasi

Dari pernyataan di atas yang termasuk bentuk interaksi sosial disosiatif adalah....

- A. 4 dan 1 C. 1 dan 2
B. 3 dan 2 D. 4 dan 3

21. Lembaga sosial yang terbentuk dalam masyarakat melalui ikatan perkawinan disebut dengan lembaga....

- A. perkawinan C. keluarga
B. ekonomi D. agama

22. Perhatikan gambar berikut ini!



Tarian daerah seperti gambar adalah tari...

- A. Kecak
- B. Saman
- C. Piring
- D. Tor-tor


23. Perhatikan gambar berikut ini!



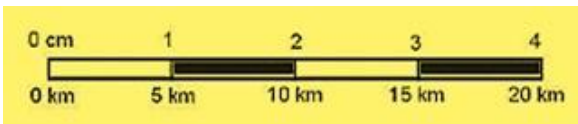
Gambar di atas merupakan rumah adat dari provinsi di Indonesia, yaitu

- A. Papua
- B. Bali
- C. Jawa Barat
- D. Nanggroe Aceh Darussalam

24. Berikut ini adalah binatang tipe Asia, Kecuali...



25. Jika diketahui skala grafis seperti di berikut ini ini:



Berapakah skala angka dari skala grafis di atas

- A. 1:500
- B. 1:5.000
- C. 1:50.000
- D. 1:500.000

26. Ilmu ekonomi berasal dari bahasa.....

- A. Yunani
- B. Indonesia
- C. Sansekerta
- D. Inggris

27. Siapa raja singasari yang pertama?

- A. R Wijaya
- B. Ken Arok
- C. R Patah
- D. Tunggul Ametung

28. Makan termasuk kebutuhan apa?

- A. sekunder
- B. primer
- C. tersier
- D. biasa

29. Macam kebutuhan menurut tingkatannya sebutkan?

- A. primer
- B. jasmani
- C. rohani
- D. sekunder

30. Kebutuhan menurut sifatnya yaitu...

- A. jasmani
- B. primer
- C. sekunder
- D. tersier

31. Banyak kata atau istilah yang diambil dari bahasa asing termasuk dalam mata pelajaran IPS (Ilmu Pengetahuan Sosial), salah satunya adalah kata Ekonomi yang diambil dari Bahasa Yunani yakni Oikonomia. Kata Oikonomia artinya adalah

- A. aturan negara
- B. aturan rumah tangga
- C. kegiatan manusia
- D. aturan masyarakat

32. Siswa mengumpulkan sumbangan untuk dikirimkan kepada saudaranya yang sedang mengalami musibah tsunami di Banten. Tindakan ini merupakan salah satu motif ekonomi yakni

- A. memenuhi kebutuhan
- B. berbuat sosial
- C. mendapatkan penghargaan
- D. memperoleh kekuasaan

33. Dilihat dari permukaan bumi, wilayah Indonesia termasuk kedalam wilayah....

- A. Kepulauan
- B. Benua
- C. Agraris
- D. Maritim

34. Berikut ini peristiwa yang menggambarkan hubungan antar ruang , yakni ...

- A. air mengalir dari pegunungan ke daerah dataran rendah
- B. air hujan akan lebih meresap didaerah yang hijau dibandingkan daerah yang gundul
- C. sumur rakyat disuatu kampung mengalami bau yang tidak sedap sementara di kampung lain disekitarnya terdapat limbah pabrik pengolahan karet
- D. reboisasi hutan akan meningkatkan daya serap air hujan

35. Yang bukan merupakan keuntungan letak geografis Indonesia yang terletak di antara dua benua dan dua samudera adalah.....

- A. Berada di tengah negara maju
- B. Memiliki iklim laut
- C. Memiliki iklim musim
- D. Dilalui oleh jalur yang strategis

36. Contoh dari fungsi proteksi dalam keluarga adalah ...
- Kepala keluarga harus memberikan nafkah ekonomi bagi seluruh anggota keluarga
 - Keluarga memberikan perlindungan fisik dan kejiwaan bagi semua anggota keluarga
 - Keluarga diharapkan bisa meneruskan keturunan untuk generasi berikutnya
 - Keluarga memberikan kontrol dan pengawasan untuk menjaga nama baik keluarga bersangkutan
37. Peranan pranata pendidikan dalam suatu negara adalah ...
- penentuan kualitas SDM
 - memperbaiki tingkat kesehatan
 - penentuan tingkat perekonomian
 - peningkatan status sosial
38. Di suatu RT (Rukun Tetangga) tertera tulisan peringatan "Tamu 24 jam wajib lapor RT". Tujuan dari peringatan ini bagi tamu adalah
- mempersilahkan agar tamu segera pulang
 - menjaga agar jangan terjadi hal-hal yang tidak diinginkan bagi tamu
 - sudah menjadi tradisi
 - norma yang berlaku di seluruh RT se-Indonesia
39. Di era globalisasi sekarang ini, seakan dunia menjadi sempit terutama dalam hal kontak sosial. Kontak sosial yang dimaksud adalah melalui sarana
- perdagangan bebas
 - surat menyurat
 - media cetak
 - internet
40. Sektor agraris meliputi kegiatan pertanian, kehutanan, perikanan dan peternakan. Aktivitas pertanian dalam menyediakan bahan pangan diatur sedemikian rupa agar tidak mengalami gagal panen.
- Uraian tersebut menggambarkan kegiatan agraris sebagai pelaksanaan dari Lembaga ekonomi yang bertujuan untuk
- Mengatur kegiatan produksi, distribusi dan konsumsi
 - Memenuhi kebutuhan ketersediaan pangan
 - Menjaga stabilitas keamanan dalam negeri
 - Mengatur hubungan perdagangan internasional
- II. Jawablah pertanyaan dibawah ini dengan benar!**
41. Sebutkan 4 (empat) komponen dalam pembuatan peta!
42. Jarak antara kota A dan kota B pada peta 4 cm, jika jarak sebenarnya dipermukaan bumi kedua kota tersebut 20 km. Berapakah skala kota tersebut!
43. Dependensi Ratio di kota Pangkalan Buj sebesar 80. artinya
44. Mengapa di Indonesia sering terjadi gempa bumi!
45. Sebutkan 4 (empat) faktor pendorong interaksi sosial!

KUNCI JAWABAN

JAWABAN	1	2	3	4	5	6	7	8	9	10	11	12	13	14	15	16	17	18	19	20
A					√	√	√			√						√				
B		√	√						√		√	√	√					√	√	
C	√							√												√
D				√										√	√		√			

JAWABAN	21	22	23	24	25	26	27	28	29	30	31	32	33	34	35	36	37	38	39	40
A						√		√	√	√		√	√		√		√			
B		√					√				√					√		√		√
C	√			√										√						
D			√		√														√	

ESSAY!!!

- 41.** Komponen peta
- Judul**
Peta harus memiliki judul. Tujuannya, untuk menjelaskan jenis peta. Judul biasanya terletak di atas gambar.
 - Petunjuk Arah**
Petunjuk arah biasanya berada pada bagian ruang kosong di peta. Petunjuk arah berisi simbol arah mata angin. Tujuannya untuk mengetahui arah pada peta, seperti utara, selatan, timur, dan barat.
 - Legenda**
Legenda peta berfungsi untuk menjelaskan mengenai keterangan simbol-simbol yang terdapat pada peta. Legenda biasanya berada di sudut kiri peta.
 - Skala Peta**
Skala merupakan perbandingan jarak antara keadaan pada peta dengan keadaan sebenarnya.
- 42.** jarak pada peta = 4 cm
jarak sebenarnya = 20 km = 2000.000 cm
skala = jarak pada peta / jarak sebenarnya
= 4/2000.000
= 1/500.000
= 1 : 500.000
- 43.** artinya Angka ketergantungan adalah angka yang menunjukkan besar beban tanggungan yang terjadi pada masyarakat pangkalan buj. Beban tanggungan mencakup kelompok yang belum bisa atau sudah tidak bisa produktif yakni yang masih dibawa umur dan yang sudah tua renta. Rumusnya adalah kelompok usia non-produktif/kelompok usia produktif.
- 44.** Secara geografis, Indonesia terletak pada rangkaian cincin api yang membentang sepanjang lempeng pasifik. Menurut BNPB, lempeng ini merupakan lempeng tektonik paling aktif di dunia. Zona ini memberikan kontribusi hampir 90 % dari kejadian gempa bumi.
- 45.**
- Sugesti**
adalah dorongan atau pengaruh yang dapat menggerakkan hati orang dan sebagainya. Pengaruh tersebut menimbulkan emosi spontan yang mengakibatkan rasionalitas seseorang terpengaruh. Oleh karena itu individu cenderung menerima masukan orang lain.
 - Imitasi**
adalah proses belajar seseorang dengan cara meniru dan/atau mengikuti perilaku orang lain. Bukan hanya perilaku, penampilan serta gaya hidup juga dapat diimitasi. Seperti ketika kamu mengimitasi cara berpakaian artis idola kamu.

3. Identifikasi

adalah proses psikologi yang terjadi pada diri seseorang karena secara tidak sadar dia membayangkan dirinya seperti orang lain yang dikaguminya, lalu dia meniru tingkah laku orang yang dikaguminya itu, mirip dengan imitasi, namun, kekaguman tersebut cenderung mendorong individu untuk menjadikan dirinya sama atau identik dengan tokoh tersebut karena pada dasarnya proses identifikasi jauh lebih mendalam dari proses imitasi.

4. Motivasi

adalah dorongan yang timbul pada diri seseorang secara sadar atau tidak sadar untuk melakukan suatu tindakan dengan tujuan tertentu, seperti kamu yang serius belajar dengan motivasi mendapat nilai yang memuaskan.