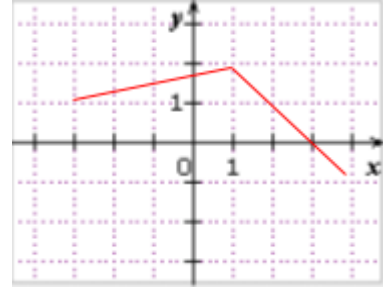
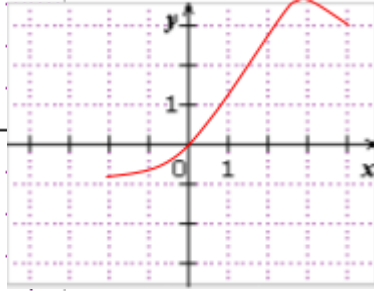
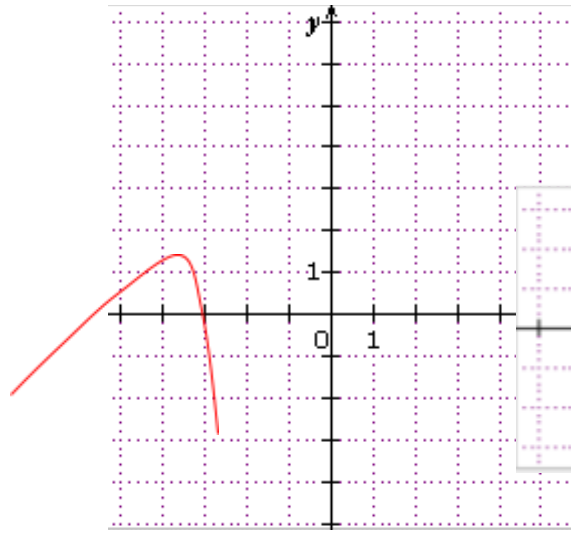


عين مجموعة تعريف كل من الدوال الممثلة كما يلي :



المنحني  
الحل

المنحني 1 يمثل دالة معرفة على المجال  $[-3 ; 4]$ .

المنحني 2 يمثل دالة معرفة على المجال  $[-2 ; 4]$ .

المنحني 1 يمثل دالة معرفة على المجموعة  $[-5 ; 0[ \cup ]0 ; 5]$ .